

# A

## GENEL YETENEK VE GENEL KÜLTÜR TESTİ

Ad. Bak. Ad. Yar. Hkm. ve Sav. Aday. / 2007

1. Aşağıdaki cümlelerin hangisindeki altı çizili sözcük, birlikte verildiği anlama uygun olarak **kullanılmamıştır**?

- A) Gömleğin yakası boynunu sıktığı için düğmesini açmış. (dar gelmek)
- B) Pazar günü balık tutmaya gidecekti. (elde bulundurmak, ele almak)
- C) Bugün erken geleceğini umuyorum. (bir şeyin olmasını beklemek)
- D) Ustasının yanında iyice piştikten sonra dükkân açmış. (bir işi gereği gibi öğrenmek)
- E) Bu ceket üstüne tam oturdu. (uygun gelmek)

2. Aşağıdaki cümlelerin hangisinde bir beklenti söz konusudur?

- A) Bu yazarımız ilk yapıtıyla çok okunanlar arasında yer aldı.
- B) Aradığım kitabı bulabilmek için eski kitapçılarda dolaştığım günleri anımsıyorum.
- C) Sabahdan akşama kadar çalışsam da bu işi yetiştiremem.
- D) Başarılarımı öne çıkarmadım, hatta gizlemeye çalıştım.
- E) Beni tanıyacağını ve yanıma gelip benimle konuşacağını düşünmüştüm.

3. Aşağıdaki dizelerin hangisinde "karşıtlık" anlamı olduğu söylenebilir?

- A) Başına takmışsın altın çelengi  
Turnadan alınan tele dönmüşsün
- B) Eğer sevdiceğim benim olmazsa  
Bakın şu gözümün yaşına benim
- C) Ananın babanın acı sözleri  
Bal oldu gidelim bizim ellere
- D) Kimse bilmez bugün bayram günüdür  
Ellerine kına yak da bize gel
- E) Şimdi öksüz kaldım kırık saz ile  
Ah ettikçe tüter dumanım benim

4. (I) Elbette herkesin anlatabileceği bir hikâyesi ve bunu anlatma özgürlüğü vardır. (II) Eğer bu, sinema yoluyla yapılmak isteniyorsa, sinemanın bilinen zorluklarını ve giderlerini göz önünde bulundurmak gerekir. (III) Ayrıca bu alanda yetenek ve birikim sahibi olmak gerektiği de unutulmamalıdır. (IV) Bunları yeterince düşünmeden film yapma hevesine kapılmak, seyirciyi elden kaçırmaya ve sinemanın bir daha ciddiye alınmamasına yol açar. (V) Ne yazık ki bu, günümüzde çok karşılaşılan bir durumdur.

**Bu parçadaki numaralanmış cümlelerin hangisinde bir tehlikeden söz edilmektedir?**

- A) I.      B) II.      C) III.      D) IV.      E) V.

*Diğer sayfaya geçiniz.*

# A

5. Aşağıdaki cümlelerin hangisinde bir anlatım bozukluğu vardır?

- A) O, iki adımlık süren bu yolda bile yürümeye üşeniyordu.
- B) Gördüklerini hiç kimseye anlatmayacağına söz vermişti.
- C) Limana demirlemiş gemiden yolcular iniyordu.
- D) Doğal güzellikleri yansıtan fotoğraflar çekmeyi yeğlerdi.
- E) Yorgunluğunu ancak bir fincan kahvenin giderdiğini söylerdi.

6. Aşağıdaki cümlelerin hangisinde bir anlatım bozukluğu vardır?

- A) Adaylara, belgelerini saklamaları söylendi.
- B) Doldurulan formlar, ilgili adrelelere gönderildi.
- C) Sınav için yapılacak başvuruların süresi uzatıldı.
- D) Görevli, görev yerine zamanında gelmesi konusunda uyarıldı.
- E) Yanlışlık yapıldığı nedeniyle işlem iptal edildi.

Ad. Bak. Ad. Yar. Hkm. ve Sav. Aday. / 2007

7. Şehir, uçsuz bucaksız bozkırda yavaş yavaş belir-

meye başladı. Sabahın bu ilk saatlerinde, şehire

yaklaşırken alnımı otobüsün camına dayamış

seyrediyorum çevreyi. Yolun sonuna geldikçe,

içimdeki kıpırtılar daha da artıyor.

**Bu parçadaki numaralanmış sözcüklerin hangisinde bir yazım yanlışı vardır?**

- A) I. B) II. C) III. D) IV. E) V.

8. Geçen yıl ailemize büyük (!) bir miras kaldı ... Bun-

lar bir soba, dört boru, iki kanat perde, ayaklı bir gaz

lambası, beş altı tencere, boş bir sandık . Affeder-

siniz, az daha unutuyordum . bir de küçük bir keçe

parçası vardı aralarında .

**Bu parçadaki numaralanmış noktalama işaretlerinden hangisi yanlış kullanılmıştır?**

- A) I. B) II. C) III. D) IV. E) V.

*Diğer sayfaya geçiniz.*

# A

9. Yapıtınızı ilgiyle okudum. (I) Temiz bir dili var. (II) Röportajla roman arası bir yapıt bu. (III) Ama yine de köy üstüne okuduğum romanlar içinde, ele aldığı çevrenin üretim durumunu en doğru anlatan roman. (IV) İlkel üretim yöntemlerinin yerini, makineli üretim alınca bunun gerektireceği ekonomik ve toplumsal değişmelere de değinmeniz yerinde olmuş. (V)

**Bu parçada numaralanmış yerlerden hangisine, "Bu yönden biraz duraksadım." cümlesi getirilebilir?**

- A) I. B) II. C) III. D) IV. E) V.

10. (I) İletişimin ilk olarak en az iki insan arasında olduğu söylenebilir. (II) Ancak bu, iletişimin başlangıçta salt sözlere dayalı olduğu anlamına gelmez. (III) Aslında dil kadar insana yakın, dil kadar insandan ayrılmaz bir anlatım aracı yoktur. (IV) Çünkü insanın konuşan canlı aşamasına ulaşması çok uzun zaman almıştır. (V) Bir başka anlatımla sesin söze dönüşmesi, milyonlarca yılın geçmesini gerektirmiştir.

**Bu parçada numaralanmış cümlelerden hangisi anlatımın akışını bozmaktadır?**

- A) I. B) II. C) III. D) IV. E) V.

## Ad. Bak. Ad. Yar. Hkm. ve Sav. Aday. / 2007

11. Çocukların eğitimine, sanatsal etkinliklere katılmalarına, özetle kendilerini geliştirmelerine destek sağlamanın, ülkenin geleceğine yapılan en büyük yatırım olduğunu biliyoruz. Bu nedenle kurum olarak, çocuklara müzik sevgisi aşılamaya, müziğe yeteneği olan çocukların gelişmesine katkıda bulunmaya çalışıyoruz. Başka kurumların da bizim gibi kendi payına düşen sorumluluğu yerine getirmesi, ---- gerektiğini düşünüyoruz.

**Bu parçada boş bırakılan yere düşüncenin akışına göre aşağıdakilerden hangisi getirilmelidir?**

- A) çaba göstermesi  
B) gözünün yükseklerde olması  
C) dişini sıkması  
D) elini çabuk tutması  
E) elinden geleni ardına koymaması

12. Radyo yapımcısı olarak kültür, edebiyat ve habercilik adına onca programa imza attı. Toplumumuzda tanınmış, başarısı herkesçe onaylanmış bireylerle konuşmalar yapıp onları yayımladı. Ancak çok emek verilen bu programlar kısa sürede unutuluveriyordu. Çünkü o dönemlerde ----. Bu yüzden, radyo stüdyolarında kotardığı söyleşilerin daha program bitmeden unutulmasına gönüllü razı olmadı. O değerli insanların konuşmalarını kaydederek bir emanet gibi sevgiyle, bilinçle özel arşivinde saklayıp korudu bu güne değin.

**Bu parçada boş bırakılan yere düşüncenin akışına göre aşağıdakilerden hangisi getirilmelidir?**

- A) yanlışlarını düzeltecek, eksiklerini gösterecek ustaları olmamıştı  
B) en önemli sözleri bile geri dönüp bir kez daha dinleme olanağı yoktu  
C) sınırlı sayıda program yapıyordu  
D) dinleyiciler, yapılan çalışmaların yazınsal değerini fark edecek kadar dikkatli değillerdi  
E) ele alınan konular programların çekiciliğini yitirmesine yol açıyordu

*Diğer sayfaya geçiniz.*

13. Eleştirmen bir oyunu beğenir ya da beğenmez. Bu, eleştirmenin görüşüdür. Saygıyla karşılanır. Üç eleştirmen, bir oyunu ayrı ayrı açılardan eleştirir. Birinin beğendiğini öteki beğenmeyebilir. Bu da doğaldır, pek çok örneği görülmüştür. Ancak doğal olmayan, eleştirmenin bir sanatçıyı değerlendirirken eleştiri sınırlarının ötesine geçerek, ısrarla, o sanatçının kişiliğini yıpratma kavgasına girmesidir.

**Bu parçadan, eleştirmenlerle ilgili olarak aşağıdaki yargıların hangisi çıkarılabilir?**

- A) Eleştirilerini belli bir dünya görüşüne göre yapmalıdır.
- B) Birbirlerini taklit etmekten kaçınmalıdır.
- C) Bir yapıtı beğenip beğenmediğini özgürce açıklayabilmelidir.
- D) Sanatçıyı insan olarak değil sanatı açısından değerlendirmelidir.
- E) Eleştirilerini kendi ölçütlerine göre biçimlendirmelidir.

14. Onlar, kişilikleri harlı ateşte pişmiş, türlü düşüncelerin örsünde dövülerek biçimlenmiş kişilerdi. Derinlemesine irdelemeyi, usanmadan denemeyi severlerdi. Acılarına, öfkelerine yenik düşmezlerdi. Buldukları her yeri dersliğe dönüştürerek dağarcıklarındaki bilgileri cömertçe ortaya koyarlardı. Karanlığın ışığa, kara kışın yaza dönüşeceğine inanırlardı.

**Bu parçada sözü edilen kişilerle ilgili olarak aşağıdakilerden hangisi söylenemez?**

- A) Amacından kolay vazgeçmeyen
- B) Deneyimli, birikimli olan
- C) Geçmişe bağlı kalan
- D) Öğretmek yararlı olmasını bilen
- E) Karamsarlığa kapılmayan

**Ad. Bak. Ad. Yar. Hkm. ve Sav. Aday. / 2007**

15. Tarih, felsefe, sosyoloji, edebiyat ve sanat gibi konularda öğrencilere -hemen hemen- hiçbir şey öğretilmiyor. Onlara düşünsel ve eleştirel yeteneklerini geliştirmeyen birtakım bilgiler aktarılıyor. Eğitimde, ne gerçekçi ve bilimsel bir yaklaşım ne de bir bütün olarak kucaklayış var kültürü. İnsanlara çağını tanıtır onları bilinçlendirmeyen böylesi bir kültür aktarımı, bir söz yığıdır bence. Bu kitap ise söyleyeceklerini uygarlık tarihinin zemininde ve çağdaş tarihin çerçevesi içinde söylüyor, tek sözcükle çağını tanıtarak... İlk bakışta gençlere sesleniyor gibi görünse de gerçekte, temel kültüre meraklı herkesin öğreneceği şeyler var bu kitapta.

**Bu parçada gençlerin eğitilmesiyle ilgili eleştiriler arasında aşağıdakilerden hangisi yoktur?**

- A) Kişilere kendini ve çevresini tanıma yeteneği kazandırmama
- B) Temel kültürel bilgileri vermeme
- C) Zihinlerini gereksiz bilgilerle doldurma
- D) Toplumsal kimi değerleri deneysel yöntemlere, gerçeklere dayandırmama
- E) Tarihsel gerçekleri günümüzün koşullarına göre değerlendirme

# A

Ad. Bak. Ad. Yar. Hkm. ve Sav. Aday. / 2007

16.

$$\frac{3^{2007} - 3^{2006}}{3^{2008}}$$

işleminin sonucu kaçtır?

- A)  $\frac{1}{3}$  B)  $\frac{1}{9}$  C)  $\frac{2}{9}$  D) 3 E) 9

18.

$$\left(\frac{1}{\sqrt{16}}\right)^x = 32^2$$

olduğuna göre x kaçtır?

- A) -5 B) -3 C) 3 D) 5 E) 10

17.

$$\frac{0,03 \cdot x - 2}{0,05 \cdot x - 4} = \frac{1}{3}$$

olduğuna göre x kaçtır?

- A) 10 B) 20 C) 30 D) 40 E) 50

19.

$$x = K7L3$$

$$y = K3L7$$

dört basamaklı sayılar olduğuna göre, x - y farkı kaçtır?

- A) 206 B) 296 C) 346 D) 396 E) 406

*Diğer sayfaya geçiniz.*

# A

Ad. Bak. Ad. Yar. Hkm. ve Sav. Aday. / 2007

20. 36 sayısının pozitif tam sayı bölenlerinin kaç tanesi 3 ile kalansız olarak bölünür?

- A) 4 B) 5 C) 6 D) 7 E) 8

21. 1 den n ye kadar olan doğal sayıların toplamının, n+1 den 15 e kadar olan doğal sayıların toplamına oranı  $\frac{1}{7}$  olduğuna göre, n kaçtır?

- A) 4 B) 5 C) 6 D) 7 E) 8

22.

$$\begin{aligned} b &= 2a \\ c &= 2b \\ d &= 3c \\ a+b+c+d &= 57 \end{aligned}$$

olduğuna göre a kaçtır?

- A) 3 B) 4 C) 5 D) 6 E) 7

23.

$$a^2 < a$$

$$b < a \cdot b$$

olduğuna göre, b için aşağıdakilerden hangisi doğrudur?

- A)  $b < 0$  B)  $0 < b < 1$  C)  $1 < b < 2$   
D)  $b = 0$  E)  $b = 1$

24. 930 YTL, yaşları 6, 12 ve 13 olan üç kişi arasında yaşlarıyla doğru orantılı olacak şekilde paylaşılıyor.

Bu paylaşmada, en az parayı alan kişi kaç YTL almıştır?

- A) 150 B) 160 C) 170 D) 180 E) 200

*Diğer sayfaya geçiniz.*

# A

25. Bir iş yerinde çalışanların  $\frac{5}{11}$  inin 3 fazlası bayandır.

**Bu iş yerinde çalışan erkeklerin sayısı 69 olduğuna göre, bayan çalışanların sayısı kaçtır?**

- A) 59 B) 63 C) 65 D) 67 E) 69

## Ad. Bak. Ad. Yar. Hkm. ve Sav. Aday. / 2007

27. Eşit adımlarla yürüyen bir oyuncak bebek her seferinde ilk önce ileriye doğru 15 adım, daha sonra da geriye doğru 25 adım yürümektedir.

**Bu bebek, toplam 360 adım atarsa bulunduğu noktadan kaç adım uzakta olur?**

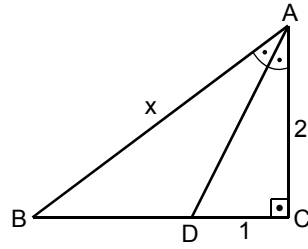
- A) 40 B) 60 C) 70 D) 80 E) 90

26. Evren bir kitabı, her gün bir önceki günden 10 sayfa fazla okuyarak 4 günde bitiriyor.

**Evren ilk gün kitabın  $\frac{1}{6}$  sını okuduğuna göre bu kitap kaç sayfadır?**

- A) 140 B) 150 C) 160 D) 170 E) 180

- 28.



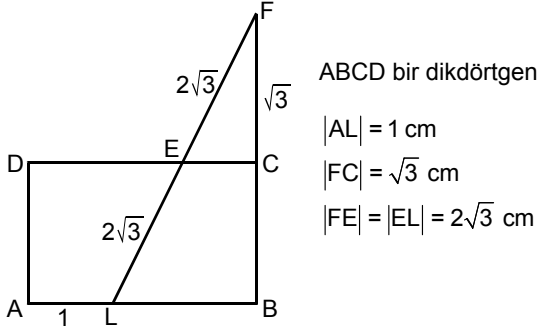
ABC bir üçgen  
 $AC \perp BC$   
 $m(\widehat{BAD}) = m(\widehat{DAC})$   
 $|AC| = 2 \text{ cm}$   
 $|DC| = 1 \text{ cm}$   
 $|AB| = x$

**Yukarıdaki verilere göre x kaç cm dir?**

- A)  $\frac{5}{3}$  B)  $\frac{7}{3}$  C)  $\frac{10}{3}$  D) 5 E) 10

*Diğer sayfaya geçiniz.*

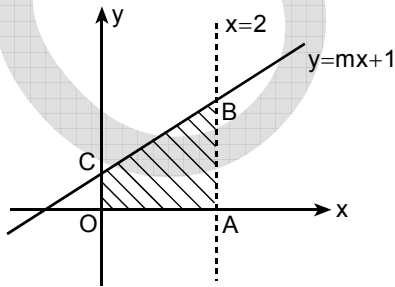
29.



Yukarıdaki verilere göre ABCD dikdörtgeninin alanı kaç  $\text{cm}^2$  dir?

- A)  $6\sqrt{3}$       B)  $7\sqrt{3}$       C)  $8\sqrt{3}$   
 D)  $9\sqrt{3}$       E)  $10\sqrt{3}$

30.



Şekildeki OABC yamuğunun alanı 12 birim kare olduğuna göre,  $m$  kaçtır?

- A) 2      B) 3      C) 4      D) 5      E) 6

31.

Ad. Bak. Ad. Yar. Hkm. ve Sav. Aday. / 2007

- I. Madencilik  
 II. Dokumacılık  
 III. Mimarlık

Yukarıdakilerden hangileriyle ilgili buluntular, Türklerin İslamiyet'i kabul etmelerinden önce, yerleşik hayata geçmiş olduklarının kanıtı olabilir?

- A) Yalnız I      B) Yalnız II      C) Yalnız III  
 D) I ve II      E) I, II ve III

32. Anadolu Selçuklu Devleti'nde Moğol istilası yüzünden düzen bozulunca ikta arazilerinin mülk hâline getirilmesi,

- I. ordunun dağılması,  
 II. topraksız kalan askerlerin huzursuzluk çıkarması,  
 III. devletin toprak üzerinde denetiminin artması

durumlarından hangilerine ortam hazırladığı savunulur?

- A) Yalnız I      B) Yalnız II      C) Yalnız III  
 D) I ve II      E) I, II ve III

Diğer sayfaya geçiniz.



## 33. Osmanlı Döneminde,

- I. İstanbul,
- II. İznik,
- III. Kütahya,
- IV. İzmir

**şehirlerinden hangileri çini üretim merkezi olmuştur?**

- A) I ve III                      B) II ve III                      C) I, II ve III  
D) I, II ve IV                      E) I, III ve IV

## 34.

- I. Yugoslavya
- II. Macaristan
- III. Çekoslovakya

**Birinci Dünya Savaşı'ndan sonra Avusturya, imzaladığı Saint-Germain Antlaşması'yla yukarıdakilerden hangilerinin bağımsızlığını tanımıştır?**

- A) Yalnız I                      B) Yalnız II                      C) Yalnız III  
D) I ve II                      E) I, II ve III

## 35. Kuvayimillîye'nin,

- I. eli silah tutan herkesin katıldığı küçük silahlı gruplar olması,
- II. ihtiyaçlarının halk tarafından karşılanması,
- III. işgallere karşı kurulması

**özelliklerinden hangileri disiplinsiz davranışlara ortam hazırladığı için düzenli ordunun kurulması gerekli olmuştur?**

- A) Yalnız I                      B) Yalnız II                      C) I ve II  
D) II ve III                      E) I, II ve III

## Ad. Bak. Ad. Yar. Hkm. ve Sav. Aday. / 2007

## 36. Sevr Antlaşması'na göre azınlıkların,

- I. kilise, okul gibi kurumları üzerindeki devlet denetiminin tamamen kaldırılması,
- II. Mebuslar Meclisinde yeterince temsil edilebilmeleri için yeni bir seçim yasaının hazırlanması,
- III. savaşlar ya da başka nedenlerle yerlerinden ayrılmış olanlarının geri dönebilmesi

**hükümlerinden hangilerinin Osmanlı Devleti'nin parçalanmasında etkili olduğu savunulabilir?**

- A) Yalnız I                      B) Yalnız II                      C) Yalnız III  
D) I ve II                      E) I, II ve III

## 37. Sivas Kongresi'nin,

- I. İstanbul Hükümetinin istememesine rağmen toplanması,
- II. başkanlığına görev ve memuriyetinden azledilen Mustafa Kemal'in seçilmesi,
- III. toplanmasının Amasya Genelgesi'nde öngörülmesi

**özelliklerinden hangileri, çalışmaların yürütülmesinde kararlı olunduğunun göstergesidir?**

- A) Yalnız I                      B) Yalnız II                      C) Yalnız III  
D) I ve II                      E) I, II ve III

*Diğer sayfaya geçiniz.*

# A

38. Mustafa Kemal 24 Nisan 1920 tarihinde TBMM'ye verdiği önergede "Meclisin Üstünlüğü" maddesine yer vermiştir.

**Bu önergeyle,**

- I. milletvekili sayısının belirlenmesi,
- II. Meclisin ülke yönetimini üstlenmesi,
- III. ülkenin kurtuluşunun sağlanması ve korunması

**durumlarından hangilerini gerçekleştirmeyi amaçladığı savunulabilir?**

- A) Yalnız I      B) Yalnız II      C) Yalnız III  
D) I ve II      E) II ve III

- 39.

- I. Tesanüd
- II. İstiklal
- III. Felah-ı Vatan

**Yukarıdaki gruplardan hangileri, ilk TBMM'de oluşmuştur?**

- A) Yalnız I      B) Yalnız II      C) Yalnız III  
D) I ve II      E) I, II ve III

**Ad. Bak. Ad. Yar. Hkm. ve Sav. Aday. / 2007**

40. İtalya'nın, Mondros Ateşkes Anlaşması'yla Anadolu'da işgal ettiği bölgelerden tamamen çekilmesinde aşağıdakilerden hangisinin etkili olduğu savunulamaz?

- A) TBMM'nin Londra Konferansı'na katılmasını desteklemesi
- B) Gizli anlaşmalarda İtalya'nın payına düşen yerlerin Paris Konferansı'nda Yunanistan'a verilmesi
- C) İkinci İnönü Savaşı'nın kazanılması
- D) Sovyet Rusya ve TBMM yakınlaşması
- E) Birinci İnönü Savaşı'nın kazanılması

41. Aşağıdakilerden hangisi Kurtuluş Savaşı Döneminde imzalanan Gümrü Antlaşması'nın özelliklerinden biri değildir?

- A) TBMM'nin ilk uluslararası siyasi zaferi olması
- B) Kurtuluş Savaşı'nda Güney Cephesi'nin açılmasına neden olması
- C) Kurtuluş Savaşı'nda Doğu Cephesi'nin kapatılmasını sağlaması
- D) Kars ve dolaylarının geri alınması
- E) Sevr Antlaşması'nın Ermenilere tanıdığı hakları geçersiz kılması

*Diğer sayfaya geçiniz.*

# A

42.

- I. Tekâlif-i Milliye Emirlerinin (Ulusal Yükümlülükler) çıkarılması
- II. Londra Konferansı'nın toplanması
- III. Moskova Antlaşmasının yapılması

**Yukarıdaki gelişmelerden hangileri, Eskişehir-Kütahya Savaşlarından sonra ortaya çıkmıştır?**

- A) Yalnız I      B) Yalnız II      C) Yalnız III  
D) I ve III      E) I, II ve III

43.

- I. Batı Trakya'nın Yunanistan'a bırakılması
- II. Savaş tazminatının ödenme biçimi
- III. Doğu Trakya'nın boşaltılması

**Lozan Konferansı'nda yukarıdaki konulardan hangileriyle ilgili olarak karar verilmiştir?**

- A) Yalnız I      B) Yalnız II      C) Yalnız III  
D) I ve II      E) II ve III

44.

- I. Millet mektepleri
- II. Azınlık okulları
- III. Medrese

**Yukarıdaki öğretim kurumlarından hangileri farklı programlarda öğretim yapılmasını önlemek amacıyla kapatılmıştır?**

- A) Yalnız I      B) Yalnız II      C) Yalnız III  
D) I ve II      E) II ve III

**Ad. Bak. Ad. Yar. Hkm. ve Sav. Aday. / 2007**

45. Yeni Türk harflerinin kabulü aşağıdakilerin hangisinden sonra gerçekleştirilmiştir?

- A) Miladi takvimin kabulü  
B) Soyadı Kanunu'nun kabulü  
C) Kadınlara seçme ve seçilme hakkının verilmesi  
D) Türk Tarih Kurumunun kurulması  
E) Türk Dil Kurumunun kurulması

46. "Ulusal egemenlik, demokrasinin vazgeçilmez temel öğelerinden biridir."

**Aşağıdakilerden hangisinin bu ilkeye uygun bir uygulama olduğu savunulamaz?**

- A) Seçme ve seçilme hakkının tüm vatandaşlara ait olması  
B) Meclis yetkilerinin hükümetin üstünde olması  
C) Devletin, resmen bir dinin yanında olması  
D) Milletvekillerinin belli bir süre için seçilmesi  
E) Milletvekillerini halkın doğrudan seçmesi

*Diğer sayfaya geçiniz.*

# A

47. Aşağıdaki ilkelerden hangisi, diğerlerini korumakla yetinmeyip, aklın, bilimin ve ileri teknolojinin yol göstericiliğine dayalı gerekli atılımlarla çağdaşlaşmaya yönelmeyi gerektirir?

- A) Milliyetçilik  
B) İnkılapçılık  
C) Laiklik  
D) Cumhuriyetçilik  
E) Devletçilik

48.

- I. Türkiye-Suriye sınırının kesinleşmesi  
II. Fransız şirketince işletilen Adana-Mersin demiryollarının satın alınması  
III. Yabancı ticaret kuruluşlarına Türk yasalarına uyma zorunluluğu getirilmesi

Yukarıdaki gelişmelerden hangileri Atatürk Döneminde gerçekleştirilmiştir?

- A) Yalnız I  
B) Yalnız II  
C) Yalnız III  
D) I ve II  
E) II ve III

Ad. Bak. Ad. Yar. Hkm. ve Sav. Aday. / 2007

49. Aşağıdakilerden hangisi, Türkiye'nin engebeli bir ülke olmasının sonucudur?

- A) Batısıyla doğusu arasında yerel saat farkının olması  
B) Gerçek alanıyla iz düşüm alanı arasında farkın fazla olması  
C) Tarım ürünlerinin çeşitli olması  
D) Kuzey sektörlü rüzgârların sıcaklığı düşürmesi  
E) Mevsimler arasındaki sıcaklık farkının belirgin olarak yaşanması

50. İstanbul, İzmir ve Ankara'da nüfusun ve nüfus yoğunluğunun fazla olmasında aşağıdakilerden hangisinin etkisi en azdır?

- A) Ormancılık  
B) Ticaret  
C) Eğitim  
D) Turizm  
E) Endüstri

51. Doğu Karadeniz Bölümü'nde kıyı kesimlerden iç kesimlere gidildikçe mısırın yerini buğdayın almasında aşağıdakilerden hangisinin etkisi daha fazladır?

- A) Bulutlu gün sayısı  
B) Yağış biçimi  
C) Yağışın aylara dağılışı  
D) Yıllık yağış tutarı  
E) Karla örtülü gün sayısı

Diğer sayfaya geçiniz.

# A

52. 1982 Anayasası'na göre, Uyuşmazlık Mahkemesi Başkanlığını aşağıdakilerden hangisine mensup bir üye yapar?

- A) Danıştay  
B) Yargıtay  
C) Askerî Yargıtay  
D) Yüksek Seçim Kurulu  
E) Anayasa Mahkemesi

53. Aşağıdakilerden hangisi 1982 Anayasası'nın Başlangıç Kısmından çıkarılabilecek ilkelerden biri değildir?

- A) Sosyal adalet  
B) Hürriyetçi demokrasi  
C) Güçler birliği  
D) Atatürk milliyetçiliği  
E) Çağdaş medeniyet düzeyine ulaşma azmi

Ad. Bak. Ad. Yar. Hkm. ve Sav. Aday. / 2007

54. Seçimlerin yargı organlarının genel yönetim ve denetimi altında yapılması ilkesinin Anayasa metninde ilk kez yer almasıyla ilgili aşağıdaki ifadelerden hangisi doğrudur?

- A) 1961 Anayasası'nda yer almıştır.  
B) 1924 Anayasası'nın ilk metninde yer almıştır.  
C) 1924 Anayasası'nda 1950 yılında yapılan bir Anayasa değişikliğiyle Anayasa metnine eklenmiştir.  
D) 1924 Anayasası'nda 1946 yılında yapılan bir Anayasa değişikliğiyle Anayasa metnine eklenmiştir.  
E) 1982 Anayasası'nda yer almıştır.

55. Türkiye ekonomisinde, 12 aylık ihracat ilk kez ne zaman 100 milyar doları geçmiştir?

- A) Ekim 2007  
B) Eylül 2007  
C) Ocak 2007  
D) Eylül 2006  
E) Haziran 2006

*Diğer sayfaya geçiniz.*

# A

56. 8 Eylül-4 Kasım 2007 tarihleri arasında gerçekleştirilen 10. Uluslararası İstanbul Bienali'nin ana teması aşağıdakilerden hangisidir?

- A) Barış B) Sevgi C) Özgürlük  
D) İyimserlik E) Hoşgörü

57. 2007 yılının Eylül ayında hayatını kaybeden dünyaca ünlü İtalyan tenor kimdir?

- A) Enrico Caruso B) Mario Lanza  
C) Placido Domingo D) Jose Carreras  
E) Luciano Pavarotti

58. 21. yüzyılın en önemli uluslararası sorunlarından birisi su sorunudur. Bu sorun kapsamında sınır aşan sular konusu gündeme gelmiştir. Dünyada 214 sınır aşan büyük akarsu vardır.

**En çok sayıda sınır aşan büyük akarsuyun bulunduğu kıta aşağıdakilerden hangisidir?**

- A) Amerika B) Afrika C) Avrupa  
D) Asya E) Okyanusya

Ad. Bak. Ad. Yar. Hkm. ve Sav. Aday. / 2007  
59. Hâlen hangi uluslararası örgütün genel sekreteri bir Türk vatandaşdır?

- A) Kuzey Atlantik İşbirliği Örgütü (NATO)  
B) Karadeniz Ekonomik İşbirliği Örgütü (BSEC)  
C) İslam Konferansı Örgütü (OIC)  
D) Ekonomik İşbirliği Örgütü (ECO)  
E) Avrupa Güvenlik ve İşbirliği Örgütü (OSCE)

60. Aşağıda verilen ülke ve bu ülkedeki borsa endeksi ikililerinden hangisi yanlıştır?

- A) İngiltere – Dow Jones  
B) Almanya – Dax  
C) Japonya – Nikkei  
D) Brezilya – Bovespa  
E) Türkiye – İMKB 100

**GENEL YETENEK VE GENEL KÜLTÜR  
TESTİ BİTTİ.**

**ALAN BİLGİSİ TESTİNE GEÇİNİZ.**