

A

POLİS AKADEMİSİ POLİS MESLEK YÜKSEKOKULLARI ÖĞRENCİ ADAYLIĞI SINAVI-2

1 Kasım 2009

ADI :
SOYADI :
T.C. KİMLİK NUMARASI :
SALON NUMARASI :

GENEL AÇIKLAMA

1. Bu test Genel Yetenek ve Genel Kültür bölümlerinden oluşmaktadır. Bu test için verilen toplam cevaplama süresi **120 dakikadır (2 saat)**.
Bu bölümlerin başladıkları sayfalar şöyledir:

Genel Yetenek	1
Genel Kültür	19
2. Bu sınavda A ve B olmak üzere iki tür soru kitapçığı vardır.
3. Bu soru kitapçığının türü **A**'dır. Bunu cevap kâğıdınız-
daki ilgili alana kodlayınız.
**Bu kodlamayı cevap kâğıdınıza yapmadığınız ve-
ya yanlış yaptığınız takdirde, sınavınızın değerlendirilmesi mümkün değildir.**
4. Cevaplamaya istediğiniz sorudan başlayabilirsiniz.
5. Test kitapçığındaki her sorunun yalnızca bir doğru cevabı vardır. Bir soru için birden çok cevap yeri işaretlenmişse o soru yanlış cevaplanmış sayılacaktır.
6. Değiştirmek istediğiniz bir cevabı, yumuşak bir silgiyle, cevap kâğıdını örselemeden, temizce siliniz ve yeni cevabınızı işaretlemeyi unutmayınız.
7. Cevap kâğıdınızı buruşturmayınız, katlamayınız ve üzerine gereksiz hiçbir işaret koymayınız.
8. **Test puanlanırken her bölümdeki doğru cevaplarınızın sayısından yanlış cevaplarınızın sayısının dörtte biri düşülecek ve kalan sayı o testle ilgili ham puanınız olacaktır. Bu nedenle bir soru hakkında hiçbir fikriniz yoksa o soruyu boş bırakınız. Ancak, soruda verilen seçeneklerden birkaçını eleyebiliyorsanız kalanlar arasından doğru cevabı kestirmeniz yararınıza olabilir.**
9. Sınavda uyulacak diğer kurallar bu kitapçığın arka kapağında belirtilmiştir.

Bu testlerin her hakkı saklıdır. Hangi amaçla olursa olsun, testlerin tamamının veya bir kısmının Merkezimizin yazılı izni olmadan kopya edilmesi, fotoğrafının çekilmesi, herhangi bir yolla çoğaltılması, yayımlanması ya da kullanılması yasaktır. Bu yasağa uymayanlar gerekli cezai sorumluluğu ve testlerin hazırlanmasındaki mali külfeti peşinen kabullenmiş sayılır.

A

GENEL YETENEK

2009 - PMYO - 2

1. Kitap fuarları ---- kitap alışverişinin yapıldığı yerler ----, aynı zamanda ülkelerin ---- tanıtım, birbirleriyle ilişkilerini sağlayan ---- noktalarıdır.

Bu cümledeki boş bırakılan yerlere aşağıdakilerden hangisi getirilmelidir?

- A) sadece – değil – kültürlerini – buluşma
B) her zaman – gibi – gelişmişliklerini – birleşme
C) aslında – sanılan – özelliklerini – uygun
D) belirli – olarak – geçmişini – önemli
E) öncelikle – olduğundan – sanatçıları – belirlenmiş

2. O, bir çırpıda okunacak kadar kısa ama derinliği olan, okurda hiç bitmeyecekmiş gibi bir his uyandıran öyküler yazıyor. Anlatılanlar öylesine canlı ki okur, ----, böylece öykü kişileriyle özdeşleşiyor.

Yukarıda boş bırakılan yere düşüncenin akışına göre aşağıdakilerden hangisi getirilmelidir?

- A) yorum yapamıyor
B) yazmaya özeniyor
C) kendini öykünün içinde buluyor
D) başka öyküleri düşünüyor
E) bunların gerçekliğinden kuşku duyuyor

3. Aşağıdaki cümlelerin hangisinde altı çizili sözcükler, soyut bir kavramı somutlaştırmaktadır?

- A) Çiçek işlemeli bir lambaydı soğuk kış gecelerinde bizi aydınlatan.
B) Güneş rengi bir yığın yaprak, merdivenin alt basamaklarında duruyordu karmakarışık.
C) Mavinin tonlarının kullanıldığı resimde, çok az yer verilmişti laciverde.
D) Tıkamıştı yolları, bütün gece yağan kar.
E) Yosun tutmuş bir yalnızlık okunuyordu adamın gözlerinde.

4. Yazar, ele aldığı olayın hamurunu, yaratıcılığın teknesinde iyice yoğurmazsa o olay öykü olmaz. Çünkü bir olay ne kadar gerçek ne kadar çarpıcı olursa olsun, yazarının yaratma gücü aracılığıyla yepyeni bir anlatımla, yepyeni bir gerçekle ortaya çıkmalıdır.

Bu parçada geçen "hamurunu yaratıcılığın teknesinde yoğurmak" sözüyle anlatılmak istenen aşağıdakilerden hangisidir?

- A) Anlatımını güçlendirmek
B) Yeniden biçimlendirmek
C) Gerçekliği zayıflatmak
D) İnanırcılığını engelleyen etkenlerden kaçınmak
E) Yaşadıklarından örnekler vermek

Diğer sayfaya geçiniz.

5. Bu yapıtta yazar, yurdumuzdaki tarihî ve modern görünümlü saat kulelerini anlatıyor. Kulelerin eşsiz mimari özelliklerini açıklıyor. Bunların kültürel değerlerini hatırlatıyor. Bu olağanüstü yapıların, birkaçı dışındada, acınacak durumda olduğuna da dikkat çekiyor.

I II
III

IV

V

Bu parçadaki altı çizili sözlerden hangisi niteleme amacıyla kullanılmamıştır?

- A) I. B) II. C) III. D) IV. E) V.

6. (I) Meyvelerin çabuk bozulması, insanları, onları saklamak için farklı yöntemler bulmaya yöneltti. (II) Soğutma sistemleri olmadığından insanlar meyveleri kuruttular. (III) Bunları tatlılarda, yemeklerde kullandılar ya da çerez olarak tükettiler. (IV) Kimilerini kaynatarak reçeller, marmelatlar yaptılar. (V) Ekşi olanların suyunu yemeklerde kullandılar, kimilerinden de meyve suyu yaptılar.

Bu parçadaki numaralanmış cümlelerin hangilerinde neden-sonuç ilişkisi vardır?

- A) I. ve II. B) II. ve III. C) II. ve IV.
D) III. ve V. E) IV. ve V.

7. **Aşağıdaki cümlelerin hangisinde "tahmin" söz konusudur?**

- A) Buradaki mağaraların, bir nehrin, travertenleri aşındırması sonucunda oluştuğu düşünülüyor.
B) Nehrin yüksek debisi, bu bölgede araştırma yapmayı son derece tehlikeli hâle getiriyor.
C) Anadolu'daki büyük düdenlerden birisi olan bu düdene boşalan su miktarı mevsimine göre değişiyor.
D) Çöküntünün bir tarafından yeryüzüne çıkan nehir, yüz metre sonra başka bir düdene batıyor, üç kilometre sonra Düdenbaşı denilen noktadan tekrar çıkıyor.
E) Bilim adamları Türkiye'nin bilinen en büyük yer altı su sisteminin bu olduğunu vurguluyor.

8. (I) Kuruluşumuz, baş döndürücü bir hızla gelişmesini sürdürüyor. (II) 1950'li yıllarda yola çıkan kuruluşumuz, bugün ülkenin her bölgesinde şubeleri bulunan dev bir işletme durumunda. (III) Önümüzdeki yıllarda, yeni katılımlarla kuruluşumuzun yapısında köklü değişimler gerçekleşecek. (IV) Dolayısıyla etkinlik alanlarımız da değişip artacak. (V) Bu nedenle yeni işletme planımızı hazırlayacak kişilerin söz konusu gelişim ve değişimleri göz önünde bulundurmaları gerekiyor.

Bu parçadaki numaralanmış cümlelerin hangisinde "uyarı" söz konusudur?

- A) I. B) II. C) III. D) IV. E) V.

9. (I) Çeşitli üniversitelerin ve alanın birçok uzmanının katılımıyla ortaya çıkmış bir yapıt bu. (II) Eğitimciler ve anne-babalara, özel eğitime gereksinimi olan çocuklara nasıl destek olacakları konusunda yardımcı olmak için hazırlanmış. (III) Bu yönüyle kitabın, konuyla ilgili gerekli bilgileri içeren bir rehber olduğu söylenebilir. (IV) Kitabın ilk bölümünde, konuya ilişkin genel bilgiler verilmiş. (V) İkinci bölümde ise ileri derecede yetersizliği olan çocuklarla yetenekli ve üstün zekâlı çocuklar ve onların özellikleri anlatılıyor.

Bu parçadaki numaralanmış cümlelerin hangisinde hem amaç hem de içerikten söz edilmektedir?

- A) I. B) II. C) III. D) IV. E) V.

10. (I) Bu aylarda Dünya'nın kuzeyinde en uzun günler yaşanıyor. (II) 1 Mayıs'ta başlayan aydınlık, yerini 11 Ağustos'ta karanlığa bırakıyor. (III) Bu uzak ve soğuk diyarlarda güneş hiç batmıyor. (IV) İnsan ne yapacağını şaşırıyor. (V) Ne zaman sabah ne zaman akşam olduğunu anlamakta zorlanıyor. (VI) Eğer ilginç bir tatil ve unutamayacağınız bir deneyim yaşamak istiyorsanız hemen buralara gelin.

Bu parçadaki numaralanmış cümlelerin hangisinde "öneri" söz konusudur?

- A) II. B) III. C) IV. D) V. E) VI.

11. (I) Yazar, sıralama tekniğini kullanarak peş peşe anlatıyor İstanbul'un semtlerini. (II) İstanbul'un sokaklarının en sıradan hâllerini ortaya koymak için bu yola başvuruyor. (III) Kentin "kalabalık, gürültülü, sıkışık" hâllerini anlatmaya uygun bir yazı tekniği geliştiriyor. (IV) Tüm semtleri, sokakları, insanları, meydanları aynı teknikle anlatıyor. (V) Baştan sona sıralama tekniği kullandığı için anlatım, etkisini yitiriyor; her semt, benzer özellikleriyle ortaya konuyor.

Bu parçadaki numaralanmış cümlelerin hangisinde eleştirilen bir durum ve onun sonucu belirtilmektedir?

- A) I. B) II. C) III. D) IV. E) V.

12. (I) Anadolu'nun birçok yöresinde "göz" sözcüğü su kaynağı anlamında kullanılır. (II) Kırkgözler de onlarca noktadan çıkan bir su kaynağı olduğundan bu adı almış. (III) Bu alan, yüzlerce kuş türüne, binlerce tür bitkiye ev sahipliği yapıyor. (IV) Eşsiz bir doğal güzele sahip olan bu kaynaktan birçok belde ve köyün içme suyu karşılanıyor. (V) Ayrıca binlerce dönüm tarım alanı sulanıyor ve elektrik üretiliyor.

Bu parçadaki numaralanmış cümlelerle ilgili olarak aşağıda verilenlerden hangisi yanlıştır?

- A) I. cümlede, bir açıklama yapılmıştır.
B) II. cümlede, bir adlandırmayla ilgili açıklama yapılmıştır.
C) III. cümlede, neden belirtilmiştir.
D) IV. cümlede, kişisel görüşe yer verilmiştir.
E) V. cümlede, önceki cümlede söylenenlere ek bilgi verilmiştir.

13. (I) Sinop'un şirin ilçelerinden biri olan Erfelek'e bir saat sonra geliyoruz. (II) Şimdi küçüklü büyüklü yirmi sekiz şelaleden oluşan Tatlıca Çağlayanı'nda dinleniyoruz. (III) Ayancık ilçesinin sınırındaki Akgöl'ü ve yakınındaki İnatlı Mağarası'nı da dolaşıyoruz. (IV) Mağara, deniz yüzeyinden 1070 m yükseklikte. (V) İlkokuldan beri her coğrafya dersinde adı geçen İnce Burun'u görmeden dönmeyeceğiz. (VI) Burun'daki Salar köyünde yer alan kaya mezarları görülmeğe değer.

Bu parçadaki numaralanmış cümlelerle ilgili olarak aşağıda verilenlerden hangisi yanlıştır?

- A) I. cümlede, zamanda anlam kayması vardır.
B) II. cümlede, söz konusu yerin kimi özellikleri belirtilmiştir.
C) IV. cümlede, sayısal veriden yararlanılmıştır.
D) V. cümlede, kesinlik söz konusudur.
E) VI. cümlede, bir zorunluluktan söz edilmiştir.

14. Onun şiirlerine , o güne kadar her yerde rastlamak
I
mümkündü : ders kitaplarında, antolojilerde, takvim
II
yapraklarında ... Bundan böyle onun şiirleri, tüm
III
şiirlerini derlediği tek şiir kitabı olan ; bu kitapta yer
IV
alacak .
V

Bu parçadaki numaralanmış noktalama işaretlerinden hangisi yanlış kullanılmıştır?

- A) I. B) II. C) III. D) IV. E) V.

15. Sesler (I) sözcükler ve cümleler bir bütün içinde, birbirleriyle ilişkileri sonucunda anlam kazanır. Seslerin değerlerini (II) sözcüklerin anlamlarını (III) cümlelerin metne ya da anlatıma katkılarını anlayabilmek için bu birimlerin genel olarak dildeki konumlarını (IV) birlikte verdikleri kavramlarla (V) ilişkilerini de bilmek gerekir.

Bu parçadaki numaralanmış yerlerden hangisine herhangi bir noktalama işareti koymaya gerek yoktur?

- A) I. B) II. C) III. D) IV. E) V.

16. Aşağıdaki cümlelerin hangisinde bir yazım yanlışı vardır?

- A) Yönetmenin bundan önceki filmini de beğeniyle izlemiştım.
B) Yaptığı işlerde öyle başarılıydıki çevresindeki herkes onunla çalışmak istiyordu.
C) Oyunu ilginç kılan yönlerden biri de oyunda son otuz yılın yaşanmış olaylarından alıntılar yapılmasıydı.
D) Toplantının gündemini, gerçekten de üzerinde durulmaya değer bir konu oluşturuyordu.
E) Biliyorum ki bundan sonraki çalışmalarında benim eleştirilerimi de göz önüne alacak.

17. Aşağıdaki cümlelerin hangisinde aynı anlama gelen sözlerin bir arada kullanılmasından kaynaklanan bir anlatım bozukluğu vardır?

- A) Seçilen örnekler tasarlanmış değil, yaşanmış olaylardan alınmıştır.
- B) Güç okunan bu tür kitapların, asık suratlı bir yanı vardır.
- C) Açıklamalar ve kurallar somut örneklere dayandırılmıştır.
- D) Güzel konuşma, bir kabiliyet ve yetenek işidir.
- E) Sözü canlı ve çekici kılmanın da yolları vardır.

18. Dağları I kapsayan ağaçların II arasındaki orman gülleri mayıs III ayında çiçek IV açarak etrafı V renklendiriyor.

Bu cümledeki numaralanmış sözcüklerden hangisi yanlış kullanılmıştır?

- A) I. B) II. C) III. D) IV. E) V.

19. Bu projeyi I kabul etmesinde II kişisel öz güveni III rol IV oynamıştı. V

Bu cümledeki anlatım bozukluğunu gidermek için numaralanmış sözlerden hangisinin atılması gerekir?

- A) I. B) II. C) III. D) IV. E) V.

20. Aşağıdaki cümlelerin hangisinde bir anlatım bozukluğu vardır?

- A) Toplantıda, çalışanların da görüşlerini bildirmelerini bekliyorum.
- B) Bu kitabı çocukların da okumasını istiyorum.
- C) Çoğunuzu, daha önceki toplantılarımızdan tanıyorum.
- D) Bu başarınızdan dolayı hepimizi kutluyorum.
- E) Sizlerin de şarkıya eşlik etmesini rica ediyorum.

21. (I) Elimizde, binanın eski dönemlerdeki hâliyle ilgili bilgi ve belge bulunmadığından onu müzeye dönüştürürken günümüzden eskiye doğru adım adım ilerlemenin doğru olacağını düşündük. (II) Yerli halka ulaşım ortak bir şehir kimliği yaratmanız gerekir, yoksa kendi kendinize müze kurar, eserlerinize tek başınıza bakarsınız. (III) Çalışmalara, pek çok kişinin, şehrin geleneklerini anlattığı bir belgeseli kullanarak başladık. (IV) Müzeciliğin bir sergileme işi olduğunu unutmadan, anlatılanlara uygun olarak, taş ve bakır ustalarının bal mumundan heykellerini yaptık. (V) Kendi müzelerine katkıda bulunmaya çağırdığımız şehir halkından, eski dibekler, mutfak malzemeleri, altın ve gümüş kaplamalı aletler topladık.

Bu parçadaki numaralanmış cümlelerden hangisi düşüncenin akışını bozmaktadır?

- A) I. B) II. C) III. D) IV. E) V.

22. (I) Surat, Hindistan'ın Gujarat eyaletinin ikinci büyük şehri. (II) Elmas kesim işininse dünyadaki merkezi. (III) Yaklaşık yarım milyon kişi, elmas kesim ve parlatma işinde çalışıyor. (IV) Dünyanın elmas başkenti, aynı zamanda Hindistan'ın tekstil başkenti olarak anılıyor. (V) Surat, dört asır önce 800 binlik nüfusuyla Hindistan'ın en kalabalık şehriydi. (VI) Babürlüler döneminde ülkenin en önemli limanıydı. (VII) Ancak, İngiliz egemenliğine geçince onun yerini Mumbai aldı.

Bu parça iki paragrafa ayrılmak istense ikinci paragraf hangi cümleyle başlar?

- A) II. B) III. C) IV. D) V. E) VI.

23. Beydağlarının yüksekliği 3070 m'dir. Bitki dokusu uzaktan fazla renkli görünmez ama içi kumaş dükkânı gibidir. Yeşilin her tonunu bulursunuz orada. Bin metreye kadar makiler, kızılçamlar... Sonra gelsin sedirler, ardıçlar... Ardıç ağaçlarıyla kaplı tepeleri izlerken bir kuşun, çok yükseklerde usul usul salınışı dağıtır dikkatinizi. 1500 m'den sonra dağ ovaları yani yaylalar... Sözü'nün özü, Beydağları, Antalya'nın görünümüne ayrı bir güzellik katar.

Bu parçanın anlatımıyla ilgili olarak aşağıdakilerden hangisi söylenemez?

- A) Gözleme yer verildiği
B) İkillemeye yer verildiği
C) Karşılaştırma yapıldığı
D) Betimlemelerden yararlandırıldığı
E) Eksiltili cümleler kullanıldığı

24. Hafif serin bir eylül akşamıydı. İşten çıkmış koşa koşa eve dönüyordum. O gün, her zaman tırmandığım, kıvrıla kıvrıla ilerleyen yokuş yerine, merdivenlere yöneldim. Merdivenler dik, yorucu ama kestirmeydi. O hızla on beş-yirmi basamak çıktıktan sonra, birden yavaşlayıp şöyle bir etrafıma baktım. Sokak lambasının puslu, sarı, loş ışığında salına salına yere düşen birkaç yaprak gördüm. Sonbaharın sesi duyulmaya başlamıştı.

Bu parçanın anlatımıyla ilgili olarak aşağıdakilerden hangisi söylenemez?

- A) Devrik cümleler kullanılmıştır.
B) Ayrıntılardan yararlanılmıştır.
C) İnsana özgü bir nitelik doğaya aktarılmıştır.
D) Birden fazla duyuya seslenilmiştir.
E) Öykülemeye başvurulmuştur.

25. Uzak Doğu'da, yüz ölçümü bakımından küçük ama ticaret açısından önemi son derece büyük bir ada ülke Singapur. Burası adeta bir kurallar ülkesi. Ülkede, çevre kirliliği oluşturduğundan sakız satışı yasak. Çöpleri yere atmak, kapalı yerlerde sigara içmek, ya da geçitleri dışındaki yerlerden karşıya geçmek, sarı çizgilerin olduğu yerlerde taksi çevirmek bu yasaklardan bazıları. ----

Bu parça, düşüncenin akışına göre aşağıdakilerden hangisiyle tamamlanırsa parçada neden-sonuç ilişkisi bakımından bir bütünlük olur?

- A) Alışveriş merkezlerinin dışında yerel pazarlar da turistler için ilginç bir ortam.
B) Çevresinde, kısa yolculuklarla gidilebilecek görülmeye değer yerler çok.
C) Ne söylediğinizi anlamasa bile, size tebessümle yaklaşan insanların ülkesidir burası.
D) Gerçekten de ülke her zaman çok temiz, trafik çok düzenli burada.
E) Bir yanda zenginliğin, modernliğin simgesi gökdelenler diğer yanda gecekondular yan yana görülebilir.

26. İster sanatla uğraşın ister başka alanlarda çalışın hiç fark etmez. Hangi işi yaparsanız yapın, o işe mutlaka sevginizi ve bütün benliğinizi vermelisiniz. Bence başarılı olmak için bu şart. Ayrıca, çalışmak da önemli. Eğer sanatla uğraşmaya karar verdiyseniz biraz da ızdırap çekmeyi göze almalısınız. Zorluklar karşısında yılmadan çalışmalı, sabırlı olmalı, iyi olanın, günün birinde, hak ettiği değeri kazanacağını unutmamalısınız.

Bu parçada anlatılmak istenen aşağıdakilerden hangisidir?

- A) Başarıya ulaşmanın birtakım koşullara bağlı olduğu
- B) Yaratıcılığın kişisel bir olgu olarak nitelendirildiği
- C) Her işin, kendine özgü bir yöntem gerektirdiği
- D) Kişinin ilgi alanlarının, iş seçiminde önem taşıdığı
- E) Amaca ulaşmanın kişiye mutluluk verdiği

27. Bu çağda biraz garip gelecek ama ben teknolojiye uzağım. Kitapları bilgisayar ekranından okumanın bir zevki varsa bile bu bana zevk vermiyor. Kitapların bir ağırlığı ve kokusu vardır. İnsan, sayfaları çevirirken parmaklarının arasında bu ağırlığı hissetmeli. Kitap, yalnızca bir nesne değildir. Okudukça, satırların altı çizildikçe kişilik kazanır.

Bu parçadan aşağıdakilerin hangisi çıkarılabilir?

- A) Bilgisayar kullanmak için bilgi sahibi olmak gerekir.
- B) Basılı kitabın yerini başka bir şeyin doldurması zordur.
- C) Kitaplardan yararlanmanın değişik yolları vardır.
- D) Her kitap farklı bir etki gücüne sahiptir.
- E) Okuma sevgisi, yaşa göre farklılık gösterir.

28. Kilo vermek istiyorsanız amacınızın mantıklı olmasına dikkat etmelisiniz. Örneğin, 10 günde 15 kilo vermek isteyenlerin amaçlarının gerçekçi olmadığını bilmelisiniz. Çünkü kilo vermede temel amaç, sağlığı korumak ve sağlıklı kilo vermek olursa kalıcı bir zayıflık sağlama olasılığı çok daha yüksektir. Zayıflamanın birden fazla yolu vardır. Fakat gerçekte işe yarayan ve sağlıklı kalmanızı sağlayan yöntemler sınırlıdır.

Bu parçadan kilo vermeyle ilgili olarak aşağıdakilerin hangisi çıkarılabilir?

- A) Her bireyin kendine özgü bir diyet programı olmalıdır.
- B) Tekrar kilo almamak için beslenmeye dikkat etmek gerekir.
- C) Doktor kontrolünde olursa daha başarılı bir sonuç alınır.
- D) Doğru bir yöntem ve hedef seçilmelidir.
- E) Yaş ilerledikçe alınan fazla kiloları vermek zordur.

29. Zoologlar, omurgasızlar arasında, tam donanımlı bir beyin yapısına sahip tek canlı olarak ahtapotları gösteriyor. Ahtapotlar daha önce tehlikeyle karşılaştığı bir yeri, aradan yıllar geçse de yeniden gördüğünde tanıyor ve oradan uzaklaşıyor. Bir kaza ya da saldırı sonucunda, kollarından birkaçını yitirirse kısa bir süre içinde o kolları yeniden oluşuyor. İnsanlar için hiçbir tehlike oluşturmayan ahtapotlar, güçlü kollarını korumak ya da avlanmak için kullanıyor. Görme yetenekleri ise omurgalılarla karşılaştırılabilecek kadar güçlü.

Bu parçada ahtapotlarla ilgili olarak aşağıdakilerin hangisine değinilmemiştir?

- A) Yaşadıkları ortamın özelliğine
- B) Kendi türündeki öteki canlılardan farkına
- C) Güvenliğini sağlama konusundaki özelliğine
- D) Bir organıyla ilgili olarak ortaya çıkan ilginç değişikliğe
- E) Bir organının işlevine

30. Gülgiller ailesinden olan kayısı, erik, şeftali, kiraz ve bademin yakın akrabasıdır. Meyveler içinde hem tadı hem de çeşit çeşit kullanımıyla kendine has bir yeri vardır. Kayısının gerçek vatanının Çin olduğu söylenir. İlk olarak Çinlilerin işlediği kayısı, İpek Yolu ticareti sayesinde İran üzerinden batıya doğru yayılır. İranlılar kayısıya “zard alu” adını vermişler ki ülkemizde kayısının biraz ufak ve ekşi olanına zerdali denir. Osmanlı dönemi yemeklerinde kullanılmıştır. Bugün Türkiye de dahil, Himalaya, Çin, Güney Avrupa, Kuzey Afrika ve Kaliforniya hattı, kayısı kuşağını oluşturuyor. Diğer meyvelerden farklı olarak kayısı kuruları kaskatı değildir ve yumuşaması için ısıtmaya gerek yoktur. Bu nedenle lokum ya da şekerleme yapımında tercih edilir.

Bu parçada kayısıyla ilgili olarak aşağıdakilerden hangisine değinilmemiştir?

- A) Dünya üzerinde yetiştiği yerlere
- B) Farklı biçimde de adlandırıldığına
- C) En çok tüketildiği ülkeye
- D) Bazı meyvelerle benzerliklerinin olduğuna
- E) Kullanım alanlarına

31. Okuma alışkanlığı kazandırma işine ana sınıftan başlanmalıdır. Çocukların ilgi alanları belirlenmeli, buna göre kitap seçimi yapılmalıdır. Ünlü bir yazarın dediği gibi, okumamanın, okuma bilmemekten başka mazereti olmamalıdır. Çünkü okumak, zevkli olmanın da ötesinde bir tür zorunluluktur. Bilgilenmenin tek yolu olmasa da temel yollarından biridir okumak. Yine bir ünlü kişi, “Okuma, insanların ekonomik kölelikten kurtulması için gereklidir ama her şeyden önce, düşünce köleliğinden kurtulmalarının vazgeçilmez koşuludur.” diyor. Gerçekten de kitap okumanın gerekliliği kavranamazsa toplumların sorunlarına çözüm bulunamayacaktır.

Bu parçada okumayla ilgili olarak aşağıdakilerden hangisine değinilmemiştir?

- A) Alışkanlığa dönüşmesi için yapılması gerekenlere
- B) Hoşa giden bir etkinlik olduğuna
- C) Bireysel ve toplumsal açıdan yararlarına
- D) Toplumsal gelişmenin okuryazar sayısı ile ilişkili olduğuna
- E) İnsanı farklı niteliklerle donattığına

32. “Okulda hep oyun oynatıyorlar.” diye şikâyet eden anne-babalara, oyunun, eğitimin bir parçası olduğu hatırlatılmalı. Çünkü oyun, çocuğun gelişim sürecinin olmazsa olmazlarından birisidir. Oyun yoluyla kazanılan becerilerde, çocuk hiçbir zaman zorlanmaz. Yine oyun oynarken çocuk, kazanmayı, kaybetmeyi, sıra beklemeyi, aldığı olumlu ve olumsuz tepkiler karşısında kendi tutumunu değiştirmeyi, geliştirmeyi öğrenir. Bununla beraber oynanan her oyun çocuk için zihinsel bir uyarandır. Örneğin kızmabirader oynarken stratejiler geliştirmek, hafıza oyunları oynarken belleği zorlamak. Her oyun, çocuğun belleğini uyaracak ve dolayısıyla onun düşünme yetisini adım adım geliştirecektir. Evcilik, doktorculuk gibi dramatik oyunlarsa hayal gücünü büyük ölçüde destekleyecek etkinliklerdir.

Bu parçadan oyunda ilgili olarak aşağıdakilerin hangisine ulaşılamaz?

- A) Öneminin bazı aileler tarafından yeterince bilinmediğine
- B) Kimilerinin günlük yaşamla bağlantısı olduğuna
- C) Belleği besleme ve geliştirme açısından önem taşıdığına
- D) Çocukların davranışlarını biçimlendirmede yeri olduğuna
- E) Çocukların fiziksel yapısına uygun olması gerektiğine

33. Çocuk edebiyatı, edebiyatın taşıdığı hemen her niteliği taşımakla birlikte, eğitici yönüyle de öne çıkan bir sanat dalıdır. Doğrudan doğruya olmasa da çocuğun dil becerisini, hayal gücünü ve yaratıcı düşünme yeteneğini geliştirmek, çocuk edebiyatının amaçları arasındadır. Çocuk edebiyatı, kullanılan dil ve seçilen temalar bakımından "çocuğa görelilik" ilkesine uygun olmalıdır. Bunun yanında, yansıtılan duyarlığın doğallığı, dilin güzelliği, metnin sağlamlığı, ilgileri kamçılacak, şaşırtıcı bir serüvenin akıcı biçimde anlatılması da üzerinde durulan noktalardandır. Şiirde canlı bir ses ve ritim, düz yazıda ise serüven, çocuk edebiyatının en belirgin özellikleri arasındadır. Nitelikli bir çocuk edebiyatı ürünü, çocuk duyarlığını yitirmemiş her yaşta yetişkine de zevk verebilir.

Bu parçadan çocuk edebiyatıyla ilgili olarak aşağıdakilerin hangisine ulaşamaz?

- A) Daha çok, gerçek dışı olayların konu edildiğine
- B) Farklı amaçlara göre oluşturulduğuna
- C) Konuların işlenişinde merak öğelerine yer verilmesine
- D) Metinlerin yazınsal değerinin olması gerektiğine
- E) Yapıtların salt çocuklara seslenmediğine

34. O, 84 yıllık ömrünün 60 yılını Türk tarihine adayan bir Fransız Türkolog. Türk tarihine ilişkin engin bilgisini, verdiği eserlerle bilim dünyasına sundu. Bununla da kalmadı, Avrupa'da Türklere ve Türk tarihine ilişkin yanılgılar ve ön yargılarla da savaştı. Paris'te 1970'li yıllarda gerçekleştirdiği Türk kültürü ve İslam sanatı konulu sergiler, büyük yankı uyandırdı. Dürüst ve nesnel yaklaşımı, samimi ve akıcı üslubuyla dünya çapında çok geniş bir okuyucu kitlesine ulaştı. Hayata gözlerini yumduğunda, uluslararası üne sahip saygın bir tarihçi olarak bilim dünyasındaki yerini çoktan almıştı.

Bu parçada sözü edilen Türkolog ile ilgili olarak aşağıdakilerin hangisine değinilmemiştir?

- A) Ne tür çalışmalar yaptığına
- B) Yapıtlarının ilgiyle karşılandığına
- C) Yapıtlarındaki anlatım özelliklerine
- D) Türk tarihine niçin ilgi duyduğuna
- E) Yaşayıp yaşamadığına

35. Bugün ülkemizdeki demir yolu uzunluğu toplam 10.933 km'dir. Bunun 8682 km'si ana hat, kalan ise ikinci derece hattır. Ana hat demir yolunda 200-250 m yarıçapında 6124 adet, 501-1000 m yarıçapında ise 2934 adet viraj vardır. Oysa gelişmiş ülkelerde virajların sayıları azaltılmış, yarıçapları 2500-3000 m'ye çıkarılmıştır. Bu farklılıklar nedeniyle biz, demir yolu ulaşımında hız yapamıyoruz, dolayısıyla fazla zaman harcıyoruz. Yolcu sayısı bakımından öteki ulaşım sistemleriyle yarışmıyoruz. Çözüm, % 35'i standart dışı olan demir yollarımızı, alt yapısını yenileyerek standartlara uygun duruma getirmek ve yeni demir yolları yapmaktır.

Bu parçaya göre demir yollarımızla ilgili olarak aşağıdakilerden hangisi söylenemez?

- A) Yarıçapı küçük viraj sayısının çok olduğu
- B) Az tercih edildiği
- C) Olası tehlikelerin neler olduğu
- D) Eksikliklerinin ortaya konduğu
- E) Kimi verilerin karşılaştırıldığı

36. Hümanizmin özümsemesi onunla başlamış, desem abartmış olmam. Ondan önce Türkiye'de hümanist düşünce yoktu demek istemiyorum. Elbette vardı ama bunun, düşüncenin özü durumuna gelmesi, bir felsefe okulu gibi algılanması onun değerli ve sabırlı çalışmalarıyla kökleşmiştir. Bu çalışmada kendisini çok iyi anlayan sanatçılardan ve aydınlardan oluşan bir çevrenin katkıları da yadsınamaz. Türk yazın ve düşün dünyasına bir armağan olan dünya klasiklerinin Türkçeye çevrilmesini sağlayan kültür politikasına katkıları da unutulamaz.

Bu parçada sözü edilen kişiyle ilgili olarak aşağıdakilerden hangisi söylenemez?

- A) Bir düşünce sisteminin benimsenmesinde çabalar gösterdiği
- B) Tartışmacı ve kavgacı bir kişiliğe sahip olduğu
- C) Aynı düşünceyi paylaştığı kişilerden yararlandığı
- D) Nitelikli çalışmalar yaptığı
- E) Dünya yazınının seçkin örneklerinden çeviriler yapılması görüşünü desteklediği

A

2009 - PMYO - 2

37.

$$\frac{3 + \frac{1}{2} - \frac{5}{2}}{1 - \frac{3}{2} + \frac{3}{4}}$$

işleminin sonucu kaçtır?

- A) 4 B) 5 C) 6 D) 7 E) 8

39.

$$\frac{12 \cdot 3^2 \cdot 5^3}{15 \cdot 2^4 \cdot 5 \cdot 9}$$

işleminin sonucu kaçtır?

- A) $\frac{3}{2}$ B) $\frac{4}{3}$ C) $\frac{3}{4}$
D) $\frac{5}{4}$ E) $\frac{6}{5}$

38.

$$\frac{\sqrt{1 - \frac{3}{4}}}{\sqrt[3]{\frac{1}{8}}}$$

işleminin sonucu kaçtır?

- A) $-\frac{1}{2}$ B) $\frac{1}{2}$ C) $\frac{3}{2}$ D) 1 E) 2

40.

$$17^7 \cdot 19^3$$

çarpımının 5 e bölümünden elde edilen kalan kaçtır?

- A) 0 B) 1 C) 2 D) 3 E) 4

Diğer sayfaya geçiniz.

41.

$$2^3 \cdot 4^x \cdot 8^{2x} = 2^{5x} \cdot 4^{x+1}$$

eşitliğinin çözümünde x değeri kaçtır?

- A) -3 B) -1 C) 2 D) 3 E) 4

42.

$$\frac{\left(a^3 - \frac{3}{2}a^2 + \frac{3}{4}a - \frac{1}{8}\right)\left(a + \frac{1}{2}\right)}{\left(a^2 - \frac{1}{4}\right)\left(a - \frac{1}{2}\right)}$$

ifadesinin sadeleştirilmiş biçimi aşağıdakilerden hangisidir?

- A) $a - \frac{1}{2}$ B) $a + \frac{1}{2}$ C) $a - 1$
 D) $a + 1$ E) $a^2 - 1$

43. Bir x sayısı 5 e bölünüp 4 ile çarpılıyor ve elde edilen sayının karekökü alınıyor.Sonuç olarak 10 bulunduğuna göre, x kaçtır?

- A) 90 B) 105 C) 115 D) 120 E) 125

44.

$$\begin{array}{r|l} 49ABC & 2K \\ \hline & 1PRS \end{array}$$

Yukarıdaki bölme işleminde K sayısı aşağıdakilerden hangisi olamaz?

- A) 4 B) 5 C) 6 D) 7 E) 8

Diğer sayfaya geçiniz.

A

2009 - PMYO - 2

45.

$$\begin{aligned} a &< 0 \\ a &= 3b \\ c &= 2b \end{aligned}$$

olduğuna göre, aşağıdaki sıralamalardan hangisi doğrudur?

- A) $a < b < c$ B) $a < c < b$ C) $b < a < c$
D) $b < c < a$ E) $c < b < a$

47. Gerçek sayılardan gerçel sayılara tanımlanan aşağıdaki fonksiyonlardan hangisi birebir ve örten-dir?

- A) $f(x) = 2x^2 + 3$ B) $f(x) = x^3 + 1$
C) $f(x) = x^4 + 1$ D) $f(x) = 3x^4 + 2x^2$
E) $f(x) = (x-1)^2(x^2 - 1)$

46. Beş basamaklı 9A3B4 sayısı 12 ye kalansız olarak bölünebildiğine göre, A+B toplamının en küçük değeri kaçtır?

- A) 2 B) 3 C) 4 D) 5 E) 6

48. $a < 0 < b$ ve $|b| < |a|$ olduğuna göre,

$$|a + b| - |a - b|$$

ifadesinin eşiti aşağıdakilerden hangisidir?

- A) 0 B) $-2a$ C) $-2b$
D) $a + 2b$ E) $2a - b$

Diğer sayfaya geçiniz.

49. Gerçel sayılar kümesi üzerinde \oplus işlemi

$$a \oplus b = 2a + 3b - 4$$

biçiminde tanımlanmıştır.

$x \oplus y = 5$ ve $y \oplus x = 2$ olduğuna göre, $x + y$ toplamı kaçtır?

- A) 2 B) 3 C) 5 D) 7 E) 10

- 50.

$$A = \{a, b, c, d\}$$

$$B = \{a, b, 1, 2\}$$

$$C = \{a, 1, 2, 3, 4\}$$

kümeleri için $((A \cap B) \cup C) \times ((B \cup C) \cap A)$ kartezyen çarpımının eleman sayısı kaçtır?

- A) 5 B) 10 C) 12 D) 16 E) 20

51. a TL para yıllık % 10 basit faiz oranı üzerinden bankaya yatırılıyor.

Faiz sadece anapara üzerinden işlediğine göre, 24 ay sonra para kaç TL olur?

A) $\frac{3a}{2}$ B) $\frac{4a}{3}$ C) $\frac{6a}{5}$

D) $\frac{7a}{5}$ E) $\frac{13a}{10}$

52. Osman ile Fatih'in yaşları toplamı 35 tir. Osman, Fatih'in yaşındayken Fatih'in o zamanki yaşının 2 katı yaşındaydı.

Fatih'in şimdiki yaşı kaçtır?

- A) 9 B) 10 C) 12 D) 13 E) 14

Diğer sayfaya geçiniz.

A

2009 - PMYO - 2

53. 23 polis A, B, C, D ve E olmak üzere her grupta en az iki kişi olacak biçimde beş farklı görev için gruplara ayrılıyor.

Bir grupta en fazla kaç polis görev almış olabilir?

- A) 8 B) 10 C) 13 D) 15 E) 18

54. 20 tane doğal sayının aritmetik ortalaması 104 tür. Bunlara 5 sayı daha eklenince aritmetik ortalama 120 oluyor.

Eklenen 5 sayının aritmetik ortalaması kaçtır?

- A) 165 B) 173 C) 184
D) 192 E) 197

55. Alış fiyatı c TL olan bir ceket, g TL olan bir gömlek ve p TL olan bir pantolondan oluşan üç parça giysi, aşağıda verilen fiyatlardan hangisine satılırsa kesinlikle kâr elde edilir?

- A) $2c + g - p$ TL B) $c + 2p + 50$ TL
C) $p + 2g - 10$ TL D) $c + p + g + 5$ TL
E) $c + p - g + 100$ TL

56. 54 yolcusu olan bir otobüsten 4 kadın ve 5 erkek inince geriye kalan kadınların sayısı erkeklerin sayısının $\frac{3}{2}$ si oluyor.

Buna göre ilk durumda otobüste kaç kadın yolcu vardır?

- A) 27 B) 29 C) 31 D) 33 E) 35

Diğer sayfaya geçiniz.

A

2009 - PMYO - 2

57. Bir top kumaştan 12 tane aynı uzunlukta perde kesiliyor. Perdelerin her biri 30 cm daha uzun olsaydı 10 tane perde kesilebilecekti.

Buna göre bir top kumaş kaç m dir?

- A) 12 B) 14 C) 15 D) 16 E) 18

59. Bir kenarı 80 m olan kare şeklindeki bir tarlanın çevresine ve içine 4 m aralıklarla fidan dikiliyor.

Dikilen fidan sayısı kaçtır?

- A) 322 B) 360 C) 404 D) 425 E) 441

58. Bir emlakçının ev kiralamasından ve satışından aldığı komisyonlar aşağıda verilmiştir:

Kiralama : Bir aylık kira ücreti

Satış : Satış fiyatının binde dördü

**Bu emlakçı yıllık kirası 3600 TL olan bir ev kirala-
dığına ve fiyatı 120 000 TL olan bir ev sattığına
göre, komisyonlardan toplam kaç TL gelir elde
etmiştir?**

- A) 750 B) 780 C) 800 D) 820 E) 840

60. 1, 2 ve 3 rakamlarını kullanarak oluşturulabilecek üç basamaklı sayıların kaç tanesinin onlar ve yüzler basamağında aynı rakam bulunur?

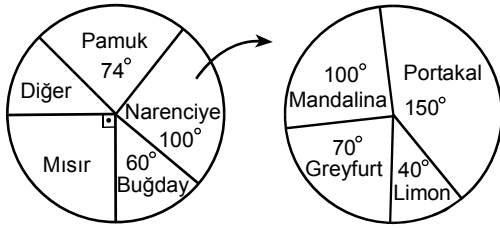
- A) 4 B) 6 C) 8 D) 9 E) 10

Diğer sayfaya geçiniz.

61. – 63. SORULARI AŞAĞIDAKİ BİLGİLERE GÖRE CEVAPLAYINIZ.

DİKKAT! SORULARI BİRBİRİNDEN BAĞIMSIZ OLARAK CEVAPLAYINIZ.

Bir bölgedeki tarım arazisinin ne kadarının hangi ürün için kullanıldığını gösteren daire grafik aşağıdadır. Narenciye ürünlerinin çeşitlerini göstermek için ayrıca başka bir daire grafik çizilmiştir.



61. Bu bölgedeki pamuk, narenciye, buğday ve mısır dışında kalan diğer ürünler için kullanılan arazi tüm ürünler için kullanılan arazinin yüzde kaçtır?

- A) 10 B) 12 C) 15 D) 18 E) 20

62. Bu bölgede mandalina için kullanılan arazi 250 dönümse mısır için kullanılan arazi kaç dönümdür?

- A) 750 B) 810 C) 880 D) 920 E) 1000

63. Bu bölgede greyfurt için kullanılan arazi limon için kullanılanlardan 200 dönüm fazlaysa buğday için kullanılan arazi kaç dönümdür?

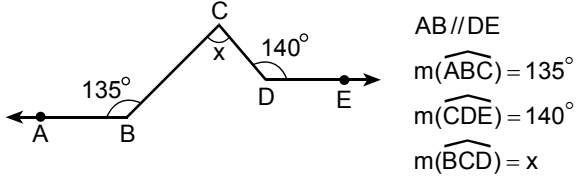
- A) 1250 B) 1360 C) 1440
D) 1500 E) 1620

64. Bir iç açısının ölçüsü bir dış açısının ölçüsünden 140° büyük olan düzgün çokgen kaç kenarlıdır?

- A) 12 B) 14 C) 15 D) 16 E) 18

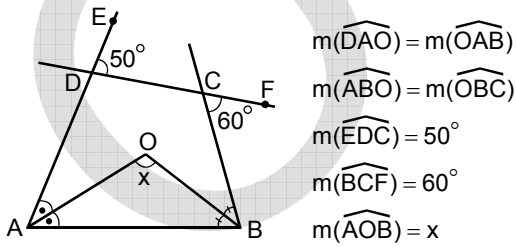
Diğer sayfaya geçiniz.

65.

Yukarıdaki verilere göre x kaç derecedir?

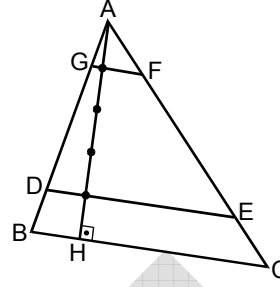
- A) 70 B) 75 C) 80 D) 95 E) 100

66.

Yukarıdaki verilere göre x kaç derecedir?

- A) 105 B) 110 C) 115 D) 120 E) 125

67.

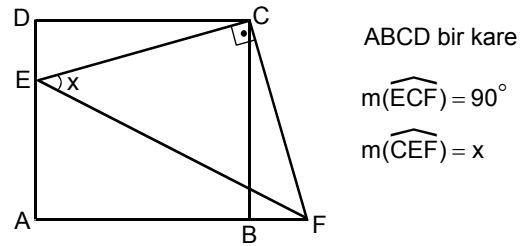


ABC üçgeninin AH yüksekliği 5 eş parçaya bölünüp BC tabanına paralel şekildeki GF ve DE doğru parçaları çiziliyor.

Buna göre, $\frac{A(\widehat{AGF}) + A(\widehat{BCED})}{A(\widehat{DEFG})}$ oranı kaçtır?

- A) $\frac{1}{3}$ B) $\frac{2}{3}$ C) $\frac{3}{4}$
D) $\frac{4}{5}$ E) $\frac{5}{7}$

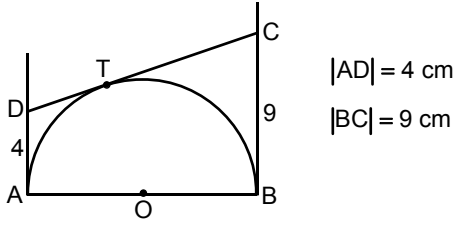
68.

Yukarıdaki verilere göre x kaç derecedir?

- A) 30 B) 37,5 C) 45
D) 52,5 E) 60

Diğer sayfaya geçiniz.

69.

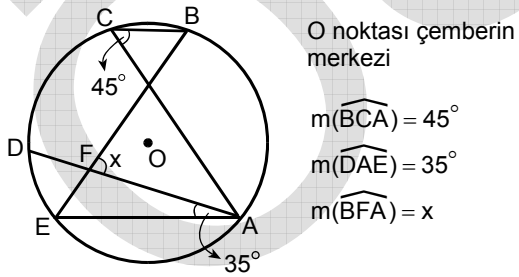


Şekildeki O merkezli AB çaplı yarım çembere AD ve BC doğruları A ve B noktalarında, CD doğrusu ise T noktasında teğettir.

Yukarıdaki verilere göre çemberin yarıçap uzunluğu kaç cm dir?

- A) 6 B) 7 C) 8 D) $\frac{11}{2}$ E) $\frac{13}{2}$

70.



Yukarıdaki verilere göre x kaç derecedir?

- A) 50 B) 60 C) 65 D) 70 E) 80

71.

$$\begin{aligned} x + 2y - z &= 6 \\ -x - 2y - 2z &= 3 \\ x - y + z &= -6 \end{aligned}$$

denklem sisteminin çözümünde x kaçtır?

- A) -2 B) -1 C) 2 D) 3 E) 5

72. Denklemi $y - x - 2 = 0$ olan doğrunun orijine en yakın noktası aşağıdakilerden hangisidir?

- A) (-1,1) B) (0,-2) C) (1,-1)

D) $\left(\frac{-1}{2}, \frac{1}{2}\right)$ E) $\left(\frac{5}{2}, \frac{1}{2}\right)$

Diğer sayfaya geçiniz.

A

GENEL KÜLTÜR

2009 - PMYO - 2

73. Aşağıdakilerden hangisi İkinci Balkan Savaşı'nın nedenlerinden biridir?

- A) Birinci Meşrutiyet'in ilan edilmesi
- B) Arnavutluk'un bağımsızlığını ilan etmesi
- C) Bulgaristan'ın genişlemesinin huzursuzluk yaratması
- D) Osmanlı ordusunun yeniden yapılandırılması
- E) Osmanlı Devleti'nin Edirne ve Kırklareli'ni geri alması

74.

- I. Hürriyet ve İtilaf Fırkası
- II. Wilson Prensipleri Cemiyeti
- III. İngiliz Muhipleri Cemiyeti

Kurtuluş Savaşı'nda yukarıdakilerden hangileri vatanın kurtuluşu için manda ya da himaye fikrini benimsemiştir?

- A) Yalnız I
- B) Yalnız II
- C) Yalnız III
- D) I ve II
- E) I, II ve III

75. Erzurum Kongresi, aşağıdakilerin hangisiyle Sivas Kongresi'nden ayrılır?

- A) Şark Vilayetleri Müdafaa-i Hukuk Cemiyetinin kararıyla toplanması
- B) İstanbul Hükûmetine güvensizliğini belirtmesi
- C) Azınlıklara siyasi egemenliği ve sosyal dengeyi bozacak ayrıcalıklar verilmesini reddetmesi
- D) Vatanın bölünmez bir bütün olduğunun ilke olarak benimsenmesi
- E) Mustafa Kemal'in kongre başkanlığına seçilmesi

76.

- I. Demirci Mehmet
- II. Ali Galip
- III. Çerkez Ethem

Yukarıdaki olayların hangilerinde Sivas Kongresi'ni basıp engellemek amacı vardır?

- A) Yalnız I
- B) Yalnız II
- C) Yalnız III
- D) I ve II
- E) I, II ve III

77. TBMM Hükûmeti Kurtuluş Savaşı'nda,

- I. Ermenistan,
- II. İngiltere,
- III. Afganistan,
- IV. Amerika

devletlerinden hangileriyle savaş hâlinde olmuştur?

- A) Yalnız I
- B) Yalnız II
- C) I ve II
- D) II ve IV
- E) III ve IV

78.

- I. Sevr Antlaşması'nı bazı değişikliklerle TBMM'ye kabul ettirmek
- II. Anlaşma Devletleri arasında görüş birliği olduğu izlenimi yaratmak
- III. TBMM Hükûmetiyle Sovyet Rusya arasındaki yakınlaşmayı önlemek

Kurtuluş Savaşında Londra Konferansı, yukarıdakilerden hangilerini gerçekleştirmek amacıyla toplanmıştır?

- A) Yalnız I
- B) Yalnız II
- C) Yalnız III
- D) I ve II
- E) I, II ve III

Diğer sayfaya geçiniz.

79. Kurtuluş Savaşı'nda,

- I. Fransa'nın Ankara Antlaşması'nı yaparak TBMM Hükûmetiyle savaş durumuna son vermesi,
- II. İtalya'nın İkinci İnönü Savaşı'ndan sonra Anadolu'daki askerî gücünü çekmesi,
- III. Sovyet Rusya ile Moskova Antlaşması'nın imzalanması

gelişmelerinden hangilerinin Anlaşma Devletleri arasındaki görüş ayrılığına kanıt olduğu savunulabilir?

- A) Yalnız I B) Yalnız II C) Yalnız III
D) I ve II E) I, II ve III

80. Lozan Antlaşması'ndan sonra,

- I. Musul,
- II. Hatay,
- III. Boğazlar

sorunlarından hangileri Türkiye Cumhuriyeti'nin istediği doğrultuda çözülmüştür?

- A) Yalnız I B) Yalnız II C) Yalnız III
D) I ve II E) II ve III

81. 20 Ocak 1921 tarihli Anayasa'da yer alan "Egemenlik kayıtsız şartsız milletindir, yönetim şekli halkın kendi kendini idare etmesi esasına dayanır." **madde-sinin, aşağıdakilerin hangisinde verilenlerin gerçekleştirilmesi için doğrudan bir gerekçe olduğu savunulabilir?**

- A) Saltanatın kaldırılması ve Cumhuriyet'in ilan edilmesi
- B) Medeni Kanun'un kabul edilmesi ve Soyadı Kanunu'nun kabul edilmesi
- C) Tekkelerin kapatılması ve medreselerin kapatılması
- D) Öğretim Birliği (Tevhidi Tedrisat) Kanunu'nun kabul edilmesi ve Türk harflerinin kabul edilmesi
- E) Ölçülerde değişiklik yapılması ve Millî ekonomi ilkesinin uygulanması

82. Laik devlet anlayışında dinin,

- I. siyaset,
- II. hukuk,
- III. ekonomi

alanlarının hangilerinde toplumun yaşamını yönlendirmesi savunulamaz?

- A) Yalnız I B) Yalnız II C) Yalnız III
D) I ve II E) I, II ve III

83.

- I. Terakkiperver Cumhuriyet Fırkası
- II. Serbest Cumhuriyet Fırkası
- III. Halk Fırkası

Atatürk Döneminde yukarıdakilerden hangileri çok partili hayata geçiş amacıyla muhalefet partisi olarak kurulmuştur?

- A) Yalnız I B) Yalnız II C) Yalnız III
D) I ve II E) II ve III

84.

- I. Sadabat Paketi
- II. Birleşmiş Milletler Teşkilatı
- III. NATO

Atatürk Döneminde Türkiye Cumhuriyeti, yukarıdakilerden hangilerinin üye devletleri arasına girmiştir?

- A) Yalnız I B) Yalnız II C) Yalnız III
D) I ve III E) I, II ve III

A

2009 - PMYO - 2

85. Muson Asya'sında yaz aylarında meydana gelen aşağıdaki olaylardan hangisi diğer dördünün nedeni olarak gösterilebilir?

- A) Sel olaylarının artması
- B) Yağış tutarının artması
- C) Toprak erozyonunun şiddetlenmesi
- D) Heyelan olaylarının sık görülmesi
- E) Tarımda sulamaya duyulan gereksinimin azalması

87. Aşağıdaki kentlerden hangisinde 21 Mart tarihinde güneşin batma saati Ankara'ya göre daha ileridir?

- A) Adana
- B) Sinop
- C) Ağrı
- D) Erzurum
- E) Edirne

86. Aşağıdaki ülkelerin hangisindeki iklim çeşitliliğinde enlem farkının etkisi diğerlerinden daha fazladır?

- A) İran
- B) Azerbaycan
- C) Gürcistan
- D) Bulgaristan
- E) Türkiye

88. Güneydoğu Anadolu Bölgesi'nin aşağıdaki özelliklerinden hangisi, Doğu Anadolu Bölgesi'yle sınırının belirlenmesinde etkili olmamıştır?

- A) Volkanik arazilerin bulunması
- B) Ortalama yükseltisinin daha az olması
- C) Sıcaklık ortalamalarının daha yüksek olduğu bir karasal iklimin yaşanması
- D) Doğal bitki örtüsü bakımından daha farklı olması
- E) Plato ve ova gibi engebeleri az yer şekillerinin yaygın olması

Diğer sayfaya geçiniz.

89. Aşağıdakilerden hangisi, Türkiye'nin jeopolitik açıdan çok önemli bir konuma sahip olmasını sağlayan özelliklerinden biri değildir?

- A) Farklı kültür ve dinlere sahip ülkelerle komşu olması
- B) Doğusuyla batısı arasında 76 dakika yerel saat farkı olması
- C) Asya ve Avrupa kıtaları arasındaki transit ticaret yollarının üzerinde bulunması
- D) Karadeniz'le Ege Denizi'ni birbirine bağlayan boğazlara sahip olması
- E) Dünyanın zengin enerji kaynaklarına sahip bölgelerine yakın olması

90.



Aşağıdakilerden hangisi, Türkiye haritasında taraflı olarak gösterilen üç yörenin nüfuslarıyla ilgili ortak bir özelliktir?

- A) Nüfus yoğunluğunun Türkiye ortalamasının altında olması
- B) Doğum oranının Türkiye ortalamasının altında olması
- C) Tarımın önemli bir gelir kaynağı olması
- D) Yöre dışına yoğun göç vermesi
- E) Kentleşme oranının yüksek olması

91. İç Anadolu Bölgesi'nin iklimine özgü en önemli tarım ürünü tahıldır. Ancak son yıllarda bölgede sebzeçilik de önem kazanmıştır.

Aşağıdakilerden hangisi bu durumun nedenlerinden biri olamaz?

- A) Sulama olanaklarının artması
- B) Gübre kullanımının yaygınlaşması
- C) İklim koşullarına uygun tohumların kullanılmaya başlanması
- D) Birim alandan elde edilen gelirin daha yüksek olması
- E) Kırsal nüfus miktarının artması

92. Aşağıdaki tabloda Erzurum ve İzmir illerinde 2001 yılında sağılan toplam büyükbaş hayvan sayıları ve süt üretimi verilmiştir.

	İZMİR	ERZURUM
Sağılan hayvan sayısı (bin adet)	100	235
Süt üretimi (bin ton)	303	274

Sağılan büyükbaş hayvan sayısı Erzurum'dan az olmasına karşın süt üretiminin daha fazla olması İzmir'in hangi özelliğiyle açıklanabilir?

- A) İklim koşullarının ılıman olmasıyla
- B) Hayvan ürünlerine talebin fazla olmasıyla
- C) Tarıma dayalı endüstri kuruluşlarının bulunmasıyla
- D) Hayvancılığın modern yöntemlerle yapılmasıyla
- E) Doğal bitki örtüsünün maki olmasıyla

Diğer sayfaya geçiniz.

93.

Kent	Coğrafi Bölüm
I. Adapazarı	Çatalca-Kocaeli
II. Kayseri	Orta Kızılırmak
III. Bursa	Güney Marmara
IV. Aydın	Ege

Yukarıda verilen kentlerden hangileri, bulunduğu coğrafi bölüm için **en önemli** iç ticaret merkezidir?

- A) I ve II B) I ve III C) II ve III
D) II ve IV E) III ve IV

94. Aşağıdakilerden hangisi, Türkiye’de son yıllarda organize sanayi bölgelerinin kent dışındaki kesimlerde kurulmasının amaçlarından biri **olamaz**?

- A) Ürünlerin dış pazarlardaki rekabet gücünü artırmak
B) Kentteki çevre sorunlarını azaltmak
C) Belli türdeki iş kollarını bir araya toplamak
D) Kent içi trafiğini rahatlatmak
E) Düzenli kentleşmeyi sağlamak

95. Aşağıdakilerden hangisi Türkiye’nin ulaşımına ait özelliklerden biri **değildir**?

- A) Uluslararası ticarete deniz yollarının payı demir yollarından fazladır.
B) Yerleşim yerlerinin büyük bir bölümü kara yollarıyla bağlanmıştır.
C) Önemli ticaret limanlarının büyük bir bölümünün demir yollarıyla bağlantısı vardır.
D) Yolcu ve yük taşımacılığında hava yollarının payı kara yollarından fazladır.
E) Birçok ülke için önemli olan transit ticaret yollarına sahiptir.

96. Aşağıdaki yerleşim yerlerinden hangisinin gelişmesinde turizmin etkisinin **daha az** olduğu söylenebilir?

- A) Amasra B) Kaş C) Ürgüp
D) Marmaris E) Gebze

Diğer sayfaya geçiniz.

A

2009 - PMYO - 2

97. Aşağıdakilerden hangisi hukuk devleti ilkesinin gereklerinden biri değildir?

- A) Cumhurbaşkanı'nın halk tarafından seçilmesi
- B) Mahkemelerin bağımsızlığı ilkesi
- C) Doğal yargıç (tabii hâkim) ilkesi
- D) Kanunların genelliği ilkesi
- E) Kazanılmış haklara saygı ilkesi

98. Aşağıdakilerden hangisi Devletin unsurlarından biridir?

- A) Siyasal partiler
- B) Anayasa Mahkemesi
- C) Devlet Denetleme Kurulu
- D) Silahlı Kuvvetler
- E) Ülke

99. Türkiye'de aşağıdaki seçim sistemlerinden hangisi uygulanmaktadır?

- A) %10 ülke, %5 çevre barajlı, nispi temsil sistemi
- B) Seçim çevresi barajlı, nispi temsil sistemi
- C) %10 ülke barajlı, nispi temsil sistemi
- D) %5 barajlı, nispi temsil sistemi
- E) Basit çoğunluk sistemi

100. Aşağıdaki ülkelerin hangisinde başkanlık hükümeti sistemi uygulanmaktadır?

- A) Amerika Birleşik Devletleri
- B) Almanya
- C) İngiltere
- D) Hollanda
- E) İtalya

101. 2007 yılında Anayasa değişikliği hakkındaki 5678 sayılı Kanun ile yürürlüğe giren hükümlere göre, Cumhurbaşkanı halk tarafından kaç yıllık bir süre için seçilir?

- A) 2
- B) 3
- C) 5
- D) 7
- E) 8

102. Bir bakanın görevi ile ilgili bir suçtan ötürü yargılanmasını aşağıdakilerden hangisi yapar?

- A) Yargıtay Ceza Genel Kurulu
- B) Yargıtay Hukuk Genel Kurulu
- C) Uyuşmazlık Mahkemesi
- D) Yüce Divan sıfatıyla Anayasa Mahkemesi
- E) Danıştay

Diğer sayfaya geçiniz.

A

2009 - PMYO - 2

103. 1982 Anayasası'na göre aşağıdakilerden hangisinin süresi 4 yıldır?

- A) Belediye başkanlarının görev süresi
- B) TBMM'nin yasama dönemi
- C) Anayasa Mahkemesi üyelerinin görev süresi
- D) TBMM Başkanının görev süresi
- E) TBMM'nin kurduğu Meclis soruşturması komisyonlarının görev süresi

104. Aşağıdakilerin hangisinde yürütme hem görev hem de yetki olarak nitelendirilmiştir?

- A) 1982 Anayasası'nda 1987 yılında yapılan Anayasa değişikliğiyle
- B) 1982 Anayasası'nın ilk metninde
- C) 1961 Anayasası'nda
- D) 1924 Anayasası'nda
- E) 1921 Anayasası'nda

105. 1982 Anayasası'na göre TBMM genel seçimlerinin denetimini aşağıdakilerden hangisi yapar?

- A) Başbakanlık
- B) Millî Güvenlik Kurulu
- C) İçişleri Bakanlığı
- D) Yüksek Seçim Kurulu
- E) TBMM Başkanlığı

106. 1982 Anayasası'na göre aşağıdakilerden hangisinin Anayasa Mahkemesine üye seçiminde rolü yoktur?

- A) Cumhurbaşkanı
- B) Danıştay
- C) Yargıtay
- D) Sayıştay
- E) Bakanlar Kurulu

107. Aşağıdakilerden hangisi Anayasa'da savaş, seferberlik, sıkıyönetim veya olağanüstü hâllerde de durdurulamayacak temel hak ve hürriyetler ve ilkelere arasında sayılmamıştır?

- A) Seyahat hürriyeti
- B) Kişinin maddi ve manevi varlığının bütünlüğünün korunması hakkı
- C) Suç ve cezaların geçmişe yürütülememesi
- D) Kimsenin din, vicdan, düşünce ve kanaatlerini açıklamaya zorlanamaması ve bunlardan dolayı suçlanamaması
- E) Suçluluğu mahkeme kararıyla saptanıncaya kadar kimsenin suçlu sayılmaması

108. Anayasa Mahkemesinin aşağıdakilerden hangisi üzerinde bir denetim yetkisi yoktur?

- A) Kanunların Anayasa'ya aykırı olup olmadığı
- B) Anayasa değişikliklerinin şekil açısından Anayasa'ya aykırı olup olmadığı
- C) Kanun hükmünde kararnamelemlerin Anayasa'ya aykırı olup olmadığı
- D) Milletvekili dokunulmazlığının kaldırılmasının kanuna veya TBMM içtüzüğü'ne aykırı olup olmadığı
- E) Bakanlar Kurulunca çıkarılan bir tüzüğün Anayasa'ya aykırı olup olmadığı

Diğer sayfaya geçiniz.

109. Emniyet Genel Müdürlüğü ile ilgili aşağıdaki ifadelerden hangisi yanlıştır?

- A) Emniyet Genel Müdürlüğü, kendi özel kanunları ve bütçesi olan, genel idare içinde yer alan bir kamu kuruluşudur.
- B) Emniyet Genel Müdürlüğünün amacı, görevli ve yetkili olduğu yerde, yasaların çizdiği sınırlar içinde kamu düzenini korumak ve sağlamaktır.
- C) Emniyet Genel Müdürlüğü merkez, taşra ve yurt dışı teşkilatından oluşur.
- D) Emniyet Genel Müdürlüğü Başbakanlığa bağlıdır.
- E) Emniyet Genel Müdürü, Emniyet Teşkilatının en büyük mesleki amiridir.

110. Polis Meslek Yüksek Okulundan mezun olanlar aşağıdaki rütbelerden hangisini alırlar?

- A) Polis Memuru
- B) Komiser Yardımcısı
- C) Komiser
- D) Başkomiser
- E) Emniyet Amiri

111. Türk Bayrağı ile ilgili aşağıdaki ifadelerden hangisi yanlıştır?

- A) Kamu kurum ve kuruluşlarında Türk Bayrağı sürekli çekili kalır.
- B) Türk Bayrağı, kanunda gösterilen şekil ve oranlarda olmak kaydıyla beyaz ay-yıldızlı al bayraktır.
- C) Türk Bayrağı, 10 Kasım'da Türkiye'de ve Türkiye Cumhuriyeti'nin dış temsilciliklerinde, resmî ve millî binalarında yarıya çekilir.
- D) Türk Bayrağı, Cumhurbaşkanlığı yapmış kişilerin, şehitlerin ve tüzükte belirlenecek asker ve sivil kişilerin cenaze törenlerinde tabutlarına örtülebilir.
- E) Siyasi partiler, dernekler ve vakıflar Türk Bayrağı'nı amblemlerinin, flamalarının, sembollerinin ve benzerlerinin ön veya arka yüzünde esas veya fon teşkil edecek şekilde kullanabilirler.

112. Türkiye'de hâlen görevde olan Ekonomiden Sorumlu Devlet Bakanı kimdir?

- A) Cemil Çiçek
- B) Bülent Arınç
- C) Ali Babacan
- D) Recep Akdağ
- E) Beşir Atalay

Diğer sayfaya geçiniz.

A

2009 - PMYO - 2

113. 6-7 Ekim 2009 tarihlerinde düzenlenen IMF-Dünya Bankası yıllık toplantıları aşağıdaki şehirlerin hangisinde gerçekleşmiştir?

- A) Tokyo B) İstanbul C) Londra
D) Paris E) Washington

114. 2009 yılının temmuz ayında Somalili korsanlar tarafından rehin alınan ve ekim ayında serbest bırakılan Türk gemisi aşağıdakilerden hangisidir?

- A) Gaziantep B) Giresun C) Gökova
D) Horizon-1 E) M/V Yasa Neslihan

115. İnsanlar tarafından atmosfere verilen gazların sera etkisi yaratması sonucunda dünya yüzeyinde sıcaklığın artmasına küresel ısınma denir.

Aşağıdakilerden hangisi atmosfere salınan sera gazlarını kontrol etmek için günlük hayatta alınabilecek önlemler arasında yer almaz?

- A) Tasarruflu ampuller kullanılması
B) Daha çok araba kullanılması
C) Her yıl en az bir ağaç dikilmesi
D) Çöplerin geri dönüştürülmesi
E) Elektronik cihazların kullanılmadıklarında tamamen kapatılması

116. Avrupa Konseyi Parlamenterler Meclisinin kentsel, çevresel, sosyal, kültürel ve uluslararası ilişkilerde dünyada örnek teşkil edecek çalışmalar yapan kentler ve belediyelere verdiği Avrupa'nın en büyük kent ödülü sayılan "Avrupa Ödülü" 2009 yılında hangi Türk kentine verilmiştir?

- A) Ankara B) Adana C) Eskişehir
D) İstanbul E) İzmir

Diğer sayfaya geçiniz.

A

2009 - PMYO - 2

117. Polonya'da düzenlenen 2009 Avrupa Basketbol Şampiyonası'nda Türk A Millî Takımı kaçınıcı olmuştur?

- A) 1. B) 4. C) 5. D) 7. E) 8.

119. 2009 yılında "Yabancı Dilde En İyi Film" dalında Oscar adayı adayı olan Türk filmi aşağıdakilerden hangisidir?

- A) İssız Adam B) Babam ve Oğlum
C) Güneşi Gördüm D) Beyaz Melek
E) Karanlıktakiler

118. 2016 Yaz Olimpiyat Oyunları aşağıdaki şehirlerden hangisinde gerçekleştirilecektir?

- A) Chicago B) Tokyo C) Atina
D) Rio de Janeiro E) Madrid

120. 26 Haziran 2009 tarihinde hayatını kaybeden dünyaca ünlü pop şarkıcısı aşağıdakilerden hangisidir?

- A) Elvis Presley B) John Lennon
C) Kurt Cobain D) Freddie Mercury
E) Michael Jackson

TEST BİTTİ.

CEVAPLARINIZI KONTROL EDİNİZ.

SINAVDA UYULACAK KURALLAR

1. Adayların cep telefonu, çağrı cihazı, telsiz, fotoğraf makinesi, cep bilgisayarı, saat fonksiyonu dışında fonksiyonu olan saat, hesap makinesi, sözlük, kitap, defter, müsvedde kâğıdı, pergel, açı ölçer, cetvel ve benzeri her türlü araç gereçle sınava girmesi kesinlikle yasaktır. Bu araçlarla sınava girmiş adaylar mutlaka Salon Sınav Tutanağına yazılacak, bu adayların sınavı geçersiz sayılacaktır.

2. Bu sınavda verilen toplam cevaplama süresi **120 dakikadır (2 Saat)**. Sınav başladıktan sonra **ilk 60** ve **son 15** dakika içinde adayın sınavdan çıkmasına kesinlikle izin verilmeyecektir. Sınav evrakını teslim ederek salonu terk eden aday, her ne sebeple olursa olsun tekrar sınava alınmayacaktır.

3. Sınav evrakını teslim ederek salonu terk eden aday, her ne sebeple olursa olsun tekrar sınava alınmayacaktır.

4. Sınav süresince görevlilerle konuşmak ve soru sormak yasaktır. Aynı şekilde görevlilerin de adaylarla yakından ve alçak sesle konuşmaları; ayrıca, adayların birbirinden kalem, silgi vb. şeyleri istemeleri kesinlikle yasaktır.

5. Sınav sırasında kopya çeken, çekmeye kalkışan, kopya veren, kopya çekilmesine yardım edenlerin kimlikleri, Salon Sınav Tutanağına yazılacak ve bu adayların sınavları geçersiz sayılacaktır. Görevliler kopya çekmeye veya vermeye kalkışanları uyarmak zorunda değildir, sorumluluk size aittir.

Adayların test sorularına verdikleri cevapların dağılımları bilgi işlem yöntemleriyle incelenecek; bu incelemelerden elde edilen bulgular bireysel veya toplu olarak kopya girişiminde bulunulduğunu gösterirse, kopya eylemine katılan adayların cevaplarının bir kısmı veya tamamı geçersiz sayılacaktır. Cevap kâğıdınızı başkaları tarafından görülmeyecek şekilde tutmanız gerekmektedir. Bu durum sizin için son derece önemlidir.

ÖSYM Temsilcisi bir salondaki sınavın, kurallara uygun biçimde yapılmadığını, toplu kopya girişiminde bulunulduğunu raporunda bildirdiği takdirde, ÖSYM takdir hakkını kullanarak bu salonda sınavı giren adayların tümünün sınavını geçersiz sayabilir.

6. Adaylar, görevlilerin her türlü uyarılarına uymak zorundadır. Görevliler, gerektiğinde oturduğunuz yerleri de değiştirebilir. Sınavınızın geçerli sayılması, her şeyden önce sınav kurallarına uymanıza bağlıdır.

Kurallara aykırı davranışta bulunanların ve yapılacak uyarılara uymayanların kimlikleri tutanağa yazılacak ve sınavları geçersiz sayılacaktır.

7. Cevap kâğıdında doldurmanız gereken alanlar bulunmaktadır. Bu alanları eksiksiz doldurunuz. Cevap kâğıdına yazılacak her türlü yazıda ve yapılacak bütün işaretlemelede kurşun kalem kullanılacaktır. Tükenez kalem ve dolma kalem kesinlikle kullanılmayacaktır.

Cevapların cevap kâğıdına işaretlenmiş olması gerekir. Soru kitapçığına işaretlenen cevaplar geçerli değildir.

8. Soru kitapçığınızı alır almaz, sayfaların eksik olup olmadığını, kitapçıkta basım hatalarının bulunup bulunmadığını kontrol ediniz. Soru kitapçığınızın sayfası eksik veya basımı hatalı ise değiştirilmesi için derhâl Salon Başkanına başvurunuz.

Soru kitapçığında her sayfanın tepesinde basılı bulunan soru kitapçığı türünün, kitapçığın ön kapağında basılı soru kitapçığı türüyle aynı olup olmadığını kontrol ediniz. Farklı olması durumunda Salon Başkanından yeni bir soru kitapçığı isteyiniz. Soru kitapçığınızın türünün değişik olduğunu daha sonra fark ederseniz, size o zamana kadar cevaplama yaptığınız türden, hatasız bir soru kitapçığı verilmesi için Salon Başkanına başvurunuz.

Cevap kâğıdınızda, size verilen soru kitapçığının türünü "Soru Kitapçığı Türü" alanındaki ilgili yuvarlağı doldurarak belirtiniz. Cevap kâğıdınızda işaretlediğiniz Soru Kitapçığı Türü salon görevlileri tarafından sınav öncesi kontrol edilerek paraflanacaktır. Sizin işaretlediğiniz ile salon görevlilerinin parafladıkları kitapçık türü arasında fark olması hâlinde salon görevlilerinin parafladıkları kitapçık türü dikkate alınacaktır.

9. Cevaplamaya geçmeden önce size verilecek soru kitapçığının üzerine adınızı, soyadınızı, T.C. Kimlik Numaranızı ve bu salonun Salon Numarasını yazınız. Sınav sonunda soru kitapçıkları toplanacak ve ÖSYM'de tek tek incelenecektir. Soru kitapçığının bir sayfası bile eksik çıkarsa sınavınız geçersiz sayılacaktır.

10. Soru kitapçığının sayfalarındaki boş yerleri müsvedde için kullanabilirsiniz.

11. Sınav süresince, görevliler dahil, salonda kimse sigara, pipo, puro vb. şeyleri içmeyecektir.

12. Soruları ve bu sorulara verdiğiniz cevapları ayrı bir kâğıda yazıp bu kâğıdı dışarı çıkarmanız kesinlikle yasaktır.

13. **Sınav salonundan ayrılmadan önce soru kitapçığınızı, cevap kâğıdınızı ve Sınava Giriş ve Kimlik Belgenizi salon görevlilerine teslim etmeyi unutmayınız.**

**POLİS AKADEMİSİ POLİS MESLEK YÜKSEKOKULLARI
ÖĞRENCİ ADAYLIĞI SINAVI-2**

1 KASIM 2009

GENEL YETENEK VE GENEL KÜLTÜR TESTİ

A KİTAPÇIĞI

GENEL YETENEK BÖLÜMÜ

GENEL KÜLTÜR BÖLÜMÜ

1. A	26. A	51. C	73. C	96. E
2. C	27. B	52. E	74. E	97. A
3. E	28. D	53. D	75. A	98. E
4. B	29. A	54. C		99. C
5. D	30. C	55. D	76. B	100. A
			77. C	
6. A	31. D	56. C	78. A	101. C
7. A	32. E	57. E	79. D	102. D
8. E	33. A	58. B	80. E	103. B
9. B	34. D	59. E		104. B
10. E	35. C	60. D	81. A	105. D
			82. E	
11. E	36. B	61. A	83. D	106. E
12. C	37. A	62. B	84. A	107. A
13. E	38. D	63. C	85. B	108. E
14. D	39. D	64. E		109. D
15. E	40. C	65. D	86. A	110. A
			87. E	
16. B	41. B	66. E	88. A	111. E
17. D	42. A	67. B	89. B	112. C
18. A	43. E	68. C	90. C	113. B
19. C	44. A	69. A		114. D
20. E	45. B	70. E	91. E	115. B
			92. D	
21. B	46. A	71. B	93. C	116. A
22. D	47. B	72. A	94. A	117. E
23. C	48. C		95. D	118. D
24. A	49. B			119. C
25. D	50. C			120. E