

A

T.C. ADALET BAKANLIĞI
İCRA MÜDÜR VE İCRA MÜDÜR YARDIMCILARINI
SEÇME SINAVI
GENEL YETENEK VE GENEL KÜLTÜR TESTİ
ALAN BİLGİSİ TESTİ
7 KASIM 2010

ADI :
SOYADI :
T.C. KİMLİK NUMARASI :
SALON NUMARASI :

GENEL AÇIKLAMA

1. Bu kitapçıkta Genel Yetenek ve Genel Kültür Testi ile Alan Bilgisi Testi bulunmaktadır. Bu iki test için verilen toplam cevaplama süresi **120 dakikadır (2 saat)**.
Bu testlerin başladığı sayfalar şöyledir:

Genel Yetenek ve Genel Kültür Testi	1
Alan Bilgisi Testi	11
 2. Bu sınavda A ve B olmak üzere iki tür soru kitapçığı vardır.
 3. Bu soru kitapçığının türü **A**'dır. Bunu cevap kâğıdınızdaki ilgili alana kodlayınız. Salon görevlileri tarafından paraflanması sağlanacaktır.
 4. Cevaplamaya istediğiniz sorudan başlayabilirsiniz.
 5. Test kitapçığındaki her sorunun yalnızca bir doğru cevabı vardır. Bir soru için birden çok cevap yeri işaretlenmişse o soru yanlış cevaplanmış sayılacaktır.
 6. Bu kitapçıkta soruların cevapları, kitapçıkla birlikte verilen cevap kâğıdında ayrılmış olan yerlere, kurşun kalemle işaretlenecektir. Cevap kâğıdı buruşturulmayacak, üzerine gereksiz hiçbir işaret konulmayacaktır.
 7. Bu sınavın değerlendirilmesi doğru cevap sayısı üzerinden yapılacak, yanlış cevaplar dikkate alınmayacaktır. Bu nedenle, her soruda size en doğru görünen cevabı işaretleyerek cevapsız soru bırakmamanız yararınıza olabilir.
- Sınavda uyulacak diğer kurallar bu kitapçığın arka kapağında belirtilmiştir.

Bu testlerin her hakkı saklıdır. Hangi amaçla olursa olsun, testlerin tamamının veya bir kısmının Merkezimizin yazılı izni olmadan kopya edilmesi, fotoğrafının çekilmesi, herhangi bir yolla çoğaltılması, yayımlanması ya da kullanılması yasaktır. Bu yasağa uymayanlar gerekli cezai sorumluluğu ve testlerin hazırlanmasındaki mali külfeti peşinen kabullenmiş sayılır.

GENEL YETENEK VE GENEL KÜLTÜR TESTİ

2010 - İcra Md. ve Md. Yrd.

1. Biz üstlendiğimiz sorumlulukları yerine getirebilmek için birbirine sıkı sıkıya bağlanmış üç kişiyiz, tıpkı en az üç elementten oluşan bir bileşik gibi... (I) Her birimiz, kendi karakterimizden bir şeyler katarak birbirimizi bütünlüyoruz. (II) Gerekirse bir konu üzerinde uzun uzun tartışıyor ve birbirimizi anlamaya çalışıyoruz. (III) En küçük bir kuşku duyduğumuzda başa dönüp yaptıklarımızı tekrar incelemekten kaçınmıyoruz. (IV) Ortak bir karara varmak için elimizden geleni yapıyoruz. (V) Kısacası, kimsenin zihninde yaptıklarımızla ilgili bir soru işareti kalsın istemiyoruz.

Bu parçadaki numaralanmış cümlelerden hangisi altı çizili sözü açıklar niteliktedir?

- A) I. B) II. C) III. D) IV. E) V.

2. Aşağıdaki cümlelerin hangisinde hem olumlu hem de olumsuz eleştiri söz konusudur?

- A) Yapıtlarında, günlük olayları birebir yansıtmaları onun yaratıcılığını sınırlıyor.
B) Tümüyle soyut şiire yönelmesi, okurlarının sayısını azaltıyor.
C) Her kesimden insana seslenebilmek için yapıtlarında yerel söyleyişlere de yer veriyor.
D) Şiirlerindeki söyleyiş güzelliği, içeriksel sıradanlığı gizliyor.
E) Hep belirli konuları işlemesi, eleştirilmesine neden oluyor.

3. Yapıtlarında gizemli sorular sorarak okurunu yarı aydınlık bir ortamda bırakır yani ----.

Bu cümle düşüncenin akışına göre aşağıdakilerden hangisiyle tamamlanabilir?

- A) bu özelliği herkesçe beğenilen bir yazar olmasını sağlar
B) okurunun bilgi evrenini zenginleştirmeyi amaçlar
C) yapıtlarını anlaşılır kılmayı okurlarına bırakır
D) yapıtlarını birbiriyle bağdaşmayan ögeler üstüne temellendirir
E) okurlardan nitelikli yapıtları okumalarını bekler

4. Davranışları ölçülü (I) konuşmaları tutuk (II) bir şairdi. Konuşmalarındaki tutukluk şiirinin dokusuna sinmişti. Bu tutukluğu (III) kesik kesik soluk alışı şiirlerini okurken duyumsarsınız. Eğer kendinizi şiire kaptırırsanız hiç farkına varmadan (IV) siz de soluklanarak okur (V) şairin neleri duyumsatmak istediğini sezersiniz.

Bu parçadaki numaralanmış yerlerin hangilerinde virgül (,) kullanılması yanlış olur?

- A) I. ve II. B) I. ve III. C) II. ve IV.
D) III. ve V. E) IV. ve V.

5. (I) Gelecek yıl bizim yirminci sanat yılımız olacak. (II) Özel konserler, konuklar ve gösterilerle değişik kentlerde bunu kutlamayı planlıyoruz. (III) Geçen yıl toplam yirmi beş konser verdik. (IV) Ondan sonra da kısa bir ara vermek istiyoruz. (V) Son albümümüz üzerine çalışırken fazlasıyla yorulduk. (VI) Çünkü elimizde çok fazla şarkı vardı, bunları seçmek ve düzenlemek için çok uğraştık.

Bu parçadaki numaralanmış cümlelerin hangisi düşüncenin akışını bozmaktadır?

- A) II. B) III. C) IV. D) V. E) VI.

6. İtalya'nın Kimini kentinin hemen güneyinde, Titano Tepesi üzerinde kurulu olan San Marino, Avrupa'nın en eski cumhuriyetidir. Ülke, Avrupa'nın en eski anayasası olan 1600 tarihli bir anayasaya sahiptir. Yürütme görevini iki yüzbaşı üstlenmiştir. Her altı ayda bir yapılan seçimlerle bu yüzbaşılar değişmektedir. Yüzbaşı seçimleri Büyük Konsey'de gerçekleşir. Büyük Konsey'in altmış üyesi beş yıl için serbest seçimlerle iş başına gelmektedir. Dünyada, yürütme erkinin bu sıklıkla değiştirildiği bir başka ülke yoktur. Küçük bir ülke olan San Marino, dokuz yerel idari bölgeye ayrılmıştır. Her bölgenin kendi yerel konseyi vardır. Birçok araştırmacıya göre bu ülke, gerçek demokrasinin uygulandığı tek yerdir.

Bu parçanın anlatımıyla ilgili olarak aşağıda verilenlerden hangisi yanlıştır?

- A) Karşılaştırma yapılmıştır.
B) Yoruma yer verilmiştir.
C) Sayısal veriler kullanılmıştır.
D) Terimlere yer verilmiştir.
E) Tanımlara yer verilmiştir.

Diğer sayfaya geçiniz.

7. Belki birileri söylediklerimi beğenmeyecek hatta beni suçlayan yazılar yazacaktır. Ama ben yine de düşüncemi söyleyeceğim: Emekleme döneminden geçmeyen sanatçının başarılı olması zordur, kısaca söylemek gerekirse ----.

Bu parçanın sonuna düşüncenin akışına göre aşağıdakilerden hangisi getirilmelidir?

- A) ne istediğini bilmeyen sanatçılar amaçlarına ulaşamazlar
B) sanatçı olabilmek birçok kişinin hayalidir
C) yeteneksiz kişi sanatçı olamaz
D) çirak olmadan usta bir sanatçı olunamaz
E) sanatçı, hayallerin peşinden koşan kişidir

8. O, kendine özgü bir turist rehberiydi. Turistleri yalnızca bilgilendirmekle yetinmezdi. Örneğin olanaklar yaratarak yabancı turistleri tarlada pamuk çapalayan kadınlarla tanıştıdır, bir köy düğününe konuk eder, bir köylü evinde ağırlar, bir köy okulundaki eğitim-öğretim ortamına sokardı. Onlara antik tiyatroların olanaklarından yararlanarak Türk şiirinden seçtiği örnekleri hem Türkçe hem İngilizce hem de Fransızca okuyarak turistlere bir yandan Türkçenin müzikli ses düzenini, bir yandan da Türk şairlerinin imge dünyasını göstermeye çalışması da bir başka yönüydü. Onun bu tutumundan etkilenen kimi turistler, "Bizi bilgilendirdin, teşekkür ederiz." diyerek ülkelerine dönerlerdi.

Bu parçada sözü edilen turist rehberinin tutumunu en iyi özetleyen açıklama aşağıdakilerden hangisidir?

- A) Anlattıklarını, göstererek pekiştirmeye çalışma
B) Tanıttığı yerleri çok iyi bilme
C) Yabancı turistleri, Anadolu insanıyla tanıştırmak isteme
D) Turistlerde bir daha gelme isteği uyandırma
E) Aranan bir rehber olmak için uğraşma

9. O belki de edebiyat dünyasının en sıra dışı ama son yıllarda yarattığı etki bakımından hiç tartışılmayan yazarı. Okura öyle senaryolar sunuyor ki kimin haklı kimin haksız, neyin doğru neyin yanlış olduğunu ararken bakış açıları arasında kayboluyorsunuz. Onu farklı kılan bir başka özellik ise yapıtlarını kaleme alışı. Aynı olayı, farklı kahramanların pencerelerinden izletiyor bize. Adalet, gençlik, sağlık ve daha birçok evrensel ve toplumsal konuyu en derinlere inerek yansıtıyor.

Bu parçada sözü edilen sanatçıyla ilgili olarak aşağıdakilerin hangisine değinilmemiştir?

- A) Alışılmışın dışında bir sanatçı olduğuna
B) Yapıtlarını, okurları heyecanlandıracak olay örğüsüne yaslandığına
C) Olanları, yapıtında yarattığı kişilerin gözünden anlattığına
D) Yapıtlarıyla önemli ölçüde ilgi uyandırdığına
E) İnsanlığı ilgilendiren kavramlara ayrıntılarıyla değindiğine

10. Fizikte ısı alışverişi yasası vardır. Sıcak suyun içine soğuk bir metali attığınızda su soğumaya, metal de ısınmaya başlar. Bu alışveriş, her ikisinin de sıcaklığı aynı dereceye gelene dek sürer. Kentlerle kasabalar arasında da benzer bir alışveriş var. Kentler hızla büyük kasabalara dönüşürken kasabalar da çarpık bir yapılaşmayla büyük kentlerin küçük birer kötü kopyası oldu. Büyük kentlere iç göç, bu süreci hızlandıran etkenlerden biri.

Bu parçayla ilgili olarak aşağıdakilerden hangisi söylenemez?

- A) Bilimsel bir kavramın bir örnekle somutlaştırıldığı
B) Kentlerle kasabalar arasında benzer yönler olduğu
C) Yerleşimlerdeki hızlı değişimin toplumu rahatsız ettiği
D) Yerleşim alanlarındaki göçün kötü sonuçlar doğurduğu
E) Kentler ve kasabalar arasındaki etkileşimin kaçınılmaz olduğu

Diğer sayfaya geçiniz.

11.

$$\frac{(-8)(-2)}{-7+(-3)-(-6)}$$

işleminin sonucu kaçtır?

- A) -4 B) -3 C) 2 D) 3 E) 4

12.

$$\frac{a-3b}{3a-b} = \frac{3}{2}$$

olduğuna göre, $\frac{b}{a}$ oranı kaçtır?

- A)
- $\frac{4}{3}$
- B)
- $\frac{7}{3}$
- C)
- $\frac{-4}{3}$
-
- D)
- $\frac{-7}{3}$
- E)
- $\frac{-10}{3}$

13.

$$6^{x+2} = 2^{x+4}$$

olduğuna göre, 3^{x+2} nin değeri kaçtır?

- A) 3 B) 4 C) 6 D) 8 E) 9

14.

$$x - y = 1$$

$$x + y = \sqrt{3}$$

olduğuna göre, $x^2 - y^2 + 2x - 2y$ ifadesinin değeri kaçtır?

- A)
- $\sqrt{3} - 2$
- B)
- $\sqrt{3} - 1$
- C)
- $\sqrt{3}$
-
- D)
- $\sqrt{3} + 1$
- E)
- $\sqrt{3} + 2$

15. x, y ve z pozitif tam sayılar olmak üzere,

$$x - z > 5$$

$$z - y = 8$$

olduğuna göre, $x + y + z$ toplamı en az kaçtır?

- A) 25 B) 24 C) 23 D) 22 E) 21

Diğer sayfaya geçiniz.

16.

$$\frac{x}{4} - \frac{y}{3} = 0$$

$$2x + 3y = 34$$

olduğuna göre, $x + y$ toplamı kaçtır?

- A) 10 B) 11 C) 12 D) 13 E) 14

17.

$$\frac{x}{x-1} + \frac{x}{\frac{1}{x}-1}$$

ifadesinin sadeleştirilmiş biçimi aşağıdakilerden hangisidir?

- A) $x-1$ B) $x+1$ C) $-x$
D) x E) $\frac{1}{x}$

18. Bir gruptaki 12 kişiden 5'inin yaş ortalaması 9, diğerlerinin yaş ortalaması ise 21'dir.

Buna göre grubun yaş ortalaması kaçtır?

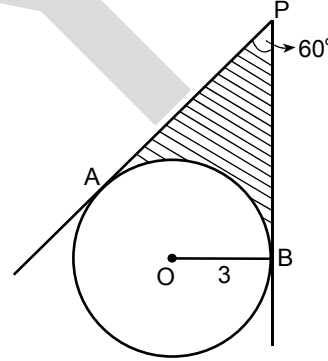
- A) 13 B) 14 C) 16 D) 18 E) 19

19. Aynı verimlilikte çalışan 12 işçi bir işi 10 günde yapıyor.

Bu işçilerden 4'ü işe başladıktan 4 gün sonra ayrılırsa diğerleri kalan işi kaç günde bitirir?

- A) 6 B) 7 C) 8 D) 9 E) 10

20.



O noktası çemberin merkezi

PA ve PB çembere teğet

$$m(\widehat{APB}) = 60^\circ$$

$$|OB| = 3 \text{ cm}$$

Yukarıdaki verilere göre taralı bölgenin alanı kaç cm^2 dir?

- A) $6\sqrt{3} - \pi$ B) $6\sqrt{3} - 3\pi$
C) $9\sqrt{3} - 2\pi$ D) $9\sqrt{3} - 3\pi$
E) $12\sqrt{3} - 4\pi$

Diğer sayfaya geçiniz.

21. Aşağıdakilerden hangisi, Mondros Ateşkes Anlaşması sonrası Anadolu'da görülen gelişmelerden biri değildir?

- A) Ulusal cemiyetlerin kurulması
- B) Temsilciler Kurulunun oluşturulması
- C) Kanunuesasi'nin ilan edilmesi
- D) İstanbul'un resmen işgal edilmesi
- E) Misakımillî'nin ilan edilmesi

22. Ülkenin bölünmezliğini vurgulamak için, ulusal sınırların saptanmasında, Mondros Ateşkes Anlaşması'nın imzalandığı gün Türk ordusunun elinde bulunan çizginin esas alınması,

- I. Erzurum,
- II. Sivas,
- III. Balıkesir

kongrelerinin hangilerinde benimsenmiştir?

- A) Yalnız I
- B) Yalnız II
- C) Yalnız III
- D) I ve II
- E) II ve III

23.

- I. Anzavur
- II. Demirci Mehmet Efe
- III. Kuvayi İnzibatiye
- IV. Çerkez Ethem
- V. Millî Aşireti

Kurtuluş Savaşı sırasında görülen Millî Mücadele'ye karşı yukarıdaki hareketlerden hangileri İstanbul Hükûmeti tarafından çıkarılmıştır?

- A) I ve III
- B) II ve IV
- C) III ve V
- D) I, III ve V
- E) II, IV ve V

24. Kurtuluş Savaşı'nda,

- I. Doğu,
- II. Güney,
- III. Batı

cephelerinin hangilerinde, TBMM'ye bağlı düzenli birliklerin büyük katkısı olmadan halk kuvvetleriyle mücadele sürdürülmüştür?

- A) Yalnız I
- B) Yalnız II
- C) Yalnız III
- D) I ve II
- E) II ve III

25.

- I. Mudanya Ateşkes Anlaşması
- II. Londra Konferansı
- III. Lozan Antlaşması

Yukarıdakilerin hangilerinde Anlaşma Devletleri Ankara ve İstanbul Hükûmetlerini birlikte çağırarak aralarında ikilik yaratmak ve bundan faydalanmak istemiştir?

- A) Yalnız I
- B) Yalnız II
- C) Yalnız III
- D) I ve III
- E) II ve III

Diğer sayfaya geçiniz.

26. Aşağıdakilerden hangisi, Lozan Konferansı'nda tartışılan konulardan biri değildir?

- A) Musul B) İran sınırı
C) Azınlıklar D) Kapitülasyonlar
E) Boğazlar

27.

- I. 1923'te hükümetin oluşturulmasında kabine sistemine geçilmesi
II. Mecliste çeşitli grupların oluşması
III. 1921 Anayasası'na göre seçimlerin iki yılda bir yapılması

Yukarıdakilerden hangilerinin inkıpların Meclisten hızla geçmesini sağladığı savunulabilir?

- A) Yalnız I B) Yalnız II C) Yalnız III
D) I ve II E) II ve III

28. Öğretim Birliği Yasası'nın (Tevhid-i Tedrisat) çıkarılmasıyla,

- I. okulların Millî Eğitim Bakanlığının denetimi altına alınması,
II. ulusal eğitim programının hazırlanmasına olanak sağlanması,
III. öğretimin birleştirilerek ikiliğin ortadan kaldırılması

durumlarından hangileri sağlanmıştır?

- A) Yalnız I B) Yalnız II C) Yalnız III
D) I ve II E) I, II ve III

29. Atatürk'ün inkılap hareketlerini dogma olmaktan çıkararak, onu yaşayan, geleceğin yeni oluşumları, gelişmeleri, değişimleri karşısında sürekli kılan ilke aşağıdakilerden hangisidir?

- A) Laiklik B) Devletçilik
C) İnkılapçılık D) Cumhuriyetçilik
E) Milliyetçilik

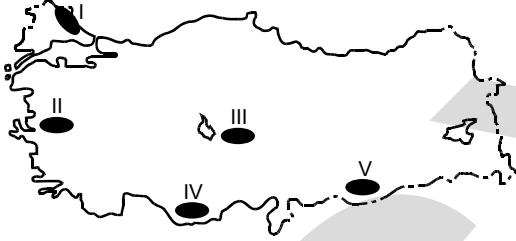
30. Aşağıdaki devletlerden hangisi Balkan Antantına üye olmamıştır?

- A) Türkiye B) Bulgaristan C) Romanya
D) Yugoslavya E) Yunanistan

31. Karadeniz Bölgesi'nin doğusundan, Akdeniz Bölgesi'nin doğusuna doğru kıyı boyunca giden bir kişi, aşağıdakilerin hangisinde verilen iki merkez arasında "Dikkat! Heyelan Tehlikesi" uyarısına daha sık rastlar?

- A) Alanya – Silifke B) Gölcük – Gemlik
C) Ereğli – Akçakoca D) Kuşadası – Bodrum
E) Hopa – Akçaabat

32.



Yukarıdaki haritada numaralarla gösterilen taralı alanların iklim koşulları göz önüne alındığında hangisinin doğal bitki örtüsü içinde ormanlar daha geniş yer tutar?

- A) I B) II C) III D) IV E) V

33. Türkiye'de yıllık ortalama yağış tutarının fazla olduğu kesimlerde nüfus yoğunluğu da genellikle fazladır.

Aşağıda verilen illerin hangisi bu genellemeye uymaz?

- A) Ordu B) İzmir C) Trabzon
D) Muğla E) İçel

34. Kırsal yerleşmelerde sürdürülen ekonomik etkinliklerden bazıları büyükbaş hayvancılık, yaylacılık, ormancılık, balıkçılık ve arıcılıktır.

Coğrafi özellikleri göz önüne alındığında, aşağıdaki illerden hangisinin kırsal kesiminde, bu ekonomik etkinliklerin tümünün daha yaygın olarak görülmesi beklenir?

- A) Rize B) Van C) Gaziantep
D) Antalya E) Edirne

35.

- I. Çarşamba Ovası
II. Haymana Platosu
III. Gediz Ovası
IV. Erzurum-Kars Platosu

Yukarıdaki yerlerin, yetiştirilebilecek tarım ürünü en çeşitli olandan daha az çeşitli olana doğru sıralanışı aşağıdakilerden hangisidir?

- A) I, III, II, IV B) I, III, IV, II
C) III, I, II, IV D) III, II, I, IV
E) IV, II, I, III

36. Türkiye’de meyvecilikle uğraşan bir çiftçi, uyguladığı yöntemlerle ertesi yıl ağaç başına düşen meyve miktarının arttığını görmüştür.

Aşağıdakilerden hangisi, bu çiftçinin uyguladığı yöntemlerden biri olamaz?

- A) Gerektiği dönemlerde yeterli sulama yapmıştır.
B) Hasadı makinelerle yapmıştır.
C) Toprağın gerek duyduğu türde gübre kullanmıştır.
D) Zararlı türüne uygun ilaçlama yapmıştır.
E) Ağaçları aşılamiştir.

37. Marmara Bölgesi’nin aşağıdaki illerinden hangisinin hem tarım hem de endüstri bölgesi olarak diğerlerinden **daha çok** geliştiği söylenebilir?

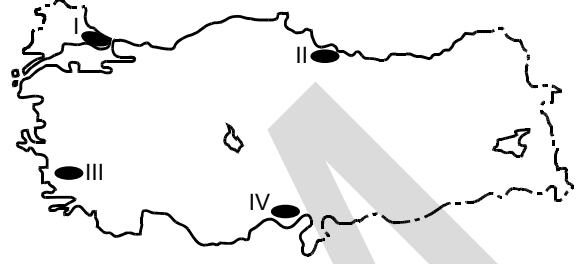
- A) Bursa B) Çanakkale C) Tekirdağ
D) Bilecik E) Kocaeli

38. Bölge sınıflandırmaları farklı ölçütler göz önünde bulundurulurken yapılabilir. Örneğin, ekonomik etkinliğe göre yapılacak bir bölge sınıflandırmasında Çarşamba ve çevresi tarım, Alanya ve çevresi turizm, Gebze ve çevresi endüstri bölgesi içerisinde yer alır.

Buna göre, enerji kaynaklarının türüne göre yapılacak bir bölge sınıflandırmasında aşağıdakilerden hangisi diğerlerinden farklı bir bölgede yer alır?

- A) Afşin-Elbistan ve çevresi
B) Soma ve çevresi
C) Çayırhan ve çevresi
D) Kozlu ve çevresi
E) Yatağan ve çevresi

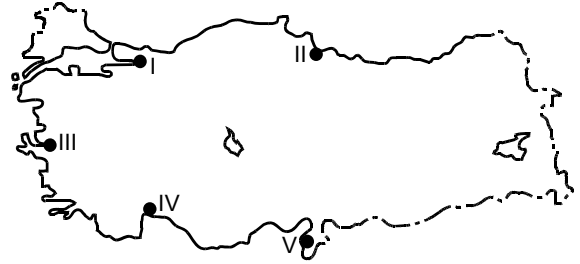
39. Endüstrinin kurulabilmesi için gerekli olan koşullardan bazıları ham maddeye yakınlık, ucuz iş gücü ve pazarlama olanaklarıdır.



Buna göre, yukarıdaki haritada numaralarla gösterilen yerlerin hangilerinde kurulacak pamuklu dokuma endüstrisi, bu koşulların üçünü de sağlar?

- A) I ve II B) I ve III C) II ve III
D) II ve IV E) III ve IV

40. Türkiye’de çeşitli endüstri kuruluşlarının bulunduğu kıyı kentlerinde, endüstriyel atıklar denizlerin kirlenmesine yol açmaktadır.



Buna göre, yukarıdaki haritada numaralarla gösterilen yerlerin hangilerinde, bu tip kirliliğin **daha fazla olması beklenir?**

- A) I ve II B) I ve III C) II ve III
D) III ve IV E) IV ve V

Diğer sayfaya geçiniz.

41. 1982 Anayasası'na göre kanun tasarılarını aşağıdakilerden hangisi TBMM'ye sunar?

- A) Milletvekilleri
B) Siyasi parti grupları
C) Bakanlar Kurulu
D) Cumhurbaşkanı
E) Başbakan

42. 1982 Anayasası'na göre, seçimlerin başlamasından bitimine kadar seçim konuları ile ilgili itirazları kesin karara bağlama yetkisi aşağıdakilerden hangisine aittir?

- A) Anayasa Mahkemesi
B) Yüksek Seçim Kurulu
C) Danıştay
D) Bakanlar Kurulu
E) TBMM

43. 1982 Anayasası'na göre, Bakanlar Kuruluna kanun hükmünde kararname çıkarma yetkisini aşağıdakilerden hangisi verebilir?

- A) TBMM
B) TBMM İçişleri Komisyonu
C) Cumhurbaşkanı
D) Millî Güvenlik Kurulu
E) Anayasa Mahkemesi

44. 1982 Anayasası'na göre, meclis soruşturması önergesi verme yetkisi aşağıdakilerden hangisine aittir?

- A) Cumhurbaşkanı
B) Başbakan
C) Meclis Başkanı
D) TBMM üye tam sayısının en az onda biri
E) Genelkurmay Başkanı

45. 1982 Anayasası'na göre, genel seçimlerden önce aşağıdaki bakanlardan hangileri çekilir?

- A) İçişleri, Sağlık ve Adalet bakanları
B) Adalet, Millî Savunma ve Ulaştırma bakanları
C) Ulaştırma, Millî Eğitim ve Sağlık bakanları
D) Ulaştırma, İçişleri ve Adalet bakanları
E) Devlet bakanları

46. 1982 Anayasası'na göre, aşağıdakilerden hangisi "davaya bakmakta olan mahkeme" olarak bir kanunu Anayasa Mahkemesine götürebilir?

- A) Ankara 10. İdare Mahkemesi
B) İl İnsan Hakları Kurulu
C) İl İdare Kurulu
D) Sayıştay
E) Yüksek Seçim Kurulu

Diğer sayfaya geçiniz.

47. 1982 Anayasası'na göre, toplantı ve gösteri yürüyüşü düzenleme hakkı ile ilgili aşağıdaki ifadelerden hangisi yanlıştır?

- A) Herkes, yetkili makamdan izin aldığı takdirde toplantı ve gösteri yürüyüşü düzenleme hakkına sahiptir.
- B) Toplantı ve gösteri yürüyüşü silahlı ve saldırısız olmalıdır.
- C) Toplantı ve gösteri yürüyüşü genel sağlığın ve genel ahlâkın korunması amacıyla sınırlandırılabilir.
- D) Toplantı ve gösteri yürüyüşü başkalarının hak ve özgürlüklerinin korunması amacıyla sınırlandırılabilir.
- E) Toplantı ve gösteri yürüyüşü düzenleme hakkının kullanılmasında uygulanacak şekil, şart ve usuller kanunla düzenlenir.

48.

- I. Silah altındaki er ve erbaşlar
- II. Yükseköğrenim öncesi öğrenciler
- III. Yükseköğrenim öğrencileri
- IV. Ceza infaz kurumunda bulunan, kasten işlenmiş bir suçtan dolayı tutuklu bulunanlar
- V. Ceza infaz kurumunda bulunan, kasten işlenmiş bir suçtan dolayı hüküm giymiş olan hükümlüler

Yukarıdakilerden hangileri 1982 Anayasası'na göre oy kullanamazlar?

- A) Yalnız II
- B) Yalnız III
- C) I ve V
- D) I, III ve V
- E) I, II, III, IV ve V

49. 1982 Anayasası'na göre, aşağıdakilerden hangisi bir siyasi partinin tüzüğünün, programının veya eylemlerinin aykırı olamayacağı hususlar arasında yer almaz?

- A) Devletin ülkesi ve milleti ile bölünmez bütünlüğü
- B) İnsan hakları
- C) Eşitlik
- D) Hukuk Devleti
- E) Sosyal Devlet

50. 1982 Anayasası'na göre, aşağıdakilerden hangisi Cumhuriyetin niteliklerinden biri değildir?

- A) Laik Devlet
- B) Sosyal Devlet
- C) Hukuk Devleti
- D) Teokratik Devlet
- E) Demokratik Devlet

**GENEL YETENEK VE GENEL KÜLTÜR
TESTİ BİTTİ.**

ALAN BİLGİSİ TESTİNE GEÇİNİZ.

ALAN BİLGİSİ TESTİ

2010 - İcra Md. ve Md. Yrd.

51. Kıymetli evrakın özellikleriyle ilgili aşağıdaki ifadelerden hangisi doğrudur?

- A) Sadece tacirler kıymetli evrak düzenleyebilir.
- B) Hakkın ileri sürülebilmesi için senedin ibrazı zorunludur.
- C) Değeri parayla ölçülemeyen haklar da kıymetli evraka bağlanabilir.
- D) Ödeme hileli ya da ağır kusurlu olsa bile borçlu borcundan kurtulur.
- E) Senette temsil edilen hak senetten ayrı olarak devredilebilir.

52. Senedi devralan kişinin, senedi kendisine devreden kişinin yetkili olduğuna ve senetten anlaşılan hakkın var olduğuna ilişkin inancının korunduğu, senedin üçüncü kişilerde yarattığı görünüşün temel alındığı kıymetli evraka ne ad verilir?

- A) İllî senet
- B) İhbarî senet
- C) Kamu itimadına mazhar senet
- D) Teşhis senedi
- E) İbraz senedi

53. Poliçenin ön yüzüne, muhatap ya da keşideci dışında bir kişi tarafından atılmış imzanın yanında herhangi bir açıklama yer almıyorsa hukuki açıdan aşağıdakilerden hangisi söz konusu olur?

- A) Retret
- B) Protesto
- C) Beyaz ciro
- D) Keşideci lehine verilmiş aval
- E) Hamil lehine verilmiş aval

54. Hukuki niteliği mücerret borç ikrarı olan kambiyo senedi aşağıdakilerden hangisidir?

- A) Poliçe
- B) Bono
- C) Çek
- D) Emre yazılı havale
- E) Garanti çeki

55. Bononun düzenlenmesiyle ilgili aşağıdaki ifadelerden hangisi doğrudur?

- A) Bonolar şarta bağlı olarak düzenlenebilir.
- B) Görüldüğünde ödenecek vadeli bonolara faiz şartı konabilir.
- C) Bonoda meblağ, yabancı para cinsi üzerinden gösterilemez.
- D) Lehtarın adı gösterilmemişse bono hamile yazılı kabul edilir.
- E) Vade gösterilmemişse senet bono olarak geçerli olmaz.

56. Vadesi 11 Temmuz 2008 Pazartesi günü olan bir bononun ödenmek üzere keşideciye ibrazıyla ilgili aşağıdaki ifadelerden hangisi doğrudur?

- A) Bono, 12 Temmuz 2008 Salı günü ibraz edilirse müracaat hakkı düşer.
- B) Bono, 13 Temmuz 2008 Çarşamba günü ibraz edilirse protesto süresi 14 Temmuz 2008 Perşembe günü mesai saati bitimine kadar uzar.
- C) Bono, 11 Temmuz 2008 Pazartesi günü ibraz edilmiş ve 13 Temmuz 2008 Çarşamba günü protesto çekilmişse 11 Temmuz 2008 günü yapılan ciro, gecikmiş ciro hükmündedir.
- D) Bono, 13 Temmuz 2008 Çarşamba günü ibraz edilir ve aynı gün protesto çekilirse müracaat hakkı korunmuş olur.
- E) Bono, 8 Temmuz 2008 Cuma günü ibraz edilirse bu geçerli bir ibraz sayılır.

Diğer sayfaya geçiniz.

57. Senedin ön yüzüne mailen enine doğru "Hesaba geçirilecektir." kaydını ihtiva eden mahsup çekiyle ilgili aşağıdaki ifadelerden hangisi yanlıştır?

- A) "Hesaba geçirilecektir." kaydının elle yazılması şart değildir.
- B) "Hesaba geçirilecektir." kaydının imzalanması ve hatta konulduğu tarihin gösterilmesi de gerekmez.
- C) "Hesaba geçirilecektir." kaydının çizilmesi hükümsüzdür.
- D) Muhatabın iflas ettiğini mahkeme kararı ile ispat eden hamil, mahsup çekinin kendisine nakden ödenmesini talep edebilir.
- E) Mahsup çeki muhatap tarafından takas suretiyle kayden ödenemez.

58. Hamile yazılı çekle ilgili aşağıdaki ifadelerden hangisi yanlıştır?

- A) Hamile yazılı çek üzerine konan ciro şerhinin hakkın devri yönünden herhangi bir fonksiyonu yoktur.
- B) Hamile yazılı çek üzerine konan ciro şerhinin hak sahibinin teşhisi yönünden herhangi bir fonksiyonu yoktur.
- C) Hamile yazılı çek üzerine konan ciro şerhinin, imzalayanın sorumluluğuna sebebiyet vereceğinden garanti fonksiyonu vardır.
- D) Hamile yazılı çeki ciro eden şahıs, senedin ödenmemesinden dolayı sorumlu olmayacağını şerh verebilir.
- E) Hamile yazılı çeki ciro eden şahıs, ciro şerhinde ciro yasağı kaydı koyabilir.

59. Kambiyo senetleriyle ilgili aşağıdaki ifadelerden hangisi doğrudur?

- A) Kambiyo senetleri kanunen nama yazılı senetlerdir.
- B) Kambiyo senedi kavramına sadece bono ve çek dâhildir.
- C) Kambiyo senetlerine aynı nitelikte haklar konu edilebilir.
- D) Kambiyo senetlerinde şekle sıkı sıkıya bağlılık ilkesi geçerlidir.
- E) Senetteki imzalardan biri geçersizse diğer imzaların sahipleri de sorumluluktan kurtulur.

60. Keşideci K, lehtar L lehine emre yazılı bir bono düzenlemiştir. Lehtar L de senedi, ciro ve teslim yoluyla hamil H'ye devretmiştir. Bononun vadesi geldiğinde hamil H, ödemesi için senedi keşideci K'ye ibraz etmiştir.

Buna göre keşideci K, hamil H'ye aşağıdakilerden hangisini ileri sürerek senet bedelini ödemekten kaçınabilir?

- A) Kendi imzasının sahte olduğunu
- B) Lehtar L'nin ehliyetsiz olduğunu
- C) Hamil H'nin lehtar L'ye borçlu olduğunu
- D) Bu senedi hatır senedi olarak düzenlemiş olduğunu
- E) Lehtar L'nin kendisine satmış olduğu malların ayıplı olduğunu

61. Kendisine icra emri gönderilen borçlu, takip konusu ilamın icra emrinin tebliğinden önceki bir dönemde zaman aşımına uğradığı iddiasında ise icra emrinin kendisine tebliğinden itibaren **en çok kaç gün içinde icranın geri bırakılmasını isteyebilir?**

- A) 7 B) 8 C) 10 D) 15 E) 20

62. Aşağıdakilerin hangisinde gerçek kişi borçlu kendi iflasını istemek zorundadır?

- A) Ödemeleri kesintiye uğramışsa
B) Aciz hâlinde bulunuyorsa
C) Ödemelerini tatil etmişse
D) Kendisine gönderilen icra emrine rağmen borcunu ödememişse
E) Yapılan haciz yoluyla takip sonucunda malvarlığının aktiflerinin yarısı elinden çıkmış, kalan diğer yarısı da muaccel ve vadesi 1 yıl içinde gelecek olan diğer borçlarını ödemeye yetmiyorsa

63. A, B'ye karşı açtığı 10.000 TL'lik alacak davasını kazanmıştır. Bunun üzerine B, 10.000 TL'yi A'ya ödemmiştir. Alacağını almış olmasına rağmen A, B aleyhine ilamlı icra takibine başlamıştır.

Buna göre icra emrini alan borçlu, ilamın icrasını durdurabilmek için aşağıdaki yollardan hangisine başvurabilir?

- A) İcra mahkemesinden icranın geri bırakılmasını isteyebilir.
B) Genel mahkemelerde sebepsiz zenginleşme davası açabilir.
C) Yargıtaydan icranın durdurulması kararı alabilir.
D) İcra dairesinden icra takibinin iptalini isteyebilir.
E) İcra mahkemesinden icra emrinin iptalini isteyebilir.

64. İcra ve İflas Kanunu'na göre, kambiyo senetlerine mahsus haciz yoluyla takipte, takip talebini alan icra dairesi kural olarak aşağıdakilerden hangisini **incelemez?**

- A) Kambiyo senedinin vadesinin gelmiş olup olmadığını
B) Senedin kambiyo senedi niteliğinde olup olmadığını
C) Kambiyo senedine bağlanmış alacağın zaman aşımına uğrayıp uğramadığını
D) Alacaklının kambiyo senetlerine özgü yolla takip yapma yetkisinin bulunup bulunmadığını
E) Kambiyo senedinin aslının takip talebine eklenip eklenmediğini

65. Hacizde kesin aciz belgesiyle ilgili aşağıdaki ifadelerden hangisi **yanlıştır?**

- A) Kesin aciz belgesine bağlanmış alacak, borçluya karşı aciz belgesinin düzenlenmesinden itibaren 20 yıl geçmesiyle zaman aşımına uğrar.
B) Alacaklı kesin aciz belgesini aldığı tarihten itibaren 2 yıl içinde borçluya karşı takip yaparsa borçluya yeniden ödeme emri tebliğ edilmesine gerek yoktur.
C) Kesin aciz belgesindeki alacak miktarı için kural olarak faiz istenemez.
D) Kesin aciz belgesi, itirazın kesin kaldırılmasını sağlayıcı nitelikte bir belgedir.
E) Kesin aciz belgesi, alacaklıya İcra ve İflas Kanunu hükümlerine göre iptal davası açabilme hakkını verir.

66. İcra ve İflas Kanunu'nun Tatbikatına Dair Nizamname'ye göre, iflas kararının iflas dairesine bildirilmesinden sonra müflis namına gelen telgraf-lar ne olur?

- A) Noter emanetine verilir.
- B) Müflise verilir.
- C) Yedimeine tevdi olunur.
- D) Müflise verilmeyerek iflas masası emrine hazır bulundurulur.
- E) İflas dairesinin bağlı bulunduğu icra mahkemesi hâkimine teslim edilir.

67. Alacaklı A, borçlu B aleyhine genel haciz yolu ile takip başlatmıştır. B'nin bu takipte kendisine gönderilen ödeme emrine itiraz etmesi üzerine A itirazın kaldırılmasını talep etmiştir.

İcra ve İflas Kanunu'nun Tatbikatına Dair Nizamname'ye göre, takibin yürütüldüğü icra dairesi için dosyası ile ilgili olarak aşağıdakilerden hangisini yapmalıdır?

- A) İşin dosyasını hemen ait olduğu icra mahkemesine göndermelidir.
- B) İşin dosyasını işlemden kaldırmalıdır.
- C) İşin dosyasını icra dairesinin mahzenine kaldırmalıdır.
- D) İtirazın kaldırılması hakkında karar verilinceye kadar dosyayı elinde tutmalıdır.
- E) Gerekli harçları ve takip masraflarını tahsil ederek işin dosyasını alacaklıya vermelidir.

68. İcra ve İflas Kanunu'nun Tatbikatına Dair Nizamname'ye göre, iflas basit tasfiye suretiyle sonuçlandıktan sonra müflisin iflas dairesinde alınmayan defter ve vesikaları kaç yıl sonra imha edilebilir?

- A) 1
- B) 2
- C) 5
- D) 8
- E) 10

69. İcra ve İflas Kanunu'nun Tatbikatına Dair Nizamname'ye göre, müflisin alacak ve hakları dâhil olduğu hâlde mevcudunu ve kefalet de dâhil olmak üzere bütün borçlarını gösterir kayıt ve vesikalara müstenit olarak düzenlenen belge aşağıdakilerden hangisidir?

- A) Gelir-gider belgesi
- B) Bilanço
- C) Mevcudat belgesi
- D) Envanter
- E) Alacak-borç listesi

70. İcra ve İflas Kanunu'nun Tatbikatına Dair Nizamname'ye göre, müflisin taşınır ve taşınmaz bütün mallarını ve takdir edilen kıymetlerini gösterir surette düzenlenen defter aşağıdakilerden hangisidir?

- A) Mevcudat defteri
- B) Envanter defteri
- C) Yevmiye defteri
- D) Muhabere defteri
- E) Defterikebir

71. İcra ve İflas Kanunu Yönetmeliği'ne göre, icra mahkemelerine havale yoluyla gelen paralar aşağıdaki defterlerden hangisine kaydedilir?

- A) Muhabere defterine B) Zimmet defterine
C) Ceza infaz defterine D) Esas defterine
E) Posta mutemet defterine

72. İcra ve İflas Kanunu Yönetmeliği'ne göre, aşağıdakilerden hangisi icra mahkemelerinde tutulması zorunlu defterlerden biri değildir?

- A) Kasa ve yol giderleri ve tazminat kayıt defteri
B) Duruşma günleri defteri
C) Disiplin soruşturması defteri
D) Ceza infaz defteri
E) Muhabere defteri

73. İcra ve İflas Kanunu Yönetmeliği'ne göre, hak sahipleri tarafından icra ve iflas dairelerine başvurulup alınmayan paralar kaç yıl sonra Hazineye intikal eder?

- A) 10 B) 7 C) 5 D) 3 E) 1

74. İcra ve İflas Kanunu Yönetmeliği'ne göre, icra mahkemelerinden mahkemelere, muhtelif daire ve mercilere gönderilecek evrakın kaydedildiği defter aşağıdakilerden hangisidir?

- A) Muhabere defteri B) Posta mutemet defteri
C) Zimmet defteri D) Esas defteri
E) Değişik işler defteri

75. İcra ve İflas Kanunu Yönetmeliği'ne göre, icra ve iflas dairelerinde tutulan defterlerle ilgili aşağıdaki ifadelerden hangisi yanlıştır?

- A) İşler ve işlemler, defterlere işlem sütunları takip edilerek tarih sırası ile yazılır.
B) Defterlerin her sayfasına kullanılmadan önce sıra ile numara verilir ve sayfaların birleştiği yerin üst kısmına daireye ait mühür basılır.
C) Bir defter dolmadan yenisine geçilmez.
D) Defterler mavi veya siyah mürekkepli kalemle tutulur.
E) İcra ve iflas müdürü, defterin son sayfasına defterin kaç sayfadan ibaret olduğunu yazı ile belirterek altını imzalar ve mühür ile onaylar.

76. Damga Vergisi Kanunu'na göre, belli parayı ihtiva eden sözleşmelerin devri hâlinde alınacak damga vergisi miktarı aşağıdakilerden hangisidir?

- A) Aslından alınan verginin beşte biri
B) Aslından alınan verginin dörtte biri
C) Aslından alınan verginin üçte biri
D) Aslından alınan verginin yarısı
E) Aslından alınan verginin dörtte üçü

77. Harçlar Kanunu'na göre, hukuk mahkemesinde açılmış bir davadan ilk celsede feragat edilmesi durumunda alınacak karar ve ilam harcı aşağıdakilerden hangisidir?

- A) Alınması gereken karar ve ilam harcının dörtte biri
- B) Alınması gereken karar ve ilam harcının üçte biri
- C) Alınması gereken karar ve ilam harcının üçte ikisi
- D) Alınması gereken karar ve ilam harcının yarısı
- E) Alınması gereken karar ve ilam harcının tamamı

78. Harçlar Kanunu'na göre, taşınmazın tahliyesine ilişkin davalarda karar ve ilam harcının hesabında esas alınacak değer aşağıdakilerden hangisidir?

- A) Tahliyesi talep edilen taşınmazın 1 yıllık kira bedeli
- B) Tahliyesi talep edilen taşınmazın davanın açıldığı tarihteki değeri
- C) Taşınmazın rayiç bedeli
- D) Tahliyesi talep edilen taşınmazın, davanın kesin hükümle sona erdiği andaki değeri
- E) Tahliyesi talep edilen taşınmazın 6 aylık rayiç kira bedeli

79. Damga vergisini ödeme şekillerinin hangi işlemler için, ne suretle uygulanacağını tespitte aşağıdakilerden hangisi yetkilidir?

- A) Verginin ödeneceği vergi dairesi
- B) Hazine Müsteşarlığı
- C) Maliye Bakanlığı
- D) TBMM
- E) Başbakanlık

80. Damga Vergisi Kanunu'na göre, bir yabancı ülkeden bir başka yabancı ülke üzerine düzenlenip Türkiye'de tedavüle çıkarılan kâğıtlar hangi oranda damga vergisine tabidir?

- A) 1/2 oranında
- B) 1/3 oranında
- C) 1/4 oranında
- D) 2/3 oranında
- E) 2/5 oranında

81. Tebliğ adresine tebligat için gidildiğinde muhatap o adreste oturmasına rağmen o sırada adreste bulunmamıştır. Tebliğ memuru, bu hâlde yapılması gereken kanuni işlemleri yaparak tebligatı usulüne uygun bir biçimde gerçekleştirmiştir.

Bu durumda tebligat hangi tarihte yapılmış sayılır?

- A) Muhatabın ihbarname konusunda bilgi sahibi olduğu tarihte
- B) Tebliğ evrakının düzenlendiği tarihte
- C) Tebliğ evrakının mahalle muhtarına teslim edildiği tarihte
- D) İhbarnamenin tebligat adresinde, kapıya yapıştırıldığı tarihte
- E) Tebliğ evrakının mahalle muhtarı tarafından muhataba verildiği tarihte

Diğer sayfaya geçiniz.

82. Kendisine daha önce, Ankara 3. Asliye Hukuk Mahkemesinden usulüne uygun bir biçimde tebligat yapılan muhatap, daha sonra adresini değiştirmiş ve yeni adresini Mahkemeye bildirmemiştir. Yeni adres tebliğ memurunca tespit edilemediği gibi ilgililer tarafından da adrese ilişkin hiçbir bilgi Mahkemeye ulaşmamıştır.

Tebligat Kanunu'na göre, daha sonra Mahkemece usulüne uygun bir biçimde gerçekleştirilen tebligat hangi tarihte yapılmış sayılır?

- A) Tebliğ evrakının Mahkeme divanhanesine asılma tarihi
- B) Tebliğ evrakının eski adrese ait binanın kapısına asılma tarihi
- C) Tebliğ evrakının eski adrese ait binanın kapısına asıldığı tarihten 7 gün sonra
- D) Tebliğ evrakının Mahkeme divanhanesine asılma tarihinden 7 gün sonra
- E) Eski adresteki muhtarlığa teslim tarihi

83. Tebligat Kanunu'na göre, ilan edilen tebligatta tebliğ, kural olarak son ilan tarihinden itibaren kaç gün sonra yapılmış sayılır?

- A) 7
- B) 8
- C) 15
- D) 20
- E) 30

84.

- I. Birden fazla avukatla takip edilen işlerde, tebligat işi takip eden avukatların hepsine yapılmışsa bunlardan ilkinde yapılan tebligat tarihi asıl tebligat tarihi sayılır.
- II. Avukatla takip edilen işlerde, işe ilişkin tüm tebligatlar hem avukata hem de asıla (müvekkile) yapılır.
- III. Avukatla takip edilen işlerde, tebligat için avukatın bürosuna gelindiğinde avukat bürosunda değilse tebligat avukatın yanında çalışan sekreterine yapılabilir.

Avukat aracılığı ile takip edilen işlerde tebligatla ilgili yukarıdaki ifadelerden hangileri yanlıştır?

- A) Yalnız I
- B) Yalnız II
- C) I ve III
- D) II ve III
- E) I, II ve III

85.

- I. Muhatapla birlikte oturan hizmetçisi
- II. Muhatapın yan dairesinde oturan annesi
- III. Muhatapın evinde misafir olarak bulunan kız kardeşi

Yukarıdakilerden hangileri, muhatapın tebligatın yapılacağı sırada tebligat adresinde bulunmaması durumunda onun adına tebligatı kabule kanunen yetkili olan kişilerdir?

- A) Yalnız I
- B) Yalnız III
- C) I ve III
- D) II ve III
- E) I, II ve III

Diğer sayfaya geçiniz.

86. Tebliğ adresine tebligat için gidildiğinde muhatabın bu adresten taşındığı öğrenilmiş ancak muhatabın yeni adresi tebligat memuru tarafından tespit edilerek durum tebliğ mazbatasına yazılmıştır. Bu adres, tebligat memurunun dağıtım bölgesi sınırları dışındadır.

Tebligat Tüzüğü'ne göre, tebligat memurunun aşağıdakilerden hangisini yapması gerekir?

- A) Tebliğ evrakını muhtara vermesi
- B) Yeni adreste tebligatı yapması
- C) Tebliğ evrakını tebliği çıkaran mercie iade etmesi
- D) Tebliğ evrakını dağıtım merkezine iade etmesi
- E) Tebliğ evrakını en yakın polis karakoluna teslim etmesi

88. Tebligat Tüzüğü'ndeki düzenlemelere göre, tebligatın yapılma zamanı ile ilgili aşağıdaki ifadelerden hangisi **yanlıştır**?

- A) Ancak mesai saatleri içinde tebligat yapılabilir.
- B) Resmî tatil günlerinde tebligat yapılabilir.
- C) Adli tatil günlerinde tebligat yapılabilir.
- D) Gece vakti tebligat yapılabilir.
- E) Pazar günü tebligat yapılabilir.

89. Tebligat Tüzüğü'ne göre, tebellüğden imtina hâlinde tebliğ evrakının teslim edileceği kişiler kendilerine teslim edilen evrakı, kural olarak **en fazla** ne kadar süre saklamakla mükelleftir?

- A) 7 gün
- B) 15 gün
- C) 2 ay
- D) 3 ay
- E) 6 ay

87. Tebligat Tüzüğü'ne göre, aşağıdakilerden hangisi ilan tebligatında ilan ihtiva edeceği kayıtlardan biri **değildir**?

- A) İlgililerin ad ve soyadları
- B) İlgililerin ikametgâh, mesken veya iş yerleri
- C) İlgililerin T.C. Kimlik Numaraları
- D) Tebliğin anlaşılabilir şekilde konusu ve nedeni
- E) İlanın hangi merciden verildiği

90. Tebligat Tüzüğü'ne göre, yabancı ülkelere gönderilecek olan ve belirli günü içeren tebliğ evrakının, tebliği çıkaran merci tarafından belirli günden **asgari** kaç ay önce ilgili bakanlığa gönderilmesi gerekir?

- A) 1
- B) 2
- C) 3
- D) 5
- E) 6

91. Aşağıdaki davaların hangisinde mahkemenin yetkisi kesin yetki değildir?

- A) Taşınmaz üzerindeki ipoteğin kaldırılması davasında
- B) Taşınmaza ilişkin taksim ve şüyuun giderilmesi davasında
- C) Taşınmaza ilişkin yolsuz tescilin silinmesi ve düzeltilmesi davasında
- D) İflas davasında
- E) Taşınmazın satış bedelinin ödenmesi için açılan davada

92. Aşağıdakilerden hangisi hâkimin reddi talebinin, reddedilen hâkim veya hâkimin mensup olduğu mahkeme tarafından kabul edilmeyerek geri çevrilmesi sebeplerinden biri değildir?

- A) Ret sebebi yazılı delile dayanmıyorsa
- B) Ret talebi zamanında yapılmamışsa
- C) Ret sebebi gösterilmemişse
- D) Ret sebebine ilişkin inandırıcı delil gösterilmemişse
- E) Ret talebinin davayı uzatmak amacıyla yapıldığı açıkça anlaşılıyorsa

93. Aşağıdaki işlemlerden hangisi, davaya vekâlette özel yetki verilmesini gerektiren işlemler arasında yer almaz?

- A) Davayı kabul etmek
- B) Temyize başvurmak
- C) Hâkimin reddi isteminde bulunmak
- D) Hâkimler hakkında tazminat davası açmak
- E) Hükmolunan şeyi kabzetmek

94. Bir hükmün belirsiz olması veya birbirine aykırı fıkraları içermesi hâlinde hükümdeki gerçek anlamın ortaya çıkarılması amacıyla başvuru yol aşağıdakilerden hangisidir?

- A) İstiktap
- B) İsticvap
- C) Tavzih
- D) Temhir
- E) İstinabe

95. Medeni hukuktaki fiil ehliyetinin, medeni usul hukukundaki karşılığını aşağıdakilerden hangisi oluşturur?

- A) Dava ehliyeti
- B) Davayı takip yetkisi
- C) Taraf ehliyeti
- D) Dava arkadaşlığı
- E) Davaya vekâlet ehliyeti

96. Hukuk ve Ticaret Mahkemelerinin Yazı İşleri Yönetmeliği'ne göre, mahkemelerden belli bir hususun sorulması için yazılan tezkerelerin, elden takip amacıyla iş sahiplerine verilmesi kural olarak aşağıdakilerden hangisine bağlıdır?

- A) İşin ticari iş olmasına
- B) Kalem şefinin iznine
- C) İşin acele olmasına
- D) İş sahibinin avukat olmasına
- E) Hâkimin iznine

Diğer sayfaya geçiniz.

97. Hukuk ve Ticaret Mahkemelerinin Yazı İşleri Yönetmeliği'ne göre, yazı bilmeyen bir iş sahibinin isteminin işleme konulabilmesi için öncelikle aşağıdakilerden hangisinin yapılması gerekir?

- A) Bu kişinin hüviyeti tespit edildikten sonra isteminin altına sol elinin başparmağının bastırılması
- B) İstemin altına bu kişinin mührünün vurulması
- C) Bu kişinin hüviyeti tespit edildikten sonra isteminin altına sağ elinin işaret parmağının bastırılması
- D) Bu kişinin akrabalarından birinin istemin altını imzalaması
- E) Bu kişinin hüviyeti tespit edildikten sonra isteminin altına sağ elinin başparmağının bastırılması

98. Hukuk ve Ticaret Mahkemelerinin Yazı İşleri Yönetmeliği'ne göre, dava nedeniyle ödenmesi gereken harç ve masraflara karşılık olmak üzere avans olarak yatırılmak istenen paranın miktarını kim belirler?

- A) Hâkim
- B) Kalem şefi
- C) Mübaşir
- D) Parayı yatıracak olan kişi
- E) Çıkaracağı bir tarifeyle Türkiye Barolar Birliği

99. Hukuk ve Ticaret Mahkemelerinin Yazı İşleri Yönetmeliği'ne göre, mahkemelerden belli bir hususun sorulması için yazılan tezkerenin, elden takip amacıyla iş sahibine verilmesi durumunda iş sahibinin imzası aşağıdakilerden hangisine alınır?

- A) Zimmet defterine
- B) Esas defterine
- C) Herhangi bir tutanağa
- D) Mubahere defterine
- E) Değişik işler ve istinabe defterine

100. Hukuk ve Ticaret Mahkemelerinin Yazı İşleri Yönetmeliği'ne göre, vezne teşkilatı olmayan yerlerde, bir işlemin yapılması için ödenmesi gerekli harç ve masrafları almakla görevli olan aşağıdakilerden hangisidir?

- A) Hâkim
- B) Mübaşir
- C) Tutanak yazıcıları
- D) Adalet Bakanlığının belirleyeceği bir banka
- E) Yazı işleri müdürü veya yazı işleri müdür yardımcısı

TEST BİTTİ.

CEVAPLARINIZI KONTROL EDİNİZ.

SINAVDA UYULACAK KURALLAR

- 1. 2010-İcra** Sınava Giriş ve Kimlik Belgesinin aslı olmadan sınava girilmesi yasaktır. Bu belgenin fotokopisi veya faksı ile de sınava girilemeyecektir. Bu şekilde sınava giren adayların sınavı iptal edilecektir.
 - 2. Cep telefonu ile sınava girmek kesinlikle yasaktır.** Çağrı cihazı, telsiz, fotoğraf makinesi vb. araçlarla; cep bilgisayar, saat her türlü bilgisayar özelliği bulunan cihazlarla; silah ve benzeri teçhizatla; müsvedde kâğıdı, defter, kitap, sözlük, sözlük işlevi olan elektronik aygıt, hesap cetveli, hesap makinesi, pergel, açölçer, cetvel vb. araçlarla da sınava girmek kesinlikle yasaktır. Bu araçlarla sınava girmiş adaylar mutlaka Salon Sınav Tutanağına yazılacak, bu adayların sınavı geçersiz sayılacaktır. **Sınava kalem, silgi, kalemıraş, saat vb. araçla girmek yasaktır. Kulaklık, küpe, broş vb. takı, herhangi bir metal eşya ile girmek de kesinlikle yasaktır. Yiyecek, içecek, su vb. tüketim malzemeleri de sınava getirilemez.**
 3. Bu sınavda verilen toplam cevaplama süresi **120 dakikadır**. Sınav başladıktan sonra **ilk 90 ve son 15** dakika içinde adayın sınavdan çıkmasına kesinlikle izin verilmeyecektir.
 - 4. Sınav evrakını teslim ederek salonu terk eden aday, her ne sebeple olursa olsun tekrar sınava alınmayacaktır.**
 5. Cevaplamayı süre bitmeden tamamlarsanız, cevap kâğıdınızı ve soru kitapçığınızı salon görevlilerine teslim ederek salonu terk edebilirsiniz. Sınav süresinin bittiği ilan edildiğinde cevap kâğıtları ve soru kitapçıkları salon görevlileri tarafından toplanıncaya kadar yerlerinizde kalınız.
 6. Sınav süresince görevlilerle konuşmak, görevlilere soru sormak yasaktır. Aynı şekilde görevlilerin de adaylarla yakından ve alçak sesle konuşmaları; ayrıca, adayların birbirinden kalem, silgi vb. şeyleri istemeleri kesinlikle yasaktır.
 7. Sınav sırasında, görevlilerin her türlü uyarılarına uymak zorundasınız. Sınavınızın geçerli sayılması, her şeyden önce sınav kurallarına uymanıza bağlıdır. Kurallara aykırı davranışta bulunanların ve yapılacak uyarılara uymayanların kimlik bilgileri tutanağa yazılacak ve sınavları geçersiz sayılacaktır.
 8. Sınav sırasında kopya çeken, çekmeye kalkışan, kopya veren, kopya çekilmesine yardım edenlerin kimlik bilgileri Salon Sınav Tutanağına yazılacak ve bu adayların sınavları geçersiz sayılacaktır. Görevliler kopya çekmeye veya vermeye kalkışanları uymak zorunda değildir, sorumluluk size aittir.
- Adayların test sorularına verdikleri cevapların dağılımları bilgi işlem yöntemleriyle incelenecek; bu incelemelerden elde edilen bulgular bireysel veya toplu olarak kopya çekildiğini gösterirse, kopya eylemine katılan adayın/adayların cevaplarının bir kısmı veya tamamı iptal edilecektir. Cevap kâğıdınızı başkaları tarafından görülmeyecek şekilde tutmanız gerekmektedir.
- Sınav görevlileri bir salondaki sınavın, kurallara uygun biçimde yapılmadığını, toplu kopya girişiminde bulunulduğunu raporlarında bildirdiği takdirde, ÖSYM takdir hakkını kullanarak bu salonda sınava giren tüm adayların sınavını geçersiz sayabilir.
9. Cevap kâğıdına yazılacak her türlü yazıda ve yapılacak bütün işaretlemelerde kurşun kalem kullanılacaktır. Sınav süresi bittiğinde cevapların cevap kâğıdına işaretlenmiş olması gerekir. Soru kitapçığına işaretlenen cevaplar geçerli değildir.
 10. Soru kitapçığınızı alırsınız, sayfaların eksik olup olmadığını, kitapçıkta basım hatalarının bulunup bulunmadığını kontrol ediniz. Soru kitapçığının sayfası eksik veya basım hatalı ise değiştirilmesi için derhâl Salon Başkanına başvurunuz. Soru kitapçığının üzerindeki açıklamaları dikkatle okumadan cevaplama işlemine geçmeyiniz.
 11. Cevaplamaya geçmeden önce size verilecek soru kitapçığının üzerinde ayrılan yere adınızı, soyadınızı, T.C. Kimlik Numaranızı ve bu salonun Salon Numarasını yazınız. Sınav sonunda soru kitapçıkları toplanacak ve ÖSYM'de tek tek incelenecektir. Soru kitapçığının bir sayfası bile eksik çıkarsa sınavınız geçersiz sayılacaktır. Cevap kâğıdına ve soru kitapçığına yazılması ve işaretlenmesi gereken bilgilerde bir eksiklik ve/veya yanlışlık olması hâlinde sınavınızın değerlendirilmesi mümkün olamamaktadır. Tarafınızdan yazılması ve işaretlenmesi gereken bu bilgilerde eksiklik ve/veya yanlışlık olması hâlinde durumunuz Salon Sınav Tutanağında belirtilecektir.
 12. Soru kitapçığının sayfalarındaki boş yerleri müsvedde için kullanabilirsiniz.
 13. Soruları ve/veya bu sorulara verdiğiniz cevapları ayrı bir kâğıda yazıp bu kâğıdı dışarı çıkarmanız kesinlikle yasaktır.
 14. Sınav salonundan ayrılmadan önce, soru kitapçığınızı, cevap kâğıdınızı, **2010-İcra** Sınava Giriş ve Kimlik Belgenizi salon görevlilerine teslim etmeyi unutmayınız.
 15. Sınav sonuçları 30 gün içinde T.C. Adalet Bakanlığına gönderilecek, ayrıca adresinize de postalanacaktır.

T.C. ADALET BAKANLIĞI
İCRA MÜDÜR VE İCRA MÜDÜR YARDIMCILARINI SEÇME SINAVI

07 KASIM 2010

GENEL YETENEK VE GENEL KÜLTÜR TESTİ – ALAN BİLGİSİ TESTİ

A KİTAPÇIĞI

- | | | | |
|-------|-------|-------|--------|
| 1. A | 26. B | 51. B | 76. B |
| 2. D | 27. A | 52. C | 77. B |
| 3. C | 28. E | 53. D | 78. A |
| 4. C | 29. C | 54. B | 79. C |
| 5. B | 30. B | 55. B | 80. A |
| 6. E | 31. E | 56. D | 81. D |
| 7. D | 32. A | 57. E | 82. B |
| 8. A | 33. D | 58. E | 83. A |
| 9. B | 34. A | 59. D | 84. B |
| 10. C | 35. C | 60. A | 85. A |
| 11. A | 36. B | 61. A | 86. D |
| 12. D | 37. A | 62. E | 87. C |
| 13. B | 38. D | 63. A | 88. A |
| 14. E | 39. E | 64. C | 89. D |
| 15. A | 40. B | 65. B | 90. C |
| 16. E | 41. C | 66. D | 91. E |
| 17. C | 42. B | 67. A | 92. A |
| 18. C | 43. A | 68. E | 93. B |
| 19. D | 44. D | 69. B | 94. C |
| 20. D | 45. D | 70. A | 95. A |
| 21. C | 46. A | 71. E | 96. E |
| 22. D | 47. A | 72. A | 97. A |
| 23. A | 48. C | 73. A | 98. D |
| 24. B | 49. E | 74. C | 99. A |
| 25. E | 50. D | 75. E | 100. E |