



2012-ÖZÜRLÜ MEMUR SEÇME SINAVI (ÖMSS)  
ÖN LİSANS

İŞİTME-1

29 NİSAN 2012 PAZAR

T.C. KİMLİK NUMARASI	:	
ADI	:	
SOYADI	:	

**Soru kitapçık numarasının cevap kâğıdına yazılmamasının veya yanlış yazılmasının sorumluluğu adaya aittir.**

SORU KİTAPÇIK  
NUMARASI :

**TEMEL SORU  
KİTAPÇIĞI**

Bu numarayı cevap kâğıdınızdaki ilgili alana yazmayı unutmayınız.

**DİKKAT! SINAV BAŞLAMADAN ÖNCE AŞAĞIDAKİ UYARILARI MUTLAKA OKUYUNUZ.**

1. T.C. Kimlik Numaranızı, Adınızı, Soyadınızı Soru Kitapçığı üzerindeki ilgili alanlara yazınız.
2. Soru Kitapçık Numaranız yukarıda verilmiştir. Bu numarayı cevap kâğıdınızdaki ilgili alana yazınız ve aşağıdaki ilgili alanı imzalayınız. Salon görevlisinin de hem soru kitapçığındaki hem de cevap kâğıdınızdaki ilgili alanı kontrol etmesini sağlayınız.
3. Bu sayfanın arkasında yer alan açıklamayı dikkatle okuyunuz.

**Adayın imzası:**

Soru kitapçık numarasını doğru yazdım.

**Salon görevlisinin imzası:**

Adayın soru kitapçık numarasını cevap kâğıdına doğru yazdığını onaylıyorum.

## AÇIKLAMA

1. Bu kitapçıkta **Genel Yetenek Testi** ve **Genel Kültür Testi** bulunmaktadır.
2. Bu kitapçıkta iki test toplam 60 sorudan oluşmaktadır.
3. Bu kitapçıkta testlerde yer alan her sorunun sadece bir doğru cevabı vardır. Bir soru için birden çok cevap yeri işaretlenmişse o soru yanlış cevaplanmış sayılacaktır.
4. İşaretlediğiniz bir cevabı değiştirmek istediğinizde, silme işlemini çok iyi yapmanız gerektiğini unutmayınız.
5. **Bu testler puanlanırken doğru cevaplarınızın sayısından yanlış cevaplarınızın sayısının dörtte biri düşülecek ve kalan sayı ham puanınız olacaktır.** Bu nedenle, hakkında hiçbir fikriniz olmayan soruları boş bırakınız. Ancak, soruda verilen seçeneklerden birkaçını eleyebiliyorsanız kalanlar arasında doğru cevabı kestirmeye çalışmanız yararınıza olabilir.
6. Cevaplamaya istediğiniz sorudan başlayabilirsiniz. Bir soru ile ilgili cevabınızı, cevap kâğıdında o soru için ayrılmış olan yere işaretlemeyi unutmayınız.
7. Sınavda uyulacak diğer kurallar bu kitapçığın arka kapağında belirtilmiştir.

Bu test 30 sorudan oluşmaktadır.

1. Türkçe öğretmeni yazılı kâğıtlarıyla sınıfa girdi. Sınıftakiler yerlerine oturdu. Herkes heyecanla öğretmene döndü, ona bakmaya başladı. Selma'nın korkudan ----.

**Bu parçanın sonuna aşağıdakilerden hangisi getirilmelidir?**

- A) tepesi attı  
B) ağzı kulaklarındaydı  
C) dilinde tüy bitti  
D) içi içine sığmadı  
E) yüreği ağzına geldi

2. **Aşağıdakilerden hangisi bir tanım cümlesidir?**

- A) Girişimciliğin, toplumsal gelişimi sağlayan değişik yönleri vardır.  
B) Girişimciler, yaşamı kolaylaştıran yenilikleri insanlığın hizmetine sunan kişilerdir.  
C) Girişimciliği besleyen etkenlerden en önemlisi bireyin kişilik özellikleridir.  
D) Ülkemizde her alanda girişimcilere olan ihtiyaç artmaktadır.  
E) Girişimcilik, ekonomideki hareketler üzerine temellenir.

3. (I) Gezi meraklılarının oluşturduğu bu grubun geleneksel yıllık sergisi Ankara'da açılıyor. (II) Belediyenin sanat merkezinde açılacak sergide 88 gezginin 149 fotoğrafı yer alacak. (III) Sergi 4 Aralık'a kadar gezilebilir. (IV) Gezginler arasında iletişim kurmayı hedefleyen grubun, farklı ülkelerden 500 üyesi bulunuyor. (V) Grup üyeleri altı yıldır fotoğraflarını toplu sergilerle kamuoyuna sunuyor.

**Bu parçadaki numaralanmış cümlelerle ilgili olarak aşağıda verilenlerden hangisi yanlıştır?**

- A) I. cümlede, grubun üyeleriyle ilgili bilgi veriliyor.  
B) II. cümlede, sergilenecek yapıtlar sayısal verilere bağlanarak yansıtılıyor.  
C) III. cümlede, serginin kaç gün açık kalacağı üzerinde duruluyor.  
D) IV. cümlede, grubun amacıyla ilgili bilgi veriliyor.  
E) V. cümlede, serginin bir özelliği açıklanıyor.

4. Türkiye'nin bereketli topraklarının büyük bir bölümü Çukurova'da yer alıyor.

Bu cümledeki altı çizili sözcük, adın önüne gelerek onun bir özelliğini belirtmiştir.

**Aşağıdaki cümlelerin hangisinde böyle bir kullanım vardır?**

- A) Teyzemin yaptığı elmalı kurabiyeleri hiç unutamadım.  
B) Dayımlarla Karadeniz Bölgesi'ni gezdik.  
C) Çocukluğum boyunca dedemle aynı evde yaşadık.  
D) Sınavdan çıktığımda oldukça rahatlamıştım.  
E) Yolculuk sırasında yanımdaki hep uyudu.

5. Türkçe sözcüklerde sert sessizlerle p, ç, t, k biten bir sözcükten sonra ünlü ile başlayan bir ek geldiğinde bu sesler yumuşar ve b, c, d, g, ğ'ye dönüşür.

**Aşağıdaki cümlelerin hangisindeki altı çizili sözcük bu açıklamayı örneklendirir?**

- A) Astronotlar uzayda yalnızca birkaç gün kalabilirler.
- B) Astronotlar uzaydayken yaptıkları her iş için farklı bir giysi giyerler.
- C) Uzayda giyilen giysiler zararlı Güneş ışınlarından koruyucu niteliktedir.
- D) Astronotlar uzaya hazır yiyecekler götürürler.
- E) Uzay aracının penceresinden dışarı bakmak astronotları çok eğlendirir.

6. **Aşağıdaki cümlelerden hangisinin yüklemi, kökü bakımından ötekilerden farklıdır?**

- A) Arkadaşının hediye ettiği kitabı bulamayınca üzül-müştü.
- B) Bahçıvan bahçedeki ağaçları hortumla sulamıştı.
- C) Kaza anını hayalinde canlandırmaya çalışmıştı.
- D) Öğrenciler ikinci dersten sonra evlerine gitmişlerdi.
- E) İşlerin bu kadar yavaş ilerlemesine şaşır-mıştı.

7. **Aşağıdaki cümlelerin hangisinde, altı çizili sözün yazımı yanlıştır?**

- A) Bu konu da onun yardımcı olmasını bekliyordum.
- B) Bugünkü toplantıya da gideceğimi söyledim.
- C) Toplantıya öğretmenlerin de katılacağını duyurmuştu.
- D) İşe gelirken gazete ve dergi almayı da unutmuş.
- E) Sen de çok başarılı bir öğrenci olacaksın.

8. Genç insanların en belirleyici özelliği (I) çevresindeki-lerce beğenilme tutkusudur. Bu tutku (II) değişik biçim-lerde kendini gösterir (III) Toplumsal düzenin işleyişine başkaldırma (IV) olağanüstü serüvenler yaşamaya özenme (V) yaşlılarla çatışma gibi.

**Bu parçadaki numaralanmış yerlerden hangisine ötekilerden farklı bir noktalama işareti konulmalıdır?**

- A) I. B) II. C) III. D) IV. E) V.

9. (I) "Şövalye"nin sözcük anlamı, atlı savaşçıdır. (II) Şö-valyeler, Avrupa'da ortaya çıkmıştı. (III) Onlar zırh gi-yen, savaşçı bir insanlardı. (IV) Köylü ve çiftçileri koru-yorlardı. (V) Köylüler de şövalyelerin gereksinimlerini karşılıyordu.

**Bu parçadaki numaralanmış cümlelerin hangisinde bir anlatım bozukluğu vardır?**

- A) I. B) II. C) III. D) IV. E) V.

10. (I) Motorlu taşıtlardan çıkan egzoz gazları doğanın yok olmasına yol açıyor. (II) Bu gazlar o çevrede yaşayan insanları zehirliyor. (III) Benzindeki kurşun alaşım-ları, egzoz gazlarından küçük parçacıklar hâlinde çıkarak solunum yoluyla ciğerlerimizi etkiliyor; toprağa, yiyecek-lerimize karışıyor. (IV) İki milyon kişinin yaşadığı İzmir'de, körfez gittikçe daha da kirleniyor. (V) İnsanlarda çe-şitli öldürücü hastalıklara yol açan egzoz gazları, bitki-lerde de önemli yıkıma neden oluyor.

**Bu parçadaki numaralanmış cümlelerden hangisi düşüncenin akışını bozmaktadır?**

- A) I. B) II. C) III. D) IV. E) V.

11. "Ne soğuktan ne de düşmandan korkarım. Benim korkum, birliğe ve aşka sırt çevirenler yüzündendir." Âdeta böyle düşünerek uçar, kara kışı yenmeye çalışan sığırcık. Bu zorlu sınavın en önemli kuralı, birliğin bozulmasıdır. Bunun için sığırcıklar kış boyunca birlikte uçar, beslenir, uyur ve uyanır. Birbirine kenetlenen sürü, daha önce provası hiç yapılmamış bir dansı tam bir ahenk içinde sergiler. Bu da düşmanları olan yırtıcı kuşları caydırmak için yeter de artar bile. Böylelikle sığırcıklar, nesillerini devam ettirecek bahara ulaşır.

**Bu parçada sözü edilen sığırcıkların hangi özelliği vurgulanmak istenmiştir?**

- A) Fiziksel yönden öteki kuşlardan farklı olma
- B) Dayanışma içinde olma
- C) Düşmanlarına korku salma
- D) Uçma biçimlerini koşullara göre değiştirme
- E) Yuvalarını korunaklı yerlere yapma

12. Minibüs, yaygın kullanımıyla "dolmuş"; tren, otobüs gibi kalkış saati belli, hayatın akışını kısıtlayan bir toplu taşıma aracı değildir. Gidip oturursunuz bir güzel, dolunca hemen kalkiverir. Herkes istediği yerde iner, istediği yerden biner. Kentin ritmini en iyi yansıtan taşıttır bençe. Paranın verilışı, üstünün müşteriye geri dönüşü ortaklaşa bir eylemdir. Bu anlamda dolmuşlar, toplumsal etkileşimin olduğu bir toplumsal alan olarak değerlendirilebilir.

**Bu parçadan dolmuşlarla ilgili olarak aşağıdakilerin hangisi çıkarılabilir?**

- A) Günlük yaşamın koşuşturmalarına uygun bir araçtır.
- B) Ucuzluğu, tercih edilmesini sağlar.
- C) Oturma yerleri açısından farklı türde olanları vardır.
- D) Çalıştıkları semtler, büyüklüklerine göre değişir.
- E) Farklı müzikler dinlenebilir.

13. Tropik ormanların güzelliği, bitki çeşitliliği beni büyüledi. Daha önce rastlamadığım pek çok çiçeği, ağacı burada gördüm. Çukur yapraklarında yağmur suyu tutan, kurak dönemlerde yolcuların su içtiği "yolcu ağacı"nı tanımak için bile onca yolu gitmeye değerdi. Gerçekliğine inanmakta zorlanacağım kadar güzel renklerde zarif kuşlar gördüm. Köylerdeki ilkel yaşam da çok çarpıcıydı. Deniz kenarında yaşamak, ormandan yararlanmak, balık yemek, Papua'daki yerlileri daha sakin insanlar hâline getirmiş.

**Bu parçada anlatılan bölgeyle ilgili olarak aşağıdakilerden hangisine değinilmemiştir?**

- A) Görünüm yönünden etkileyici olduğuna
- B) Öteki yerlerden değişik nitelikler taşıdığına
- C) Oradaki canlıların birçok belgesele konu olduğuna
- D) Doğa özelliklerinin, yaşayanlara farklı bir özellik kazandırdığına
- E) Kimi yerleşim yerlerinin gelişimin gerisinde kaldığına

14. İnsanın sütle ilişkisi doğumla başlayıp yaşam boyu sürer. Yetişme çağına süt, besleyici özelliğiyle beden gelişimi açısından büyük önem taşır. Ayrıca süt, doğadaki işlemeye en uygun malzemelerden biri olarak girer mutfaklara. Süt, sadece ev ve lokanta mutfaklarının değil, aynı zamanda endüstriyel mutfakların da vazgeçilmez ham maddesidir. Sütten yoğurt ve peynir elde etme aynı zamanda onu uzun süre saklamanın bir yoludur. Sadece tereyağı ve kaymak dahi sütün öneminin tartışılmazlığını ortaya koymak için yeterlidir.

**Bu parçadan sütle ilgili olarak aşağıdakilerin hangisine ulaşılmaz?**

- A) Gerektiği kadar tüketme, büyüüp boy atmayı sağlar.
- B) Kullanım alanı oldukça geniş olan değerli bir besindir.
- C) Yararlanmanın bir yolu da ondan yeni ürünler elde etmektir.
- D) Kullanımı süreklilik gösterir.
- E) Çeşitli tatlıların yapımında kullanılan önemli bir malzemedir.

15. Araştırmacılar, televizyon karşısında uzun saatler geçirmenin çocukların yaşamını nasıl etkilediğini inceledi. Çocukların bir gün boyunca yaptıkları etkinlikleri izlediler. Televizyon karşısında geçirdikleri zamanı, ev ödevi yaparken ve arkadaşlarıyla oynarken geçirdikleri zamanla karşılaştırdılar. Televizyon karşısında geçirilen zamanın, çocukların aileleriyle iletişimine zarar verdiğini ortaya çıkardılar. Bunlardan yola çıkarak çocukların iki saatten fazla televizyon izlememeleri gerektiğini söylediler.

**Bu parçada aşağıdakilerin hangisine değinilmemiştir?**

- A) Bilim insanlarının neyi araştırdıklarına  
B) Çocukların neler yaptıklarına  
C) Ulaşılan sonucun ne olduğuna  
D) Oynanan oyunların adlarına  
E) Kaç saat televizyon izlenebileceğine

16.

$$\frac{5^2 - 3^2}{2^3}$$

**işleminin sonucu kaçtır?**

- A) 1      B) 2      C) 3      D) 4      E) 5

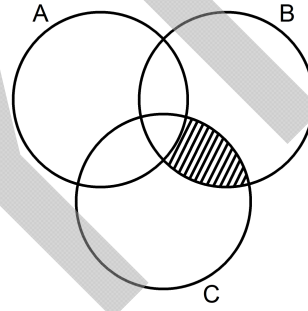
17.

$$\frac{\sqrt{0,36} + \sqrt{0,49}}{\sqrt{1,44} + \sqrt{1,96}}$$

**işleminin sonucu kaçtır?**

- A) 0,1      B) 0,2      C) 0,3      D) 0,4      E) 0,5

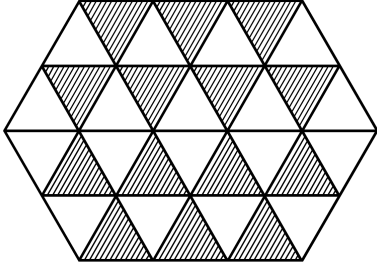
18.



**Aşağıdakilerden hangisi, şemadaki taralı bölgeyi ifade eder?**

- A)  $(B \cap C) \setminus A$       B)  $(B \cup C) \setminus A$   
C)  $(A \cup B) \setminus C$       D)  $B \setminus (A \cap C)$   
E)  $A \setminus (B \cap C)$

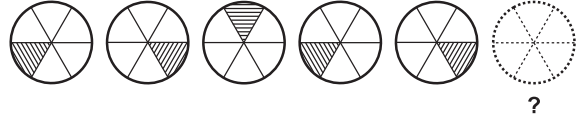
19. Aşağıdaki şekil eş üçgenlere bölünmüştür.



Buna göre, taralı kısmı ifade eden kesir aşağıdakilerden hangisidir?






- A)  $\frac{1}{4}$     B)  $\frac{3}{4}$     C)  $\frac{3}{8}$     D)  $\frac{5}{16}$     E)  $\frac{7}{16}$

20.

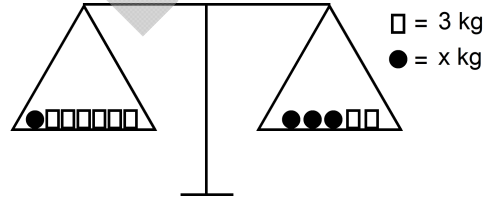


Yukarıdaki şekiller bir kurala göre dizilmiştir.

Buna göre, ? yerine aşağıdakilerden hangisi gelmelidir?

- A)     B)     C) 
- D)     E) 

21.



Şekildeki eşit kollu terazi dengede olduğuna göre, x kaçtır?

- A) 2    B) 3    C) 4    D) 5    E) 6

22.

$$\begin{array}{r} 18 \overline{)M} \\ \underline{-} \\ \end{array} \quad \begin{array}{r} 27 \overline{)M} \\ \underline{-} \\ \end{array}$$

Yukarıdaki bölme işlemlerine göre, M doğal sayısı **en fazla** kaçtır?

- A) 4      B) 5      C) 7      D) 8      E) 10

23.

$$f(x) = \frac{1+x}{1+x^2}$$

olduğuna göre,  $f(-2)$  kaçtır?

- A)  $-\frac{2}{3}$       B)  $-\frac{1}{5}$       C)  $-\frac{3}{4}$   
D)  $\frac{1}{3}$       E)  $\frac{2}{5}$

24. Boyutları 21 cm ve 28 cm olan dikdörtgen biçimindeki bir kâğıttan **hiç artmayacak şekilde** kare biçiminde eş parçalar kesilecektir.

Buna göre, bu kâğıttan **en az** kaç tane kare parça kesilebilir?

- A) 7      B) 8      C) 10      D) 12      E) 14

25. 576 TL, yaşları 20 ve 25 olan iki kardeş arasında paylaştırılacaktır.

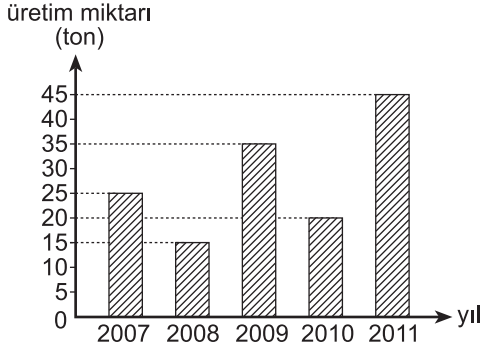
Bu paylaşım kardeşlerin yaşları ile doğru orantılı olarak yapılacaktır.

Buna göre, **büyük** kardeş kaç TL alır?

- A) 300      B) 310      C) 320      D) 330      E) 340



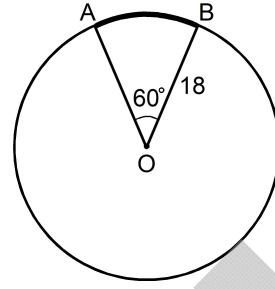
26. Aşağıdaki sütun grafiğinde, bir çiftçinin 2007-2011 yılları arasındaki buğday üretimi verilmiştir.



Bu beş yılda çiftçinin yıllık buğday üretimi ortalama kaç tondur?

- A) 22 B) 24 C) 28 D) 30 E) 36

- 27.



O merkezli çember

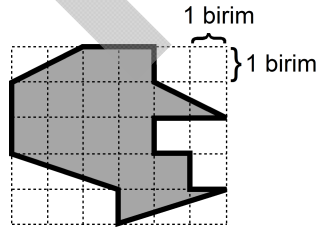
$$|OB| = 18 \text{ cm}$$

$$m(\widehat{AOB}) = 60^\circ$$

Yukarıdaki verilere göre, AB yayının uzunluğu kaç cm'dir?

- A)  $3\pi$  B)  $6\pi$  C)  $9\pi$  D)  $12\pi$  E)  $15\pi$

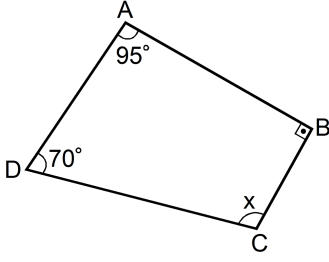
- 28.



Kareli kâğıt üzerine çizilmiş yukarıdaki şeklin alanı kaç birim karedir?

- A) 17 B) 19 C) 21 D) 23 E) 25

29.



ABCD bir dörtgen

$$m(\widehat{CDA}) = 70^\circ$$

$$m(\widehat{DAB}) = 95^\circ$$

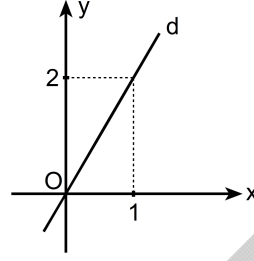
$$m(\widehat{ABC}) = 90^\circ$$

$$m(\widehat{BCD}) = x$$

Yukarıdaki verilere göre,  $x$  kaç derecedir?

- A) 90    B) 95    C) 100    D) 105    E) 110

30.

Dik koordinat düzleminde verilen  $d$  doğrusunun denklemi aşağıdakilerden hangisidir?

- A)  $y = 3x - 1$     B)  $y = x + 1$     C)  $y = 2x$

D)  $y = x$

E)  $y = \frac{x}{2}$

Bu test 30 sorudan oluşmaktadır.

1. Aşağıdakilerden hangisi, Türklerin kullandığı alfabelerden biri değildir?

- A) Göktürk B) Uygur C) Arap  
D) Latin E) Japon

2. Aşağıdakilerden hangisi, Gazneliler Dönemi'ne ait saraylardan biridir?

- A) Leşker-i Bazar B) Topkapı  
C) Beylerbeyi D) Çırağan  
E) Dolmabahçe

3. Aşağıdakilerden hangisi, Osmanlı ordusunda bulunan birliklerden biridir?

- A) Enderun B) Yeniçeri C) Divan  
D) Kadı E) Defterdar

4. Mustafa Kemal'in; Arıburnu, Conkbayırı ve Anafartalar'da düşman güçlerine karşı büyük başarılar kazandığı savaş aşağıdakilerden hangisidir?

- A) İkinci İnönü B) Sakarya C) Çanakkale  
D) Başkomutan E) Trablusgarp

5. Vilâyet-i Şarkîye Müdafaa-i Hukuk-i Milliye Cemiyeti öncülüğünde düzenlenen kongre aşağıdakilerden hangisidir?

- A) Erzurum B) Sivas C) Alaşehir  
D) Balıkesir E) Edirne

6. Temsilciler Kurulu için Ankara'nın merkez kabul edilmesinde aşağıdakilerden hangisinin etkili olduğu savunulamaz?

- A) Coğrafi konumu  
B) Ulaşım olanakları  
C) Haberleşme kolaylığı  
D) İklim özellikleri  
E) Batı Cephesi'ne yakınlığı

7. Misakımillî aşağıdakilerin hangisinde ilan edilmiştir?

- A) TBMM B) Sivas Kongresi  
C) Mebuslar Meclisi D) Erzurum Kongresi  
E) Alaşehir Kongresi

8. Kurtuluş Savaşı'nda, Batı Cephesi'nde yapılan aşağıdaki savaşlardan hangisi başarısızlıkla sonuçlanmıştır?

- A) Birinci İnönü B) İkinci İnönü  
C) Başkomutan D) Sakarya  
E) Eskişehir-Kütahya

9. Türkiye ile Ermenistan arasındaki savaşa son veren, TBMM Hükümetinin imzaladığı ilk antlaşma aşağıdakilerden hangisidir?

- A) Gümrü B) Moskova C) Kars  
D) Ankara E) Lozan

10. Mustafa Kemal aşağıdakilerden hangisini Başkomutanlık yetkilerini kullanarak çıkarmıştır?

- A) Hıyanet-i Vataniye Kanunu  
B) Tekâlif-i Milliye Emirleri  
C) Takrir-i Sükûn Kanunu  
D) Teşkilat-ı Esasiye Kanunu  
E) Tevhid-i Tedrisat Kanunu

11. Atatürk Dönemi'nde, sosyal bilimler alanında yüksek öğrenim yapılması için aşağıdakilerden hangisi açılmıştır?

- A) Musiki Muallim Mektebi  
B) Tıp Fakültesi  
C) Yüksek Ziraat Enstitüsü  
D) Dil ve Tarih-Coğrafya Fakültesi  
E) Millet Mektepleri

12. Aşağıdakilerden hangisi, siyasal alanda yapılan inkıaplardan biri değildir?

- A) Cumhuriyet'in ilan edilmesi  
B) Kadınlara seçme ve seçilme hakkının verilmesi  
C) Köy Enstitülerinin açılması  
D) Halifeliğin kaldırılması  
E) TBMM'nin açılması

13. Aşağıdakilerden hangisi, milliyetçilik ilkesiyle ilişkilendirilemez?

- A) Türk Dil Kurumunun açılması  
B) Ölçü birimlerinin değiştirilmesi  
C) Türk Tarih Kurumunun açılması  
D) TBMM'nin açılması  
E) Merkez Bankasının kurulması

14. Türkiye'de iç ticaret etkinliklerinin canlanmasında aşağıdakilerden hangisinin daha etkili olması beklenir?

- A) Kentlerde alt yapı yatırımlarının artırılmasının  
B) Ulaşım ağının geliştirilmesinin  
C) Yerel pazarların sayıca artırılmasının  
D) Halkın, yerli malı ürünleri kullanımına yönlendirilmesinin  
E) Enerji üretiminde bölgeler ve yöreler arası farkın azaltılmasının

15. Türkiye'nin tarımsal özellikleriyle ilgili aşağıda verilen yargılardan hangisi doğrudur?

- A) Tarım arazileri içinde en büyük pay, tarla tarımına aittir.  
B) Birim alana göre gübre kullanımı, Avrupa ülkelerinin tamamından daha fazladır.  
C) Seraların dağılışında temel belirleyici unsur, beşerî etkinliklerdir.  
D) Yağlı tohumlar içinde en büyük pay, soya üretimine aittir.  
E) İç kesimlerdeki tarımsal ürün çeşitliliği, kıyı kesimlerden daha fazladır.

16. Kaynağını Türkiye'den alan aşağıdaki akarsulardan hangisi kapalı bir havzada akmaktadır?

- A) Yeşilırmak B) Göksu C) Aras  
D) Fırat E) Gediz

17. İstanbul, Antalya ve İzmir illerinin iklim özelliklerinin birbirinden farklı olmasında;

- I. enlem,  
II. yükselti,  
III. denizellik

etkenlerinden hangisi, bu durumun nedeni olarak gösterilebilir?

- A) Yalnız I B) Yalnız II C) Yalnız III  
D) I ve II E) II ve III

18.

- I. 21 Mart ve 23 Eylül tarihinde ekinoksların yaşanması  
II. Yıl içinde dört mevsimin yaşanması  
III. Yılın en soğuk aylarının Aralık, Ocak ve Şubat olması  
IV. Yılın en uzun gecesinin 21 Aralıkta yaşanması

Yukarıdakilerden hangileri Türkiye'nin Kuzey Yarımküre'de yer alması nedeniyle gerçekleşir?

- A) I ve II B) I ve III C) II ve III  
D) II ve IV E) III ve IV

19. Ülkemizde Cumhurbaşkanı seçilebilmek için en az kaç yaşını doldurmuş olmak gerekir?

- A) 18 B) 20 C) 25 D) 30 E) 40

20. Aşağıdakilerden hangisi, Anayasa'nın 10. maddesine göre pozitif ayrımcılık yapılabilecek gruplardan biri değildir?

- A) Yabancılar B) Çocuklar C) Kadınlar  
D) Yaşlılar E) Özürlüler

21. 1982 Anayasası'na göre, "kanun koymak, değiştirmek ve kaldırmak" yetkisi aşağıdakilerden hangisine aittir?

- A) Türkiye Büyük Millet Meclisine  
B) Anayasa Mahkemesine  
C) Cumhurbaşkanına  
D) Hâkimler ve savcılara  
E) Siyasi partilere

22. Aşağıdakilerden hangisi, Türkiye Cumhuriyeti'nin niteliklerinden biri değildir?

- A) Demokratik devlet  
B) Laik devlet  
C) Sosyal devlet  
D) Teokratik devlet  
E) Atatürk milliyetçiliğine bağlı devlet

23. Aşağıdakilerden hangisi, devletin görev ve sorumluluklarından biri değildir?

- A) İnsanların hak ve özgürlüklerini korumak
- B) Vergi vermek
- C) Çalışamayacak durumda olanlara sosyal güvenlik hakkı sağlamak
- D) Eğitim ve sağlık hizmetlerine ulaşılması için tedbirler almak
- E) Vatandaşların güvenliğini sağlamak

24. 1982 Anayasası'na göre, aşağıdakilerden hangisi Cumhurbaşkanına tanınan görev ve yetkilerden biri değildir?

- A) Başbakanı atamak ve istifasını kabul etmek
- B) Kanunları tekrar görüşülmek üzere Türkiye Büyük Millet Meclisine geri göndermek
- C) Türkiye Büyük Millet Meclisine kanun teklifi vermek
- D) Anayasa Mahkemesinde iptal davası açmak
- E) Anayasa Mahkemesine üye seçmek

25. Aşağıdaki şehirlerden hangisi, 2011 Dünya Güreş Şampiyonası'na ev sahipliği yapmıştır?

- A) İstanbul
- B) Kocaeli
- C) Ordu
- D) Düzce
- E) Diyarbakır

26. Aşağıdaki ülkelerden hangisi, E-7 ülkeleri arasında yer almaz?

- A) Çin
- B) Yunanistan
- C) Rusya
- D) Türkiye
- E) Meksika

27. Anayasa Mahkemesi Başkanı aşağıdakilerden hangisidir?

- A) Mustafa Bumin
- B) Abdurrahman Yalçınkaya
- C) Haşim Kılıç
- D) Tülay Tuğcu
- E) Yekta Güngör Özden

28. Türkiye'de Hızlı Tren Projesi'nin, en son hangi hattı tamamlanmıştır?

- A) Ankara – İzmir
- B) Ankara – Eskişehir
- C) Ankara – İstanbul
- D) Ankara – Sivas
- E) Ankara – Konya

29. 2011 Kasım ayı itibarıyla UNESCO aşağıdaki ülkelerden hangisini resmen tanıyarak üyeliğini kabul etmiştir?

- A) Mısır
- B) Libya
- C) Güney Sudan
- D) Filistin
- E) Cezayir

30. Aşağıdakilerden hangisi, Türk Lirasının yeni simgesidir?

- A) ¥ B) £ C) ₺ D) € E) \$

## SINAVDA UYULACAK KURALLAR

- 1. Cep telefonu ile sınava girmek kesinlikle yasaktır.** Çağrı cihazı, telsiz, fotoğraf makinesi, cep bilgisayarı vb. cihazlar; silah ve benzeri teçhizatla; müsvedde kâğıdı, defter, kitap, sözlük, sözlük işlevi olan elektronik aygıt, hesap cetveli, hesap makinesi, pergel, açıölçer, cetvel vb. araçlarla sınava girmek kesinlikle yasaktır. Sınava çanta, kalem, silgi, kalemtraş, saat vb., küpe, bilezik, broş vb. takı ile de girmek yasaktır. Bu şekilde sınava girmiş adayların kimlik bilgileri mutlaka Salon Sınav Tutanağına yazılacak, bu adayların sınavları geçersiz sayılacaktır.
- Sınav başladıktan sonra sınav süresinin  $\frac{3}{4}$ 'ü **tamamlanmadan önce ve sınavın son 15 dakikası** içinde adayın sınavdan çıkmasına izin verilmeyecektir. Bu süreler dışında sınav süresi bitmeden cevaplamayı tamamlayan adaylar, cevap kâğıdını ve soru kitapçığını salon görevlilerine teslim ederek sınav salonundan ayrılabilir.
- Sınav evrakını teslim ederek sınav salonundan çıkan adaylar veya hangi nedenle olursa olsun sınav binasından ayrılan adaylar tekrar sınav salonuna alınmayacaktır.
- Sınav süresince görevlilerle konuşmak, görevlilere soru sormak yasaktır. Aynı şekilde görevlilerin de adaylarla yakından ve alçak sesle konuşmaları, adayların birbirinden kalem, silgi vb. şeyleri istemeleri kesinlikle yasaktır.
- Sınav sırasında, görevlilerin her türlü uyarısına uymak zorundasınız. Sınavınızın geçerli sayılması, her şeyden önce sınav kurallarına uymaınıza bağlıdır. Kurallara aykırı davranışta bulunanların ve yapılacak uyarılara uymayanların kimlik bilgileri tutanağa yazılacak ve sınavları geçersiz sayılacaktır. Sınav süresince kimlik belgelerinizi sıranın üzerinde bırakınız.
- Sınav sırasında kopya çeken, çekmeye kalkışan, kopya veren, kopya çekilmesine yardım edenlerin kimlik bilgileri Salon Sınav Tutanağına yazılacak ve bu adayların sınavları geçersiz sayılacaktır. Görevliler kopya çekmeye ya da vermeye kalkışanları uyarmak zorunda değildir, sorumluluk size aittir. Adayların test sorularına verdikleri cevapların dağılımları bilgi işlem yöntemleriyle incelenecek, bu incelemelerden elde edilen bulgular bireysel ya da toplu olarak kopya çekildiğini gösterirse kopya eylemine katılan adayın/adayların cevaplarının bir kısmı ya da tamamı iptal edilecektir. Sınav görevlileri bir salondaki sınavın, kurallara uygun biçimde yapılmadığını, toplu kopya girişiminde bulunduğunu raporlarında bildirdikleri takdirde, ÖSYM takdir hakkını kullanarak bu salonda sınava giren tüm adayların sınavını geçersiz sayabilir.
- Sınavda soru kitapçığı ve cevap kâğıdı birlikte, kapalı bir poşette açılmadan size verilecektir. Poşeti açınız, açmakta güçlük çektiğinizde salon görevlilerinden yardım isteyiniz. Size verilen cevap kâğıdının adınıza olup olmadığını kontrol ediniz. Başka bir aday adına düzenlenmiş sınav evrakını kesinlikle kullanmayınız.
- Soru kitapçığının sayfalarının eksik olup olmadığını, kitapçıkta basım hatalarının bulunup bulunmadığını kontrol ediniz. Soru kitapçığının sayfası eksik ya da basımı hatalıysa değiştirilmesi için Salon Başkanına başvurunuz.
- Soru kitapçığında ve cevap kâğıdında doldurmanız gereken alanlar bulunmaktadır. Bu alanları doldurunuz. Cevap kâğıdına yazılacak her türlü yazıda ve yapılacak bütün işaretlemelerde kurşun kalem kullanılacaktır. Tükenmez kalem ve dolma kalem kesinlikle kullanılmayacaktır. Cevapların cevap kâğıdına işaretlenmiş olması gerekir. Soru kitapçığına işaretlenen cevaplar geçerli değildir.
- Sınav sonunda soru kitapçıkları toplanacak ve ÖSYM'de tek tek incelenecektir. Soru kitapçığının bir sayfası bile eksik çıkarsa sınavınız geçersiz sayılacaktır.
- Soru kitapçığının sayfalarındaki boş yerleri müsvedde için kullanabilirsiniz.
- Soruları ve/veya bu sorulara verdiğiniz cevapları ayrı bir kâğıda yazıp bu kâğıdı dışarı çıkarmanız kesinlikle yasaktır.
- Sınav süresinin bittiği ilan edildiğinde soru kitapçıkları ve cevap kâğıtları salon görevlileri tarafından toplanıncaya kadar yerlerinizde kalınız.
- Sınav salonundan ayrılmadan önce soru kitapçığınızı ve cevap kâğıdınızı salon görevlilerine teslim etmeyi unutmayınız.
- Her testin cevaplarını cevap kâğıdında o test için ayrılmış alana işaretlemeye dikkat ediniz. İlgili testin cevaplarını cevap kâğıdında doğru alana işaretlemediğiniz takdirde oluşacak değerlendirme sonuçlarından sorumlu olduğunuzu unutmayınız.

*Bu testlerin her hakkı saklıdır. Hangi amaçla olursa olsun, testlerin tamamının veya bir kısmının Merkezimizin yazılı izni olmadan kopya edilmesi, fotoğrafının çekilmesi, herhangi bir yolla çoğaltılması, yayımlanması ya da kullanılması yasaktır. Bu yasağa uymayanlar gerekli cezai sorumluluğu ve testlerin hazırlanmasındaki mali külfeti peşinen kabullenmiş sayılır.*



**29 NİSAN 2012**  
**ÖZÜRLÜ MEMUR SEÇME SINAVI (ÖMSS)**  
**ÖN LİSANS**  
**İŞİTME – 1**

**GENEL YETENEK TESTİ**

1. E
2. B
3. C
4. A
5. E
6. B
7. A
8. C
9. C
10. D
11. B
12. A
13. C
14. E
15. D
16. B
17. E
18. A
19. E
20. D
21. E
22. D
23. B
24. D
25. C
26. C
27. B
28. A
29. D
30. C

**GENEL KÜLTÜR TESTİ**

1. E
2. A
3. B
4. C
5. A
6. D
7. C
8. E
9. A
10. B
11. D
12. C
13. B
14. B
15. A
16. C
17. A
18. E
19. E
20. A
21. A
22. D
23. B
24. C
25. A
26. B
27. C
28. E
29. D
30. C