



2012-ÖZÜRLÜ MEMUR SEÇME SINAVI (ÖMSS)  
LİSANS  
İŞİTME-1

29 NİSAN 2012 PAZAR

T.C. KİMLİK NUMARASI	:	
ADI	:	
SOYADI	:	

**Soru kitapçık numarasının cevap kâğıdına yazılmamasının veya yanlış yazılmasının sorumluluğu adaya aittir.**

SORU KİTAPÇIK  
NUMARASI :

**TEMEL SORU  
KİTAPÇIĞI**

Bu numarayı cevap kâğıdınızdaki ilgili alana yazmayı unutmayınız.

**DİKKAT! SINAV BAŞLAMADAN ÖNCE AŞAĞIDAKİ UYARILARI MUTLAKA OKUYUNUZ.**

1. T.C. Kimlik Numaranızı, Adınızı, Soyadınızı Soru Kitapçığı üzerindeki ilgili alanlara yazınız.
2. Soru Kitapçık Numaranız yukarıda verilmiştir. Bu numarayı cevap kâğıdınızdaki ilgili alana yazınız ve aşağıdaki ilgili alanı imzalayınız. Salon görevlisinin de hem soru kitapçığındaki hem de cevap kâğıdınızdaki ilgili alanı kontrol etmesini sağlayınız.
3. Bu sayfanın arkasında yer alan açıklamayı dikkatle okuyunuz.

**Adayın imzası:**

Soru kitapçık numarasını doğru yazdım.

**Salon görevlisinin imzası:**

Adayın soru kitapçık numarasını cevap kâğıdına doğru yazdığını onaylıyorum.

## AÇIKLAMA

1. Bu kitapçıkta **Genel Yetenek Testi** ve **Genel Kültür Testi** bulunmaktadır.
2. Bu kitapçıkta iki test toplam 60 sorudan oluşmaktadır.
3. Bu kitapçıkta testlerde yer alan her sorunun sadece bir doğru cevabı vardır. Bir soru için birden çok cevap yeri işaretlenmişse o soru yanlış cevaplanmış sayılacaktır.
4. İşaretlediğiniz bir cevabı değiştirmek istediğinizde, silme işlemini çok iyi yapmanız gerektiğini unutmayınız.
5. **Bu testler puanlanırken doğru cevaplarınızın sayısından yanlış cevaplarınızın sayısının dörtte biri düşülecek ve kalan sayı ham puanınız olacaktır.** Bu nedenle, hakkında hiçbir fikriniz olmayan soruları boş bırakınız. Ancak, soruda verilen seçeneklerden birkaçını eleyebiliyorsanız kalanlar arasında doğru cevabı kestirmeye çalışmanız yararınıza olabilir.
6. Cevaplamaya istediğiniz sorudan başlayabilirsiniz. Bir soru ile ilgili cevabınızı, cevap kâğıdında o soru için ayrılmış olan yere işaretlemeyi unutmayınız.
7. Sınavda uyulacak diğer kurallar bu kitapçığın arka kapağında belirtilmiştir.

Bu test 30 sorudan oluşmaktadır.

1. Bu kasabanın çarşısında halı, kilim, keçe gibi pek çok el işi ürün bulabilirsiniz. Ayrıca (böylece) pazarlarını da I unutmamak gerek. En büyükleri salı pazarı, arasta civarında (yakınlarında) kurulmakta ve yoğun (çok) ilgi II görmektedir. Diğerleri cumartesi ve pazar günleri kuruyor. Pazar günleri kurulan Baltalı Kapı pazarında ise yöre (çevre) köylülerinin ürettiği (yetiştirdiği) sebze ve IV meyvelerle birlikte çeşitli el işleri de satılıyor.

**Bu parçadaki numaralanmış sözcüklerden hangisi başka anlamda kullanılan sözcüktür?**

- A) I. B) II. C) III. D) IV. E) V.

2. Aşağıdaki cümlelerin hangisinde altı çizili sözcük mecaz anlamıyla kullanılmıştır?

- A) Yağmur yağdıktan sonra yollar çamur içinde kaldı.  
 B) Bu boş tabağı kimin buraya bıraktığını görmemiş.  
 C) Uykusunun ağır olduğunu ailedeki herkes biliyordu.  
 D) Eksi erik yemeyi çocukluğundan beri çok severdi.  
 E) Soğuk havalarda yünlü elbiseler giyerdi.

3. (I) 1816'da George Manby adlı İngiliz mucit, bir yangın söndürücü tasarladı. (II) Bu alet su dolu metal bir silindirden oluşuyordu. (III) İçindeki su, sıkıştırılmış hava yardımıyla dışarıya püskürtülüyordu. (IV) İlk kimyasal yangın söndürücüyü de Rus Mucit Alexander Laurent, 1905'te tasarladı. (V) Alevi boğan ve söndüren köpük, dış yüzeyi oldukça güzel bir metalden el yardımıyla püskürtülüyordu.

**Bu parçadaki numaralanmış cümlelerden hangisinde öznelik söz konusudur?**

- A) I. B) II. C) III. D) IV. E) V.

4. (I) Kale kapısından giriyoruz. (II) İki üç katlı, kapıları tokmaklı ahşap evler, daracık sokaklar boyunca sıralanmış. (III) Bahçelerde, kapı önünde sohbet eden kadınlar var. (IV) Bu, henüz komşuluk ilişkilerinin bitmediğini gösteriyor. (V) Çocuklarsa sokaklarda birdirbir, köşe kapmaca oynuyor.

**Bu parçadaki numaralanmış cümlelerin hangisinde bir çıkarım yapılmıştır?**

- A) I. B) II. C) III. D) IV. E) V.

5. Aşağıdaki cümlelerin hangisinde karşılaştırma söz konusudur?
- A) Öğrencilerimin arasında en çok onu sevdiğimi söyleyebilirim.
- B) Bu kitap, *Yazarlık Dersleri* adını taşıyor.
- C) Okuma, söz dağarcığımızı zenginleştiren yollardan biridir.
- D) Sınavlardaki başarımız, soğukkanlı olmamıza bağlıdır.
- E) Bunların ayırımına çocukluk yıllarında varmıştı.
6. Aşağıdaki cümlelerin hangisinde "yakınma" anlamı vardır?
- A) Toplantıya bu kıyafetle katılabilir miyim?
- B) Onun böyle davranacağını bilseydim hiç gelirmiydim?
- C) Bu söz hangi anlamda söyleniyor?
- D) Konuyu anlamakta zorlanıyor musun?
- E) Babasının onu aradığını biliyor mu?

7. (I) Bazı beslenme uzmanları ve doktorlar, zayıflamanın önündeki en büyük engellerden birinin ekme yemek olduğunu savunuyor. (II) Bundan hareketle ekmeği ya yasaklıyor ya da önemli ölçüde kısıtlıyor. (III) Ancak, bir grup beslenme uzmanı da tam tersini düşünüyor, ekmeğe yasağına karşı çıkıyor. (IV) Bu uzmanlar, "Ekmeğe diyetlerin baş tacıdır." diyerek benim gibi ekmeğe severlerin yüreğine su serpiyor. (V) Arasında öğretim üyelerinin de bulunduğu dört yüzden fazla kişi bu görüşü destekliyor.

**Bu parçadaki numaralanmış cümlelerle ilgili olarak aşağıda verilenlerden hangisi yanlıştır?**

- A) I. cümlede, ortaya konan bir görüş üzerinde duruluyor.
- B) II. cümlede, önceki cümlede belirtilenin sonucu iki yönlü öneri olarak dile getiriliyor.
- C) III. cümlede, sözü edilen uzmanların kendi alanlarındaki yetersizlikleri belirtiliyor.
- D) IV. cümlede, bir sözün insan üzerindeki etkisi yansıtılıyor.
- E) V. cümlede, bir konuda aynı görüşte olanlar sayısal değerle gösteriliyor.
8. Aşağıdaki cümlelerin hangisinde "o" sözcüğü, sözcük türü bakımından "O benim en iyi arkadaşlarımdan biriydi." cümlesindekiyle aynıdır?
- A) O eskisi gibi gülümseyince çocukluk anılarım gözümde canlanıverdi.
- B) O adam mahallemizin en yaşlı kişisiydi.
- C) O çalışmanın tamamlanması uzunca bir zaman alacak.
- D) İşimin o tarafta olduğunu söyleyince beni de geçerken bırakabileceğini söyledi.
- E) Bunları o zamandan beri kimseyle paylaşmadığını söylemesi bizi çok üzmüştü.

9. Aşağıda verilen cümlelerin hangisindeki altı çizili sözün yazımı **yanlıştır**?

- A) Yetkililer bu konuyla ilgili herhangi bir açıklama yapmadı.  
 B) Mademki işiniz bu kadar önemli, sıramı size verebilirim.  
 C) Bu kadar problemin art arda gelmesi canını çok sıkıyordu.  
 D) Bir takım insanlar şiir yazmanın yetenek gerektirmediğini düşünür.  
 E) Yüzü, aldığı acı haber üzerine birdenbire değişti.

10. (I) Havalar iyice soğudu. (II) Bu dönemde en çok solunum yolu enfeksiyonları görülüyor. (III) Özellikle soğuk algınlığı, grip, sinüzit, bronşit bunların başında geliyor. (IV) Bağışıklık sistemini geliştiriyor, vücudun gribal enfeksiyonlarla mücadele etmesini kolaylaştırıyor ve vücudu onlara karşı güçlendiriyor. (V) Bu nedenle mevsim geçişlerinde bal tüketimi daha da önem kazanıyor. (VI) Ayrıca vücutta yanlış beslenmeden doğan bazı eksikliklerin giderilmesine de yardım ediyor.

**Bu parçadaki numaralanmış cümlelerin hangisinden sonra** "İşte bal, kışın vücudun direncini artırmada başvuracağımız en yararlı yiyeceklerden biridir." **cümlesi getirilmelidir?**

- A) II.      B) III.      C) IV.      D) V.      E) VI.

11. Ressamın dilini nasıl yalnızca tüplerden çıkan rengârenk boyalar, tuval ya da kâğıt oluşturuyorsa bir yazarın dilini oluşturmada da yalnızca sözcükler yeterli olmaz. Önemli olan, bu malzemelerin özgün biçimler yaratacak bir tutumla kullanılmasıdır.

**Bu parçada sanatsal yaratılarla ilgili olarak asıl anlatılmak istenen aşağıdakilerden hangisidir?**

- A) Her alanın kendine özgü gereçleri vardır.  
 B) Sanat alanında konular sınırlı ama bunların işlenişi her dalda farklıdır.  
 C) Kendinden öncekilerden izler taşır.  
 D) Belirli kurallara bağlanma, onları sıradanlaştırır.  
 E) Sanatçı, yapıtını oluşturma sürecinde ona, kendinden bir şeyler katar.

12. Uçak yolculuklarında hostes, gerekli açıklamaları yaparken yolcuların, acil bir durumda oksijen maskesini çocuklarından bile önce kendilerine takması gerektiğini belirtir. Bunun gibi, hayatta da mutluluğu "diğer yolculara" yardım ederek buluruz ama bunu yapabilmek için önce kendimiz hayatta kalmalıyız.

**Bu parçada asıl anlatılmak istenen aşağıdakilerden hangisidir?**

- A) Öteki insanlara destek olmak için özverili davranmak gerekir.  
 B) Ağır sorunlar yaşayanlar, bunları çözebilme gücünü kaybederler.  
 C) Yaşamın güzelliklerini başkalarıyla birlikteyken daha kolay görebiliriz.  
 D) Ancak yaşamımızı sürdürebilsek başkalarına yararlı olma hazzını tadabiliriz.  
 E) Mutlu olmak, başkaları için yaşamayı gerektirir.

13. Farkında olsak da olmasak da edebiyatımızda bir değişiklik söz konusu. Kadınlar, edebiyata damga vurmakla kalmıyor, aynı zamanda edebiyatımızın tamamını biçimlendirip yönlendiriyor.

**Bu parçada kadın yazarların hangi yönü belirtilmiştir?**

- A) Başkalarıyla yarış içinde olma
- B) Varlığını duyumsatma ve gösterme
- C) Eski olan her şeye tepki gösterme
- D) Başarılı yapıtları örnek alma
- E) Toplumunu değiştirmeyi amaçlama

14. Kapadokya mutfağı modernleşmeye direnememiştir. Bölgedeki lokantalarda yöresel yemekleri bulmak oldukça zordur. Sadece birkaç gözü kara işletmeci eski lezzetleri yaşatmak ve tanıtmak için çabalamaktadır.

**Yöresel yemeklerle ilgili bu parçadan aşağıdakilerin hangisi çıkarılabilir?**

- A) Yapmayı sürdürmenin bir cesaret işi olduğu
- B) Farklı yöntemlerle yapıldığı
- C) Yapmanın zahmetli ve zor bir iş olarak değerlendirildiği
- D) Malzeme bulmada zorluk çekildiği
- E) Kişisel tercihlerin göz önünde bulundurulması gerektiği

15. İlerleyen küresel iklim değişikliği ve dolayısıyla artan şiddetli hava olayları nedeniyle bahar alerjisi gibi rahatsızlıklar daha yoğun hissedilir oldu. Eskiden sadece baharda ağaçların çiçek açmasıyla artan polenler, atmosfere yayılır ve ağızımıza, burnumuza hatta ciğerlerimize kadar ulaşırdı. Özellikle de sıcak ve rüzgârlı havalardan sonra polenler havaya daha çok dağıldığı için bahar mevsiminde alerjik şikâyetler artardı. Ancak şimdi iklim değişikliğinden hava sıcaklığında önemli artışlar oldu. Bunun sonucu olarak da havada önemli ölçüde artan alerjenler vücudumuzda daha hızlı yayılıyor.

**Bu parçada aşağıdaki sorulardan hangisinin cevabı yoktur?**

- A) Bahar alerjisini tetikleyen faktörler nelerdir?
- B) Alerjinin etkilerini vücudumuzda hangi organlarda hissederiz?
- C) Polenler neden baharda çoğalır?
- D) İklimde meydana gelen değişiklikler havayı ne bakımdan etkiler?
- E) İnsanların alerjiden korunmak için yapmaları gerekenler nelerdir?

16.

$$2^{-2} \cdot (4^2 + 6^2)$$

**işleminin sonucu kaçtır?**

- A) 13
- B) 14
- C) 15
- D) 16
- E) 18

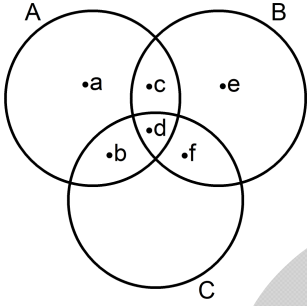
17.

$$\frac{\sqrt{0,09} + \sqrt{0,16}}{\sqrt{0,049}}$$

işleminin sonucu kaçtır?

- A) 0,1    B) 0,7    C) 1    D)  $\sqrt{10}$     E)  $\sqrt{15}$

18.



A, B ve C kümeleri ile ilgili olarak aşağıda verilenlerden hangisi doğrudur?

- A)  $B \setminus A = \{e\}$   
 B)  $(A \cap B) \cup C = \{c, f\}$   
 C)  $A \cap B \cap C = \{c, d\}$   
 D)  $(A \cup B) \cap C = \{c\}$   
 E)  $C \setminus (A \cap B) = \{b, f\}$

19. Üç basamaklı 76A sayısı 3'e tam bölünmektedir. Bu sayının 4'e bölümünden kalan ise 2'dir.

Buna göre, A kaçtır?

- A) 2    B) 4    C) 5    D) 7    E) 8

20.

$$2 + \frac{6}{x-1} = -7$$

olduğuna göre, x kaçtır?

- A) 2    B) 3    C)  $\frac{1}{2}$     D)  $\frac{1}{3}$     E)  $\frac{2}{3}$

21.

$$f(x) = x^2 - 2$$

$$g(x) = 3x + 1$$

olduğuna göre,  $(g \circ f)(3)$  kaçtır?

- A) 13    B) 16    C) 19    D) 22    E) 25

22. Yaşları 4, 6 ve 8 olan üç kardeşe 90 adet bilye paylaşılacaktır.

Bu paylaşım, kardeşlerin yaşları ile doğru orantılı olarak yapılacaktır.

Buna göre, en küçük kardeş kaç adet bilye alır?

- A) 12    B) 15    C) 16    D) 18    E) 20

23. Aykut, bir telefonu alış fiyatı üzerinden % 30 kârla satmak için bir fiyat belirlemiştir.

Daha sonra bu telefonu belirlediği satış fiyatı üzerinden % 20 indirim yaparak satmıştır.

Buna göre, Aykut bu telefonu alış fiyatı üzerinden % kaç kârla satmıştır?

- A) 4    B) 6    C) 8    D) 10    E) 12

24. Aşağıdaki tabloda, dört kişi ve bu kişilerin yaşları verilmiştir.

Kişiler	Yaşları
Esin	24
Ayşe	x
Betül	16
Mehtap	2x - 3

Bu kişilerin yaş ortalaması 22 olduğuna göre, Mehtap Ayşe'den kaç yaş büyüktür?

- A) 6    B) 8    C) 10    D) 12    E) 14

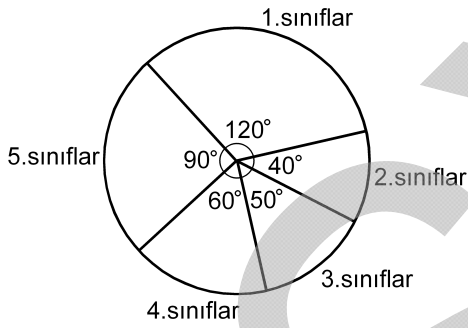


25. Bir grup işçi, günde 8 saat birlikte çalışarak  $3 \text{ m}^2$  halıyı 15 günde dokuyor.

**Aynı işçiler günde 4 saat birlikte çalışarak  $6 \text{ m}^2$  halıyı kaç günde dokurlar?**

- A) 30 B) 45 C) 60 D) 75 E) 90

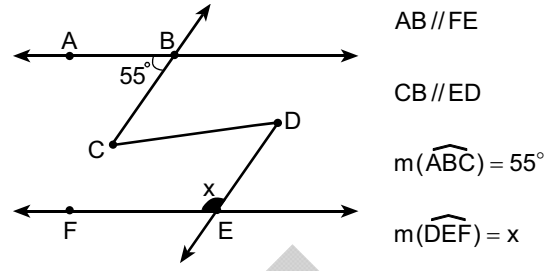
26. Aşağıdaki daire grafiğinde, bir okuldaki öğrencilerin sınıflara göre dağılımı verilmiştir.



**Bu okulda 4. sınıflardaki öğrenci sayısı 120 olduğuna göre, 5. sınıflardaki öğrenci sayısı kaçtır?**

- A) 150 B) 180 C) 200 D) 220 E) 240

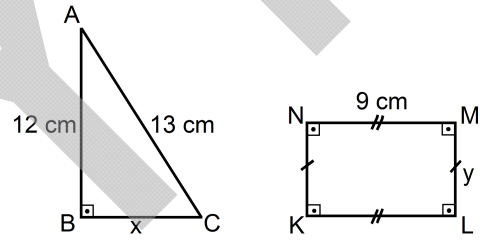
- 27.



**Yukarıdaki verilere göre, x kaç derecedir?**

- A) 110 B) 120 C) 125 D) 130 E) 145

- 28.

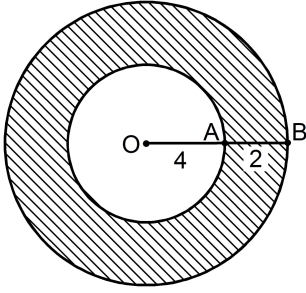


Yukarıda verilen ABC dik üçgeninin ve KLMN dikdörtgeninin çevre uzunlukları birbirine eşittir.

**Buna göre, x + y toplamı kaç cm'dir?**

- A) 11 B) 14 C) 16 D) 19 E) 22

29.



OA ve OB yarıçap

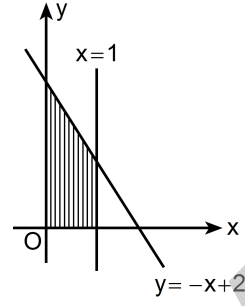
$|OA| = 4 \text{ cm}$

$|AB| = 2 \text{ cm}$

Yukarıdaki şekilde, iki çember arasında kalan taralı bölgenin alanı kaç  $\text{cm}^2$  dir?

- A)  $16\pi$       B)  $20\pi$       C)  $24\pi$   
D)  $26\pi$       E)  $28\pi$

30.



Dik koordinat düzleminde denklemleri  $x = 1$  ve  $y = -x + 2$  olan iki doğru verilmiştir.

Buna göre, taralı bölgenin alanı kaç birim karedir?

- A)  $\frac{3}{5}$       B)  $\frac{5}{2}$       C)  $\frac{3}{2}$   
D) 1      E) 2

Bu test 30 sorudan oluşmaktadır.

1. Aşağıdakilerden hangisi, İslamiyet öncesi Türk kültürüne ait destanlardan biri değildir?

- A) Gılgamış B) Manas  
C) Türeyiş D) Ergenekon  
E) Alp Er Tunga

2. Büyük Selçuklular Dönemi'nin en büyük medresesi olarak bilinen, Vezir Nizamü'l-Mülk tarafından Bağdat'ta açılan medrese aşağıdakilerden hangisidir?

- A) Hatuniye B) Karatay C) Yakutiye  
D) Nizamiye E) İnce Minareli

3. Osmanlı Devleti'nde aşağıdakilerden hangisi, vergi vermekle yükümlüdür?

- A) Tımarlı sipahi B) Müderris  
C) Reaya D) Kadı  
E) Defterdar

4. Aşağıdaki antlaşmalardan hangisiyle Oniki Ada geçici olarak İtalyanlara bırakılmıştır?

- A) Berlin B) Ouchy (Uşi)  
C) İstanbul D) Londra  
E) Atina

5. Osmanlı Devleti'nin, Birinci Dünya Savaşı'na Almanya'nın yanında girmesinde etkili olan devlet adamı aşağıdakilerden hangisidir?

- A) Enver Paşa  
B) Ahmet İzzet Paşa  
C) Tevfik Paşa  
D) Damat Ferit Paşa  
E) Salih Paşa

6. Millî Mücadele'ye destek veren cemiyetlerin ortak amacı aşağıdakilerden hangisidir?

- A) Kuruldukları bölgelerde halkın sükûnete davet edilmesi  
B) Buldukları bölgelerde ayrı birer devlet kurulması  
C) Anlaşma Devletlerinin destek ve yardımlarının sağlanması  
D) İstanbul Hükûmetinin işgallere karşı tutumunun desteklenmesi  
E) Faaliyet gösterdikleri bölgelerin işgalinin önlenmesi

7. Kurtuluş Savaşı'nın ilan edilişi olarak nitelenen belgenin yayınlandığı kent aşağıdakilerden hangisidir?

- A) Ankara B) Erzurum C) Sivas  
D) Amasya E) İstanbul

8.

- I. Yörük Ali Efe
- II. Şahin Bey
- III. Hasan Tahsin

**Yukarıdakilerden hangileri, Kurtuluş Savaşı'nda Güney Cephesi'nde direnişin önderi olmuşlardır?**

- A) Yalnız I
- B) Yalnız II
- C) Yalnız III
- D) I ve II
- E) II ve III

9. **Misakımillî'yi kabul eden ilk devlet aşağıdakilerden hangisidir?**

- A) Sovyet Rusya
- B) İngiltere
- C) Fransa
- D) İtalya
- E) ABD

10. **Aşağıdakilerden hangisi, Lozan Barış Görüşmelerine katılan devletlerden biri değildir?**

- A) ABD
- B) Yunanistan
- C) Hollanda
- D) Yugoslavya
- E) Japonya

11. **Şeyh Said Ayaklanması'nın çıkmasında;**

- I. Musul sorununun devam etmesi,
- II. Halifeliğin kaldırılması,
- III. Tekke, zaviye ve türbelerin kapatılması

**gelişmelerinden hangilerinin etkili olduğu savunulabilir?**

- A) Yalnız I
- B) Yalnız II
- C) Yalnız III
- D) I ve II
- E) II ve III

12. **Serbest Cumhuriyet Partisi kim tarafından kurulmuştur?**

- A) Refet Bele
- B) İsmet İnönü
- C) Fethi Okyar
- D) Rauf Orbay
- E) Kâzım Karabekir

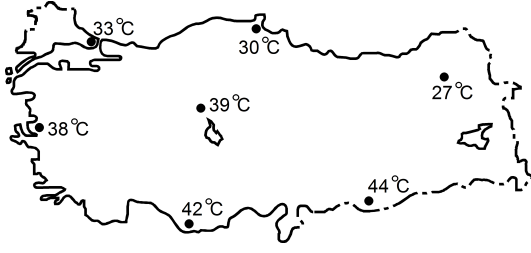
13. **Yeni Türk harflerinin kabulü aşağıdaki Atatürk ilkelerinden hangisiyle ilişkilendirilemez?**

- A) Halkçılık
- B) Milliyetçilik
- C) Laiklik
- D) İnkılapçılık
- E) Devletçilik

14. **Akdeniz kıyısında bulunan X kentiyle Karadeniz kıyısında bulunan Y kenti arasında aşağıdakilerden hangisinin değişim göstermesi kesin olarak enleme bağlıdır?**

- A) Ulaşım koşulları
- B) Gece-gündüz sürelerinin farkı
- C) Yağışın mevsimlere göre dağılışı
- D) Yıllık ortalama sıcaklık dağılışı
- E) Yerel saat farkı

15.

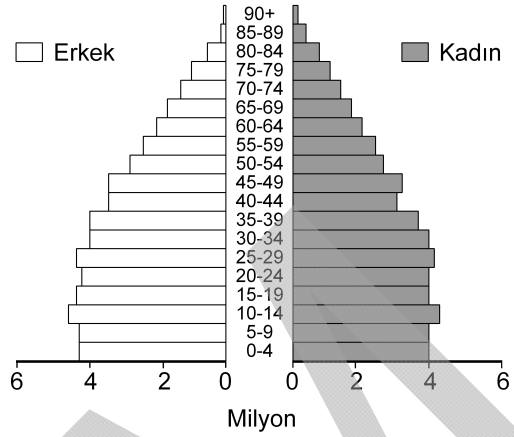


Yukarıdaki haritada bazı kent merkezlerinin yılın bir gününde saat 14:00'teki sıcaklık değerleri gösterilmiştir.

**Buna göre, aşağıdaki bilgilerden hangisi kesinlikle doğrudur?**

- A) Yılın en sıcak günü yaşanmaktadır.
- B) Türkiye'de ağustos ayı yaşanmaktadır.
- C) Günlük sıcaklık farkı azdır.
- D) Gölgeler kuzey yönlüdür.
- E) Güney yönlü rüzgârlar etkilidir.

16.

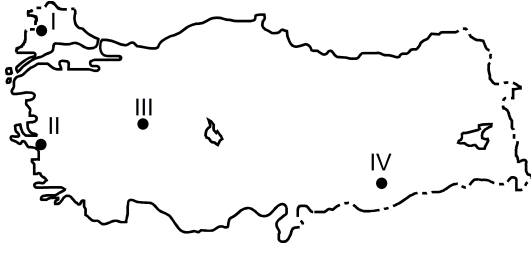


Yukarıda, Türkiye'nin 2010 yılına ait nüfus piramidi verilmiştir.

**Piramitteki verilere bakılarak aşağıdakilerden hangisine ulaşamaz?**

- A) Toplam nüfus miktarına
- B) Nüfusun yaş ortalamasına
- C) Yıllık nüfus artış miktarına
- D) Kadın ve erkek nüfus arasındaki farka
- E) 0-4 yaş grubundakilerin 15-19 yaş grubundakilere oranına

17.



Yukarıdaki haritada numaralarla gösterilen yerlerde yoğun olarak yetiştirilen tarım ürünleri aşağıdakilerin hangisinde doğru olarak verilmiştir?

I	II	III	IV
A) Tütün	Pirinç	Üzüm	Ayçiçeği
B) Ayçiçeği	Üzüm	Haşhaş	Pamuk
C) Tütün	Pamuk	Ayçiçeği	Haşhaş
D) Pamuk	Ayçiçeği	Haşhaş	Tütün
E) Ayçiçeği	Üzüm	Pamuk	Tütün

18. Aşağıdakilerden hangisinde, turizmin gelişmesi doğal etmenlere bağlı değildir?

- A) Truva Millî Parkı
- B) Cennet-Cehennem Obrukları
- C) Köprülü Kanyon
- D) Manyas Kuş Cenneti
- E) Palandöken Dağı

19. 1982 Anayasası'na göre, aşağıdakilerden hangisi Anayasa'nın değiştirilemez hükümlerinden biri değildir?

- A) Devletin şeklinin Cumhuriyet olması
- B) Temel hak ve hürriyetlerin yalnızca kanunla sınırlandırabileceği
- C) Millî marşının "İstiklal Marşı" olması
- D) Başkent Ankara olması
- E) Demokratik, laik, sosyal bir hukuk devleti olması

20. "Yasama organının Anayasa'ya aykırı olmamak kaydıyla dilediği konuda, ana hatlarıyla veya ayrıntılı olarak kanun yapma yetkisine sahip olması" aşağıdaki ilkelere hangisi ile ifade edilmektedir?

- A) Yasama yetkisinin asliliği
- B) Yasama yetkisinin genelliği
- C) Yasama yetkisinin devredilmezliği
- D) Yasama dokunulmazlığı
- E) Parlamentonun yönetsel bağımsızlığı

21. Anayasamıza göre, Cumhurbaşkanının seçimi ile ilgili aşağıdaki ifadelerden hangisi yanlıştır?

- A) Cumhurbaşkanı seçilebilmek için 40 yaşını doldurmuş olmak gerekir.
- B) Cumhurbaşkanı halk tarafından seçilir.
- C) Cumhurbaşkanı seçilebilmek için TBMM üyesi olmak zorunlu değildir.
- D) Cumhurbaşkanı seçilen kişinin, varsa partisi ile ilişkisi kesilir.
- E) Yeni seçilen Cumhurbaşkanı göreve başlayıncaya kadar TBMM Başkanı, Cumhurbaşkanlığı görevini yerine getirir.

22. 1982 Anayasası'nın 73. maddesine göre, herkesin kamu giderlerini karşılamak üzere mali gücüne göre ödemekle yükümlü olduğu ödeve ne ad verilir?

- A) Vergi
- B) Borç
- C) Resim
- D) Nafaka
- E) Harç

23. 1982 Anayasası'na göre, yürütme yetkisi ve görevi aşağıdakilerden hangisine aittir?

- A) Danıştaya
- B) Anayasa Mahkemesine
- C) Türkiye Büyük Millet Meclisine
- D) Cumhurbaşkanı ve Bakanlar Kuruluna
- E) Yargıtaya

24. Adliye mahkemelerince verilen karar ve hükümlerin son inceleme mercii aşağıdakilerden hangisidir?

- A) Sayıştay
- B) Danıştay
- C) Yargıtay
- D) İdare Mahkemesi
- E) Uyuşmazlık Mahkemesi

25. 2012 Avrupa Futbol Şampiyonasını, Ukrayna ile birlikte düzenleyecek ülke aşağıdakilerden hangisidir?

- A) Polonya
- B) Almanya
- C) Bulgaristan
- D) Yunanistan
- E) Macaristan

26. Aşağıdaki ülkelerden hangisi, 2011 kış saati uygulamasına geçmemiştir?

- A) Çin
- B) İtalya
- C) Polonya
- D) Rusya
- E) İrlanda

27. Aşağıdakilerden hangisi, Türkiye Cumhuriyet Merkez Bankası organlarından biri değildir?

- A) Banka meclisi
- B) Genel kurul
- C) Yönetim kurulu
- D) Denetleme kurulu
- E) Yönetim komitesi

28. Muhalifler tarafından devrilen, Libya'nın eski lideri aşağıdakilerden hangisidir?

- A) Muammer Kaddafi
- B) Hüsnü Mübarek
- C) Beşar Esad
- D) Zeynelabidin Bin Ali
- E) Mahmud Ahmedinejad

29. Aşağıdakilerden hangisi, Avrupa Birliğinin Avro'dan önce kullandığı para birimidir?

- A) DM
- B) ECU
- C) USD
- D) FF
- E) TL

30. 2012 Uluslararası Cesur Kadınlar Ödülü aşağıdaki milletvekillerinden hangisine verilmiştir?

- A) Gülsüm Bilgehan
- B) Nimet Çubukçu
- C) Fatma Şahin
- D) Meral Akşener
- E) Şafak Pavey



## SINAVDA UYULACAK KURALLAR

- 1. Cep telefonu ile sınava girmek kesinlikle yasaktır.** Çağrı cihazı, telsiz, fotoğraf makinesi, cep bilgisayarı vb. cihazlar; silah ve benzeri teçhizatlar; müsvedde kâğıdı, defter, kitap, sözlük, sözlük işlevi olan elektronik aygıt, hesap cetveli, hesap makinesi, pergel, açıölçer, cetvel vb. araçlarla sınava girmek kesinlikle yasaktır. Sınava çanta, kalem, silgi, kalemtraş, saat vb., küpe, bilezik, broş vb. takı ile de girmek yasaktır. Bu şekilde sınava girmiş adayların kimlik bilgileri mutlaka Salon Sınav Tutanağına yazılacak, bu adayların sınavları geçersiz sayılacaktır.
- Sınav başladıktan sonra sınav süresinin  $\frac{3}{4}$ 'ü **tamamlanmadan önce ve sınavın son 15 dakikası** içinde adayın sınavdan çıkmasına izin verilmeyecektir. Bu süreler dışında sınav süresi bitmeden cevaplamayı tamamlayan adaylar, cevap kâğıdını ve soru kitapçığını salon görevlilerine teslim ederek sınav salonundan ayrılabilirler.
- Sınav evrakını teslim ederek sınav salonundan çıkan adaylar veya hangi nedenle olursa olsun sınav binasından ayrılan adaylar tekrar sınav salonuna alınmayacaktır.
- Sınav süresince görevlilerle konuşmak, görevlilere soru sormak yasaktır. Aynı şekilde görevlilerin de adaylarla yakından ve alçak sesle konuşmaları, adayların birbirinden kalem, silgi vb. şeyleri istemeleri kesinlikle yasaktır.
- Sınav sırasında, görevlilerin her türlü uyarısına uymak zorundasınız. Sınavınızın geçerli sayılması, her şeyden önce sınav kurallarına uymaya bağlıdır. Kurallara aykırı davranışta bulunanların ve yapılacak uyarılara uymayanların kimlik bilgileri tutanağa yazılacak ve sınavları geçersiz sayılacaktır. Sınav süresince kimlik belgelerinizi sıranın üzerinde bırakınız.
- Sınav sırasında kopya çeken, çekmeye kalkışan, kopya veren, kopya çekilmesine yardım edenlerin kimlik bilgileri Salon Sınav Tutanağına yazılacak ve bu adayların sınavları geçersiz sayılacaktır. Görevliler kopya çekmeye ya da vermeye kalkışanları uyarmak zorunda değildir, sorumluluk size aittir. Adayların test sorularına verdikleri cevapların dağılımları bilgi işlem yöntemleriyle incelenecek, bu incelemelerden elde edilen bulgular bireysel ya da toplu olarak kopya çekildiğini gösterirse kopya eylemine katılan adayın/adayların cevaplarının bir kısmı ya da tamamı iptal edilecektir. Sınav görevlileri bir salondaki sınavın, kurallara uygun biçimde yapılmadığını, toplu kopya girişiminde bulunduğunu raporlarında bildirdikleri takdirde, ÖSYM takdir hakkını kullanarak bu salonda sınava giren tüm adayların sınavını geçersiz sayabilir.
- Sınavda soru kitapçığı ve cevap kâğıdı birlikte, kapalı bir poşette açılmadan size verilecektir. Poşeti açınız, açmakta güçlük çektiğinizde salon görevlilerinden yardım isteyiniz. Size verilen cevap kâğıdının adınıza olup olmadığını kontrol ediniz. Başka bir aday adına düzenlenmiş sınav evrakını kesinlikle kullanmayınız.
- Soru kitapçığının sayfalarının eksik olup olmadığını, kitapçıkta basım hatalarının bulunup bulunmadığını kontrol ediniz. Soru kitapçığının sayfası eksik ya da basımı hatalıysa değiştirilmesi için Salon Başkanına başvurunuz.
- Soru kitapçığında ve cevap kâğıdında doldurmanız gereken alanlar bulunmaktadır. Bu alanları doldurunuz. Cevap kâğıdına yazılacak her türlü yazıda ve yapılacak bütün işaretlemelerde kurşun kalem kullanılacaktır. Tükenmez kalem ve dolma kalem kesinlikle kullanılmayacaktır. Cevapların cevap kâğıdına işaretlenmiş olması gerekir. Soru kitapçığına işaretlenen cevaplar geçerli değildir.
- Sınav sonunda soru kitapçıkları toplanacak ve ÖSYM'de tek tek incelenecektir. Soru kitapçığının bir sayfası bile eksik çıkarsa sınavınız geçersiz sayılacaktır.
- Soru kitapçığının sayfalarındaki boş yerleri müsvedde için kullanabilirsiniz.
- Soruları ve/veya bu sorulara verdiğiniz cevapları ayrı bir kâğıda yazıp bu kâğıdı dışarı çıkarmanız kesinlikle yasaktır.
- Sınav süresinin bittiği ilan edildiğinde soru kitapçıkları ve cevap kâğıtları salon görevlileri tarafından toplanıncaya kadar yerlerinizde kalınız.
- Sınav salonundan ayrılmadan önce soru kitapçığınızı ve cevap kâğıdınızı salon görevlilerine teslim etmeyi unutmayınız.
- Her testin cevaplarını cevap kâğıdında o test için ayrılmış alana işaretlemeye dikkat ediniz. İlgili testin cevaplarını cevap kâğıdında doğru alana işaretlemediğiniz takdirde oluşacak değerlendirme sonuçlarından sorumlu olduğunuzu unutmayınız.

*Bu testlerin her hakkı saklıdır. Hangi amaçla olursa olsun, testlerin tamamının veya bir kısmının Merkezimizin yazılı izni olmadan kopya edilmesi, fotoğrafının çekilmesi, herhangi bir yolla çoğaltılması, yayımlanması ya da kullanılması yasaktır. Bu yasağa uymayanlar gerekli cezai sorumluluğu ve testlerin hazırlanmasındaki mali külfeti peşinen kabullenmiş sayılır.*

**29 NİSAN 2012**  
**ÖZÜRLÜ MEMUR SEÇME SINAVI (ÖMSS)**  
**LİSANS**  
**İŞİTME – 1**

**GENEL YETENEK TESTİ**

1. A
2. C
3. E
4. D
5. A
6. B
7. C
8. A
9. D
10. B
11. E
12. D
13. B
14. A
15. E
16. A
17. D
18. E
19. A
20. D
21. D
22. E
23. A
24. E
25. C
26. B
27. C
28. A
29. B
30. C

**GENEL KÜLTÜR TESTİ**

1. A
2. D
3. C
4. B
5. A
6. E
7. D
8. B
9. A
10. C
11. D
12. C
13. E
14. B
15. D
16. C
17. B
18. A
19. B
20. B
21. E
22. A
23. D
24. C
25. A
26. D
27. C
28. A
29. B
30. E