

İLK DEFA DEVLET MEMURU OLARAK ATANACAKLAR İÇİN
SEÇME SINAVI (DMS)
GENEL YETENEK TESTİ - GENEL KÜLTÜR TESTİ

SORU ÖRNEKLERİ

Aşağıda, Genel Yetenek ve Genel Kültür testlerindeki soru tiplerine örnekler verilmiştir. Sınavdaki testlerde, bunlara benzer sorular bulunacaktır. Ancak, bunlardan farklı tipte sorular da sorulabilecektir. Testlerdeki soru sayısı ve soruların zorluğu, sınava girecek olanların öğrenim düzeylerine uygun olacaktır.

GENEL YETENEK

1. Başı dönünce, düşmemek için yol kenarındaki direğe ---- tutundu.

Bu cümlede boş bırakılan yere aşağıdakilerden hangisi getirilmelidir?

- A) kabaca B) bolca C) sıkıca
D) ufakça E) sertçe

2. I. Neredeyse çukura düşüyordu.
II. Nedense bizimle gelmek istemedi.
III. Nasıl olsa yarın da görüşeceğiz.
IV. Az kalsın otobüsü kaçırıyordu.

Yukarıdaki cümlelerin hangilerindeki altı çizili sözler anlamca birbirine yakındır?

- A) I. ve II. B) I. ve IV. C) II. ve III.
D) II. ve IV. E) III. ve IV.

3. I. Kardeşi hastalanmıştı.

II. Kardeşine eczaneden ilaç aldı.

Bu iki cümlenin, anlamı değişmeden tek cümleye dönüştürülmüş hali aşağıdakilerden hangisidir?

- A) Hastalanan kardeşine eczaneden ilaç aldı.
B) Kardeşi hastalanınca eczaneden ilaç alırdı.
C) Hasta, eczaneden kardeşine ilaç aldı.
D) Hasta kardeşine eczaneden ilaç aldırdı.
E) Kardeşim hastalanınca eczaneden ilaç aldırdı.

4. I. Mışıl mışıl uyudu.

II. Mendilini yüzüne örttü.

III. Yemek yedi ve yattı.

IV. Karasinekler rahat bırakmadı.

Yukarıdaki cümleleri, belirtilenlerin oluş sırasına göre sıralamak gerekse bu cümlelerin en uygun sıralanışı aşağıdakilerden hangisi olabilir?

- A) I., II., III., IV. B) III., IV., II., I.
C) III., I., II., IV. D) IV., II., III., I.
E) IV., I., III., II.

Diğer sayfaya geçiniz.

5. Biraz tartıştıktan sonra fikrimi kabul ettirdim.

Aşağıdakilerden hangisi, anlam bakımından bu cümleye en yakındır?

- A) Fikrimi kabul ettirebilmem için biraz tartışmam gerekti.
- B) Tartışma sırasında çeşitli fikirler ileri sürdüm.
- C) Fikirlerimi beğendiği için benimle hiç tartışmadı.
- D) Uzun süre tartıştığım halde fikrini değiştiremedim.
- E) Fikrini değiştirmeyeceğini bildiğim için tartışmaya girmedim.

6. Kışın karlı () soğuk günlerini geride bıraktık () baharın güneşli () ılık günlerine kavuştuk ()

Bu cümlede parantezle belirtilen yerlere, sırasıyla, hangi seçenekteki noktalama işaretleri konmalıdır?

- A) (,) (,) (,) (.)
- B) (;) (;) (,) (.)
- C) (,) (;) (,) (...)
- D) (,) (;) (,) (.)
- E) (,) (;) (;) (...)

7. Aşağıdaki cümlelerin hangisinde aynı anlama gelen birden fazla sözcüğün birlikte kullanılması **anlatım bozukluğuna** yol açmıştır?

- A) Şehrimizdeki boş alanları yeşillendirmeliyiz.
- B) Yöremizdeki doğal güzellikleri tanıtmalıyız.
- C) Tarihi eserlerimizi muhafaza edip korumalıyız.
- D) Çevre temizliğine gereken önemi vermeliyiz.
- E) Yerli ve yabancı turistlere yardımcı olmalıyız.

8. Aşağıdaki cümlelerin hangisinde **rica etme** anlamı vardır?

- A) Bizimle sinemaya gelecek misin?
- B) Akşama kadar işlerini bitirebilecek misin?
- C) Başka bir eve taşınacak mısınız?
- D) Bu havada sokağa çıkacak mısınız?
- E) Paketleri taşımama yardım eder misin?

9. (I) Vagonlar gürültülü bir biçimde yer değiştirdikleri halde, istasyonda garip bir durgunluk vardı. (II) Bir lokomotifin derin derin soluk aldığı duyuluyordu. (III) Bir diğeri durmadan buhar fışkırtıyordu. (IV) Rayların üzeri ıslak, pırlı pırlıydı. (V) Makinistler bazı lokomotiflerin bakımını yapıyorlardı.

Bu parçadaki numaralanmış cümlelerin hangisinde cansız bir varlık, canlıymış gibi anlatılmaktadır?

- A) I. B) II. C) III. D) IV. E) V.

10. I. Şimdiye kadar yapılan gözlemlerde, gezegenlerin atmosferlerinde bu saydıklarımızdan hiçbirine rastlanmamıştır.
- II. Bunlar yoksa en azından su buharı bulunmalıdır.
- III. Bir gezegende hayat olması için gezegenin atmosferinde ya oksijen ya da karbon-dioksit olmalıdır.
- IV. Buna göre gezegenlerde hayat olmadığı söylenebilir.

Yukarıdaki cümleler hangi seçenekte verilen sıraya göre okunursa düşüncenin akışında bir kopukluk **olmaz?**

- A) I., II., IV., III. B) II., IV., I., III.
- C) II., I., III., IV. D) III., II., I., IV.
- E) IV., I., II., III.

Diğer sayfaya geçiniz.

11. Toplantının yöneticisi, gençlere "lütfen" söz hakkı tanıyan, onları her an susturmaya hazır "yetişkin" kimliği takınmadı. Tersine, görüşlerini dile getirmeleri için onları yüreklendiren bir ağabey kimliğini sonuna kadar korudu. Bu tutumuyla ----.

Aşağıdakilerden hangisi, düşüncenin akışına göre bu parçanın devamı olamaz?

- A) gençlere, görüşlerini rahatça söyleme olanağı sağladı
B) bir gençlik toplantısının nasıl olması gerektiğini gösterdi
C) sorunların çok değişik açılardan ele alınabileceğini gösterdi
D) gençlere konuşma fırsatı vermenin hiç de zor olmadığını kanıtladı
E) yetişkinlere, gençlerin küçümsenemeyeceğini anlatmak istedi

12. İyi ressam, kötü ressam ne demektir? Hiçbir şey demek değildir. Çünkü kötü ressam yoktur. Bir kimse kötü resim yapıyorsa ressam değildir.

Bu parçada anlatılmak istenen aşağıdakilerden hangisidir?

- A) Kötü ressamı iyi ressamdan ayırmak güçtür.
B) Ancak iyi resim yapana ressam denebilir.
C) Ressamların hepsi iyi resim yapamaz.
D) İyi resim yapmak için çok çalışmak gerekir.
E) Kötü resim yapan bir ressam üne kavuşamaz.

- 13.

$$3 - \frac{1}{1 - \frac{1}{3}}$$

işleminin sonucu kaçtır?

- A) $\frac{3}{2}$ B) $\frac{5}{2}$ C) $\frac{1}{3}$ D) $\frac{2}{3}$ E) $\frac{4}{5}$

14. **a tek sayı olduğuna göre, aşağıdakilerden hangisi çift sayıdır?**

- A) a^3 B) a^2 C) $2a+1$
D) $a+1$ E) $3a$

- 15.

$$\begin{array}{r} A B C \\ + A B \\ \hline 2 0 4 \end{array}$$

Yukarıdaki toplama işleminde her harf sıfırdan ve birbirinden farklı birer rakamı gösterdiğine göre, C harfi hangi rakamın yerine kullanılmıştır?

- A) 4 B) 5 C) 6 D) 8 E) 9

16. Dört basamaklı A4B2 sayısının birler ve yüzler basamağındaki rakamların yerleri değiştirilerek A2B4 sayısı elde edilmiştir.

Bu iki sayının farkı aşağıdakilerden hangisidir?

- A) 208 B) 198 C) 188 D) 98 E) 89

Diğer sayfaya geçiniz.

17. a, b, c pozitif tamsayılar ve

$$\frac{a}{2} = \frac{b}{5} = \frac{c}{3}$$

olduğuna göre, aşağıdaki sıralamalardan hangisi doğrudur?

- A) $a < b < c$ B) $a < c < b$ C) $b < a < c$
D) $b < c < a$ E) $c < a < b$

18. $\frac{4}{5}$ inin $\frac{1}{2}$ si 16 olan sayı kaçtır?

- A) 35 B) 38 C) 40 D) 45 E) 50

19. $a = 3b$

olduğuna göre, $\frac{a-b}{a}$ nın değeri kaçtır?

- A) $\frac{2}{3}$ B) $\frac{2}{5}$ C) 2 D) 3 E) 5

20.

$$x - y = 3$$

$$x^2 - y^2 = 21$$

olduğuna göre, $x + y$ toplamı kaçtır?

- A) 6 B) 7 C) 8 D) 9 E) 10

21. Kilosu 625 000 TL olan kuruyemişin 120 gramı kaç TL dir?

- A) 65 000 B) 70 000 C) 75 000
D) 80 000 E) 85 000

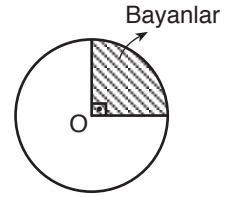
22. Bir otomobil belli bir yolu 5 saatte almıştır.

Bu otomobil, hızını $\frac{2}{5}$ oranında azaltsaydı aynı yolu kaç saatte alırdı?

- A) 1 B) 2 C) $\frac{25}{3}$ D) $\frac{10}{3}$ E) $\frac{7}{2}$

23.

Yandaki dairesel grafikte, bir işyerinde çalışan bayanların oranı 90 derecelik merkez açıyla gösterilmiştir.



Bu işyerinde 720 personel çalıştığına göre, bayan personel sayısı kaçtır?

- A) 180 B) 160 C) 140 D) 120 E) 90

24. Boyu, eninin 2 katı uzunlukta olan bir dikdörtgenin alanı 32 cm^2 dir.

Bu dikdörtgenin boyu ile eni arasındaki fark kaç cm dir?

- A) 1 B) 2 C) 3 D) 4 E) 5

Diğer sayfaya geçiniz.

GENEL KÜLTÜR

1. Mustafa Kemal, Kurtuluş Savaşı'nı nerede, ne zaman başlatmıştır?

- A) Erzurum: 23 Temmuz 1919
- B) Ankara : 26 Ağustos 1922
- C) İzmir : 9 Eylül 1922
- D) Samsun : 19 Mayıs 1919
- E) Sivas : 4 Eylül 1919

2. Mustafa Kemal'in Kurtuluş Savaşı döneminde katıldığı kongrelerden biri aşağıdakilerden hangisidir?

- A) Sivas Kongresi
- B) Edirne Kongresi
- C) Kars Kongresi
- D) Balıkesir Kongresi
- E) Alaşehir Kongresi

3. İlk TBMM hangi tarihte açılmıştır?

- A) 1 Kasım 1922
- B) 13 Ekim 1923
- C) 29 Ekim 1923
- D) 23 Nisan 1920
- E) 24 Temmuz 1923

4. Türk Milleti aşağıdaki antlaşmalardan hangisini geçersiz sayarak kurtuluş mücadelesini başlatmıştır?

- A) Kars Antlaşması
- B) Gümrü Antlaşması
- C) Ankara Antlaşması
- D) Moskova Antlaşması
- E) Sevr Antlaşması

5. Aşağıdakilerden hangisi Kurtuluş Savaşı muharebelerinden biri değildir?

- A) I. İnönü Muharebesi
- B) II. İnönü Muharebesi
- C) Anafartalar Muharebesi
- D) Sakarya Muharebesi
- E) Başkomutan Meydan Muharebesi

6. Mudanya Ateşkes Anlaşması hangi savaşın sonunda yapılmıştır?

- A) Kurtuluş Savaşı
- B) İkinci Dünya Savaşı
- C) Kırım Savaşı
- D) Balkan Savaşı
- E) Birinci Dünya Savaşı

7. Türklerin Anadolu'ya gelmeden önceki anayurtları nerededir?

- A) Sibirya'da
- B) Orta Asya'da
- C) Doğu Avrupa'da
- D) Kafkasya'da
- E) Güneydoğu Asya'da

8. Tarih boyunca Anadolu'nun sık sık istilalara uğradığı görülmüştür.

Bu durum, Anadolu'nun en çok hangi yönüyle ilişkilidir?

- A) Topraklarının çok verimli olması
- B) Zengin maden yataklarına sahip olması
- C) İkliminin yaşamaya çok elverişli olması
- D) Önemli ulaşım yolları üzerinde bulunması
- E) Üç tarafının denizlerle çevrili olması

Diğer sayfaya geçiniz.

9. Anadolu Selçuklu Devleti'nde şehir ve kasabalarda adalet işlerine kim bakardı?

- A) Beylerbeyi B) Subaşı C) Kadı
D) Sancak Beyi E) Defterdar

10. Anadolu'daki kervansaraylar en çok hangi amaca hizmet etmek için yapılmıştır?

- A) İç düzeni sağlamak
B) Dış tehlikelerden korunmak
C) Yoksul kişilere yardım etmek
D) Türk konukseverliğini göstermek
E) Ticareti geliştirmek

11. Aşağıdaki Türk devletlerinin hangisinde devletin resmi dili Türkçe olarak kabul edilmiştir?

- A) Selçuklular B) Karamanoğulları
C) Germiyanogulları D) Mengüçükler
E) Candaroğulları

12. Aşağıdakilerden hangisi, Mimar Sinan'ın yapıtlarından biridir?

- A) Süleymaniye Camii B) Fatih Camii
C) Sultan Ahmet Camii D) Beyazıt Camii
E) Mahmut Paşa Camii

13. Ölçeği bilinmeyen bir Türkiye haritasında 18 cm ile gösterilen bir akarsuyun gerçek uzunluğu 450 km dir.

Buna göre, haritanın ölçeği aşağıdakilerden hangisidir?

- A) 1/500 000 B) 1/1 000 000
C) 1/2 000 000 D) 1/2 500 000
E) 1/3 000 000

14. Türkiye'de iklim koşulları göz önüne alındığında aşağıdaki ürünlerden hangisinin yetişme alanı diğerlerinden daha dardır?

- A) Buğday B) Portakal
C) Şeker pancarı D) Üzüm
E) Elma

15. Aşağıdakilerden hangisi İç Anadolu Bölgesindeki ekonomik etkinliklerden biri değildir?

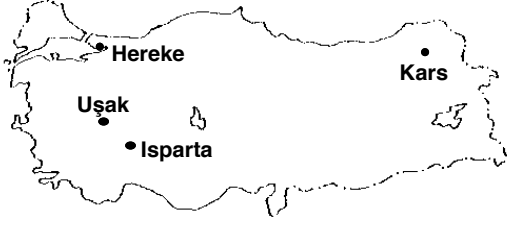
- A) Turfanda sebzeçilik B) Meyve üretimi
C) El sanatları D) Turizm
E) Enerji üretimi

16. Aşağıdaki kentlerin hangisinde demir-çelik fabrikası vardır?

- A) Balıkesir B) Batman C) İskenderun
D) Manisa E) Eskişehir

Diğer sayfaya geçiniz.

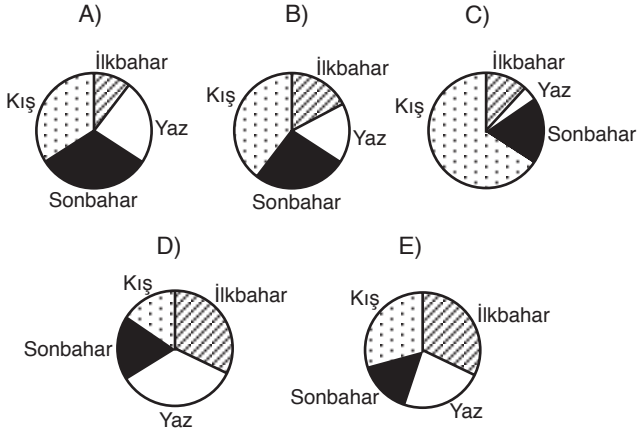
17.



Haritada belirtilen merkezler, aşağıdaki el sanatlarından hangisi ile ünlenmiştir?

- A) Bakır işleme B) Ağaç oymacılığı
C) Gümüş işleme D) Seramik
E) Halıcılık

18. Yağışın mevsimlere göre dağılışını gösteren aşağıdaki grafiklerden hangisi Akdeniz Bölgesine aittir?



19. 1982 Anayasasına göre, aşağıdakilerden hangisi Türkiye Cumhuriyetinin bir niteliği değildir?

- A) Federal devlet olma
B) Sosyal devlet olma
C) Atatürk milliyetçiliğine bağlı olma
D) Laik devlet olma
E) Hukuk devleti olma

20. Aşağıdakilerden hangisi TBMM'nin görevlerinden biri değildir?

- A) Gerektiğinde savaş ilanına karar vermek
B) Bakanları atamak
C) Bütçe tasarılarını görüşüp kabul etmek
D) Hükümet çalışmalarını denetlemek
E) Kanun çıkarmak

21. 1982 Anayasasına göre, TBMM genel seçimleri kaç yılda bir yapılır?

- A) 4 B) 5 C) 6 D) 7 E) 8

22. 1982 Anayasasına göre, başbakanı atama yetkisi aşağıdakilerden hangisine aittir?

- A) TBMM Başkanına
B) Yüksek Seçim Kuruluna
C) Bakanlar Kuruluna
D) Cumhurbaşkanı
E) Anayasa Mahkemesine

Diğer sayfaya geçiniz.

23. Ülkemizde, aşağıdakilerden hangisi seçimle iş başına gelir?

- A) Vali
B) Kaymakam
C) Belediye başkanı
D) Mal müdürü
E) Emniyet müdürü

24. Ceza ve hukuk mahkemeleri tarafından verilen kararların temyiz yeri aşağıdakilerden hangisidir?

- A) Anayasa Mahkemesi
B) Hakimler ve Savcılar Yüksek Kurulu
C) Sayıştay
D) Danıştay
E) Yargıtay

GENEL YETENEK TESTİ CEVAP ANAHTARI

1. C	7. C	13. A	19. A
2. B	8. E	14. D	20. B
3. A	9. B	15. C	21. C
4. B	10. D	16. B	22. E
5. A	11. C	17. E	23. A
6. D	12. B	18. C	24. D

GENEL KÜLTÜR TESTİ CEVAP ANAHTARI

1. D	7. B	13. D	19. A
2. A	8. D	14. B	20. B
3. D	9. C	15. A	21. B
4. E	10. E	16. C	22. D
5. C	11. B	17. E	23. C
6. A	12. A	18. C	24. E