

A

POLİS AKADEMİSİ POLİS MESLEK YÜKSEKOKULLARI ÖĞRENCİ ADAYLIĞI SINAVI

13 Eylül 2009

ADI :
SOYADI :
T.C. KİMLİK NUMARASI :
SALON NUMARASI :

GENEL AÇIKLAMA

1. Bu test Genel Yetenek ve Genel Kültür bölümlerinden oluşmaktadır. Bu test için verilen toplam cevaplama süresi **120 dakikadır (2 saat)**.
Bu bölümlerin başladıkları sayfalar şöyledir:

Genel Yetenek	1
Genel Kültür	19
2. Bu sınavda A ve B olmak üzere iki tür soru kitapçığı vardır.
3. Bu soru kitapçığının türü **A**'dır. Bunu cevap kâğıdınızdaki ilgili alana kodlayınız.
Bu kodlamayı cevap kâğıdınıza yapmadığınız ve ya yanlış yaptığınız takdirde, sınavınızın değerlendirilmesi mümkün değildir.
4. Cevaplamaya istediğiniz sorudan başlayabilirsiniz.
5. Test kitapçığındaki her sorunun yalnızca bir doğru cevabı vardır. Bir soru için birden çok cevap yeri işaretlenmişse o soru yanlış cevaplanmış sayılacaktır.
6. Değiştirmek istediğiniz bir cevabı, yumuşak bir silgiyle, cevap kâğıdını örselemeden, temizce siliniz ve yeni cevabınızı işaretlemeyi unutmayınız.
7. Cevap kâğıdınızı buruşturmayınız, katlamayınız ve üzerine gereksiz hiçbir işaret koymayınız.
8. **Test puanlanırken her bölümdeki doğru cevaplarınızın sayısından yanlış cevaplarınızın sayısının dörtte biri düşülecek ve kalan sayı o testle ilgili ham puanınız olacaktır. Bu nedenle bir soru hakkında hiçbir fikriniz yoksa o soruyu boş bırakınız. Ancak, soruda verilen seçeneklerden birkaçını eleyebiliyorsanız kalanlar arasından doğru cevabı kestirmeniz yararınıza olabilir.**
9. Sınavda uyulacak diğer kurallar bu kitapçığın arka kapağında belirtilmiştir.

Bu testlerin her hakkı saklıdır. Hangi amaçla olursa olsun, testlerin tamamının veya bir kısmının Merkezimizin yazılı izni olmadan kopya edilmesi, fotoğrafının çekilmesi, herhangi bir yolla çoğaltılması, yayımlanması ya da kullanılması yasaktır. Bu yasağa uymayanlar gerekli cezai sorumluluğu ve testlerin hazırlanmasındaki mali külfeti peşinen kabullenmiş sayılır.

A

GENEL YETENEK

2009 - PMYO

1. Aşağıda verilen dizelerin hangisindeki altı çizili sözcük ilk anlamıyla (temel anlamıyla) kullanılmıştır?

- A) Hayır hayır, dağlar yoktu
Rüzgârlara yaslandım hep
- B) Sıcak bir yaz günü, akşam
Uzaklardaki çocuklarımızı konuştuğumuz
- C) Bir şenlik ateşiydin sen
Baktıkça ısıtan, ısıtan
- D) Yıllardır aradığım bu adaya
Düşlerimin aydınlığıyla vardım sonunda
- E) Uzaktan gelen bu yanık havaya
Bahçedeki karanfil kokusu siniyordu

2. Gemiler kızaktan kaydırılıp denize indirilirken bayram

edilir (çok sevinilir). Hurdaya çıktığında (kullanılmaz

duruma geldiğinde) da hüznü veda partisi düzenlenir. Bunların dışında doğum tarihleri (yapılış yılları)

bile unutulur gemilerin. Anımsansa bile ya seferdedir

gemiler ya uzak bir yerde dalgalarla gürleşmekte (yük

taşımakta) ya da ıssız bir rıhtımda uyulamakta (de-

mirlemiş beklemekte).

Bu parçadaki numaralanmış sözlerden hangisiyle birlikte verilen açıklama anlamca yanlıştır?

- A) I. B) II. C) III. D) IV. E) V.

3. Hafta sonuna alınan toplantı yüzünden bütün planlarım suya düştü.

Altı çizili sözün bu cümleye kattığı anlam aşağıdakilerin hangisinde vardır?

- A) Kapı aniden kapandı ve salondan gelen sesler duyulmaz oldu.
- B) Eliindeki zarfı masaya bırakmadan önce bir süre bekledi.
- C) Misafirlerimizi bahçede ağırlamak istemiştik, yağmur yağınca bunu gerçekleştiremedik.
- D) Gelmeyeceğini bildiğim için sana bilet almadım.
- E) Merdivenlerden yavaş yavaş inerken o gün akşamı nasıl edeceğimi düşünüyordum.

4. Aşağıdaki cümlelerin hangisinde söz konusu işin her zaman yapıldığı anlamı vardır?

- A) Senin annen bu yemeği çok güzel yapıyor.
- B) Kendine yeni bir araba almak istiyor.
- C) Sorunu çözebilmek için daha ayrıntılı bir rapor hazırlaması gerekiyor.
- D) Fırının karşısındaki boş alana lunapark kurulması isteniyor.
- E) Kurumlarda, halkla ilişkiler bölümünün olması gerekiyor.

Diğer sayfaya geçiniz.

A

2009 - PMYO

5. (I) Doğal güzellikleriyle insanı büyüleyen kent, temizliğiyle de dikkat çekiyor. (II) İnsana gösterilen saygı ile doğaya gösterilen özen açıkça ortada. (III) Kentin merkezinde her yere yürüyerek on on beş dakikada ulaşabilirsiniz. (IV) Arnavut kaldırımlı dar sokaklarda dolaşırken musluklarından su akan tarihî çeşmelere rastlıyorsunuz. (V) İki adımda bir de karşınıza müze çıkıyor. (VI) Avrupa'daki en büyük "ulaşım müzesi" burada bulunuyor.

Bu parçadaki numaralanmış cümlelerin hangisinde "söz konusu kente özgü bir durum" dile getirilmiştir?

- A) I. B) II. C) III. D) IV. E) VI.

6. (I) Newberry ödüllü yazar Katherina Paterson'ın 1970'li yıllarda yazdığı bir kitap sinemaya uyarlandı. Yazar, bu kitapla ilgili olarak şunları söylüyor: (II) Bu kitabı sadece oğlum okusun diye yazmıştım. (III) Kitapta, kendimden, yaşama bakış açımdan ve beklentilerimden söz ederek oğluma bir yaşam dersi vermeyi amaçlamıştım. (IV) Soyadı Paterson olmayan birilerinin ilgilenip okuyacağını, bundan zevk alabileceğini bilemezdim. (V) Hele kitap sayfalarının film karelerine dönüşeceğini aklımdan bile geçirmemişim. (VI) Bugün hem çok satılması hem de izleyici sayısının bu orana ulaşması, doğrusu ya, beni çok mutlu etti.

Bu parçadaki numaralanmış cümlelerin hangilerinde, beklenmeyen bir durumun gerçekleştiğinden söz edilmiştir?

- A) I., II., IV. B) I., III., V.
C) II., IV., VI. D) III., IV., V.
E) IV., V., VI.

7. (I) Tekne yapımında çok ileri olan, yaman denizci Foçalılar, MÖ 800-600 yıllarında yurtlarını bırakarak Akdeniz'e açıldılar. (II) Dev dalgalarla boğuşarak geçtikleri bu denizin kıyılarında birçok koloni kurdular. (III) Ege Denizi'ni, Yunan kıyılarını geçtiler, Adriyatik'e girdiler, İtalya, Sicilya ve Korsika'da koloniler oluşturdular. (IV) Fransa sahillerine ulaştılar, Marsilya'yı kurdular. (V) Hatta ulaşılamaz sanılan İspanya sahillerine ulaşmayı başarıp Tartassos şehrini inşa ettiler.

Bu parçadaki numaralanmış cümlelerin hangilerinde nesnellik söz konusudur?

- A) I. ve II. B) I. ve V. C) II. ve IV.
D) III. ve IV. E) IV. ve V.

8. **Aşağıdaki cümlelerin hangisinde karşılaştırma yapılmıştır?**

- A) Her yıl 80 milyon artan dünya nüfusuyla birlikte su gereksinmesi de kentlerde büyük boyutlara ulaşmıştır.
B) Fransa'da bir kişi günde ortalama 150 litre su tüketirken bir Etiyopyalı, günde sadece 5 litre suyla yetinmek zorundadır.
C) Küresel ısınma sonucu ortaya çıkan kuraklık ve taşkınlar, çok fazla su kaybına yol açmaktadır.
D) Gelişmekte olan ülkelerde hastalıkların % 80'i temiz su azlığından kaynaklanmaktadır.
E) Su, tarım ve enerji üretimi alanlarında ekonomik gelişmeyi sağlama amacıyla çok fazla tüketilmektedir.

Diğer sayfaya geçiniz.

A

2009 - PMYO

9. Aşağıdaki cümlelerden hangisi tanım değildir?

- A) Yazıda ya da konuşmada kolay okunur, söylenir, anlaşılır olma durumu akıcılık yoluyla sağlanmaktadır.
- B) Anlatım biçimi, bir yazar ya da şairin düşünce ve duygularını anlatmada benimsediği yöntemdir.
- C) Araştırma, bir konuyu kitaplar, belgeler üzerinde incelemeler yaparak anlamının, ortaya çıkarmasının adıdır.
- D) Yazın ve sanat yapıtlarında bir varlığı, nesne ve durumu daha iyi anlatabilmek için yararlanılan niteliklerden her biridir ayrıntı.
- E) Açıklama, bilim, sanat ve benzeri alanlardaki bir konuşmayı, bir yazıyı, meslekten olmayan kişilerin anlayabilmesi için sözcük ve cümlelerle genişleterek bildirme işidir.

10. (I) Eski Türklerde kayın ve ardıç ağaçları kutsal sayılmaktaydı. (II) Her Şaman ayin yaparken yanında kayın ağacı bulundururdu. (III) Ağacı, gökle yeri birbirine bağlayan bir araç olarak görürlerdi. (IV) Gökteki ebedî kamın (Şamanın) kapısı önünde bir ağaç olduğunu düşünürlerdi. (V) Bu ağacın dallarında kuş biçiminde ruhların oturduğunu ve bir çocuk doğduğu zaman ağaçtan bir kuşun aşağı indiğini...

Bu parçadaki numaralanmış cümlelerle ilgili olarak aşağıda verilenlerden hangisi yanlıştır?

- A) I. cümlede bir inanıştan söz edilmiştir.
- B) II. cümlede bir bilgi aktarılmıştır.
- C) III. cümlede bir işlev dile getirilmiştir.
- D) IV. cümlede bir varsayımdan söz edilmiştir.
- E) V. cümlede batıl inançlar yerilmiştir.

11. (I) Kapalı avlulu medrese örneklerinden biri olan Yakutiye Medresesi, 1995'te yöre kültürünü yansıtan eserlerin sergilenebilmesi için restore edildi. (II) Medresenin basık kemerli ve oymalı anıtsal taç kapısı, tüm anıtsal yapılarda olduğu gibi zengin süslemelerle bezeli. (III) Taç kapının yan yüzlerinde silme kemerle çevrili nişler içerisinde bulunan, iki pars ve kartal figüründen oluşan hayat ağacının, Yakut Bey'in amblemi olduğu sanılıyor. (IV) Medresenin güneyindeki tonozun üzerinde, medreseye vakfedilmiş altı köyün ismini içeren "vakfiye", mermer üzerine sülüs yazı ile asılmış durumda. (V) Medresenin doğu kısmında, yapıya bitişik olan bir türbenin kime ait olduğu konusunda kesin bir bilgi yok.

Bu parçadaki numaralanmış cümlelerle ilgili olarak aşağıda verilenlerden hangisi yanlıştır?

- A) I. cümlede amaçtan söz edilmiştir.
- B) II. cümlede benzerlik dile getirilmiştir.
- C) III. cümlede tahminde bulunulmuştur.
- D) IV. cümlede açıklama yapılmıştır.
- E) V. cümlede beğeni dile getirilmiştir.

12. 1992 yılında temeli atılan 1000 kişilik olimpik yüzme

havuzu sonunda tamamlandı. Çanakkale'de bir ha-

vuz yokken bile başarıdan başarıya koşan sporcu-

lar, bundan sonra rekorları altüst edecek. Ulusal ve

uluslararası su sporlarına da ev sahipliği yapacak

olan olimpik havuz, Çanakkale'nin ekonomisine de

büyük katkı sağlayacak. Şimdiden, 2009 yılında ya-

pılacak olan Avrupa Şampiyonası için Gençlik ve

Spor Genel Müdürlüğünden söz alındı. Havuzdan,

vatandaşlarda düşük ücretlerle yararlanabilecekler.

Bu parçadaki numaralanmış sözlerin hangisinde bir yazım yanlışı vardır?

- A) I. B) II. C) III. D) IV. E) V.

Diğer sayfaya geçiniz.

A

2009 - PMYO

13. Aşağıdaki cümlelerin hangisinde bir yazım yanlışı vardır?

- A) Sen yokken projeye ilgili birtakım gelişmeler oldu.
- B) Son günlerde bir hayli yorgun görünüyorsun.
- C) Onu her yerde aradım ama bulamadım.
- D) Geziye katılanların birçoğu benden yaşça büyüktü.
- E) Sonuçlar açıklanana kadar hiçbir şey söylemek istemiyor.

14. Kıyı boyunca, bir baştan bir başa nerede durursan

dur I nereden bakarsan bak fark etmez II Günün

hep güzel başladığı yerdesindir. Zeytin ağaçlarının

dibinde kıpkırmızı sardunyalar III ayaklarının altında

dipsiz bir deniz, başının üstünde Ege'nin masmavi

gökyüzü IV Güneşin en güzel doğduğu yerde,

Gündoğan'dasındır V

Bu parçadaki numaralanmış noktalama işaretlerinden hangisi yanlış kullanılmıştır?

- A) I. B) II. C) III. D) IV. E) V.

15. Türk Dil Devrimi, her şeyden önce bir anlayış devrimidir. Bu (I) çok kısa bir sürede gerçekleşmiştir. Bu devrimle Türk dilinin yabancı diller egemenliği altında bulunmasını hoşgörme (II) hatta gerekli sayma (III) kendi dilini hor görme (IV) anlayışı değişmiş (V) bunun yerini ulusal dile saygı gösterme anlayışı almıştır.

Bu parçadaki numaralanmış yerlerin hangisine virgül (,) getirilemez?

- A) I. B) II. C) III. D) IV. E) V.

16. Aşağıdaki cümlelerin hangisinde "üstelik" sözcüğü anlatımı bozmaktadır?

- A) Evden saat 7.00'de çıkıyorum, üstelik kahvaltımı da yapmış oluyorum.
- B) Ona, geleceğimi söylemişim ama üstelik o, evde yoktu.
- C) Görüşmeyeli üniversiteyi bitirmiş, üstelik işe bile girmiş.
- D) İlk kez bir film galasına gittim, üstelik çok beğendiğim başrol oyuncusuyla da tanışma fırsatı buldum.
- E) Bu yağmurda dışarıya çıkmış, üstelik şemsiyesini de almamış.

Diğer sayfaya geçiniz.

A

2009 - PMYO

17. Aşağıdaki cümlelerin hangisinde bir anlatım bozukluğu vardır?

- A) Hem kendimizi hem de şirketimizin geleceğini düşünerek hareket etmeliyiz.
- B) Çalışma arkadaşlarım ve ben onun yokluğuna alışamadık.
- C) Hep birlikte mutlu olunca bizler de mutluluk duyacağız, dedi.
- D) Yaşanan sıkıntılar yalnızca onu değil, hepimizi etkiliyor.
- E) Bu olumsuz koşulları el ele vererek aşacağız.

19. Aşağıdaki cümlelerin hangisinde bir anlatım bozukluğu vardır?

- A) Bundan sonra sağlığına özen gösterecek, kendini fazla yormayacak.
- B) Değişik kurslara katılarak kendini oyalamaya çalışıyordu.
- C) Kendi kendine söz verdi, artık düzenli olarak çalışacak.
- D) Konuşmasına başlamadan önce dinleyicilere kendini tanıştırdı.
- E) Biz de sizinle aynı düşüncededik ama böyle yapmamızı kendi istedi.

18. Aşağıdaki cümlelerin hangisinde bir anlatım bozukluğu vardır?

- A) Okulumuzda yapılan şenlikler boyunca son derece önemli çabalar ortaya konmuştur.
- B) Yaşadığımız bütün sıkıntılara karşın iyimserliğimizi yitirmemeliyiz.
- C) Görüşlerine başvurduğumuz kişilerden çoğunun benzer endişeleri taşıdığını gördük.
- D) Okullardaki sosyal etkinlikler, çocukların sorumluluk duygusunu ve paylaşma alışkanlığını geliştirmektedir.
- E) Bireyi, başarıya götüren etkenler arasında okul-aile-öğrenci iş birliğinin önemi yadsınmamalıdır.

20. Aşağıdaki cümlelerin hangisinde bir anlatım bozukluğu vardır?

- A) Tiyatroyu da severim ama sinemaya daha çok giderim.
- B) Ödül almış filmleri izlemek insana farklı bir zevk veriyor.
- C) Eleştirilerini okuduğum filmin gösterime girmesini heyecanla bekliyorum.
- D) Bu röportajda yönetmen, filmi çekerken kamera arkasında neler yaşadıklarını anlatmış.
- E) Film çekimi sırasında herkes benden daha çok eğleneliydi.

Diğer sayfaya geçiniz.

A

2009 - PMYO

21.

- I. Topkapı Sarayı'nda karga kâbusu yaşanıyor.
- II. Bu zararları önlemek amacıyla yetkililer güvenlik görevlilerine sapan verdi ama bu da işe yaramadı.
- III. Kargalar yüzlerce yıllık oymaları kirletiyor, bahçeleri talan ediyor; havalandırmaların silikonlarına, camların macununa, tesisatın kablolarına zarar veriyor.
- IV. Şimdi saraya, eskiden olduğu gibi, yırtıcı doğanlar getirilmesi düşünülüyor.

Yukarıdaki cümlelerin anlamlı bir bütün oluşturması için hangilerinin birbiriyle yer değiştirmesi gerekir?

- A) I. ile II. B) I. ile III. C) II. ile III.
D) II. ile IV. E) III. ile IV.

22.

- I. Vücudumuzla birlikte beynimizi de düzenli olarak çalıştırmalıyız.
- II. Düzenli egzersiz yaparak vücudumuzu diri ve sağlıklı tutabiliriz.
- III. Aynı şey beyin için de geçerli.
- IV. Böylece beyin fonksiyonlarımızın bozulmasını engelleyebilir ya da geciktirebiliriz.
- V. Çeşitli matematiksel işlemler ve sesli okuma egzersizleriyle zihinsel fonksiyonlarımızı geliştirebiliriz.

Yukarıdaki numaralanmış cümlelerin anlamlı ve kurallı bir bütün oluşturacak biçimde sıralanışı aşağıdakilerden hangisidir?

- A) I., III., IV., II., V. B) II., I., IV., III., V.
C) II., III., I., V., IV. D) V., II., IV., III., I.
E) V., IV., II., I., III.

23.

Dünya tiyatro tarihinde önemli bir yere sahip olan oyuncu, 19. yüzyılın başlarında tiyatro sanatına ilişkin düşüncelerini, görüşlerini belirtir. (I) Oyunculğun önemi üzerinde durur ve oyuncunun oynadığı rolün hakkını verebilmesi için canlandığı karakteri, gerçekmişçesine kabullenmesi gerektiğini söyler. (II) Bunu yapabilmesi için anılarından yararlanması gerekir. (III) Örneğin bir melodi ya da zihnine kazılmış acıklı bir yüz, "daha dün gibi" dediği mutlu bir an... (IV) Tüm bu kişisel anıları anımsarken mimiklerinde ve genel ruh hâlinde oluşacak değişim, oynadığı karakterin duygularını daha gerçekçi bir şekilde yansıtmaya olanak verecektir. (V)

Bu parçadaki numaralanmış yerlerden hangisine "Oyundaki karakter ağlıyorsa oyuncu da gerçekten hüzünlenmeli, kahkahalar atıyorsa gerçekten mutlu olduğunu hissettirmelidir, der." cümlesi getirilebilir?

- A) I. B) II. C) III. D) IV. E) V.

24.

(I) Yurdumuzda elde edilen zeytinyağının % 40'ı Ayvalık'ta üretiliyor. (II) Dolayısıyla burası, zeytinyağı sektöründe pazar koşulları ve fiyat belirlemede önemli bir merkez durumunda. (III) Ayvalık'ta zeytinyağı üretimiyle birlikte bir yan sektör bulunuyor. (IV) Bu, zeytinyağı tarımı ve tarım aletleri yapımıdır. (V) Bu alanın alt yapısını oluşturan kazan ve filtre yapımı gibi sistemlerin kurulması konusunda hizmet veren firmalar var. (VI) Bu firmalar ihracat da yaparak Ayvalık'ı bu alanda tanınmış bir merkez konumuna getirmiştir.

Bu parça iki paragrafa ayrılmak istense ikinci paragraf hangi cümleyle başlar?

- A) II. B) III. C) IV. D) V. E) VI.

Diğer sayfaya geçiniz.

A

25. Kıyılarda açık yeşil, daha sonra koyu yeşil, derinlerde giderek maviden laciverde dönüşen Akdeniz'in renkleri hoşça kalın! Makilikler, sedir ağaçları, okaliptüsler, sığıla ormanları sağlıcakla kalın! Doğasıyla, tarihiyle görebildiğimiz güzellikler! Sizlerin güzelliğini, benim gibi gelecek kuşakların da görebilmesi dileğiyle; tarih ve doğa değerlerimize turizm adına kıyılmaması dileğiyle hoşça kalın!

Bu parçanın anlatımıyla ilgili olarak aşağıdakilerden hangisi söylenemez?

- A) Betimlemelere başvurulduğu
- B) Yinelemelere yer verildiği
- C) İstek bildiren cümleler kullanıldığı
- D) Neden-sonuç içeren cümlelere yer verildiği
- E) Kaygıları yansıtan sözler kullanıldığı

26. Bu kent, kendisini öylesine gizlemiş ki tadına varabilmek, onu anlayıp sevebilmek emek ister. Onun kılıfını soymak, sırlarını öğrenebilmek zor bir iştir ama buna değer. Bunu yapabildiğinde, öyle bir büyülenirsin ki bu büyüün etkisinden istesen de kurtulamazsın.

Bu parçanın anlatımıyla ilgili olarak aşağıdakilerden hangisi söylenemez?

- A) Söz sanatlarına başvurulmuştur.
- B) Kişisel düşünceler yansıtılmıştır.
- C) Karşıtıklardan yararlanılmıştır.
- D) Yakın anlamlı sözler birlikte kullanılmıştır.
- E) Anlamca kesinlik bildiren cümleler kullanılmıştır.

27. Öğretmen tahtaya şöyle bir cümle yazdı: "Hava kapalı değildir." Ardından da ekledi: "Bakın, böyle bir cümleyi aynı sözcüklerle yinelediniz mi ezbercilik olur bu. Böyle yapmaz da 'Hava açıktır.' ya da 'Hava güneşlidir.' biçiminde söylerseniz kendi sözcüklerinizle dile getirmiş olursunuz düşünceleri. Anlama budur işte." Verdiği bu örnekle öğretmenimiz ----.

Bu parçada boş bırakılan yere, düşüncenin akışına göre aşağıdakilerden hangisi getirilemez?

- A) ezberciliğin ne olduğunu anlatmaya çalışıyordu bize
- B) basmakalıp düşünce ve sözlerden kurtulmak gerektiğini öğretmeye çalışıyordu bize
- C) taklitçiliğe değil özgün olmaya yönlendiriyordu bizi
- D) yineleme açmazından kurtarmak istiyordu bizi
- E) kim, nerede, ne zaman, nasıl gibi soruların açında bunalımdan kurtarmak istiyordu bizi

28. Avlanmanın, İlk Çağ insanının yaşantısında çok büyük yeri ve önemi vardı. Bu, mağaralara yapılmış resimlerden de anlaşılmalıdır. Avcılar, ava çıkmadan önce avın başarılı geçmesi dileğiyle kimi törenler yaparlardı. Törenlerde hem eğlenir hem de avlanma taktikleri üzerine konuşur, birbirlerini yüreklendirirdi. Gelenekselleşen bu törenlerin, Türk bozkır kültüründe Gök Tanrı inancı ile harmanlanarak zenginleştiği ve simgesel bir hâl de aldığı bilinmektedir.

Bu parçada avlanmayla ilgili olarak aşağıdakilerin hangisine değnilmemiştir?

- A) Av törenlerinin yapılma nedenine
- B) Hazırlıkların ne kadar sürdüğüne
- C) Cesaret isteyen bir iş olduğuna
- D) Törenlerin nesilden nesile aktarılan özellikler taşıdığına
- E) Av törenlerinin ne zaman yapıldığına

Diğer sayfaya geçiniz.

29. Geçen akşamdı, ilkyazı andıran ılık havada balkondaydım. İncecik bir duman tüten bacanın ardından ay çıktı. Dolunaydı. Hava usul usul esmerleşti, karrardı. Lacivertle gece mavisi arası bir renge bürünmüş gökyüzünde ay şimdi daha parlaktı. Önce portakal rengiydi, sonra giderek saman rengine döndü. Sanki zamanla soluyordu. Şişli'nin köhnemiş apartmanlarıyla çevrili arka bahçemize, durup durup hayaller serpti. Ben, ayı, dumanlı bacanın ardından çıkarken görmüştüm. Ahmet Haşim'de ay, "fısıltıyı andıran bir hışırtı"yla çıkagelir. İki büyük fıstık ağacının arkasında kıpkırmızıdır.

Bu parçada ayın doğuşuyla ilgili olarak aşağıdakilerden hangisine değinilmemiştir?

- A) Düş kurmaya uygun bir ortam olduğuna
- B) Gökyüzünün durumuna
- C) Ayın renkten renge girdiğine
- D) Yazarda, geçmişe özlem duyguları uyandırdığına
- E) İnsanlarda farklı etkiler yarattığına

30. Anadolu'nun milyonlarca yıl boyunca Avrupa, Asya ve Afrika kıtaları arasında hayvan ve insan göçlerine ev sahipliği yaptığı biliniyor. Bu nedenle ülkemizde çok sayıda kalıntı var. Bu durum hem ülkemizden hem de dışarıdan çok sayıda bilim insanının ilgisini Anadolu'ya yoğunlaştırıyor. Özellikle son 20-30 yılda yapılan araştırmalardan birinde Dursunlu'da kuvars ve çakmak taşından yapılmış aletler bulundu. Bu aletler, Anadolu'daki insana ait izlerin bilinenden çok daha eski tarihlere uzandığının bir göstergesi. Dursunlu buluntuları günümüzden 900.000 yıl öncesine ait. Bu, Afrika'dan kuzeye göç etmiş ilk insan türü olan Homo erectusların Anadolu'da da yaşamış olduğunun kanıtı.

Bu parçadan Anadolu'yla ilgili olarak aşağıdakilerin hangisi çıkarılamaz?

- A) İnsanlık tarihinin başladığı yer olduğu
- B) Arkeolojik veriler açısından zengin olduğu
- C) Ulaşım açısından önemli bir yerde bulunduğu
- D) Bilimsel birçok çalışmaya konu olduğu
- E) Geçmişte birbirinden farklı kültürleri barındırdığı

2009 - PMYO

31. İlköğretimi bitirip ortaöğretime başladığım yıl, soluğu tiyatro çalışmalarına da yapılan Denizli Halkevinde aldım. Yiyecek değiller ya, deyip çıktım yöneticilerin karşısına. O zamanlar bize, başı hep dik durmayı öğretiyordu büyüklerimiz. Ben, tiyatro çalışmalarına katılmaya geldim, sahneye çıkacağım, dedim. İlk başladığımda çok acemiydim. Hep küçük roller verildi bana. Hiçbirini yüksünmeden yapmaya çalıştım. Çünkü verilen her rolün bana bir şeyler kazandıracakını biliyordum.

Aşağıdakilerden hangisi böyle diyen kişinin özelliklerinden biri olamaz?

- A) Yetişkinlerin önerileri doğrultusunda davranma
- B) Amacına ulaşabilmek için seçim yapmadan isteneni yapma
- C) Dileğini, aracıya gerek duymadan söyleyebilme
- D) Oyuncululuğuyla usta yönetmenlerin dikkatini çekme
- E) Oynadığı her rolün kendini geliştirmesinde önemli olduğuna inanma

32. Kadife pantolon ya da kot giyerlerdi. Ayaklarında hem ucuz hem pratik botlar... Bir kazak ya da bir mont, gecenin ayazında onları sıcak tutardı. Sabahları alaca karanlıkta ya da gece yarısı, ellerinde kitaplar, çantalar... Tartışarak geçerlerdi. Kaldıkları evler, yurtlar, gittikleri kantinler, girdikleri sınıflar, yaşadıkları kentler sanki bir büyük forumdu. Ceplerinde pek para bulunmazdı ama yine de kitaplar alır; sık sık tiyatroya, sinemaya giderlerdi.

Bu parçada sözü edilen kişilerle ilgili olarak aşağıdakilerin hangisi söylenemez?

- A) Ekonomik durumlarının giyim kuşamlarına yansıdığı
- B) Maddi durumlarının iyi olmadığı
- C) Sanatsal etkinliklere canlılık kattıkları
- D) Buldukları yerlerde tartışma ortamı yarattıkları
- E) Yoksulluklarını belli etmemek için değişik eylemlere başvurdukları

A

33. Dar, uzun bir sokaktı. Lodos esmeye başlayınca sokak deniz kokardı. Demirciler, dökmeçiler, urgancılar, yorgancılar, nalburlar... Nalbur dükkânında ne ararsan bulunurdu. Yan yana iki de baharat dükkânı vardı. Baharatlar, boyacılardan gelen asit kokusunu bastırır, uzak ülkeleri akla getirirdi. Arada bir, kümes hayvanları taşıyan at arabasıyla dökme demir taşıyan kamyonun aynı anda girdiği olurdu sokağa. İki taşıt burun buruna gelince bir kıyamettir kopardı. Şoför önce basardı kornaya, sonra öfkeyle atlayıp kamyon- dan, arabacıyı tartaklardı. Atlar ürker, arka ayakları üzerine dikilip kişnemeye başlar; kafesteki horozlar, tavuklar, hindiler huysuzlanırdı.

Bu parçada sözü edilen sokakla ilgili olarak aşağıdakilerden hangisine değinilmemiştir?

- A) Rüzgârın yön değiştirmesinin havayı nasıl etkilediğine
- B) İnsanların birbiriyle uyum içinde yaşadığına
- C) Birbirinden farklı işlerin yapıldığı dükkânların bir arada bulunduğuna
- D) Seyrek görülen bir olayın ayrıntılarına
- E) Sıra dışı olaylardan kimi hayvanların nasıl etkilendiğine

34. Buraları gezip görmüş olanların önerileri doğrultusunda, uygun görülen yerlerde konakladık. Yeşilini bin bir türlü sarıya boyamaya giriştiği doğanın tadını olabildiğince çıkararak yol aldık. Esprili arkadaşlarımızın yanı sıra yol boyunca orman da arkadaşlık etti bize. Amasra'yı geçip Çakraz'a doğru yönelince yeşillik denizi içinde kaldığımızın ayırımına vardık. Biraz Akdeniz, biraz Marmara, biraz da Karadeniz Bölgelerinin bitkilerinden oluşan bir harman içinde keyifle, geceyi geçireceğimiz Akkonak'a ulaştık.

Bu parçada sözü edilen yolculukla ilgili olarak aşağıdakilerden hangisi söylenemez?

- A) Ön bilgi edinilerek yola çıkıldığı
- B) Eğlenceli bir yolculuk olduğu
- C) Doğal güzelliklerin bireylerde değişik duygular uyandırdığı
- D) Konaklama yerine yaklaşıldıkça bitki örtüsünün sıklaştığı
- E) Yol boyu bitki örtüsünün karma bir özellik taşıdığı

2009 - PMYO

35. Bugünkü halk yazınımıza yakından baktığımızda on- da çok eski bir anlatı geleneği görürüz. Bu gelenek, hiçbir Batı ya da Doğu toplumunun anlatı geleneğinden geri değildir. Tam tersine, gerek evrensel içeriği gerek özgün kurgularıyla en gelişmiş, en zengin anlatı geleneklerinden biridir. Bugün birer yenilik olarak değerlendirilen nice anlatı yöntemi, bizim halk anlatılarımızda yüzyıllarca önce bol bol, hem de yalnızca biçimsel değil, işlevsel olarak da kullanılmıştır.

Bu parçadan halk yazınımızla ilgili olarak aşağıdakilerin hangisi çıkarılamaz?

- A) Kuşaktan kuşağa iletilen özler taşıdığı
- B) Özgünlüğüyle uluslararası beğeni topladığı
- C) Kurgusunda kendine özgü nitelikler barındırdığı
- D) Anlatı yöntemlerinin çağdaş özellikler içerdiği
- E) Öteki toplumlarla karşılaştırılabilecek düzeyde olduğu

36. Barcelona'nın ünlü açık hava müzesi Poble Espanyol, 1929 yılında, şehirdeki uluslararası bir fuar için Montjuic Tepesi üzerine yapılmış. Müzenin amacı ziyaretçilere İspanyol mimarisinin temsil bir örneğini göstermek. Poble Espanyol, İspanya'nın hemen her bölgesinin farklı mimari tarzlarını temsil eden yapıların benzerlerinin inşa edildiği bir köy niteliği taşıyor. Diğer açık hava müzelerinden farkı, yapıların buraya taşınmış özgün örnekler olmayıp burada özel olarak inşa edilmiş yeni canlandırma örnekleri oluşu. İki mimar, bir mühendis ve bir ressamdan oluşan ekip, Poble Espanyol'un yaratım sürecinde yer almış ve İspanya'nın farklı yerel mimari tarzlarını yansıtan yüz on altı yapıyı inşa etmiş.

Bu parçada Poble Espanyol Müzesiyle ilgili olarak aşağıdakilerin hangisine değinilmemiştir?

- A) Kimlerin ziyaret ettiği
- B) Başka ülkelerdeki örneklerinden farkına
- C) Yapımında kimlerin görev aldığına
- D) Ne tür eserler barındırdığına
- E) Nerede yer aldığına

Diğer sayfaya geçiniz.

A

2009 - PMYO

37.

$$\frac{2,1-0,3}{0,03}$$

işleminin sonucu kaçtır?

- A) 15 B) 27 C) 30 D) 54 E) 60

38.

$$1 + \frac{1}{1 - \frac{3}{1 + \frac{1}{2}}}$$

işleminin sonucu kaçtır?

- A) 0 B) $\frac{1}{2}$ C) $\frac{1}{3}$
D) $\frac{2}{3}$ E) $\frac{3}{4}$

39.

$$\left(\frac{8}{27}\right)^{\frac{2}{3}}$$

işleminin sonucu kaçtır?

- A) $\frac{2}{3}$ B) $\frac{3}{4}$ C) $\frac{4}{9}$
D) $\frac{16}{9}$ E) $\frac{9}{16}$

40. 1,25 sayısı aşağıdaki sayılardan hangisiyle çarpılırsa çarpım 4 olur?

- A) $\frac{9}{2}$ B) $\frac{8}{3}$ C) $\frac{10}{3}$
D) $\frac{8}{5}$ E) $\frac{16}{5}$

41. 464 sayısının 23 sayısına bölümünden elde edilen bölüm ile kalanın toplamı kaçtır?

- A) 15 B) 18 C) 20 D) 24 E) 26

Diğer sayfaya geçiniz.

A

2009 - PMYO

42.

$$9^x < 3^5$$

eşitsizliğini sağlayan en büyük x tam sayısı kaçtır?

- A) 1 B) 2 C) 3 D) 4 E) 5

43. a, b ve c ardışık tam sayılar ve $a < b < c$ olduğuna göre,

$$ac - ab - bc + b^2$$

ifadesinin değeri kaçtır?

- A) -2 B) -1 C) 2 D) 3 E) 4

44. a ve b gerçel sayıları için $a \cdot b = 3$ ve $a - b = 2,5$ olduğuna göre,

$$\frac{2}{b} - \frac{2}{a}$$

ifadesinin değeri kaçtır?

- A) $\frac{5}{3}$ B) $\frac{7}{3}$ C) $\frac{8}{3}$
D) $\frac{5}{4}$ E) $\frac{7}{4}$

45. t bir tek sayı olduğuna göre, aşağıdaki ifadelerden hangisinin değeri bir çift sayıdır?

- A) $t^2 + t$ B) $t^2 + 2t$ C) $2t^2 + t$
D) $t^3 + 4t$ E) $2t^3 + t^2$

46. k pozitif tam sayısı için

$$205^2 - 195^2 = 10k^2$$

olduğuna göre, k kaçtır?

- A) 15 B) 20 C) 25 D) 30 E) 35

Diğer sayfaya geçiniz.

A

2009 - PMYO

47. x ve y birer gerçel sayı olmak üzere,

$$-4 \leq x \leq 1$$

$$-1 \leq y \leq 3$$

olduğuna göre, $x \cdot y$ çarpımı hangi aralıkta değer alır?

- A) $[-15, 1]$ B) $[-12, 4]$ C) $[-4, 3]$
D) $[-3, 3]$ E) $[-1, 4]$

48.

$$\frac{x^2 + x}{2xy + 2y} \cdot \frac{2y^2}{y}$$

ifadesinin sadeleştirilmiş biçimi aşağıdakilerden hangisidir?

- A) $\frac{x}{2}$ B) $\frac{x}{y}$ C) x D) y E) $x + y$

49.

$$x + \frac{1}{x} = 6$$

olduğuna göre, $\left(x - \frac{1}{x}\right)^2$ ifadesinin değeri kaçtır?

- A) 30 B) 32 C) 33 D) 34 E) 35

50.

$$\frac{1}{2} \leq |x| \leq 3$$

eşitsizliğini sağlayan x tam sayıları kaç tanedir?

- A) 3 B) 4 C) 5 D) 6 E) 7

51. x ve y gerçel sayıları için

$$x > y$$

$$xy > 0$$

olduğuna göre, aşağıdaki ifadelerden hangisi her zaman negatif bir sayıya eşittir?

- A) $x + y$ B) $y - 2x$ C) $\frac{1}{x} - \frac{1}{y}$
D) $x^2 - y$ E) $y^2 - x$

Diğer sayfaya geçiniz.

A

2009 - PMYO

52. A, B ve C kümeleri için

$$A = \{1, 2, 3, 4, 5\}$$

$$B \cap C = \{1, 3, 5, 6\}$$

olduğuna göre, $(A \cup B) \cap (A \cup C)$ kümesinin eleman sayısı kaçtır?

- A) 2 B) 3 C) 4 D) 5 E) 6

54. Toplamları 25 olan birbirinden farklı üç pozitif tam sayının çarpımı en az kaç olabilir?

- A) 44 B) 48 C) 60 D) 92 E) 144

53. Gerçek sayılar kümesi üzerinde \oplus işlemi,

$$a \oplus b = \frac{a^2(b+1)}{a+b}$$

biçiminde tanımlanmıştır.

Buna göre, $-1 \oplus 2$ işleminin sonucu kaçtır?

- A) -1 B) 0 C) 1 D) 2 E) 3

55. Ardışık 5 doğal sayının toplamı 40 tır.

Bu sayıların en büyüğü ile en küçüğünün toplamı kaçtır?

- A) 15 B) 16 C) 17 D) 18 E) 20

Diğer sayfaya geçiniz.

A

2009 - PMYO

56. Bir polis memurunun iki nöbeti arasındaki gün sayısı sabittir.

**Birinci nöbetini çarşamba, ikinci nöbetini pazar-
tesi günü tutan bu polis memuru, dördüncü nöbe-
tini hangi gün tutar?**

- A) Çarşamba B) Perşembe
C) Cuma D) Cumartesi
E) Pazar

57. Bir halyı 60 dakikada dokuyan bir makinenin çalı-
şma hızı % 20 artırılrsa bu makine aynı halyı kaç
dakikada dokur?

- A) 40 B) 45 C) 48 D) 50 E) 54

58. Alış fiyatı a TL olan bir mal $\frac{5a}{4}$ TL ye satılıyor.

**Bu malın satışından yüzde kaç kâr elde edilmek-
tedir?**

- A) 25 B) 20 C) 15 D) 12,5 E) 10

59. Mehmet'in maaşına % 20, Kemal'in maaşına % 30
zam yapıldığında bu kişilerin aldıkları maaşlar eşit
oluyor.

**Bu kişilerin zamdan önceki maaşları arasındaki
fark 50 TL olduğuna göre, zamlı beraber maaşları
kaç TL olmuştur?**

- A) 660 B) 680 C) 720 D) 750 E) 780

Diğer sayfaya geçiniz.

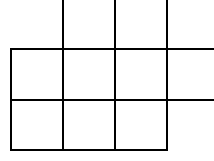
A

2009 - PMYO

60. İki kişinin yaşlarının oranı $\frac{3}{4}$, farkı ise 12 olduğuna göre, bu kişilerin yaşlarının toplamı kaçtır?

- A) 60 B) 64 C) 72 D) 80 E) 84

62.



Yukarıdaki şekil her birinin kenar uzunluğu 1 cm olan 10 kareye bölünmüştür.

Bu şeklin içerisinde çevre uzunluğu 10 cm olan kaç dikdörtgen vardır?

- A) 2 B) 3 C) 4 D) 5 E) 6

61. Bir şişenin ağırlığı boşken a gram, yarısı suyla doluyken b gram geliyor.

Bu şişenin tamamı suyla doldurulduğunda ağırlığı a ve b türünden kaç gram gelir?

- A) $2a - 3b$ B) $2a - b$ C) $3a - b$
D) $2b - a$ E) $3b - a$

63. Aşağıdaki tabloda P harfinden başlayıp çapraz gitmeden ve kutucuk atlamadan, yalnızca yatay ve dikey doğrultuda ilerlenecek ve geçilen kutucuklardaki harfler yan yana yazılacaktır.

P	O	L
O	L	İ
L	İ	S

Buna göre, POLİS sözcüğü kaç farklı yoldan gidilerek yazılabilir?

- A) 3 B) 4 C) 5 D) 6 E) 7

Diğer sayfaya geçiniz.

A

2009 - PMYO

64. – 66. SORULARI AŞAĞIDAKİ BİLGİLERE GÖRE CEVAPLAYINIZ.

Bir tekstil fabrikasında A, B, C, D ve E olmak üzere beş farklı kalitede havlu üretimi yapılmaktadır. Aşağıdaki tabloda havluların kalitelere göre birim maliyet fiyatı, birim satış fiyatı ve satış adedi verilmiştir.

Kalitesi	Maliyet fiyatı (TL)	Satış fiyatı (TL)	Satış adedi
A	25	40	2000
B	20	35	3000
C	18	25	5000
D	15	20	6000
E	10	12	8000

65. B kalitesindeki havluların satışından yüzde kaç kâr elde edilmektedir?

- A) 50 B) 60 C) 75 D) 80 E) 90

66. Havluların kalitelere göre satış adetleri bir daire grafikle gösterilse A kalitesini gösteren daire diliminin merkez açısının ölçüsü kaç derece olur?

- A) 30 B) 40 C) 45 D) 50 E) 60

64. Bu fabrika, D kalitesindeki havluların satışından kaç TL kâr elde etmiştir?

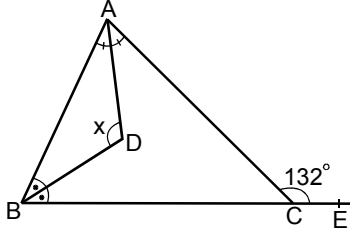
- A) 15 000 B) 20 000 C) 30 000
D) 32 000 E) 36 000

Diğer sayfaya geçiniz.

A

2009 - PMYO

67.



ABC bir üçgen

$$m(\widehat{BAD}) = m(\widehat{DAC})$$

$$m(\widehat{DBA}) = m(\widehat{DBC})$$

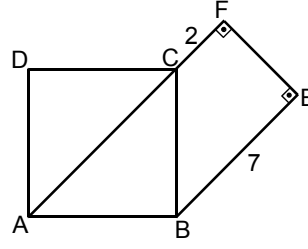
$$m(\widehat{ACE}) = 132^\circ$$

$$m(\widehat{ADB}) = x$$

Yukarıdaki verilere göre, x kaç derecedir?

- A) 96 B) 100 C) 110 D) 114 E) 128

69.



ABCD bir kare

$$AF \perp FE$$

$$FE \perp EB$$

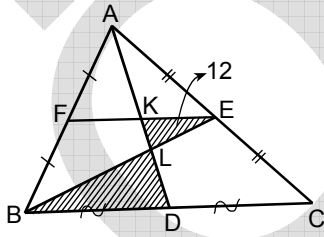
$$|CF| = 2 \text{ cm}$$

$$|BE| = 7 \text{ cm}$$

Yukarıdaki verilere göre, ABCD karesinin alanı kaç cm^2 dir?

- A) 28 B) 36 C) 40 D) 45 E) 50

68.



ABC bir üçgen

$$|AF| = |FB|$$

$$|AE| = |EC|$$

$$|BD| = |DC|$$

$$\text{Alan}(KLE) = 12 \text{ cm}^2$$

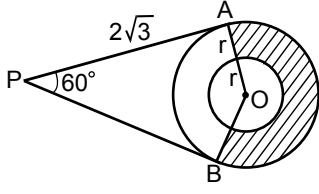
Yukarıdaki verilere göre, LBD taralı üçgeninin alanı kaç cm^2 dir?

- A) 24 B) 28 C) 36 D) 42 E) 48

Diğer sayfaya geçiniz.

A

70.



PA ve PB doğruları
O merkezli büyük
çembere A ve B
noktalarında teğet

$$m(\widehat{APB}) = 60^\circ$$

$$|PA| = 2\sqrt{3} \text{ cm}$$

Şekildeki aynı merkezli iki çemberden büyüğünün yarıçap uzunluğu küçüğünün 2 katıdır.

Buna göre, taralı bölgenin alanı kaç cm^2 dir?

- A) 2π B) 3π C) 4π D) $\frac{3\pi}{2}$ E) $\frac{5\pi}{2}$

71. Yarıçap uzunluğu 3 cm olan bir küre içine en büyük hacimli bir küp yerleştiriliyor.

Bu küpün alanı kaç cm^2 dir?

- A) 48 B) 60 C) 72 D) 96 E) 105

2009 - PMYO
72. Dik koordinat düzlemi üzerinde, aşağıdaki noktalardan hangisi $x > -2$, $x < 1$, $y < x + 2$ ve $y > 0$ eşitsizlikleriyle sınırlanmış bölgenin içindedir?

- A) $(-2, -1)$ B) $(-1, 2)$ C) $(0, 3)$

- D) $(\frac{1}{2}, \frac{1}{2})$ E) $(\frac{-3}{2}, 1)$

**GENEL YETENEK BÖLÜMÜ BİTTİ.
GENEL KÜLTÜR BÖLÜMÜNE GEÇİNİZ.**

A

GENEL KÜLTÜR

2009 - PMYO

73.

- I. Tanzimat Fermanı
- II. 1876 Anayasası
- III. Islahat Fermanı

Yukarıdakilerden hangileri Osmanlı İmparatorluğu'nu çağdaştırma amacıyla hazırlanmıştır?

- A) Yalnız I B) Yalnız II C) Yalnız III
D) I ve II E) I, II ve III

74. İtalya'nın Trablusgarp'a saldırmasında,

- I. Rönesans hareketlerinin İtalya'da başlaması,
- II. İtalya'nın siyasi birliğini geç tamamlamış olması,
- III. Fransa ve İngiltere'nin Kuzey Afrika'da sömürgelerinin olması

durumlarından hangilerinin etken olduğu savunulabilir?

- A) Yalnız I B) Yalnız II C) I ve II
D) II ve III E) I, II ve III

75.

- I. Sivas'ta ulusal bir kongrenin toplanması gereği
- II. Ulusun bağımsızlığının, ulusun azim ve kararıyla sağlanacağı
- III. Tüm millî cemiyetlerin birleştirilmesinin gerekliliği

Yukarıdakilerden hangileri Amasya Genelgesi'nde yer almıştır?

- A) Yalnız I B) Yalnız II C) I ve II
D) II ve III E) I, II ve III

76.

- I. Yasama, yürütme ve yargı gücünün Mecliste toplanması
- II. Egemenliğin millete ait olması
- III. Bakanların tek tek Meclisten seçilmesi

Yukarıdaki durumlardan hangilerinin, devlet işlerinin yürütülmesini kolaylaştırdığı savunulabilir?

- A) Yalnız I B) Yalnız II C) Yalnız III
D) I ve II E) II ve III

Diğer sayfaya geçiniz.

A

2009 - PMYO

77. Kurtuluş Savaşı'nın devam ettiği günlerde Londra Konferansı'nın toplanması,

- I. Gümrü Antlaşması'nın yapılması,
- II. Misakımillî'nin vurgulanması,
- III. Türk Devletinin diplomatik alanda tanınması

durumlarından hangilerinin sağlanmasında etkili olmuştur?

- A) Yalnız I B) Yalnız II C) Yalnız III
D) I ve III E) II ve III

79. Lozan Antlaşması'nda,

- I. Türkiye - Yunanistan sınırı,
- II. azınlıklar,
- III. Musul

konularından hangilerinin çözümü sonraya bırakılmıştır?

- A) Yalnız I B) Yalnız II C) Yalnız III
D) I ve II E) II ve III

78. Aşağıdakilerden hangisi Sakarya Savaşı'nın sonuçlarından biridir?

- A) Tekâlif-i Milliye Emirlerinin çıkarılması
- B) Mustafa Kemal'e mareşallik rütbesi ve gazilik sanının verilmesi
- C) Rusya ile Moskova Antlaşması'nın imzalanması
- D) Başkomutanlık Kanunu'nun çıkarılması
- E) Ordunun Sakarya'nın doğusuna çekilmesi

80. Montrö Boğazlar Sözleşmesi'nin,

- I. Türkiye'nin savaşa girmesi veya savaş tehlikesiyle karşılaşması durumunda yabancı savaş gemilerinin Boğaz'dan geçişinin Türkiye'nin takdirine bırakılması,
- II. Boğazların iki yakasında Türkiye'nin dilediği kadar asker bulundurması,
- III. Boğazların ticaret gemilerine açık olması

durumlarından hangilerinin Türkiye'nin Boğazlar üzerindeki egemenliğini kanıtladığı savunulabilir?

- A) Yalnız I B) Yalnız II C) Yalnız III
D) I ve II E) II ve III

Diğer sayfaya geçiniz.

A

2009 - PMYO

81. Atatürk, "Millî servetin dağıtımında daha mükemmel bir adalet ve emek sarf edenlerin daha yüksek refahı, millî birliğin muhafazası için şarttır." demiştir.

Atatürk'ün bu sözü aşağıdaki ilkelere hangisiyle doğrudan ilgilidir?

- A) Halkçılık B) Cumhuriyetçilik C) Devletçilik
D) İnkılapçılık E) Milliyetçilik

82.

- I. Millet mekteplerinin açılması
II. Latin alfabesinin kabul edilmesi
III. Tekke, zaviye ve türbelerin kapatılması

Yukarıdakilerden hangilerinin okuma - yazma oranını artırdığı savunulabilir?

- A) Yalnız I B) Yalnız II C) I ve II
D) II ve III E) I, II ve III

83.

- I. Saltanatın kaldırılması
II. Medeni Kanun'un kabul edilmesi
III. Cumhuriyet'in ilan edilmesi

Yukarıdakilerden hangilerinin demokratik devlet anlayışının göstergesi olduğu savunulabilir?

- A) Yalnız I B) Yalnız II C) Yalnız III
D) I ve II E) I, II ve III

84. Atatürk ilkeleri hangi yılda Anayasa'da yer almıştır?

- A) 1921 B) 1937 C) 1938
D) 1939 E) 1940

85. Aşağıdakilerden hangisi Güney Amerika ve Afrika kıtaları için ortak bir özellik değildir?

- A) Hem Atlas Okyanusu'na hem de Büyük Okyanus'a kıyıların olması
B) Yağmur ormanlarının geniş yer kaplaması
C) Hem Kuzey hem de Güney Yarım Küre'de topraklarının bulunması
D) Çok uzun akarsuların bulunması
E) Ekvatorial iklimden çöl iklimine kadar birçok farklı iklim tipinin görülmesi

Diğer sayfaya geçiniz.

A

2009 - PMYO

86. İklim özellikleri göz önüne alındığında, Avrupa Kıtası'nda aşağıdaki doğal bitki örtüsü türlerinden hangisine rastlanmaz?

- A) Tundra B) Maki
C) Bozkır D) Savan
E) İğne yapraklı orman

88. 21 Aralık tarihinde, aynı coğrafi bölgede bulunan Muğla'da gece süresinin İzmir'den daha kısa olması, bu merkezlerin aşağıdakilerden hangisi bakımından farklı olmasının sonucudur?

- A) Boylam derecesi B) Enlem derecesi
C) Ortalama yükseltisi D) Yüzey şekilleri
E) Denizden uzaklığı

87. Marmara Bölgesi'nin topografya haritasından yararlanarak aşağıdaki bilgilerden hangisine ulaşamaz?

- A) İl sınırlarına
B) Çevresindeki denizlerin derinliklerine
C) Yerleşim yerlerinin coğrafi konumlarına
D) Yerleşim yerleri arasındaki yükselti farkına
E) Dağların doruklarıyla etekleri arasındaki eğim değerlerine

89.

- I. Yapılan hayvancılık türü
II. Deniz turizmine elverişlilik
III. Yıl içinde birden fazla ürün alınabilme
IV. Ulaşım olanaklarının çeşitliliği

Akdeniz Bölgesi'ndeki güneşli gün sayısının fazla olması yukarıdakilerden hangilerini etkiler?

- A) I ve II B) I ve III C) II ve III
D) II ve IV E) III ve IV

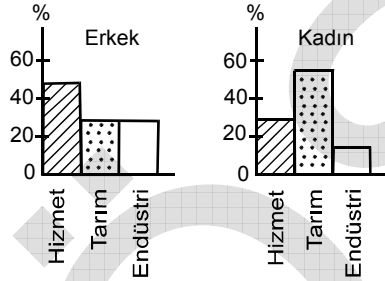
Diğer sayfaya geçiniz.

A

90. Aşağıdakilerden hangisi Türkiye kıyılarının özelliklerinden biri değildir?

- A) Ege Denizi'ndeki adalar, çöküntüler sonucu sularla örtülen karanın deniz yüzeyinde kalan kısımlarıdır.
- B) Akdeniz'de kıyı boyunca yer yer falezler, kumsallar ve deltalar oluşmuştur.
- C) Karadeniz'de dağların kıyıya paralel uzanması nedeniyle boyuna kıyılar oluşmuştur.
- D) İstanbul ve Çanakkale boğazları yükselen deniz sularının altında kalmış eski akarsu vadileridir.
- E) Marmara kıyılarının oluşumunda gelgit genişliği çok etkili olmuştur.

91. Aşağıdaki grafiklerde Türkiye'de 2004 yılında çalışan kadın ve erkek nüfusun ekonomik sektörlere göre dağılımı gösterilmiştir.



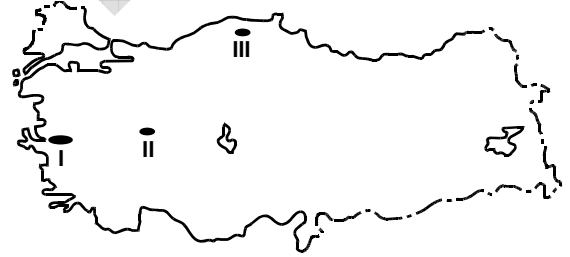
Yalnızca grafiklerdeki bilgilere dayanarak aşağıdaki yargılardan hangisine ulaşamaz?

- A) Kadın nüfus, en fazla tarım sektöründe çalışmaktadır.
- B) Erkek nüfus, en fazla hizmet sektöründe çalışmaktadır.
- C) Erkek nüfusun iş gücüne katılma oranı daha fazladır.
- D) Çalışan nüfusun yüksek olduğu ikinci sektör hizmettir.
- E) Tarım ve endüstri sektöründe çalışan erkek nüfus oranı eşittir.

2009 - PMYO
92. Çevrelerindeki doğal bitki örtüsü düşünüldüğünde aşağıda verilen barajlardan hangisinde ağaçlandırma gereksinimi daha fazladır?

- A) Gediz Nehri üzerindeki Demirköprü
- B) Manavgat Nehri üzerindeki Oymapınar
- C) Seyhan Nehri üzerindeki Seyhan
- D) Çoruh Nehri üzerindeki Borçka
- E) Fırat Nehri üzerindeki Birecik

93. Aşağıdaki haritada üretimi devlet denetimine bağlı olan üç bitkinin Türkiye'de en fazla yetiştirildiği yerler gösterilmiştir.



Bu bitkiler aşağıdakilerin hangisinde doğru olarak verilmiştir?

- | | I | II | III |
|----|---------|---------|---------|
| A) | Haşhaş | Tütün | Kenevir |
| B) | Tütün | Haşhaş | Kenevir |
| C) | Kenevir | Tütün | Haşhaş |
| D) | Tütün | Kenevir | Haşhaş |
| E) | Kenevir | Haşhaş | Tütün |

Diğer sayfaya geçiniz.

A

94. Aşağıdaki tabloda bazı enerji kaynaklarının 1995 ve 2005 yıllarında Türkiye'deki tüketimlerinin yerli üretimle ve dış alımla karşılanma oranları gösterilmiştir.

ENERJİ KAYNAĞI	1995		2005	
	Yerli üretim (%)	Dış Alım (%)	Yerli üretim (%)	Dış Alım (%)
Linyit	100	0	98	2
Taş kömürü	26	74	11	89
Su gücü	100	0	100	0
Petrol	12	88	7	93
Doğal gaz	3	97	3	97

Bu tabloya dayanarak aşağıdaki bilgilerden hangisine ulaşılabılır?

- A) 1995 yılında linyit ve su gücünden üretilen enerji miktarı birbirine eşittir.
- B) 2005 yılındaki toplam yerli enerji üretim miktarı 1995 yılındakinden azdır.
- C) 1995 yılındaki doğal gaz dış alım miktarı 2005 yılıyla aynıdır.
- D) 2005 yılında taş kömüründen elde edilen enerjinin yerli üretimle karşılanma oranı 1995'ten azdır.
- E) 1995 yılındaki petrol dış alımı 2005 yılından daha fazladır.

95. Bir yerde endüstrinin kurulabilmesi ve gelişebilmesi için gerekli koşullardan biri de ham maddeye yakınlıktır.

Aşağıdaki merkezlerden hangisinde pamuklu dokumanın kurulması ham maddeye yakınlık koşuluna uymaz?

- A) Aydın B) Adana C) İzmir
D) Denizli E) İstanbul

2009 - PMYO

96. Türkiye'nin bazı hava alanlarında deniz turizmi nedeniyle mayıs-ekim döneminde dış hatlar yolcu sayısında artış olur.

Aşağıdaki merkezlerin hangisinde yer alan hava alanında bu tür bir artışın daha az olması beklenir?

- A) Samsun B) Antalya C) İzmir
D) Dalaman E) Bodrum-Milas

97. 1982 Anayasası'na göre, sıkıyönetim hâlinde sıkıyönetim komutanları aşağıdakilerden hangisine bağlı olarak görev yapar?

- A) Genelkurmay Başkanlığı
B) Emniyet Genel Müdürlüğü
C) Millî Savunma Bakanlığı
D) Millî Güvenlik Kurulu
E) İçişleri Bakanlığı

98. Aşağıdakilerden hangisi Cumhurbaşkanının görev ve yetkileri arasında yer almaz?

- A) Kanunları bir kez daha görüşülmek üzere TBMM'ye geri göndermek
B) Millî Güvenlik Kuruluna başkanlık etmek
C) Bakanlar Kurulu karamamelerini imzalamak
D) Gerekli gördüğünde Bakanlar Kurulunun görevine son vermek
E) Başbakanı atamak

Diğer sayfaya geçiniz.

A

2009 - PMYO

99. Aşağıdakilerden hangisi hukuk devleti ilkesinin unsurlarından biri değildir?

- A) Yönetimin eylem ve işlemlerinin yargı denetimine tabi olması
- B) Kanunların Anayasa'ya uygunluğunun sağlanması
- C) Cumhurbaşkanının halk tarafından seçilmesi
- D) Suç ve cezaların kanunla düzenlenmesi
- E) Kanun önünde eşitlik ilkesinin benimsenmesi

100. Aşağıdakilerden hangisi, 1982 Anayasası'nın 3. maddesine göre değiştirilmesi ve değiştirilmesinin teklif edilmesi yasaklanmış olanlar arasında yer almaz?

- A) Bayrağın şekli
- B) Millî Marş
- C) Başkent
- D) Devletin dili
- E) Vatan hizmeti

101. 1982 Anayasası'na göre, savaş hâli ilanı yetkisi aşağıdakilerden hangisine aittir?

- A) TBMM
- B) Başbakan
- C) Cumhurbaşkanı
- D) Millî Savunma Bakanı
- E) Genelkurmay Başkanı

102. 1982 Anayasası'na göre, Cumhurbaşkanının hastalık veya yurt dışına çıkma gibi sebeplerle geçici olarak görevinden ayrılması hâllerinde, Cumhurbaşkanlığına aşağıdakilerden hangisi vekâlet eder?

- A) Başbakan
- B) TBMM Başkanı
- C) Genelkurmay Başkanı
- D) Anayasa Mahkemesi Başkanı
- E) Cumhurbaşkanlığı Genel Sekreteri

103. 1982 Anayasası'nda yapılan değişiklikle daha önce 30 olan milletvekili seçilebilme yaşı en az kaç olarak belirlenmiştir?

- A) 18
- B) 20
- C) 22
- D) 25
- E) 28

104. 1982 Anayasası'na göre, Cumhurbaşkanının TBMM'ce kabul edilen kanunları en çok kaç gün içinde yayımlaması veya bir kez daha görüşülmesi için TBMM'ye geri göndermesi gerekir?

- A) 7
- B) 10
- C) 15
- D) 20
- E) 30

Diğer sayfaya geçiniz.

A

2009 - PMYO

105. 1982 Anayasası'na göre, TBMM kaç milletvekilinden oluşur?

- A) 350 B) 400 C) 450
D) 500 E) 550

106. 1982 Anayasası'na göre, aşağıdakilerden hangisi bir kimsenin Cumhurbaşkanı seçilebilmesi için mutlaka taşıması gereken niteliklerden biri değildir?

- A) Türk vatandaşı olmak
B) 40 yaşını doldurmuş olmak
C) Yükseköğrenim mezunu olmak
D) Milletvekili seçilme yeterliliğine sahip olmak
E) Cumhurbaşkanlığı seçimine katıldığı sırada bir siyasal partiye üye olmamak

107. 1982 Anayasası'na göre, TBMM'nin manevi varlığından ayrılamayacak olan Türk Silahlı Kuvvetlerinin Başkomutanlığını aşağıdakilerden hangisi temsil eder?

- A) Millî Savunma Bakanı
B) Cumhurbaşkanı
C) İçişleri Bakanı
D) TBMM Başkanı
E) Başbakan

108. 1982 Anayasası'na göre, aşağıdaki bakanlardan hangisinin TBMM genel seçimlerinden önce görevinden çekilmesi gerekir?

- A) Maliye Bakanı
B) Sağlık Bakanı
C) Adalet Bakanı
D) Millî Eğitim Bakanı
E) Millî Savunma Bakanı

109.

- I. Emniyet Genel Müdürlüğü
II. Jandarma Genel Komutanlığı
III. Sahil Güvenlik Komutanlığı

Yukarıdaki teşkilatlardan genel kolluk hizmetlerini yerine getirenler aşağıdakilerin hangisinde birlikte verilmiştir?

- A) Yalnız I B) Yalnız III C) I ve II
D) II ve III E) I, II ve III

Diğer sayfaya geçiniz.

A

2009 - PMYO

110. Aşağıdakilerden hangisi bir hükümlünün cezasının infazı veya bir sanığın yargılanması için iadesi maksadıyla görüldüğü yerde tutuklanması amacıyla uluslararası düzeyde yayımlanan bültendir?

- A) Sarı bülten
B) Mavi bülten
C) Yeşil bülten
D) Kırmızı bülten
E) Siyah bülten

111. Polis Haftası her yıl hangi tarihler arasında kutlanmaktadır?

- A) 3 – 10 Şubat
B) 3 – 10 Mart
C) 3 – 10 Nisan
D) 3 – 10 Mayıs
E) 3 – 10 Haziran

112. İstanbul Emniyet Müdürü kimdir?

- A) Savaş Yücel
B) Hüseyin Çapkın
C) Celalettin Cerrah
D) Orhan Özdemir
E) Ercüment Yılmaz

113. Türkiye'de son yerel seçimler hangi tarihte yapılmıştır?

- A) 29 Nisan 2008
B) 29 Haziran 2008
C) 29 Kasım 2008
D) 29 Ocak 2009
E) 29 Mart 2009

114. Türk Sanayicileri ve İş Adamları Derneği'nin (TÜSİAD) başkanı kimdir?

- A) Ömer Dinçkök
B) Güler Sabancı
C) Arzuhan Yalçındağ
D) Tuncay Özilhan
E) Mustafa Koç

115. Aşağıdakilerden hangisi G-8 ülkelerinden biri değildir?

- A) Türkiye
B) ABD
C) Japonya
D) Almanya
E) Fransa

Diğer sayfaya geçiniz.

A

2009 - PMYO

116. Dünya barışını, güvenliğini korumak ve uluslararası ekonomik, toplumsal ve kültürel iş birliğini oluşturmak için 1945 yılında kurulmuş olan uluslararası örgüt aşağıdakilerden hangisidir?

- A) Avrupa Birliği (AB)
- B) Avrupa Güvenlik ve İşbirliği Teşkilatı (AGİT)
- C) Dünya Ticaret Örgütü (DTÖ)
- D) Kuzey Atlantik Antlaşması Örgütü (NATO)
- E) Birleşmiş Milletler (BM)

117. Türkiye'nin doğal koşulları göz önüne alındığında, aşağıdaki coğrafi bölgelerin hangisinde yıl içinde orman yangını görülme olasılığının en fazla olması beklenir?

- A) Akdeniz Bölgesi
- B) Karadeniz Bölgesi
- C) İç Anadolu Bölgesi
- D) Doğu Anadolu Bölgesi
- E) Güneydoğu Anadolu Bölgesi

118. 2009 yılı başlarında Meksika'da ortaya çıkarak Amerika'ya, Avrupa ülkelerine ve daha sonra da dünyanın diğer bölgelerine yayılan, yüksek ateşle başlayıp ölümlere yol açan hastalığın halk arasında bilinen adı aşağıdakilerden hangisidir?

- A) Kuş gribi
- B) Domuz gribi
- C) Sarı humma
- D) Kırım-Kongo kanamalı ateşi
- E) Kayalık dağlar benekli ateşi

119. 26 Haziran – 5 Temmuz 2009 tarihleri arasında gerçekleştirilen 16. Akdeniz Oyunları hangi ülkede yapılmıştır?

- A) Mısır
- B) Tunus
- C) İspanya
- D) İtalya
- E) Yunanistan

120. 2009 Eurovision Şarkı Yarışması'nda Türkiye'yi temsil eden Hadise kaçınca olmuştur?

- A) 2.
- B) 4.
- C) 6.
- D) 8.
- E) 10.

TEST BİTTİ.

CEVAPLARINIZI KONTROL EDİNİZ.

SINAVDA UYULACAK KURALLAR

1. Adayların cep telefonu, çağrı cihazı, telsiz, fotoğraf makinesi, cep bilgisayarı, saat fonksiyonu dışında fonksiyonu olan saat, hesap makinesi, sözlük, kitap, defter, müsvedde kâğıdı, pergel, açı ölçer, cetvel ve benzeri her türlü araç gereçle sınava girmesi kesinlikle yasaktır. Bu araçlarla sınava girmiş adaylar mutlaka Salon Sınav Tutanağına yazılacak, bu adayların sınavı geçersiz sayılacaktır.

2. Bu sınavda verilen toplam cevaplama süresi **120 dakikadır (2 Saat)**. Sınav başladıktan sonra **ilk 60** ve **son 15** dakika içinde adayın sınavdan çıkmasına kesinlikle izin verilmeyecektir. Sınav evrakını teslim ederek salonu terk eden aday, her ne sebeple olursa olsun tekrar sınava alınmayacaktır.

3. Sınav evrakını teslim ederek salonu terk eden aday, her ne sebeple olursa olsun tekrar sınava alınmayacaktır.

4. Sınav süresince görevlilerle konuşmak ve soru sormak yasaktır. Aynı şekilde görevlilerin de adaylarla yakından ve alçak sesle konuşmaları; ayrıca, adayların birbirinden kalem, silgi vb. şeyleri istemeleri kesinlikle yasaktır.

5. Sınav sırasında kopya çeken, çekmeye kalkışan, kopya veren, kopya çekilmesine yardım edenlerin kimlikleri, Salon Sınav Tutanağına yazılacak ve bu adayların sınavları geçersiz sayılacaktır. Görevliler kopya çekmeye veya vermeye kalkışanları uyarmak zorunda değildir, sorumluluk size aittir.

Adayların test sorularına verdikleri cevapların dağılımları bilgi işlem yöntemleriyle incelenecek; bu incelemelerden elde edilen bulgular bireysel veya toplu olarak kopya girişiminde bulunulduğunu gösterirse, kopya eylemine katılan adayların cevaplarının bir kısmı veya tamamı geçersiz sayılacaktır. Cevap kâğıdınızı başkaları tarafından görülmeyecek şekilde tutmanız gerekmektedir. Bu durum sizin için son derece önemlidir.

ÖSYM Temsilcisi bir salondaki sınavın, kurallara uygun biçimde yapılmadığını, toplu kopya girişiminde bulunulduğunu raporunda bildirdiği takdirde, ÖSYM takdir hakkını kullanarak bu salonda sınavı giren adayların tümünün sınavını geçersiz sayabilir.

6. Adaylar, görevlilerin her türlü uyarılarına uymak zorundadır. Görevliler, gerektiğinde oturduğunuz yerleri de değiştirebilir. Sınavınızın geçerli sayılması, her şeyden önce sınav kurallarına uymanıza bağlıdır.

Kurallara aykırı davranışta bulunanların ve yapılacak uyarılara uymayanların kimlikleri tutanağa yazılacak ve sınavları geçersiz sayılacaktır.

7. Cevap kâğıdında doldurmanız gereken alanlar bulunmaktadır. Bu alanları eksiksiz doldurunuz. Cevap kâğıdına yazılacak her türlü yazıda ve yapılacak bütün işaretlemelelerde kurşun kalem kullanılacaktır. Tükenmez kalem ve dolma kalem kesinlikle kullanılmayacaktır.

Cevapların cevap kâğıdına işaretlenmiş olması gerekir. Soru kitapçığına işaretlenen cevaplar geçerli değildir.

8. Soru kitapçığınızı alır almaz, sayfaların eksik olup olmadığını, kitapçıkta basım hatalarının bulunup bulunmadığını kontrol ediniz. Soru kitapçığınızın sayfası eksik veya basımı hatalı ise değiştirilmesi için derhâl Salon Başkanına başvurunuz.

Soru kitapçığında her sayfanın tepesinde basılı bulunan soru kitapçığı türünün, kitapçığın ön kapağında basılı soru kitapçığı türüyle aynı olup olmadığını kontrol ediniz. Farklı olması durumunda Salon Başkanından yeni bir soru kitapçığı isteyiniz. Soru kitapçığınızın türünün değişik olduğunu daha sonra fark ederseniz, size o zamana kadar cevaplama yaptığınız türden, hatasız bir soru kitapçığı verilmesi için Salon Başkanına başvurunuz.

Cevap kâğıdınızda, size verilen soru kitapçığının türünü "Soru Kitapçığı Türü" alanındaki ilgili yuvarlağı doldurarak belirtiniz. Cevap kâğıdınızda işaretlediğiniz Soru Kitapçığı Türü salon görevlileri tarafından sınav öncesi kontrol edilerek paraflanacaktır. Sizin işaretlediğiniz ile salon görevlilerinin parafladıkları kitapçık türü arasında fark olması hâlinde salon görevlilerinin parafladıkları kitapçık türü dikkate alınacaktır.

9. Cevaplamaya geçmeden önce size verilecek soru kitapçığının üzerine adınızı, soyadınızı, T.C. Kimlik Numaranızı ve bu salonun Salon Numarasını yazınız. Sınav sonunda soru kitapçıkları toplanacak ve ÖSYM'de tek tek incelenecektir. Soru kitapçığının bir sayfası bile eksik çıkarsa sınavınız geçersiz sayılacaktır.

10. Soru kitapçığının sayfalarındaki boş yerleri müsvedde için kullanabilirsiniz.

11. Sınav süresince, görevliler dahil, salonda kimse sigara, pipo, puro vb. şeyleri içmeyecektir.

12. Soruları ve bu sorulara verdiğiniz cevapları ayrı bir kâğıda yazıp bu kâğıdı dışarı çıkarmanız kesinlikle yasaktır.

13. **Sınav salonundan ayrılmadan önce soru kitapçığınızı, cevap kâğıdınızı ve Sınava Giriş ve Kimlik Belgenizi salon görevlilerine teslim etmeyi unutmayınız.**

**POLİS AKADEMİSİ POLİS MESLEK YÜKSEKOKULLARI
ÖĞRENCİ ADAYLIĞI SINAVI**

13 EYLÜL 2009

GENEL YETENEK VE GENEL KÜLTÜR TESTİ

A KİTAPÇIĞI

GENEL YETENEK BÖLÜMÜ

GENEL KÜLTÜR BÖLÜMÜ

- | | | | | |
|-------|-------|-------|-------|--------|
| 1. B | 26. C | 51. C | 73. E | 96. A |
| 2. D | 27. E | 52. E | 74. D | 97. A |
| 3. C | 28. B | 53. E | 75. C | 98. D |
| 4. A | 29. D | 54. A | | 99. C |
| 5. E | 30. A | 55. B | 76. A | 100. E |
| | | | 77. E | |
| 6. E | 31. D | 56. B | 78. B | 101. A |
| 7. D | 32. E | 57. D | 79. C | 102. B |
| 8. B | 33. B | 58. A | 80. D | 103. D |
| 9. A | 34. C | 59. E | | 104. C |
| 10. E | 35. B | 60. E | 81. A | 105. E |
| | | | 82. C | |
| 11. E | 36. A | 61. D | 83. E | 106. E |
| 12. E | 37. E | 62. C | 84. B | 107. B |
| 13. C | 38. A | 63. D | 85. A | 108. C |
| 14. E | 39. C | 64. C | | 109. E |
| 15. D | 40. E | 65. C | 86. D | 110. D |
| | | | 87. A | |
| 16. B | 41. D | 66. A | 88. B | 111. C |
| 17. C | 42. B | 67. D | 89. C | 112. B |
| 18. A | 43. B | 68. E | 90. E | 113. E |
| 19. D | 44. A | 69. E | | 114. C |
| 20. E | 45. A | 70. A | 91. C | 115. A |
| | | | 92. E | |
| 21. C | 46. B | 71. C | 93. B | 116. E |
| 22. C | 47. B | 72. D | 94. D | 117. A |
| 23. B | 48. C | | 95. E | 118. B |
| 24. B | 49. B | | | 119. D |
| 25. D | 50. D | | | 120. B |