



POLİS AKADEMİSİ
POLİS MESLEK YÜKSEKOKULLARI
ÖĞRENCİ ADAYLIĞI SINAVI
3 TEMMUZ 2011

T.C. KİMLİK NUMARASI :

ADI :

BASIN KİTAPÇIĞI

SOYADI :

SALON NO :

SIRA NO :

**Soru kitapçık numarasının cevap kâğıdına kodlanmamasının
veya yanlış kodlanmasının sorumluluğu adaya aittir.**

**SORU KİTAPÇIK
NUMARASI**

00000000

Bu numarayı cevap
kâğıdınızdaki ilgili alana
kodlamayı unutmayınız.

Adayın imzası:

Soru kitapçık
numarasını
doğru kodladım.

Salon görevlisinin imzası:

Adayın soru kitapçık numarasını
cevap kâğıdına doğru
kodladığını onaylıyorum.

DİKKAT! SINAV BAŞLAMADAN ÖNCE AŞAĞIDAKİ UYARILARI MUTLAKA OKUYUNUZ.

1. Adınızı, Soyadınızı, T.C. Kimlik Numaranızı, Salon Numaranızı, Sıra Numaranızı Soru Kitapçığı üzerindeki ilgili alanlara yazınız.
2. Soru Kitapçık Numaranız yukarıda verilmiştir. Bu numarayı cevap kâğıdınızdaki ilgili alana kodlayınız ve yukarıdaki ilgili alanı imzalayınız. Salon Görevlisinin de hem soru kitapçığındaki hem de cevap kâğıdınızdaki ilgili alanı imzalamasını sağlayınız. Bu kodlamayı cevap kâğıdınıza yapmadığınız veya yanlış yaptığınız takdirde, sınavınızın değerlendirilmesi mümkün değildir.
3. Bu sayfanın arkasında yer alan açıklamayı dikkatle okuyunuz.

AÇIKLAMA

1. Bu kitapçıkta Polis Akademisi Polis Meslek Yüksekokulları Öğrenci Adaylığı Sınavı Genel Yetenek ve Genel Kültür Testi bulunmaktadır.
2. Bu test için verilen toplam cevaplama süresi **120 dakikadır (2 saat)**.
3. Bu kitapçıkta testte yer alan her sorunun sadece bir doğru cevabı vardır. Bir soru için birden çok cevap yeri işaretlenmişse o soru yanlış cevaplanmış sayılacaktır.
4. Bu test puanlanırken doğru cevaplarınızın sayısından yanlış cevaplarınızın sayısının dörtte biri düşülecek ve kalan sayı testle ilgili ham puanınız olacaktır. Bu nedenle, hakkında hiçbir fikriniz olmayan soruları boş bırakınız. Ancak, soruda verilen seçeneklerden birkaçını eleyebiliyorsanız kalanlar arasında doğru cevabı kestirmeye çalışmanız yararınıza olabilir.
5. Sınavda uyulacak kurallar bu kitapçığın arka kapağında belirtilmiştir.

1. Türkçe çok zor bir dilmiş. Kime, kimlere göre zor bir dil? Türkçe öğrenmeye çalışan Batılılara göre mi, onların dillerine göre mi? Aslında dilimiz zor değil, olsa olsa farklılıkları çok olan bir dildir. Bilindiği gibi dillerde çeşitli ortak noktalar vardır ama ortak olmayan özellikler, dillerin kişiliğini oluşturur.

Bu parçada geçen "dillerin kişiliği" sözüyle anlatılmak istenen aşağıdakilerden hangisidir?

- A) Öğrenme zamanı bakımından diğer dillerden ayrılma
B) Kendine özgü nitelikler taşıma
C) Diğer dillerle etkileşerek yeni bir yapı oluşturma
D) Yabancı sözcüklere Türkçe karşılıklar bulmaya olanak sağlama
E) Sözcüklere yeni anlamlar yükleyerek söz varlığını zenginleştirme
2. (I) Emekli olmuş bir insanın işsiz güçsüz olması, kendini "Artık bir işe yaramıyorum." düşüncesine kaptırması, onda strese yol açabilir. (II) Oysa ki emeklilik, kişinin ruhsal ve bedensel açıdan yıpranması demek değildir. (III) Ben bu türden düşünce ve duygulara kapılmıyorum. (IV) Gönülümce geziyorum, yaşıyorum. (V) Çok rahatım, uykularım düzenli, iştahım iyi, eskisinden daha sağlıklıyım. (VI) Hayat her yerde, her ortamda güzel ama emeklilik daha da güzel!

Bu parçadaki numaralanmış cümlelerin hangisinde neden-sonuç ilişkisi vardır?

- A) I. B) II. C) III. D) IV. E) VI.

3. Marmara Bölgesi'ne özgü iki lale türü var: Tulipa I
orphanidea ve thracica. Onları Çatalca'daki ve Şile'deki çayırliklarda görme olanağı bulabilirsiniz. Topraklarında tüm Avrupa florasının toplamından daha çok bitki II türü barındıran Türkiye, yabani laleler bakımından III şanslı. Bu konuda uzmanlar şöyle diyor: Tüm Avrupa' da doğal lale türü büyük olasılıkla dört ya da beşten IV fazla değildir. Bizde ise on dokuz türü yetişiyor, bunların V altısı yeryüzünde sadece Türkiye'de görülüyor.

Bu parçadaki numaralanmış cümlelerin hangilerinde nesnellik söz konusudur?

- A) I. ve II. B) I. ve V. C) II. ve III.
D) II. ve IV. E) IV. ve V.

4. (I) Üç boyutlu televizyonlar yaygınlaşmaya başladı. (II) Ancak bunlar özel bir gözlükle izlenmeli. (III) Bizim projemiz, gözlük kullanmadan ve ekran karşısında sabit kalmadan üç boyutlu görüntüyü algılayabilmeye yönelik bir deneme. (IV) Geliştirdiğimiz sistem, iki gözünüzün nerede olduğunu buluyor. (V) Siz hangi açıdan bakıyorsanız görüntüyü o bakış açısına uygun olarak oluşturuyor.

Bu parçadaki numaralanmış cümlelerin hangisinde amaç belirtilmiştir?

- A) I. B) II. C) III. D) IV. E) V.

5. (I) O, öykülerinde, insanların kenarda bırakılmışlıklarını, unutulmuşluklarını, geçmişte kalan anılarını işliyor. (II) Onlardaki ince hüznün, okuyucusunu ağlatmıyor ama kimi zaman gözleri dolu dolu yapıyor. (III) Bunların yanı sıra toplumsal özü de var öykülerinin. (IV) Ayrıca denemeleri de olan bu öykücümüzün, işlek, akıcı ve kolay anlaşılır dili göze çarpan özellikleri arasında. (V) Öykülerinin konusunu ise çoğunlukla büyük şehirlerdeki orta sınıf insanının yaşamı oluşturuyor.

Bu parçadaki numaralanmış cümlelerin hangisinde belirtilenler üslupla ilgilidir?

- A) V. B) IV. C) III. D) II. E) I.

6. (I) Dün televizyonda izlediğim bir programda sunucu, gençlere sorular soruyor, dilimizi kullanmada neden özenli davranmamız gerektiğini buldurtmaya çalışıyordu. (II) Kimi sorularıyla da dilin salt bir iletişim aracı olmadığını, bundan da öte yaşamımızı biçimlendiren bir güç olduğunu sezdirmek istiyordu. (III) Gelgelelim, beklediği yanıtları bir türlü alamıyordu. (IV) Konuşanlar, kırık dökük birkaç sözcük söylüyor, kem küm edip susuyorlardı. (V) Kullandıkları sınırlı sayıda sözcükle de sözcük dağarcıklarının yetersizliğini ortaya koyuyorlardı.

Bu parçadaki numaralanmış cümlelerle ilgili olarak aşağıda verilenlerden hangisi yanlıştır?

- A) I. cümlede, bir yönlendirmeden söz edilmiştir.
B) II. cümlede, dolaylı bir mesaj verildiği belirtilmiştir.
C) III. cümlede, istenilenin gerçekleşmediğinden söz edilmiştir.
D) IV. cümlede, bir yetersizliğin nedeni ortaya konmuştur.
E) V. cümlede, bir saptama yapılmıştır.

7. (I) Doğrusunu söylemek gerekirse bugüne kadar bestelediğim şarkıların çoğu iç dünyamın, duygularımın bir yansımasıydı. (II) Son albümümde yer alan şarkılarda ise günümüzde, bütün dünyada ortaya çıkan çeşitli olayların yansımaları görülebilir. (III) Çatışmalar, güç dengelerinin değişmesi, toplumların ve ülkelerin geçirdiği değişimler ve aralarındaki ilişkiler bunlardan bazıları. (IV) Her ne kadar bu şarkılarımı Türkiye'de yaşayan bir kadının bakış açısıyla yazıp söylesem de evrensel duygulara yer vermeye çalışıyorum. (V) Umarım dünyanın farklı ülkelerinde birçok dinleyici, şarkılarımda kendini bulabilir.

Bu parçadaki numaralanmış cümlelerle ilgili olarak aşağıda verilenlerden hangisi yanlıştır?

- A) I. cümlede, tanım yapılmıştır.
B) II. cümlede, içerik hakkında bilgi verilmiştir.
C) III. cümlede, örnekler sıralanmıştır.
D) IV. cümlede, yapılmak istenen açıklanmıştır.
E) V. cümlede, dilek belirtilmiştir.

8. (I) Eğer yöresel ürün meraklısıysanız gidebileceğiniz en doğru adres Şanlıurfa'dır. (II) Peynirin, baharatın, dokumanın, bakırın, halı ve kilimin her türlü satılır Şanlıurfa çarşılarında. (III) Her zevke uygun, en zor beğenenlerin bile alacağı bir şeyler vardır bu çarşılarda. (IV) Alışveriş yapmasanız bile kent esnafının güler yüzü ve dürüstlüğü bir tebessüm oluşturur sizde. (V) Bence bir acı kahvelerini içmeden geçmeyin.

Bu parçadaki numaralanmış cümlelerle ilgili olarak aşağıda verilenlerden hangisi yanlıştır?

- A) I. cümlede, koşul bildirilmiştir.
B) II. cümlede, önceki cümleye ilişkin açıklama yapılmıştır.
C) III. cümlede, karşılaştırma yapılmıştır.
D) IV. cümlede, benzetmeye başvurulmuştur.
E) V. cümlede, öneride bulunulmuştur.

9. (I) Termessos'taki benzersiz orkideler mayıs ortalarına kadar açar. (II) Bunlardan beni çok etkileyen bir türünü, geçen yıllarda bir rastlantı sonucunda keşfettim. (III) Vi-rajlı yoldan arabamla kıyıya inerken yol kenarında bir pembelik fark ettim. (IV) Arabalardan atılmış bir torba sandım önce. (V) Aklım takılınca durup geri döndüm. (VI) Karşıma muhteşem bir orkide çıktı. (VII) Zeus Sunağı'nı keşfeden arkeolog, Ay'a ilk ayak basan ast-ronot kadar heyecanlandım. (VIII) Dönüşte ismini araş-tırıp buldum: Kelebeksi orkide (*onchis papilionacea*).

Orkidelerin anlatıldığı bu parçadaki numaralanmış cümlelerle ilgili olarak aşağıda verilenlerden hangisi yanlıştır?

- A) I. cümlede, çiçeklendiği zamana ilişkin açıklama yapılmıştır.
B) II. cümlede, benzerlerinden ayrılan bir çeşidi belirtilmiştir.
C) IV. cümlede, bir yanlışlığa ortaya konmuştur.
D) VII. cümlede, etkilenme abartılarak dile getirilmiştir.
E) VIII. cümlede, bilimsel bilgi verilmiştir.

10. "Film Haftası" adıyla başlayan, 1989'da ise uluslararası bir nitelik kazanan İstanbul Film Festivali'nde, dünyanın sinema merkezlerinde kabul görmüş filmlerin gösteri-mine ek olarak sinemayı konu alan derslere ve atölye çalışmalarında zaman ayrıldı.

Bu cümledeki numaralanmış sözlerin hangisinde bir yazım yanlışı vardır?

- A) I. B) II. C) III. D) IV. E) V.

11. Aşağıdaki cümlelerin hangisinde bir yazım yanlışı vardır?

- A) Kaldı ki bunları bana kendisi anlatmıştı.
B) Öylesine ileri gitti ki söyledikleri hepimizi üzdü.
C) Sanki bu olaylardan onun haberi yok.
D) Madem ki gelmeyecek onu yemeğe beklemeyelim.
E) Hâlbuki o, kararını çoktan vermiş.

- 12.

Deniz hafifçe fısıldıyor , maceraperest tekneleri
maviliklere çağırıyor. Koyu mavi ufuk ; teknenin
bordasına vuran dalgaların sesi ve baş döndürücü
iyot kokusu ... Derin bir sessizlik , tümüyle doğaya
adanmış günler ...

Bu parçadaki numaralanmış noktalama işaretlerinden hangisi yanlış kullanılmıştır?

- A) I. B) II. C) III. D) IV. E) V.

13.

Klasik bir soru : Yeryüzünün kaçta kaç keşfedildi ?
I II

Yüzde 99'u mu ? Hayır, en fazla yüzde 5'i belki de
III

daha azı . Çünkü yeryüzünün , yüzde 70'inden
IV V

fazlası sular altında.

Bu parçadaki numaralanmış noktalama işaretlerinden hangisi yanlış kullanılmıştır?

- A) I. B) II. C) III. D) IV. E) V.

14. Şiir yazmak için şair duyarlığının yanında bilgi birikimi de gerektirdiğini düşünüyor.

Bu cümledeki anlatım bozukluğu aşağıdaki değişikliklerden hangisiyle giderilebilir?

- A) "gerektirdiğini" yerine "gerektiğini" sözcüğü getirilerek
B) "birikimi" yerine "birikiminin" sözcüğü getirilerek
C) "için" sözcüğü atılarak
D) "duyarlığının yanında" yerine "duyarlığıyla birlikte" sözü getirilerek
E) "için"den sonra "aslında" sözcüğü getirilerek

15. Aşağıdaki cümlelerin hangisinde bir anlatım bozukluğu vardır?

- A) Bu projeye uzun zamandan beri ilgileniyorum.
B) Ankara'ya geldikten sonra, gruptan ayrılan ve eklenen müzisyenler oldu.
C) Yurt dışında isim yapmış Türk müzisyenlerle çalıştım.
D) Yakında çıkacak albümümle ilgili çalışmaları tamamladım.
E) Bu albümde, tanınmış müzisyenler, eski şarkıları farklı tarzda yorumluyor.

16. Aşağıdaki cümlelerin hangisinde bir anlatım bozukluğu vardır?

- A) Aile sağlığını korumaya yönelik bu kurslara herkes katılabiliyordu.
B) Yabancı dil öğrenmede teknolojinin olanaklarından yararlanmaya çalışıyoruz.
C) İnternet sayesinde aranan bilgiye kolaylıkla ulaşılabilir.
D) Kütüphanelerden daha kolay yararlanılabilmesi için yeni düzenlemelere gerek görülüyor.
E) İletişim çağında bilginin değeri daha çok önem kazanmıştır.

17. Aşağıdaki cümlelerin hangisinde bir anlatım bozukluğu vardır?

- A) Topluluk içinde nasıl hareket etmesini bilen bir insandır.
- B) Onun için en önemli şey, yaşadıklarından ders çıkarmaktır.
- C) Arkadaşlarını seçerken çok titiz davrandığını herkes bilir.
- D) Çocuklara çok değer verir, onlarla arkadaşça bir ilişki kurar.
- E) Başarısızlıkları üzerine kafa yormaktan çok, onların nedenlerini araştırır.

18. Eski bir Frig yerleşimi olan Bolu'nun Seben ilçesi (I) ve çevresinde beş yüzden fazla kaya evi keşfedilmeyi bekliyor. Friglerden kalma kaya yerleşimlerinin yoğunlaştığı (II) Muslar ve Solaklar köylerinde kendinizi farklı bir gezegendeymiş (III) hissedeceksiniz. Peri bacaları (IV), mağaralar (V) ve koni biçimindeki kayaçlarla kaplı coğrafya için "minyatür bir Kapadokya" denebilir.

Bu parçadaki numaralanmış yerlerden hangisine "gibi" sözcüğü getirilmelidir?

- A) I. B) II. C) III. D) IV. E) V.

19. (I) Bence iyi bir yazarın işi, sözcüklerin gerçekliğini iade etmektir. (II) Bir sözcük moda oluyor, her şey için o kullanılıyor. (III) Örneğin, "incelikli" sözü, "Çok incelikli bir şey.", "İncelikli bir film." diye kullanılıyor. (IV) Dünyanın en kaba hâlleri için bile "incelikli" sözü seçiliyor. (V) Bu tür sözcükler günün anahtar sözcüğü, maymun-cuk gibi her kapıyı açıyor; "söylem" ve "keyif" de bunlardan. (VI) Babamın kullandığı sözler vardı: "Oğlum, inmadığın şeyleri asla kabul etme, hiçbir şeye tenezzül etme!" derdi. (VII) Şimdi bu tür kavramların yaşamımızdan çıkmasıyla birlikte onların sözcüklerle olan bağlantısı da koştur.

Bu parça iki paragrafa ayrılmak istense ikinci paragraf hangi cümleyle başlar?

- A) III. B) IV. C) V. D) VI. E) VII.

20. (I) Kimi yazınsal türler ikili özellik taşır. (II) Bunlar, hem başlı başına bir tür hem de bir anlatım biçimi olarak değerlendirilir. (III) Bunlardan biri olan mektup, dilin kullanımı yönünden bağımsız bir tür olduğu gibi, başka türlerin dokusu içinde bir anlatım biçimi olarak da kullanılabilir. (IV) Ancak bilinmelidir ki mektupta önemli olan, duygu ve düşüncelerdir. (V) Mektup biçiminde yazılmış romanlar, öyküler somut bir kanıttır bunun. (VI) Anı ve günlük için de aynı şeyi söyleyebiliriz.

Bu parçadaki numaralanmış cümlelerden hangisi düşüncenin akışını bozmaktadır?

- A) II. B) III. C) IV. D) V. E) VI.

21. Çiçekler açtığı zaman, bu bahçenin yanından geçemezsin. Dağların, ovaların, bozkırın bütün arıları gelmiş, bahçenin çiçeklerine konmuştur. Her dalda, daldaki her al çiçekte yüzlerce mavi, sarı, ışıltılı, kırmızı kuşaklı, türlü türlü, renk renk, büyüklü küçüklü arı vardır. Dallar, oğul vermiş gibidir. Vızıltılar ta uzaktan duyulur, yaklaşıkça uğultu artar.

Bu parçanın anlatımıyla ilgili olarak aşağıdakilerden hangisi söylenemez?

- A) İkileme kullanılmıştır.
- B) Abartma yapılmıştır.
- C) Benzetme yapılmıştır.
- D) İşitme duyusuyla algılanan ayrıntılara yer verilmiştir.
- E) Devrik cümle kullanılmıştır.

22. Bir iki damla yağmur düştü Hasan'ın yüzüne. Şimşekler çakmaya başladı. Simsiyah oldu gökyüzü. Bulutlar birbirlerine hücum ediyorlardı sanki. Şimşeklerin ardından, Geşo Dağı'ndan yağmur patlamış, geliyordu. Hasan, tarlasının ortasına gelip dikildi. Tüfeği elindeydi. Gömleği yırtılmıştı. Sağ elini göğe kaldırdı, "Ne olur tarlamdan uzak durun!" dedi, bulutlara yalvarırcasına.

Bu parçayla ilgili olarak aşağıdakilerden hangisi söylenemez?

- A) Koşul belirtilmiştir.
- B) Anlatılan kişinin ruhsal durumu yansıtılmıştır.
- C) Yalın, kısa cümlelerle anlatıma doğallık katılmıştır.
- D) Söz sanatına başvurulmuştur.
- E) Doğa betimlemelerine yer verilmiştir.

23. Yolun bundan sonraki kısmı sisliydi. Yine de gece yolculuğundan daha iyiydi. Sisle derinleşen bahçelerde göğe uzanan kavaklarla yolcuları selamlayan sarı yapraklı çınarların dalları birbirini kucaklıyordu. Ağaçlar rüzgârlarla söyleşiyordu. O anda bir şiirin içinde yaşamaya başladığımı düşündüm. Sisler arasında koşan çocuklar hızla büyüyordu sanki. Yanlarında birçok masal kahramanı yol gösteriyordu onlara. Ben de aralarındaydım. Otobüsle yarıştığımızı sanıyorduk. Aslında zamanla yarıştığımızı.

Bu parçanın anlatımıyla ilgili olarak aşağıdakilerin hangisi söylenemez?

- A) Karşılaştırma yapılmıştır.
- B) Kişileştirmeye yer verilmiştir.
- C) Tanıklıklardan yararlanılmıştır.
- D) Düşsel öğelerden yararlanılmıştır.
- E) Yanılgı dile getirilmiştir.

24. Çevirinin dile katkısı, çevirmenin öncelikle ana dil bilincini edinmiş olmasına bağlı. Bu bilinçten yoksun bir çevirmen, işin kolayına kaçabilir kuşkusuz. Türkçede karşılığı yok diye pek çok yabancı kökenli sözcüğü kullanmakta bir sakınca görmez. ----. Bu noktaya gelinmesinde çevirmenlerin tembelliğinin etkili olduğundan söz etmek de yanlış olmaz sanırım.

Bu parçada boş bırakılan yere düşüncenin akışına göre aşağıdakilerden hangisi getirilmelidir?

- A) Değişik bilim dallarıyla ilgili kavramlar, yabancı sözcük kullanılmadan Türkçe söz değerleriyle karşılanmaktadır
- B) Son yıllarda Batı kökenli sözcüklerin Türkçeye aktarılmasını bu tutuma bağlayabiliriz
- C) Çünkü bir dilin kavramları ve söz dağarcığı, bir başka dilinkinden farklıdır
- D) Türkçenin gelişmesinde yetkin çevirmenlerin de katkısı olmuştur
- E) Çevirmenlerin, çeviri yaparken yabancı sözcüklere Türkçe karşılıklar yaratması onlara düşen bir sorumluluktur

25. Kimi yarışmalara katılabilmek için şiirlerin basılmış olması şart değil. Ama kimilerinin jürilerinde bulunduğum için biliyorum, dosya hâlinde gönderilen şiirlere fazla ilgi gösterilmiyor. Dolayısıyla genç şair ödüle gerçekten adaysa şiirlerini kitaplaştırmaya çalışıyor ama genellikle başaramıyor. ----.

Bu parçanın sonuna düşüncenin akışına göre aşağıdakilerden hangisi getirilebilir?

- A) Anlaşılan bu, onların okur kitlesini önemli ölçüde azaltıyor
- B) Nedense şairlerin birbiriyle yarışarak gelişmeleri engellenmiş oluyor
- C) Bunun sonucunda pek çok yarışma insanlara duyurulamıyor
- D) Çünkü yayınevleri genç şairlerin kitaplarını yayınlama konusunda ilgisiz davranıyor
- E) Böylece onlar da unutulmuş şairler arasında katılıyor
26. Bizler, *Robinson Crusoe*'yu, *Gulliver'in Yolculukları*'nı okuyarak büyüdük. Onları çocuk kitabı belledik, birçok çocuk gibi. Okuduklarımız, asıllarının özetiymi elbette. Ama bizim için önemli olan öyküleri idi. İssiz adaya düşmüş bir adamın başından geçenler... Bir başkasının, devler ve cüceler diyarındaki serüvenleri... Ne yazarların anlatımından haberdardık ne de o dönemdeki çeşitli kurumlara yöneltilen eleştirilerden. ----.

Bu parçanın sonuna düşüncenin akışına göre aşağıdakilerden hangisi getirilemez?

- A) Bizi, onların öyküleri peşinden sürüklemişti
- B) Anlatılanları büyük bir ilgiyle okuyorduk
- C) Oradaki olaylar, bizi yeni dünyalarla tanıştıyordu
- D) İlgimiz "nasıl anlatıyor"a değil "ne anlatıyor"a yoğunlaşmıştı
- E) Anlatılanlarda kendi yaşamımızdan parçalar buluyorduk

27. 90'lı yıllara gelinceye kadar pek çok nesil, çizgi romanlarla büyüdü. Bugün 50'li, 60'lı yaşlarda olanlar, bir dönemin çocukları olarak ellerinden hâlâ kitabı bırakmazlar. Bu alışkanlığı, çizgi romanlar sayesinde kazandıklarını her fırsatta dile getirirler. O günün çocukları, kendilerine yasaklanan çizgi romanları, bugün kendi istekleriyle çocuklarına okutmak için çabalıyorlar, okuma alışkanlığı kazansınlar, diye.

Bu parçada çizgi romanlarla ilgili olarak ne anlatılmak istenmiştir?

- A) Eskiden kitaptan daha çok tercih edildiği
- B) Yeterli kültürel birikim kazandırmadığı
- C) Onlarla ilgili tutumun olumlu yönde değiştiği
- D) Çocukları kolaycılığa yönlendirdiği
- E) İlgi görmesi için bir şeyler yapmak gerektiği

28. Bir söyleşide dile getirmişt看: Öykünün uzunluğunu kısasız olmaz; öykü, öyküdür. Amerikalı öykücüler bu konuda bir ölçü belirlemek için epey tartışmışlar. "Uzun öykü"nün en az üç bin sözcük olması gerektiğini söyleyen de olmuş, otuz bin sözcük olması gerektiğini söyleyen de. Bence ele aldığımız metne bakmalıyız; öykü mü, değil mi, diye. Çünkü bir metni öyküye çeviren ya da öykü yapan öğeler bellidir.

Bunları söyleyen yazar için aşağıdakilerden hangisi söylenebilir?

- A) Öyküleri, ele alınan konuya göre boyutlandırmak gerektiğini bilmektedir.
- B) Kısa öykü-uzun öykü sınıflandırmasının doğru olmadığını düşünmektedir.
- C) Görüş alışverişinde bulunmanın önemine inanmaktadır.
- D) Düzeyli eleştiri konusundaki eksikliklerden yakınmaktadır.
- E) Sanat üzerine, ilgili ilgisiz herkesin konuşmasını yadırgamaktadır.

29. Değerli yapıtların büyük bir talihsizliği var. Bunlar genellikle genç yaşlarda ve çoğu zaman lisedeyken okul ödevi olarak okunur. Dolayısıyla derinliklerine inilmez. Asıl anlaşılıp özümsenebileceği sonraki yıllarda da ya okumaya gerek duyulmaz ya da vakit bulunmaz.

Bu parçadan değerli yapıtlarla ilgili olarak aşağıdakilerin hangisi çıkarılabilir?

- A) Gençlik dönemine uygun daha önemli yapıtlar olduğu
- B) Edebî değeri olan yapıtların öğrencilerce incelenmeye uygun olmadığı
- C) Kimi yapıtların geniş bir okuyucu kitlesine seslenecek nitelikte olmadığı
- D) Tadına varılabilmesi için ileri yaşlarda okunması gerektiği
- E) Sanat yapıtlarının çok yönlü değerlendirilmesinin zor olduğu

30. İlkokul çağlarında birkaç kez akraba ziyareti için geldiğim, 1960'lı yıllarda da baba ocağının taşındığı İstanbul, beni hiçbir zaman "kentim" diyebileceğim bir sıcaklıkla kucaklamadı. Belki de ben taşralı ruhumla İstanbul'a hep mesafeli durmayı yeğledim. Issız gece tramvaylarında yolculukları; Moda, Tarabya, Caddebostan plajlarından denize girilen zamanları unutamadıysam da kendimi hiçbir zaman İstanbullu saymadım. Bugünkü İstanbul ise dayanılmaz yoğunluktaki nüfusu, kargaşası, renksiz ve kimliksiz insan topluluklarıyla yabancı geliyor bana. Her fırsatta uzaklaşmak istediğim, ayrıldığımda da dönmeyi istemediğim bir kent.

Bu parçaya göre yazarın İstanbul'u sevmeyişinin en kapsamlı açıklaması aşağıdakilerden hangisidir?

- A) Olumsuz izlenimlerin çokluğu
- B) Küçük kentlerden farklı olması
- C) Görünüşünü itici bulması
- D) İnsan ilişkilerinin zayıf olması
- E) Bilinen yerlere benzememesi

31. Genç dostum! Umarım masallar dinleyerek büyümüşsündür. Masalsız çocukluklar, bir yanı güdük kalmış kişiler yaratır. Böyle derken masal dinlemeye ya da okumaya bir türlü yanaşmayan torunlarımı düşünüyorum. Ellerinden "playstation"lar düşmüyor. Kendilerinden geçercesine oynadıkları vurdu lu kırdılı oyunlara, şiddete dayalı yarışmalara baktıkça içim kararıyor. Söze zelliğe kapalı, görüntüsel bir tutsaklığın içinde kendilerinden geçiyorlar. Bu tutsaklığın etkisiyle ileride okumayı sevmeyecekleri kaygısını çekiyorum.

Bu sözleri söyleyen yazarın çocuklarla ilgili kaygısı aşağıdakilerden hangisidir?

- A) Yetişme biçiminin, çocukları, yazınsal yaratılar aracılığıyla kazanılan düş gücünü kullanmaktan alıkoymas
- B) Çocukların küçük yaşta teknolojiyle tanışmalarının, çocukluklarını yaşamalarına engel olması
- C) Çocuk masallarının, ilgi görmediği için unutulmaya başlaması
- D) Masalların çağın gerekleriyle uyuşmayan bir yapıda olması
- E) Okuma sevgisini diri tutmayı sağlayacak, düzeyli yapıtların azalması

32. Elimizdeki bilgilere göre Türk şiirinin, başlangıcından Yenisey ve Orhon Yazıtlarının yazılışına kadar geçen döneme değin sözlü kültür ortamında güçlü bir olasılıkla müzik ve dans ile birlikte varlığını sürdürdüğü söylenebilir. Kimi verilerden yola çıkarak V. yüzyılda başladığı düşünülen yazılı kültür ortamında "şiir" denebilecek ürünlerle görülmeye başladığı söylenebilir.

Bu parçada Türk şiiriyle ilgili olarak aşağıdakilerin hangisine değinilmemiştir?

- A) Başlangıçta sözlü kültüre dayandığına
B) Ne zamandan beri var olduğunun kesin olarak bilinmediğine
C) Eldeki verilerin zaman içinde yok olup gittiğine
D) Yazıya geçiş tarihinin tahminlere dayandığına
E) Yaşamasında başka sanatların etkili olduğuna
33. Kadın erkek on binlerce insan, trenlere doluşarak yurt dışına gitti. Kimi ilkokulu bitirmişti, kiminin ancak okuma yazması vardı. En ağır, en çok emek isteyen işleri onlara verilen. Bir evleri bile olmadı; aylarca, yıllarca yurtlarda kaldılar. İlk yaptıkları, para biriktirip otomobil almak oldu. Dışlerinden tırnaklarından artıracak gönderdikleri paralarla hem çocuklarının geçimini sağladılar hem de iş yerleri kurdular yurdun dört bir yanında. O cesur, o çalışkan işçilerden biri de annemdi. Elinde bir bavulla trene binerken on dokuz yaşındaydı. Şimdi elli sekiz yaşında. Otuz dokuz yıldır mekik dokuyor gurbet hattında.

Bu parçadan yurt dışına giden işçilerle ilgili olarak aşağıdakilerin hangisine değinilmemiştir?

- A) Yaşadıkları yerlerde koşulların yetersiz olduğuna
B) Ülkelerinin ekonomisine katkılarda bulduklarına
C) Çalışma yaşamında zorluklarla karşılaştıklarına
D) Eğitim düzeylerinin düşük olduğuna
E) Hepsinin aynı nedenle gittiğine

34. Türkçe benim doğal yurdumdur. Dünyanın neresinde olursam olayım, hiç fark etmez. Yunuslardan, Karacaoğlanlardan, Pir Sultanlardan, Dadaloğullarından süzülerek gelen, gelişen bir dildir benim yurdum, barınağım, can damarım Türkçem. Türkçeyle düşünüyorum, Türkçemle yaşıyorum. Ne var ki ana dili bir yerde yetmiyor insana. Dünyaya açılmak için başka insanların konuştuğu dillere de el atmak, gönül bağlamak gerekiyor.

Bu sözleri söyleyen bir kişi aşağıdakilerden hangisiyle nitelendirilemez?

- A) Ana diliyle yurdu arasında bir bağ kuran
B) Türkçenin gelişmesine katkıda bulunan şairlere değer veren
C) Türkçeyi niçin sevdiğini kendine özgü bir yolla açıklayan
D) Türkçeyle yazılmış yapıtların yurt dışında da tanındığını düşünen
E) Öteki dilleri dışlamamak gerektiğine inanan
35. Borges için gerçeğin çekirdeği kitaplardaydı. Kitap okuyarak, kitap yazarak, kitaplar hakkında konuşarak oluşturduğu bir yaşamı vardı. Kitaplarla, binlerce yıl önce başlamış ve asla bitmeyecek olan bir diyalogun içinde yer alıyordu. Kitaplarında kullandığı dil, büyük oranda, okuduklarından ve İspanyolcaya çevirdiği yazarlardan besleniyordu. Bir kısmı da dostlarıyla bir yemek masası etrafında oturup edebiyata ilişkin sorunlar hakkında tartışmalar yapma alışkanlığından geliyordu. Paradokslar, sessiz ve aydınlatıcı deyiş biçimleri, "zarif saçmalıklar" konusunda özel bir yeteneği vardı.

Bu parçadan Borges ile ilgili olarak aşağıdakilerden hangisine ulaşılamaz?

- A) Aykırı düşüncelere sahip olduğuna
B) Asıl başarısını çeviri alanında elde ettiğine
C) Yazmada ustalaştığı noktalara
D) Kültürel birikimini oluşturmada yararlandığı kaynaklara
E) Günlük yaşamında da sanata ilgisini sürdürdüğüne

36. Şiirin yüzlerce tanımı var. Benim içinse şiir, şairin ya da yazan kişinin dünyaya sığamama hâli. Bu dünyayı biraz daha geniş kılma, var olan dünyayı başka bir dünyaya çevirme çabası... Bu dünyanın alışılmış, olağan işleyişine çok fazla ayak uyduramayan insanların işi, diye düşünüyorum.

Bu parçada şairlerin özellikleri arasında aşağıdakilerden hangisine değinilmemiştir?

- A) Yaşamın sınırlarını zorlama
B) Yeni duygu ve düşüncelerin kapısını açma
C) Sıradan bir yaşama katlanamama
D) Değişirme isteğiyle dolu olma
E) Sanatta farklılığını kabul ettirmek isteme

37.

$$\frac{\frac{1}{3} - \frac{1}{4}}{\frac{1}{5} - \frac{1}{6}}$$

işleminin sonucu kaçtır?

- A) $\frac{3}{2}$ B) $\frac{5}{2}$ C) $\frac{4}{3}$
D) $\frac{5}{3}$ E) $\frac{5}{4}$

38.

$$\frac{0,04}{0,1} + \frac{0,2}{0,02}$$

işleminin sonucu kaçtır?

- A) 0,5 B) 1,2 C) 1,4 D) 10,4 E) 14

39.

$$\frac{\sqrt{12,1} + \sqrt{10}}{\sqrt{0,9}}$$

işleminin sonucu kaçtır?

- A) $\frac{1}{2}$ B) $\frac{1}{5}$ C) $\frac{3}{10}$
D) 7 E) 13

40. Üç katının 6 fazlası, dört katının 16 eksğine eşit olan sayı kaçtır?

- A) 14 B) 16 C) 18 D) 20 E) 22

41.

$$a^2 \cdot b^3 = 72$$

$$a \cdot b^2 = 12$$

olduğuna göre, a kaçtır?

- A) 3 B) 4 C) $\frac{3}{4}$ D) $\frac{9}{4}$ E) $\sqrt{2}$

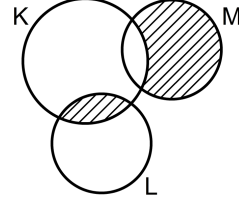
42.

$$\sqrt{4^{x+1}} = \frac{2}{3}$$

olduğuna göre, 2^x in değeri kaçtır?

- A) $\frac{1}{2}$ B) $\frac{3}{2}$ C) $\frac{1}{3}$
D) $\frac{2}{3}$ E) $\frac{1}{4}$

43.



Şemadaki taralı bölgeleri ifade eden küme aşağıdakilerden hangisidir?

- A) $(K-M) \cup (K-L)$ B) $(K \cap L) \cup (K \cap M)$
C) $(K \cap L) \cup (K-M)$ D) $(K \cap M) \cup (K-L)$
E) $(K \cap L) \cup (M-K)$

44. x ve y tam sayıları için

$$3 < 2x < 11$$

$$-4 < 3y < 16$$

olduğuna göre, $x - y$ ifadesinin alabileceği en büyük değer kaçtır?

- A) 3 B) 4 C) 5 D) 6 E) 7

45. $a < 0$ ve $b > 0$ olmak üzere,

$$\frac{a \cdot |b-a| + b \cdot |a-b|}{b-a}$$

ifadesi aşağıdakilerden hangisine eşittir?

- A) $a+b$ B) $a-b$ C) $-a-b$
D) $b-a$ E) $b-2a$

46.

$$3x + 4y + 2z = 23$$

$$5x + 4y + 6z = 17$$

olduğuna göre, $x + y + z$ toplamı kaçtır?

- A) 5 B) 6 C) 7 D) 8 E) 9

47.

$$\frac{3}{x} + \frac{2}{y} = 2$$

$$\frac{9}{x} - \frac{4}{y} = 1$$

olduğuna göre, $x - y$ farkı kaçtır?

- A) -3 B) -2 C) 1 D) 2 E) 4

48.

$$\frac{x^2 - 1}{x} : \frac{x^2 + 2x + 1}{x^2 + x}$$

ifadesinin sadeleştirilmiş biçimi aşağıdakilerden hangisidir?

- A) x B) x^2 C) $x+1$
D) $1-x$ E) $x-1$

49.

$$\left| \frac{x-4}{2} \right| < 1$$

eşitsizliğinin çözüm kümesi aşağıdaki aralıklardan hangisidir?

- A) $2 < x < 6$ B) $2 < x < 8$
C) $3 < x < 7$ D) $3 < x < 9$
E) $4 < x < 8$

50. Gerçel sayılar kümesi üzerinde * ve Δ işlemleri

$$x * y = x^y$$

$$x \Delta y = x - y$$

biçiminde tanımlanıyor.

$2 * (a \Delta 1) = 8$ olduğuna göre, a kaçtır?

- A) 1 B) 2 C) 3 D) 4 E) 5

51. x ve y tam sayılar olmak üzere x^2 tek ve $x \cdot y$ çift sayı olduğuna göre, aşağıdakilerden hangisi çift sayıdır?

- A) $x + y$ B) $x + 2y$ C) $x - y$
D) $x(y + 1)$ E) $(x + 1)(y - 1)$

52. Üç basamaklı A6B sayısının 5 ile bölümünden kalan 2'dir.

Bu sayı 3 ile tam olarak bölüldüğüne göre, A + B toplamı en fazla kaç olabilir?

- A) 9 B) 12 C) 14 D) 15 E) 16

53. 1, 2, 3, 4 ve 5 rakamlarını kullanarak rakamları birbirinden farklı üç basamaklı kaç tane çift sayı oluşturulabilir?

- A) 18 B) 20 C) 24 D) 28 E) 30

54. Bir televizyonun etiket fiyatı, alış fiyatının üzerine % 20 kâr eklenerek belirlenmiştir. Bu televizyon, etiket fiyatı üzerinden yapılan 150 TL'lik bir indirimle 2010 TL'ye satılıyor.

Bu televizyonun alış fiyatı kaç TL'dir?

- A) 1720 B) 1740 C) 1760
D) 1780 E) 1800

55. Bir annenin bugünkü yaşı, kızının yaşının dört katıdır.

4 yıl sonra annenin yaşı kızının yaşının üç katı olacağına göre, annenin bugünkü yaşı kaçtır?

- A) 28 B) 32 C) 36 D) 40 E) 44

56. Bir manavda limonların tanesi 20 kuruş ve kivilerin tanesi 25 kuruştan satılmaktadır. Bir müşteri x tane limon ve y tane kivi alarak toplam 335 kuruş ödemiştir.

$x + y = 15$ olduğuna göre x kaçtır?

- A) 5 B) 6 C) 8 D) 9 E) 10

57. Bir baloncunun kırmızı, beyaz ve mavi renklerde toplam 60 balonu vardır. Kırmızı balonların sayısı, beyaz balonların sayısının 2 katı, beyaz balonların sayısı da mavi balonların sayısının 3 katıdır.

Buna göre, baloncunun kaç tane kırmızı balonu vardır?

- A) 38 B) 36 C) 34 D) 32 E) 30

58. Saatteki hızları 3V ve 4V olan iki araç aynı anda A kentinden hareket edip 2 saat arayla B kentine varmıştır.

Buna göre, hızlı olan araç iki kent arasındaki yolu kaç saatte almıştır?

- A) 6 B) 7 C) 9 D) 10 E) 12

59. İki kişiye eşit olarak paylaşılacak bir miktar paradan % 10 kesinti yapılırsa kişi başına düşen para 30 TL azalıyor.

Buna göre, paylaşılacak para kaç TL'dir?

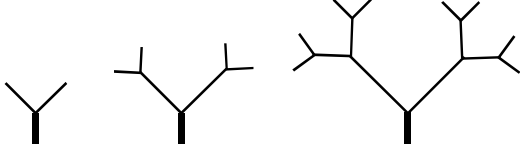
- A) 480 B) 520 C) 560 D) 600 E) 640

60. Bir firma 600 tane dijital masa saati ithal etmiştir. Bu saatlerin bir kısmı bozuk çıktığından bir saatin firmaya maliyeti 2 TL artarak 15 TL olmuştur.

Buna göre, bozuk saatlerin sayısı kaçtır?

- A) 56 B) 75 C) 80 D) 90 E) 102

61. Tek bir gövde olarak toprağa dikilen bir ağaç türünde ilk yıl gövdeden 2 yeni dal, sonraki yıllarda da her yeni daldan 2 dal daha oluşmaktadır. Aşağıda bu ağaç türünün ilk üç yıldaki dal oluşumu gösterilmiştir.



1. yılın
sonunda

2. yılın
sonunda

3. yılın
sonunda

Bu ağaç türünde 1. yılın sonunda toplam 2 dal, 2. yılın sonunda toplam 6 dal, 3. yılın sonunda da toplam 14 dal oluşmuştur.

Buna göre, 5. yılın sonunda bu ağaç türünde toplam kaç dal oluşur?

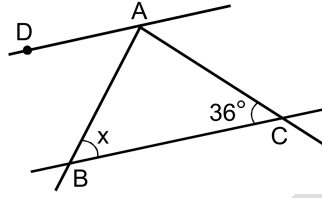
- A) 62 B) 64 C) 66 D) 68 E) 70

62. Bir çiçekçi, 5 farklı açelya türünden 3'ünü ve 3 farklı papatya türünden 2'sini kullanarak beş çiçekten oluşan bir demet çiçek hazırlayacaktır.

Çiçekçi bu şekilde kaç farklı demet hazırlayabilir?

- A) 24 B) 30 C) 36 D) 40 E) 48

- 63.



ABC bir üçgen

$DA \parallel BC$

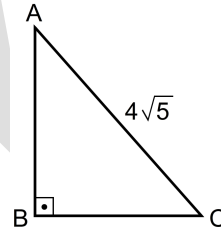
$m(\widehat{BCA}) = 36^\circ$

$m(\widehat{ABC}) = x$

Şekilde $m(\widehat{BAC}) = 2 \cdot m(\widehat{BAD})$ olduğuna göre, x kaç derecedir?

- A) 44 B) 48 C) 52 D) 56 E) 60

- 64.



ABC bir dik üçgen

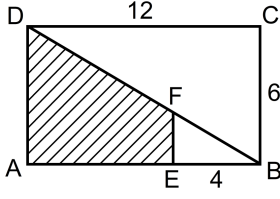
$AB \perp BC$

$|AC| = 4\sqrt{5}$ cm

Şekildeki ABC dik üçgeninin alanı 16 cm^2 olduğuna göre, $|AB| + |BC|$ kaç cm'dir?

- A) 9 B) 10 C) 12
D) $5\sqrt{5}$ E) $6\sqrt{5}$

65.



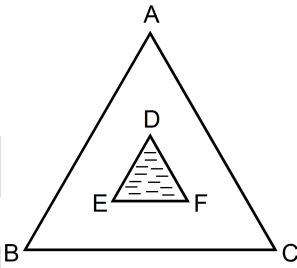
ABCD bir dikdörtgen
 $DA \parallel FE$
 $|BC| = 6 \text{ cm}$
 $|DC| = 12 \text{ cm}$
 $|EB| = 4 \text{ cm}$

Yukarıdaki verilere göre, AEFD taralı bölgesinin alanı kaç cm^2 dir?

- A) 32 B) 34 C) 36 D) 38 E) 40

66.

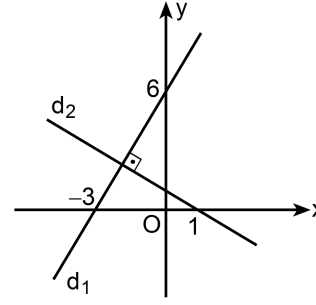
Alanı 900 m^2 ve çevresi 540 m olan ABC üçgeni biçimindeki bir oyun parkının içerisinde, alanı 100 m^2 olan DEF üçgeni biçiminde bir havuz bulunmaktadır. Bu durum aşağıda modellenmiştir.



ABC ve DEF benzer üçgenler olduğuna göre, havuzun çevresi kaç metredir?

- A) 60 B) 90 C) 120 D) 160 E) 180

67.

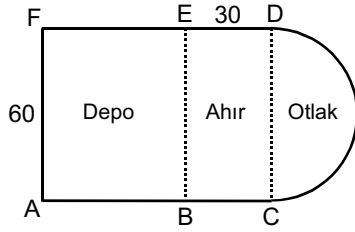


Şekildeki d_1 doğrusuna dik olan d_2 doğrusunun denklemi aşağıdakilerden hangisidir?

- A) $x - 2y = 1$ B) $x + 2y = 1$
 C) $x + 2y = -2$ D) $2x - y = 1$
 E) $2x + y = 2$

68. - 69. SORULARI AŞAĞIDAKİ BİLGİLERE GÖRE CEVAPLAYINIZ.

Aşağıdaki şekil, hayvancılık yapılan bir çiftliğe ait krokidir. Bu çiftlik ABEF karesi biçimindeki depo, BCDE dikdörtgeni biçimindeki ahır ve [CD] çaplı yarım daire biçimindeki otlak alandan oluşmaktadır.



Şekilde $|AF| = 60$ m ve $|ED| = 30$ m 'dir.

68. Bu çiftliğin alanı kaç m^2 dir?

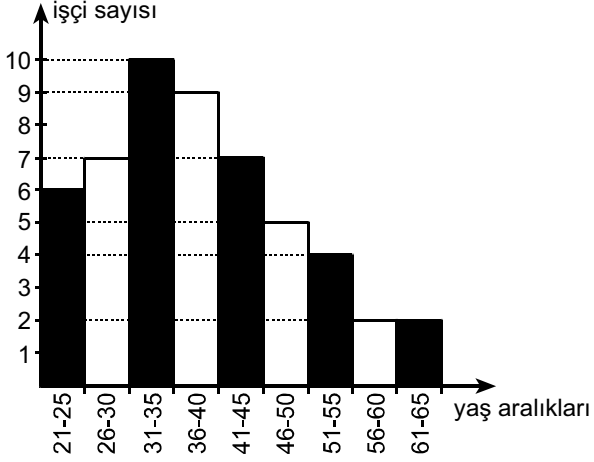
- A) $1800 + 450\pi$ B) $3600 + 450\pi$
 C) $5400 + 450\pi$ D) $3600 + 600\pi$
 E) $5400 + 600\pi$

69. Bu çiftliğin çevresi kaç metredir?

- A) $180 + 30\pi$ B) $240 + 30\pi$
 C) $240 + 45\pi$ D) $180 + 60\pi$
 E) $300 + 60\pi$

70. - 72. SORULARI AŞAĞIDAKİ BİLGİLERE GÖRE CEVAPLAYINIZ.

Aşağıdaki grafikte, bir fabrikadaki işçilerin yaş aralıklarına göre dağılımı gösterilmiştir.



70. Bu fabrikada 31-50 yaş aralığında kaç işçi vardır?

- A) 27 B) 29 C) 31 D) 33 E) 35

71. Bu fabrikadaki işçilerin yüzde kaç 31 yaşından küçüktür?

- A) 12 B) 15 C) 18 D) 20 E) 25

72. Bu grafiğe göre aşağıdakilerden hangisi yanlıştır?

- A) Bu fabrikada toplam 52 işçi vardır.
 B) Bu fabrikada 50 yaşından büyük 8 işçi vardır.
 C) İşçi sayısının en fazla olduğu yaş aralığı 31-35'tir.
 D) 36-40 yaş aralığındaki işçi sayısı, 51-55 yaş aralığındakilerin 3 katıdır.
 E) 26-30 yaş aralığındaki işçi sayısı, 41-45 yaş aralığındakilerin sayısına eşittir.

- 73.
- I. Osmanlı Devleti'nin Kuzey Afrika'daki son toprak parçası olan Trablusgarp ve Bingazi'yi İtalya'ya bırakması
 - II. Oniki Ada'nın İtalya'ya verilmesi
 - III. Osmanlı Devleti'nin Balkanlardaki varlığının Doğu Trakya ile sınırlanması

Yukarıdakilerden hangileri Ouchi (Uşi) Antlaşması'nın kapsamındadır?

- A) Yalnız I B) Yalnız II C) Yalnız III
D) I ve II E) I, II ve III

74. **Almanya'nın Birinci Dünya Savaşı'nda, Osmanlı Devleti'nin kendi saflarında savaşa girmesini istemesinde aşağıdakilerden hangisinin etkisi yoktur?**

- A) Süveyş Kanalı'nı ele geçirme isteği
- B) Halifelik nüfuzundan yararlanabilmek umudu
- C) Rusya'nın müttefikleriyle bağlantısının kesilmesini amaçlaması
- D) Yeni cephelerin açılmasıyla Anlaşma Devletlerinin zorlanmasını amaçlaması
- E) Kapitülasyonların kaldırılması yönündeki beklentisi

75. **Erzurum Kongresi'nin yapılması kararını aşağıdaki cemiyetlerden hangisi vermiştir?**

- A) Şark Vilayetleri Müdafaa-i Hukuk-ı Milliye
- B) Trakya Paşaeli
- C) İzmir Müdafaa-i Hukuk-ı Osmaniye
- D) Reddi İlhak
- E) Trabzon Muhafaza-ı Hukuk-ı Milliye

76. **Temsilciler Kurulunun Sivas'tan Ankara'ya gelmesinde, Ankara'nın,**

- I. haberleşme olanaklarının daha fazla olması,
- II. Batı Cephesi'ne yakın olması,
- III. demir yolunun buraya kadar uzanması

durumlarından hangilerinin etkisi olduğu savunulabilir?

- A) Yalnız I B) Yalnız II C) Yalnız III
D) I ve II E) I, II ve III

77. **İnönü Savaşlarının kazanılmasının aşağıdakilerden hangisine ortam hazırladığı savunulabilir?**

- A) Gümrü Antlaşması'nın imzalanmasına
- B) Amasya Görüşmelerinin yapılmasına
- C) TBMM Hükümetinin güç kazanmasına
- D) Ali Fuat Paşa'nın Batı Anadolu Kuvayimilliyeye Genel Komutanlığına atanmasına
- E) Temsilciler Kurulunun Ankara'ya gelmesine

78. **Aşağıdakilerden hangisi Gümrü Antlaşması'yla topraklarımıza katılan yerlerden biri değildir?**

- A) Batum B) Kars C) Çıldır
D) Sarıkamış E) Ardahan

79. Mustafa Kemal'e Başkomutanlık yetkisini aşağıdakilerden hangisi vermiştir?

- A) Dışişleri Bakanlığı
- B) TBMM
- C) İçişleri Bakanlığı
- D) Genelkurmay Başkanlığı
- E) Millî Savunma Bakanlığı

80. Aşağıdakilerden hangisi Mudanya Ateşkes Anlaşması'nın özelliklerinden biri değildir?

- A) Türk birliğinin İstanbul'a girmesi
- B) Doğu Trakya'nın savaşılmadan ele geçirilmesi
- C) Osmanlı borçlarının ödeme biçiminin belirlenmesi
- D) Görüşmelerde Yunanistan'ı İngiltere'nin temsil etmesi
- E) Kurtuluş Savaşı'nın silahlı mücadelesinin sona ermesi

81. Aşağıdakilerden hangisi siyasal alanda yapılan girişimlerden biri değildir?

- A) Cumhuriyet'in ilan edilmesi
- B) Saltanatın kaldırılması
- C) Halifeliğin kaldırılması
- D) Medeni Kanun'un kabul edilmesi
- E) Çok partili rejim denemeleri yapılması

82. Cumhuriyet Döneminde Türk dilini geliştirme, öz benliğini kazandırma ve koruma amaçlı çalışmalar yapılmıştır.

Bu çalışmaların,

- I. milliyetçilik,
- II. halkçılık,
- III. devletçilik

ilkelerinden hangileri doğrultusunda olduğu savunulabilir?

- A) Yalnız I
- B) Yalnız II
- C) I ve II
- D) II ve III
- E) I, II ve III

83. Atatürk, "Toplu bir milleti istila etmek darmadağın bir milleti istila etmek gibi kolay değildir." demiştir.

Atatürk'ün bu sözüyle aşağıdakilerden hangisini vurguladığı savunulabilir?

- A) Millî birlik ve beraberliğin önemini
- B) Uluslararası ilişkilerde barışın gerekliliğini
- C) Dogmaların toplum için önemini
- D) Düşmanla mücadelede yalnız askerî gücün yeterliliğini
- E) Çağdaşlaşmada teknolojik gelişmenin yeterli görülmesini

84. Hatay'ın Türk topraklarına katılmasında,

- I. Fransa'nın Suriye ve Lübnan üzerindeki manda yönetimini kaldırması,
- II. bölge halkının kendi geleceğini kendisinin belirlemesi ilkesinin uygulanması,
- III. Balkan Antantı'nın yapılması

gelişmelerinden hangilerinin etkisi olduğu savunulabilir?

- A) Yalnız I B) Yalnız II C) Yalnız III
D) I ve II E) I, II ve III

85. Aynı yarımkürede bulunan ve ekvatora uzaklıkları farklı olan X ve Y kentlerinin aşağıdaki özelliklerinden hangisi **kesinlikle** farklıdır?

- A) Yer şekilleri
- B) Yıllık yağış tutarları
- C) Gece-gündüz süreleri
- D) Yükselti değerleri
- E) Ulusal saatleri

86. Hemen hemen aynı enlemler üzerinde bulunan Erzurum ve Çanakkale kentleri için 21 Aralık tarihinde aşağıdakilerden hangisi **kesinlikle** aynıdır?

- A) Güneş ışınlarının düşme açısı
- B) Günlük sıcaklık farkı
- C) Egemen rüzgâr yönü
- D) En yüksek bağıl nem değeri
- E) Günün en sıcak saati

87. Dünya üzerinde herhangi bir noktanın ölçülen sıcaklık değerine gerçek sıcaklık adı verilir. Bu sıcaklık değerinin deniz seviyesine indirilerek hesaplanmasıyla elde edilen sıcaklık değerine ise indirgenmiş sıcaklık denir.

Buna göre, bir noktanın gerçek sıcaklığı indirgenmiş sıcaklığından daha fazlaysa bu nokta için aşağıdakilerden hangisi kesinlikle doğrudur?

- A) Denize yakındır.
- B) Deniz seviyesinden aşağıdadır.
- C) Ekvatora yakındır.
- D) Sıcak okyanus akıntıları etkilidir.
- E) Yaz mevsimi yaşanmaktadır.

88. Türkiye'nin yakın çevresindeki ülkeler arasında yaşanan çatışmalarda aşağıdakilerden hangisinin etkili olduğu **söylenemez?**

- A) Ülkeler arasında sınır anlaşmazlıklarının olması
- B) Din, dil ve kültür farklılığının olması
- C) Süveyş Kanalı'nın Orta Doğu ülkeleri için jeopolitik bakımdan önemli olması
- D) Yönetim biçimlerinin birbirinden farklı olması
- E) Bugün ve gelecekte kullanılabilecek zengin petrol yataklarının olması

89. Türkiye'nin 2000 ile 2007 yıllarındaki nüfusunun yaş gruplarını gösteren grafikler dikkate alındığında, aşağıdakilerden hangisine **ulaşamaz?**

- A) Genç nüfus oranındaki değişime
- B) Cinsiyet oranındaki değişime
- C) Nüfus artış hızına
- D) Toplam nüfus miktarına
- E) Ortalama yaşam süresindeki değişime

90. Dünya pirinç üretiminde, Çin Halk Cumhuriyeti'nin çok büyük bir payı olmasına karşın, üretimin büyük bir kısmı iç piyasada tüketilmektedir.

Türkiye'de hangi coğrafi bölge ve bu bölgede üretilen tarım ürünü eşleştirmesinde benzer bir durum söz konusudur?

- A) Karadeniz – fındık
- B) Ege – üzüm
- C) Akdeniz – pamuk
- D) Karadeniz – mısır
- E) Ege – incir

91. Erzurum-Kars Bölümü'nde aşağıdaki hayvancılık etkinliklerinden hangisi ekonomik bir değer taşımamaktadır?

- A) İpek böcekçiliği
- B) Küçükbaş hayvancılık
- C) Arıcılık
- D) Büyükbaş hayvancılık
- E) Balıkçılık

92. Türkiye'de, tarıma dayalı endüstri kuruluşlarının dağılışı göz önüne alındığında, aşağıdakilerin hangisi daha sınırlı bir alanda bulunmaktadır?

- A) Şeker endüstrisi
- B) Pamuklu dokuma endüstrisi
- C) Meyve suyu endüstrisi
- D) Bitkisel yağ endüstrisi
- E) Çay endüstrisi

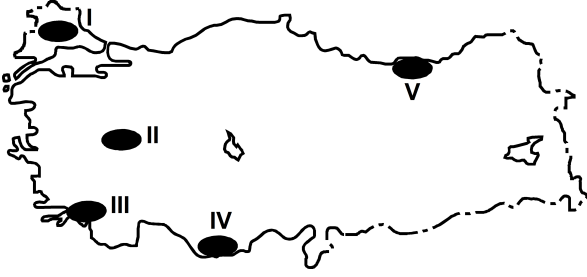
93. Aşağıdakilerden hangisinin artışı, Türkiye'de dış ticaret açığının azalmasında etkili değildir?

- A) Turizm gelirinin
- B) Deniz ticaret filosu büyüklüğünün
- C) Ülke nüfusunun
- D) Endüstri kuruluşu sayısının
- E) Petrol ve doğal gaz boru hatlarının

94. Türkiye'de demir yolu ağının geliştirilmesinin aşağıdakilerden hangisi üzerinde etkisi olmadığı söylenemez?

- A) Transit taşımacılığın gelişimine katkı sağlar.
- B) Ulaşım maliyeti azalır.
- C) Ülke ekonomisine katkı sağlar.
- D) Kara yollarındaki trafik sorununu azaltır.
- E) Bağlantısı olan limanlarda deniz taşımacılığının önemi azalır.

95.



Yukarıdaki haritada gösterilen alanların hangisinde,

- linyit çıkarımı,
- termik santralden elektrik üretimi,
- turuncgil tarımı,
- turizm

etkinliklerinin tümü gelir kaynağıdır?

- A) I B) II C) III D) IV E) V

96. Aşağıdakilerden hangisinin Marmara Denizi'ndeki kirlilikte daha az etkili olduğu söylenebilir?

- A) Kıyı kentlerinin katı ve sıvı atıkları
 B) Petrol çıkarmak için kurulan platformlar
 C) Kıyılardaki endüstri tesislerinden çıkan atıklar
 D) Tanker ve diğer deniz araçlarının kazaları sonucu meydana gelen sızıntılar
 E) Akarsularla denize taşınan tarımsal ilaç ve gübre atıkları

97. 1982 Anayasası'na göre, Bakanlar Kurulu aşağıdakilerden hangisini yapabilir?

- A) Danıştay incelemesinden geçirilmek şartıyla tüzük çıkarmak
 B) Anayasa değişikliği teklifinde bulunmak
 C) Cumhurbaşkanı seçmek
 D) Meclis Başkanı seçmek
 E) Cumhurbaşkanı azletmek

98. 1982 Anayasası'na göre, Anayasa Mahkemesi aşağıdakilerden hangisini denetleme yetkisine sahip değildir?

- A) Anayasa değişikliği
 B) Kanun
 C) TBMM İçtüzüğü
 D) Tüzük
 E) Yasama dokunulmazlığının kaldırılmasına ilişkin TBMM Genel Kurulu kararı

- 99.
- I. Milletvekillerinin kanun önerisine teklif adı verilir.
 - II. Başbakan, milletvekili olmak zorundadır.
 - III. TBMM üyeleri yalnızca kendisine oy verenleri temsil eder.

1982 Anayasası'na göre, yukarıdakilerden hangileri doğrudur?

- A) Yalnız II B) Yalnız III C) I ve II
D) II ve III E) I, II ve III

- 100.
- I. Kanunları yayımlamak
 - II. TBMM'yi gerektiğinde toplantıya çağırarak
 - III. Kanunları tekrar görüşülmek üzere TBMM'ye göndermek

1982 Anayasası'na göre, yukarıdakilerden hangileri Cumhurbaşkanının görev ve yetkileri arasında yer alır?

- A) Yalnız I B) Yalnız III C) I ve II
D) I ve III E) I, II ve III

101. 1982 Anayasası'na göre, aşağıdakilerden hangisi kamu idarelerinin gelir ve giderlerini denetler?

- A) Danıştay B) Yargıtay
C) Sayıştay D) Uyuşmazlık Mahkemesi
E) Anayasa Mahkemesi

102. 1982 Anayasası'na göre, kanunların esas bakımından Anayasa'ya aykırılığı iddiasıyla iptal davası açma süresi kaç gündür?

- A) 10 B) 15 C) 30 D) 45 E) 60

103. Aşağıdakilerden hangisi 1982 Anayasası'nda "değiştirilemez ve değiştirilmesi teklif dahi edilemez" hükümler arasında sayılmamıştır?

- A) Devletin dilinin Türkçe olduğuna ilişkin hüküm
B) Devletin başkentinin Ankara olduğuna ilişkin hüküm
C) Sosyal devlet ilkesine ilişkin hüküm
D) Eşitlik ilkesine ilişkin hüküm
E) Laiklik ilkesine ilişkin hüküm

104. 1982 Anayasası'na göre, 2010 Anayasa değişikliği sonrası seçilen Anayasa Mahkemesi üyelerinin görev süreleriyle ilgili aşağıdaki ifadelerden hangisi doğrudur?

- A) Görev süreleri 7 yıldır.
B) Görev süreleri 5 yıldır.
C) Görev süreleri 12 yıldır.
D) Görev süreleri 5+5, toplam 10 yıldır.
E) Sabit bir görev süreleri yoktur, 65 yaşını dolduruncaya kadar görev yapabilirler.

105. 1982 Anayasası'na göre, Anayasa'nın bağlayıcılığı ve üstünlüğü ile ilgili aşağıdaki ifadelerden hangisi **yanlıştır**?

- A) Anayasa hükümleri yasamayı bağlar.
- B) Kanunlar Anayasa'ya aykırı olabilir.
- C) Anayasa hükümleri kişileri bağlar.
- D) Anayasa hükümleri temel hukuk kurallarıdır.
- E) Anayasa hükümleri yargı organlarını bağlar.

106. 1982 Anayasası'na göre, Yüksek Seçim Kurulu kaç üyeden oluşur?

- A) 5 asıl ve 2 yedek
- B) 6 asıl ve 4 yedek
- C) 7 asıl ve 4 yedek
- D) 3 asıl ve 2 yedek
- E) 11 asıl ve 4 yedek

107. 1982 Anayasası'na göre, Başkomutanlık aşağıdakilerden hangisi tarafından temsil olunur?

- A) TBMM Başkanı
- B) Cumhurbaşkanı
- C) Başbakan
- D) Genelkurmay Başkanı
- E) Millî Savunma Bakanı

108. 1982 Anayasası'na göre, yasama dokunulmazlığı aşağıdakilerden hangisine ait bir ayrıcalıktır?

- A) TBMM üyeleri
- B) Anayasa Mahkemesi üyeleri
- C) Yargıtay üyeleri
- D) Danıştay üyeleri
- E) Uyuşmazlık Mahkemesi üyeleri

109.

- I. Genel idare içinde yer alan bir kamu kuruluşudur.
- II. Kendi özel kanunları ve bütçesi vardır.
- III. Merkez, taşra ve yurt dışı teşkilatlarından oluşur.

Emniyet Genel Müdürlüğü ile ilgili yukarıdaki ifadelerden hangileri doğrudur?

- A) Yalnız I
- B) Yalnız II
- C) I ve II
- D) I ve III
- E) I, II ve III

110. İl emniyet müdürü ile ilgili aşağıdaki ifadelerden hangisi **yanlıştır**?

- A) İl sınırları içindeki emniyet kuruluşlarında görevli personelin en yüksek mesleki amiridir.
- B) Görevlerin yerine getirilmesinde kaymakamın emrinde ve ona karşı sorumludur.
- C) Polis bölgeleri içinde kanunla öngörülen yetkilere sahip olarak genel güvenlik ve asayişini sağlamakla görevlidir.
- D) Birimler ve diğer kuruluşlar arasında iş birliği kurar.
- E) Personelin eğitim ve disiplinini sağlar, bunların görev yerlerini belirler ve özlük işlerini yürütür.

111. Aşağıdakilerden hangisi Türk Bayrağı'nın sürekli olarak çekili kalacağı yerlerden biri değildir?

- A) TBMM
B) Anıtkabir
C) Cumhurbaşkanlığı
D) Özel şirketler
E) Hudut kapıları

112. Türkiye'de en son genel mahallî idareler seçimi aşağıdaki tarihlerden hangisinde yapılmıştır?

- A) 21 Ekim 2007
B) 29 Mart 2009
C) 06 Haziran 2010
D) 12 Eylül 2010
E) 12 Haziran 2011

113. Aşağıdakilerden hangisi T.C. Merkez Bankası Başkanlığı yapmamıştır?

- A) Kemal Derviş
B) Gazi Erçel
C) Süreyya Serdengeçti
D) Durmuş Yılmaz
E) Erdem Başçı

114. Aşağıdakilerden hangisi Haziran 2011'de Birleşmiş Milletler Mülteciler Yüksek Komiserliği İyi Niyet Elçisi olarak Hatay'a gelmiştir?

- A) Meg Ryan
B) Nicole Kidman
C) Angelina Jolie
D) Julia Roberts
E) Penelope Cruz

115. 2011 yılının Nisan ayında yapılan bir kraliyet düğünüyle dikkatleri üzerine çeken ülke aşağıdakilerden hangisidir?

- A) Belçika
B) İspanya
C) İngiltere
D) Ürdün
E) Suudi Arabistan

116. UNESCO, 2011 yılını aşağıdakilerden hangisini anma yılı olarak ilan etmiştir?

- A) Eflatun
B) Piri Reis
C) Yunus Emre
D) Mimar Sinan
E) Evliya Çelebi

117. Universiade 2011 Kış Oyunları aşağıdaki şehirlerden hangisinde yapılmıştır?

- A) Bolu
B) Bursa
C) Kayseri
D) Erzurum
E) Gümüşhane

118. Eurovision 2011 Şarkı Yarışması aşağıdaki ülkelerden hangisinde yapılmıştır?

- A) Almanya B) İtalya C) Finlandiya
D) Azerbaycan E) Ukrayna

119. Yönetmen Nuri Bilge Ceylan, "Bir Zamanlar Anadolu" adlı filmiyle "Jüri Büyük Ödülü"nü aşağıdaki festivallerden hangisinde kazanmıştır?

- A) Venedik Film Festivali
B) Berlin Film Festivali
C) Cannes Film Festivali
D) İstanbul Film Festivali
E) Altın Portakal Film Festivali

120. Aşağıdakilerden hangisi çağdaş Türk kadın yazarlardan biri değildir?

- A) Ayşe Kulin B) İnci Aral
C) Buket Uzuner D) Nazlı Eray
E) İdil Biret

POLİS AKADEMİSİ POLİS MESLEK YÜKSEKOKULLARI
ÖĞRENCİ ADAYLIĞI SINAVI
3 TEMMUZ 2011

GENEL YETENEK VE GENEL KÜLTÜR TESTİ

- | | | |
|-------|-------|--------|
| 1. B | 41. A | 81. D |
| 2. A | 42. C | 82. C |
| 3. B | 43. E | 83. A |
| 4. C | 44. D | 84. D |
| 5. B | 45. A | 85. C |
| 6. D | 46. A | 86. A |
| 7. A | 47. C | 87. B |
| 8. D | 48. E | 88. D |
| 9. B | 49. A | 89. B |
| 10. D | 50. D | 90. D |
| 11. D | 51. E | 91. A |
| 12. B | 52. D | 92. E |
| 13. E | 53. C | 93. C |
| 14. A | 54. E | 94. E |
| 15. B | 55. B | 95. C |
| 16. E | 56. C | 96. B |
| 17. A | 57. B | 97. A |
| 18. C | 58. A | 98. D |
| 19. D | 59. D | 99. C |
| 20. C | 60. C | 100. E |
| 21. E | 61. A | 101. C |
| 22. A | 62. B | 102. E |
| 23. C | 63. B | 103. D |
| 24. B | 64. C | 104. C |
| 25. D | 65. A | 105. B |
| 26. E | 66. E | 106. C |
| 27. C | 67. B | 107. B |
| 28. B | 68. C | 108. A |
| 29. D | 69. B | 109. E |
| 30. A | 70. C | 110. B |
| 31. A | 71. E | 111. D |
| 32. C | 72. D | 112. B |
| 33. E | 73. D | 113. A |
| 34. D | 74. E | 114. C |
| 35. B | 75. A | 115. C |
| 36. E | 76. E | 116. E |
| 37. B | 77. C | 117. D |
| 38. D | 78. A | 118. A |
| 39. D | 79. B | 119. C |
| 40. E | 80. C | 120. E |