



**TÜRKİYE VE ORTA DOĞU AMME İDARESİ ENSTİTÜSÜ
KAMU YÖNETİMİ ALANINDA YÜKSEK LİSANS
PROGRAMINA GİRİŞ SINAVI
GENEL YETENEK VE GENEL KÜLTÜR TESTİ
ALAN BİLGİSİ TESTİ
7 Mayıs 2011**

A

ADI :
SOYADI :
T.C. KİMLİK NUMARASI :
SALON NUMARASI :

GENEL AÇIKLAMA

1. Bu kitapçıkta Genel Yetenek ve Genel Kültür Testi ile Alan Bilgisi Testi bulunmaktadır. Bu iki test için verilen toplam cevaplama süresi **150 dakikadır (2,5 saat)**.
Bu testlerin başladığı sayfalar şöyledir:

Genel Yetenek ve Genel Kültür Testi	1
Alan Bilgisi Testi	15
2. Bu sınavda A ve B olmak üzere iki tür soru kitapçığı vardır.
3. Bu soru kitapçığının türü **A**'dır. Bunu cevap kâğıdınızdaki ilgili alana kodlayınız.
Bu kodlamayı cevap kâğıdınıza yapmadığınız veya yanlış yaptığınız takdirde sınavınızın değerlendirilmesi mümkün değildir.
4. Cevaplamaya istediğiniz sorudan başlayabilirsiniz.
5. Test kitapçığındaki her sorunun yalnızca bir doğru cevabı vardır. Bir soru için birden çok cevap yeri işaretlenmişse o soru yanlış cevaplanmış sayılacaktır.
6. Değiştirmek istediğiniz bir cevabı, yumuşak bir silgiyle, cevap kâğıdını örselemeden, temizce siliniz ve yeni cevabınızı işaretlemeyi unutmayınız.
7. Cevap kâğıdınızı buruşturmayınız, katlamayınız ve üzerine gereksiz hiçbir işaret koymayınız.
8. Bu sınavın değerlendirilmesi doğru cevap sayısı üzerinden yapılacak, yanlış cevaplar dikkate alınmayacaktır. Bu nedenle, her soruda size en doğru görünen cevabı işaretleyerek cevapsız soru bırakmamanız yararınıza olabilir.
9. Sınavda uyulacak diğer kurallar bu kitapçığın arka kapağında belirtilmiştir.

GENEL YETENEK VE GENEL KÜLTÜR TESTİ

2011 - TODAİE

1. 500 yıl önce o köprüleri, camileri yapanların çocukları olarak bugün yapılanlara, kentlerimizin durumuna, yapılan evlerin çirkinliğine baktığımda üzüntü verici durumlarla karşılaşıyorum. O zamanların teknolojik olanaklarıyla ve malzemeleriyle bugünkülerini karşılaştırdığımda ise arada büyük farklar olduğunu görüyorum. Mimaride, kentleşmede yeni bir nefese ihtiyacımız olduğunu düşünüyorum.

Bu parçadaki altı çizili sözle mimariye ve kentleşmeye ilişkin olarak ne anlatılmak istenmiştir?

- A) Geçmişte başvurulan yöntemleri zenginleştirerek sürdürme
B) Eski yapıları kaybolan güzelliklerine kavuşturma
C) Eğitimde, sözü edilen alanlarla ilgili yeniliklere yönelme
D) Yozlaşmayı durdurup güzelliklere açılma
E) Kentlerin tarihsel dokusunun birbirinden farklı olduğunu kabul etme

2. Aşağıdaki yargılardan hangisi bir yapıtın anlatım yönünden değerlendirilmesine yöneliktir?

- A) Bu uyarılama, teknik olanaklardan ve oyuncuların gücünden akıllıca yararlanıldığını gösteren çarpıcı bir çalışmadır.
B) Şairin büyük bir özenle yaptığı betimlemeler ve ustaca benzetmeler, okuyucuya değişik duygular ve heyecanlar yaşatıyor.
C) Yapıtın en ilginç yönü, günlük yaşamda az rastlanan değişik tiplerin okuyucuya tanıtılmasıdır.
D) Konusal yönden, oyunlarla romanlar arasında büyük bir ayrılık yoktur.
E) Tarihsel bir olayın çağdaş bir yaklaşımla kurgulanması, yapıta içeriksel bir zenginlik katmaktadır.

3. (I) Türkiye az okuyan bir ülke. (II) Dolayısıyla hiçbir yazınsal tür, olması gereken yerde değil. (III) Bir şiir kitabının ancak beş yüz adet basıldığı ve bunun bir buçuk iki yıl içinde satılabildiği bir ülkede yaşıyoruz. (IV) Bizdeki bu durumu yurt dışındaki kitap satışlarıyla karşılaştırıyorum. (V) Ortaya ciddi bir fark çıkıyor. (VI) Orada bir kitabın baskısı 100.000'i buluyor.

Bu parçadaki numaralanmış cümlelerin hangisi I. cümlede belirtileni kanıtlamaktadır?

- A) II. B) III. C) IV. D) V. E) VI.

4. Şair Bedri Rahmi Eyuboğlu, 1950'li yıllarda

edebiyatçı dostlarıyla çıktığı mavi yolculukları şöyle

kaleme almış : "Mavi gezi bir masaldır . Söylen-

memiş, yazılmamış, çizilmemiş ... " Günümüz

Türkiye'sindeyse mavi yolculuk , Ege'nin güneyini

ve Akdeniz'in batı kıyılarını içine alan bir bölgede,

mavi ufuklar, altın renkli kumsallar arasında yapıyor.

Tüm bunları görmek istiyorsanız , mavi yolculuğa

çıkmaya hazırsınız demektir.

Bu parçadaki numaralanmış noktalama işaretlerinden hangisi yanlış kullanılmıştır?

- A) I. B) II. C) III. D) IV. E) V.

Diğer sayfaya geçiniz.

5. Batı Torosların en yüksek bölümlerinden olan Kızlar

Tepesi tüm görkemiyle karşımızda. Çevre köylerin

yüz yıllardır yaşadığı yayla alanları olan platonun

kuzeybatı kısmındaki yol, Hüseyin Kuyusu denilen

bölgeye çıkıyor.

Bu parçadaki numaralanmış sözlerden hangisinin yazımı yanlıştır?

- A) I. B) II. C) III. D) IV. E) V.

6. 2700 yıllık geçmişe sahip İstanbul, farklı kültürlerin

beşiği oldu her zaman. MÖ 7. yy.dan başlayarak

pekçok medeniyetin yerleşim merkezi durumunday-

dı. Tarih boyunca da hep yönetici gücün merkezini

temsil etti.

Bu parçadaki numaralanmış sözlerden hangisinin yazımı yanlıştır?

- A) I. B) II. C) III. D) IV. E) V.

7. **Aşağıdaki cümlelerin hangisinde bir anlatım bozukluğu vardır?**

- A) O toplantıda ilk şiiri ya ben ya da o okuyacaktı.
B) Sanatçının şiirle ilgili düşüncelerini içeren bir yazı bu derginin yeni sayısında yayımlandı.
C) Edebiyatımızın üç büyük ustasının anıldığı bir toplantı düzenlendi.
D) Yazdıklarıyla, bu topraklarda yaşayan insanların sesi, soluğu, yüreği olmuştu.
E) Edebiyatın her türünde başarılı örnekler vermişti.

8. (I) Çağdaş toplumlarda insanın yeni sorunları olduğu gibi, sorunları işleyen yazarların da kendine özgü yeni sorunları var. (II) Çünkü toplumsal yapı karmaşıklaştıkça bu durum insana da yansıyor. (III) Yazınsal yapının temelinde insan olduğu için de yazarların işi her gün biraz daha güçleşiyor. (IV) Bugün toplumların, olguların, insan ilişkilerinin salt dıştan görünüşü ile yetinmeyiz. (V) Çünkü dış gerçekliğin asıl gerçeklik olmadığını artık biliyoruz. (VI) Geldiğimiz noktada yapılacak şey, dünyadaki gerçekliği tek yönüyle değil bütün yönleriyle kavrayıp yansıtmaktır.

Bu parça iki paragrafa ayrılmak istense ikinci paragraf hangi cümleyle başlar?

- A) II. B) III. C) IV. D) V. E) VI.

Diğer sayfaya geçiniz.

9. (I) Edebiyat, temelde estetiğin en önemli alanlarından biridir. (II) Bilindiği gibi, estetik de felsefenin bir alt dalıdır. (III) Dolayısıyla edebiyat, estetik ve felsefe arasında önemli bir yakınlık vardır. (IV) Anlamsal bir bütünlük oluşturan her yazınsal metin, aynı zamanda kendi içinde estetik ve düşünsel bir dünya içerir. (V) Metinler, eskiden beri düz yazı ve şiir olarak iki önemli kategori altında incelenmiştir. (VI) Bu açıdan metinler her ne kadar bireysel bir yaratımsa da onlar, oluşturdukları kültürün hem düşünsel hem de güzel duysal değerlerinden etkilenirler.

Bu parçadaki numaralanmış cümlelerin hangisi düşüncenin akışını bozmaktadır?

- A) II. B) III. C) IV. D) V. E) VI.

10. Kimi büyük yapıtlar iki katmanlı bir özellik taşır. Üst katman yani düzeydeki katman okurların çoğunun anlayacağı niteliktedir. Yapıtın büyüklüğünü gösteren alt katmanın anlamını ise herkes kolay kolay kavrayıp algılayamaz. Bir geminin son yolculuğunu, balinaların nasıl avlandığını, sonunda geminin nasıl battığını anlatan *Moby Dick*, ilk bakışta denizlerde geçen bir macera romanı sayılabilir. Ama insan, onu okudukça, üzerinde düşündükçe kitabın derinliğini, gerçek anlamını sezmeye başlar. Gerçi bu derinliği sezemeyenler de balina avıyla ilgili heyecanlı bir macera romanı okumuş olmanın keyfini sürerler.

Bu parçanın anlatımında aşağıdakilerden hangisine başvurulmamıştır?

- A) Örneklendirme B) Tanık gösterme
C) Karşılaştırma D) Betimleme
E) Açıklama

11. Bana göre 1980 sonrasında öykücülerimiz karmaşık diyebileceğimiz bir anlatımla öyküler yazdılar. Bunu, kişilerin duygusal dünyasına yönelip onlardaki çatışmaları işleyerek bir derinlik kazandırma, yeni anlatım özelliklerine kapı açma bakımından öykücülüğümüzün bir kazanımı sayabiliriz. Ama yine de yaşamın gerçeklerini dile getiren kimi yazarlarımızı dışarıda tutarsak konu genişlemesi açısından öykücülüğümüze yansımaları kısır bulduğumu belirtmeliyim. Kısacası, 1980 sonrası öykücülüğümüzde bir duraksama olmadıysa da öykücülerimizin yaşanan gerçekleri aktarmada coşkusu azaldı, diyebiliriz.

Bu parçaya göre 1980 sonrası öykücülüğümüzle ilgili olarak aşağıdakilerden hangisi söylenebilir?

- A) Anlatımda şaşırtıcı öğelere yer verildiği
B) Konu seçiminde ilginçlik ölçütüne başvurulduğu
C) İçsel gerçeklerin gösterildiği
D) Tartışmalara ortam hazırlandığı
E) Gelenekten tümüyle kopulduğu

12. Fantastik edebiyat deyince akla hemen, ejderhalar dünyasını andıran ürkütücü, korkutucu bir ortam geliyor. Oysa fantastik, belirsizlik üzerine kurulu bir anlam dünyasıdır. Okurun bütün anlatılanların gerçekleşip gerçekleşmediğine dair kararsızlığından beslenir. Ben de bu belirsizliği hayaletlerle, hortlaklarla, vampirlerle, canavarlarla değil de asansörle, dolmuşla, evin koridoruyla yaratmayı seviyorum. Olayların bu ortamlarda geçmesi empati yapmayı da kolaylaştırıyor. Aynı zamanda okurun kitaptan uzaklaşma sorununu da ortadan kaldırıyor. Çünkü kitabı kapatıp camdan dışarı baktığında ortalıkta uçan bir ejderha falan göremiyor. Ama bir asansör ögesi kullanılınca iş değişiyor. Kitabı okurken bir asansörün sesini duyabiliyor, orada olduğunu biliyor. Bu yüzden çevresindekilerin arasından fırlayan dehşet verici figürleri, fantastik anlatıya daha yakın buluyorum.

Böyle diyen bir kişiden aşağıdakilerin hangisini söylemesi beklenir?

- A) Yapıtlarımda korkuyu yalnızca bir araç olarak görüyorum ve korkuyu yaratan araçları özellikle gündelik hayatın içinden seçiyorum.
B) Yaşamdan kopuk, inandırıcılığı olmayan, duygusal dünyası sınırlı kahramanlar yaratıyorum.
C) Düşlere dayalı bir dünya yaratarak okurları gerçek yaşamın kısılcısından kurtarmak istiyorum.
D) Anlattıklarımın herkesçe beğenilip sevilmesini amaçladığımı söyleyemem.
E) Konularımı seçip belirlemeden önce okurların neden hoşlanıp hoşlanmayacağı üzerine araştırmalar yaparım.

Diğer sayfaya geçiniz.

13. Japon kültürü, varlığını neredeyse iki yüz yetmiş yıl süren "Edo Dönemi"nde dünyaya tümüyle kapılarını kapatmış olmasına borçludur, diyebiliriz. Bu dönem, sanayi devriminin başlamasıyla gittikçe modernleşen Batı'nın, ticaret yapmak için Japonya'nın kapılarını daha fazla zorlamasıyla son buldu. Kendi kendilerine yetemeyeceklerini anlayan Japonlar, bu dönemin sonunda modern dünyaya tamamen kapılarını açtılar. Japonya, Batılılaşmak ve modernleşmek için Batı'daki üniversitelere binlerce öğrenci gönderdi. Batı'daki uzmanlar ülkeye çağırılırken Japon elçiler dünyayı arşınlamaya başladılar. Japonya komşularından aldığı her şeyi özümseyip kendi kültürüne uyarlayarak, bir anlamda Japonlaştırarak kendine yakışır hâle getirmeyi başardı. Japonya'nın temelleri, işte bu dönemdeki çabalarla atıldı.

Bu parçada Japonlarla ilgili olarak aşağıdakilerden hangisi anlatılmak istenmiştir?

- A) Eğitim sistemleriyle bütün dünyaya örnek olmuşlardır.
 B) Ekonomik açıdan dünyanın en güçlü ülkesi olduklarına inanmaktadırlar.
 C) Ülkelerini dünya çapında bir pazar olma durumuna getirmişlerdir.
 D) Kendi kültürel değerlerini başka uluslarınkine aşılama çabası içindedirler.
 E) Kendi kültürel kimliklerini yitirmeden başka kültürlerle etkileşim içinde olmuşlardır.

14. Önce dil vardı. Dil ama hangi dil? Türkülerdeki dil. Yunus'taki, Karacaoğlan'daki, Ürgüplü Refik Başaran'daki, Yaşar Kemal'deki, Sait Faik'teki dil. Doğumdaki, düğündeki, burçak yolmadaki, demir dövmedeki dil. Gurbette yoldaş, zor günlerde sırdaş olan dil.

Bu parçadan dille ilgili olarak aşağıdakilerin hangisi çıkarılamaz?

- A) Yaşamın her alanını kuşattığı
 B) Toplumsal yapıyı değiştirebildiği
 C) Sanatçıların emekleriyle geliştiği
 D) Halk kültüründen kaynaklandığı
 E) Kişinin en büyük sığınağı olduğu

15. Melih Cevdet Anday, eğitici ve düşündürücü olmayı, öğretici ve inandırıcı olmaya yeğ tutuyor. Bunun için, usun süzgecinden geçirmeden bir düşünceyi benimsemiyor. Sokrates gibi hep sorarak ve tartışarak doğruya varmayı deniyor. Beylik düşünceleri, klişeleşmiş yargıları sarsmaya çalışıyor. Okurları, saplantılardan kurtarıp kuşkuyla, sağduyuyla gerçeği aramaya götürüyor. Duyguya değil usa dayanmaya, dikkati uyanık tutmaya, bağınazlığı yenmeye, düşünmeye çağırıyor. Aldandığımızı, yanıldığımızı anlayınca artık düşüncemizde direnmemeyi, yeni baştan doğruyu aramayı salık veriyor.

Aşağıdakilerden hangisi Melih Cevdet Anday'ın bu parçada değinilen bir özelliği değildir?

- A) Kalıplaşmış düşünceleri benimsemediği
 B) Duyguyu değil akli kılavuz seçtiği
 C) Sorgulama yöntemine bağlı kaldığı
 D) Her düşünce ve eylemi hoşgörülle karşıladığı
 E) Bilgi aktarıcı tutumdan özellikle kaçındığı

16. Günümüzde eleştiriyi sanatla bir tutmak yanlıştır. Çünkü ikisi arasında önemli ayrılıklar vardır. Sanat insanı ele alır, onu tanıtır; eleştiriyse sanatsal ürünü... Sanat, gerçeği estetik yolla, imgelerle canlandırır; eleştiriyse yalın bir dille, kavramlarla doğrudan anlatır. Sanat bir yaratmadır, eleştiriyse yaratılanı yargılama. Sanat bir kuramdır, eleştiriyse bir çözümleme.

Bu parçada sanatsal yaratıyla eleştiri arasındaki farklar içinde aşağıdakilerden hangisine yer verilmemiştir?

- A) Okunurluk
 B) Yöntem
 C) Bakış açısı
 D) Konu
 E) Biçem

Diğer sayfaya geçiniz.

17. Günümüz gazetelerinde makale ve deneme kaleme alan kimi yazarların, yazdıklarının ne derece sığ olduğunu görüp de derin bir hüzne ve umutsuzluğa kapılmamak mümkün mü? Ne yazıyor bugünün kimi "büyük" yazarları? Günün haber bültenlerini dönüştürerek kültür-sanat "yorumculuğu" yapıyorlar. Edebiyat dergilerindeyse artık bulaşıcı hastalık gibi yayılan bir magazin yazarlığı dönemi yaşanıyor. Anlı şanlı yazarlar, edebiyatın, insanların, yaşamın sıkıntılarını yansıtmak yerine, kendi günlük yaşamlarını, okuduklarını günlükler ve okuma notları biçiminde yayımlamayı yeğliyor. Moda deyişle galiba halk bunu istiyor, onlar da sevgili okurlarının isteklerini yerine getirmeyi bir borç biliyorlar.

Aşağıdakilerden hangisi bu parçada gazetelerdeki makale ve deneme yazarlarıyla ilgili olarak yakınlardan durumlardan biri değildir?

- A) Düşünsel derinliği önemsememe
- B) Özgünlüğü olmayan konular seçme
- C) Toplumsal sorunlara duyarsız kalma
- D) Belirli okur kesimlerine seslenme
- E) Yazdıklarını eleştirel bir değerlendirmeden geçirmeme

18. Dil devriminin uyandırdığı ana dil bilincinin doğal bir sonucu olarak kendi yatağını bulmuştur Türkçe. Tarihsel akışı içinde, geçmişiyile göbek bağına koparan engeller aşılmıştır. Gönüllerde, kafalarda Türkçeye karşı köklü bir sevgi, sınırsız bir inanç doğmuştur. Bu inançla sanatçılar, dilin en gizli bölgelerine uzanmışlardır. Yeni yeni kavramlar, sözcükler derlenmiş; Türkçenin soluğu, düşünsel dokusu genişletilmiştir. Bu da kavrama, anlama ve anlatma yetimizi güçlendirmiştir.

Bu parçadan dil devrimiyle ilgili olarak aşağıdakilerin hangisi çıkarılamaz?

- A) Türkçenin söz dağarcığını geliştirip zenginleştirmiştir.
- B) Sözcüklerin çağırışım ve anlam alanını genişletmiştir.
- C) Yeni üretilen Türkçe sözcüklerden sonra eski sözcüklerin kullanım alanı daralmıştır.
- D) Düşünce ve duygu evrenine yeni boyutlar kazandırmıştır.
- E) Yazar ve ozanların yaratıcılığını beslemiştir.

19. Elimde bir harita, doğruca Seine Nehri'nin kıyısına indim. Sırtımı şehre dönerek suyla uzun uzadıya baş başa kaldım. Baudelaire'in kıyısında şiir yazdığı nehri görmek, onun gibi nehri dinlemek istiyordum. Sonra sağa döndüm ve karşıma kocaman Notre Dame de Paris çıktı. Notra Dame'in muhteşem ön cephesinin kapılarının, kulelerinin önünde kalakaldım. Ve bu, Selçukluların Çifte Minarelerinin önünde duyduğum hayranlığı hatırlattı bana. Paris'in ana kilisesi, Victor Hugo'nun "Bu kitap, bu yapıyı öldürür." iddiasıyla yazdığı *Notre Dame'in Kamburu* romanını düşündürdü bana. Kitap yapıyı öldürmedi, aksine yapıya bir kambur daha ekleyerek herkes gibi benim gözümde onu daha da büyüttü. Bunu yapabilmek her yapının harcı değil, diye mırıldandım içimden.

Bu parçada konuşan kişiyle ilgili olarak aşağıdakilerden hangisi söylenemez?

- A) Bir şairin algılama biçimine öykündüğü
- B) Edindiği izlenimleri, yaptığı gözlemleri yazacağı yapıtta kullanacağı
- C) Bir romanla bir yapı arasındaki ilişkiyi anımsadığı
- D) Bir yapıyı değerlendirirken okuduklarından yararlandığı
- E) Farklı mimari yapılar karşısında aynı şeyleri duyumsadığı

20. Bilginin dışında hiçbir güç, toplumları içine düştüğü bunalımdan kurtaramaz. Bilginin kaynağı ise söze ölümsüzlük kazandıran kitaptır. Kitap okumada düşünsel etkileşim söz konusudur. Ne yazık ki günümüzde kimi toplumlar, kitaplar aracılığıyla düşünsel etkileşimde bulunamadıklarından tutuculuğun karanlığından kurtulup kendi düşüncelerini yaratamamışlardır.

Bu parçadan bilgiyle ilgili olarak aşağıdakilerin hangisi çıkarılamaz?

- A) Sıkıntılı dönemlerde yararlı olduğu
- B) Hangi yolla edinildiği
- C) Özgür düşünceyi sınırlandırdığı
- D) Etkileme ve değiştirme gücünün olduğu
- E) Yeni düşüncelerin kapısını araladığı

21.

$$\frac{4}{2 - \frac{2}{3}} + \frac{\frac{2}{3} - 2}{4}$$

işleminin sonucu kaçtır?

- A) $\frac{8}{3}$ B) $\frac{11}{3}$ C) 2 D) 3 E) 4

22.

$$\frac{0,1}{0,01} + \frac{0,04}{0,002} + \frac{2}{0,2}$$

işleminin sonucu kaçtır?

- A) 20 B) 22 C) 31 D) 34 E) 40

23.

$$\frac{6}{\sqrt{3}} - \sqrt{12} + \sqrt{27}$$

işleminin sonucu kaçtır?

- A) $\sqrt{2}$ B) $2\sqrt{2}$ C) $\sqrt{3}$
D) $2\sqrt{3}$ E) $3\sqrt{3}$

24. 3 katının 1 eksiğinin yarısı 7 olan sayı kaçtır?

- A) 3 B) 4 C) 5 D) 6 E) 7

25. a, b pozitif tam sayılar ve

$$a \cdot b = 48$$

olduğuna göre a + b toplamı en az kaç olabilir?

- A) 10 B) 12 C) 14 D) 16 E) 19

Diğer sayfaya geçiniz.

26.

$$\frac{ab+b+a+1}{ab-b+a-1}$$

ifadesinin sadeleştirilmiş biçimi aşağıdakilerden hangisidir?

A) $\frac{a}{b}$

B) $\frac{a+1}{a-1}$

C) $\frac{a+b}{a-b}$

D) $\frac{a+1}{b-1}$

E) -1

27.

$$9^m = 4$$

olduğuna göre, 3^{4m} ifadesinin değeri kaçtır?

A) 3

B) 4

C) 8

D) 9

E) 16

28.

$$x^2 + \frac{1}{x^2} = 4$$

olduğuna göre, $\left|x - \frac{1}{x}\right|$ ifadesinin değeri kaçtır?

A) 1

B) 2

C) $\frac{1}{2}$

D) $\frac{\sqrt{2}}{2}$

E) $\sqrt{2}$

29.

$$\frac{x}{3} + \frac{4}{y} = 5$$

$$\frac{x}{4} - \frac{8}{y} = 1$$

olduğuna göre, $x - y$ farkı kaçtır?

A) 5

B) 6

C) 7

D) 8

E) 9

Diğer sayfaya geçiniz.

30.

$$x + \frac{7x}{x + \frac{x}{6}} = 9$$

olduğuna göre, x kaçtır?

- A) 2 B) 3 C) 4 D) 5 E) 6

31. Tersten yazılışı kendisine eşit olan sayılara palindrom sayı denir. Örneğin 545, 6666, 74047 birer palindrom sayıdır.

Buna göre, 7 basamaklı kaç tane palindrom sayı vardır?

- A) 90 B) $9 \cdot 10^2$ C) $9 \cdot 10^3$
D) $9 \cdot 10^4$ E) $9 \cdot 10^5$

32. Bir kalfa bir pantolonu 6 saatte, bir usta ise 4 saatte dikeyor.

Buna göre, 2 kalfa ve 3 usta 24 saatte toplam kaç pantolon diker?

- A) 20 B) 22 C) 25 D) 26 E) 30

33. Boyutları 4 cm, 5 cm ve 6 cm olan dikdörtgenler prizması biçimindeki tahta bloklardan en az kaç tanesi ile bir küp oluşturulabilir?

- A) 900 B) 1200 C) 1500
D) 1800 E) 2100

Diğer sayfaya geçiniz.

34. Saatte 30 km sabit hızla yol alan bir kuş, 15 km'lik bir yolun $\frac{2}{5}$ 'ini alçaktan, $\frac{3}{5}$ 'ini ise yüksekte uçuyor.

Bu kuş alçaktan uçarken dakikada 25, yüksekte uçarken de dakikada 15 kez kanat çırdığına göre, yol boyunca toplam kaç kez kanat çırpar?

- A) 480 B) 520 C) 570 D) 580 E) 610

35. Bir ailedeki tüm bireylerin bugünkü yaşlarının ortalaması 21, üç yıl önceki yaşlarının toplamı ise 90'dır.

Üç yıl içinde birey sayısında değişiklik olmayan bu ailede kaç kişi vardır?

- A) 3 B) 4 C) 5 D) 6 E) 7

36. Ahmet, Barış, Can ve Dilek, dört kişilik bir koltuğa Ahmet ve Dilek yan yana olmak koşuluyla kaç değişik şekilde oturabilir?

- A) 12 B) 14 C) 15 D) 16 E) 20

37. Bir seyyar satıcı, yarıçapı 30 cm ve yüksekliği 50 cm olan silindir biçimindeki bir kovayı ağzına kadar ay çekirdeğiyle doldurmuştur. Satıcı kovadaki ay çekirdeğini taban yarıçapı 5 cm ve yüksekliği 10 cm olan koni şeklindeki külahlara doldurup satmaktadır.

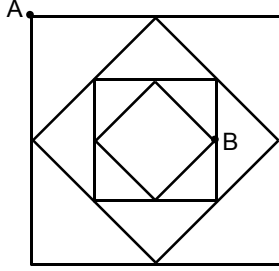
Bu satıcı bir kova çekirdeği 150 TL'ye alıp bir külah çekirdeği 50 kuruşa sattığına göre, bir kova çekirdekten kaç TL kâr elde etmektedir?

- A) 50 B) 75 C) 90 D) 120 E) 135

Diğer sayfaya geçiniz.

38. VE 39. SORULARI AŞAĞIDAKİ BİLGİLERE GÖRE CEVAPLAYINIZ.

Bir kenarının uzunluğu 4 birim olan bir karenin kenarlarının orta noktaları birleştirilerek yeni bir kare elde ediliyor. Bu yöntem iki kez daha tekrarlandığında aşağıdaki şekil elde ediliyor.



38. A noktasının B noktasına kuş uçuşu uzaklığı kaç birimdir?

- A) $2\sqrt{2}$ B) $3\sqrt{2}$ C) $2\sqrt{3}$
D) $\sqrt{10}$ E) $\sqrt{13}$

39. A noktasından B noktasına karelerin kenarlarından gidilerek ulaşılabilen en kısa yolun uzunluğu kaç birimdir?

- A) $3+\sqrt{2}$ B) $3+2\sqrt{2}$ C) $4+\sqrt{2}$
D) $4+2\sqrt{2}$ E) $5+\sqrt{2}$

40.

$$d_1 : y + 4 = 0$$

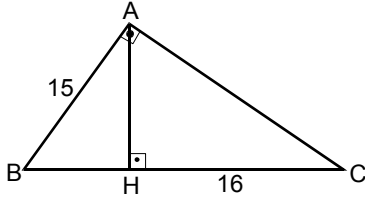
$$d_2 : 2x + y = -10$$

doğrularının kesim noktasının (0,0) başlangıç noktasına olan uzaklığı kaç birimdir?

- A) 4 B) 5 C) 6 D) 8 E) 10

Diğer sayfaya geçiniz.

41.

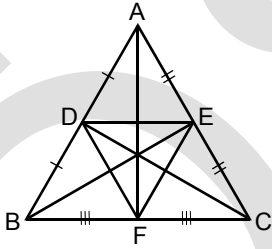


ABC bir üçgen
 $BA \perp AC$
 $AH \perp BC$
 $|AB| = 15$ cm
 $|HC| = 16$ cm

Yukarıdaki verilere göre, ABC üçgeninin alanı kaç cm^2 dir?

- A) 120 B) 130 C) 140 D) 150 E) 160

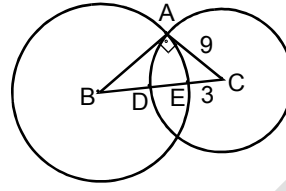
42.



Şekildeki ABC üçgeninde, $[BE]$, $[CD]$ ve $[AF]$ kenarortaylar olduğuna göre, $\frac{A(ABC)}{A(DEF)}$ oranı kaçtır?

- A) 2 B) 4 C) $\frac{5}{2}$ D) $\frac{8}{3}$ E) $\frac{9}{4}$

43.



$m(\widehat{BAC}) = 90^\circ$
 $|AC| = 9$ cm
 $|EC| = 3$ cm

Şekildeki B ve C merkezli çemberler, ABC üçgeniyle A, D ve E noktalarında kesişiyor.

Buna göre, ABC üçgeninin alanı kaç cm^2 dir?

- A) 54 B) 42 C) 40 D) 36 E) 32

44. Avrupa Güzel Sanatlar Vakfının, küresel sanat ve antika pazarının 2010 yılındaki durumuyla ilgili olarak hazırlattığı rapora göre, 2009'da bu alandaki pazar payında ikinci olan İngiltere'yi geçerek 2010 yılında ikinciliği ele geçiren ülke aşağıdakilerden hangisidir?

- A) ABD
- B) Fransa
- C) Çin
- D) Almanya
- E) Rusya Federasyonu

45. Yetkililerin verdiği bilgiye göre, 2011 Mart ayı itibariyle elde edilen gelir ve ziyaretçi sayısı bakımından geçen yılın aynı dönemine göre % 100'ün üzerinde artış olan Noel Baba Müzesi aşağıdaki illerin hangisinde bulunmaktadır?

- A) İzmir
- B) Hatay
- C) İstanbul
- D) Trabzon
- E) Antalya

46. *Çıplak Balzac* adlı heykeli, yenileştirme çalışmaları sırasında Kudüs'teki İsrail Müzesinden çalınan; 1840-1917 yılları arasında yaşamış; bazı eleştirmenlerce heykel sanatının gelmiş geçmiş en büyük portrecisi kabul edilen; *Düşünen Adam*, *Öpüş*, *Havva* gibi yapıtlarıyla bilinen ünlü Fransız heykeltıraş aşağıdakilerden hangisidir?

- A) Auguste Rodin
- B) François Rude
- C) Aristide Maillol
- D) Charles Despiau
- E) Henry Moore

47. 67. Venedik Film Festivali'nde "Venedik Günleri – Genç Aslan, İlk Eser" Ödülünü ve 4. Yeşilçam Ödüllerinde En İyi Film dâhil olmak üzere toplam dört ödül alan, yönetmenliğini Seren Yüce'nin yaptığı film aşağıdakilerden hangisidir?

- A) Av Mevsimi
- B) Çoğunluk
- C) Yahşi Batı
- D) Eyvah Eyvah
- E) Cosmos

48. *Çıplak, Yeşil Yapraklar ve Büst* adlı yapıtı dünyanın en pahalı tablosu kabul edilen; 1881-1973 yılları arasında yaşamış; Kübizm akımının kurucularından biri olan; resim, heykel, seramik gibi sanatın farklı dallarında çalışmış; *Ağlayan Kadın*, *Guernica*, *Palyaço*, *Üç Müzikçi* gibi yapıtlarıyla bilinen ünlü İspanyol ressam aşağıdakilerden hangisidir?

- A) Juan Gris
- B) Fernand Leger
- C) Robert Delaunay
- D) Pablo Picasso
- E) Wassilij Kandinsky

49. 1950'den sonra şiirde anlamı yadsıyıp ses güzelliğine önem veren, "Şiirde anlam gerekmez. Şiirde anlam rastlantısaldır." savlarıyla tutumlarını açıklamaya çalışsan, bu yüzden yazdıkları şiirlere anlamsız şiir, soyut şiir ya da kapalı şiir gibi adlar verilen şiir hareketidir.

Aşağıdakilerden hangisi, bu parçada tanıtılan şiir hareketi çizgisinde şiir yazar şairlerden biridir?

- A) Gülten Akın
B) Ece Ayhan
C) Müslüm Çelik
D) Hüseyin Atabaş
E) Abdülkadir Budak

50. (I) Bu edebî akıma "Garip Akımı" da denilmiştir. (II) Kısa, özlü, yalın bir anlatımla, küçük insanların günlük yaşamı işlenmiştir. (III) Şiirde imge, ölçü, uyak ve her tür edebî sanata karşı çıkmıştır. (IV) Şairane tutumdan uzaklaşmıştır. (V) Bu yeniliklere Edip Cansever, Turgut Uyar, Cemal Süreya öncülük etmiştir.

Bu parçadaki numaralanmış cümlelerin hangisinde I. Yeni Şiiri'yle ilgili bilgi yanlıştır?

- A) I. B) II. C) III. D) IV. E) V.

51. **Aşağıdakilerden hangisi Orhan Kemal'in yapıtlarından biri değildir?**

- A) Baba Evi
B) Avare Yıllar
C) Ölmez Otu
D) Eskici ve Oğulları
E) Müfettişler Müfettişi

52. **Aşağıdakilerden hangisinde yapıt, birlikte verilen yazara ait değildir?**

- A) Cemal Süreya – *Üvercinka*
B) Fakir Baykurt – *Yılanların Öcü*
C) Hasan Ali Toptaş – *Gölgesizler*
D) Erhan Bener – *Patika*
E) Ayla Kutlu – *Cadı Ağacı*

53. Cumhuriyet Dönemi yazarlarından. İstanbul Üniversitesi Hukuk Fakültesini bitirdi. Liselerde Fransızca öğretmenliği, üniversitede Fransızca okutmanlığı yaptı. Bugünkü edebiyatımızın çeşitli yapıt ve sorunlarını inceleyen yapıtlarıyla, düşünce ve sanat yaşamımızın gelişmesine katkıda bulundu, özellikle eleştiri türündeki yazılarıyla tanındı. *Dile Gelseler, Orman İşirsa, Güteryüzlü Ciddilik* yapıtları arasındadır.

Böyle tanıtılan yazar aşağıdakilerden hangisidir?

- A) Vedat Günyol
B) Tahsin Yücel
C) Mehmet Fuat
D) Orhan Burian
E) Cengiz Bektaş

54. **Aşağıdakilerden hangisi 12 Haziran 2011 tarihinde yapılacak olan genel seçimler nedeniyle Anayasa gereği görevinden istifa eden bakanlardan biridir?**

- A) Cemil Çiçek
B) Beşir Atalay
C) Ertuğrul Günay
D) Egemen Bağış
E) Mehmet Şimşek

Diğer sayfaya geçiniz.

55. Temel görevlerinden biri tasarruf sahiplerinin haklarının ve yararlarının korunmasını sağlamak olan, idari ve mali özerkliğe sahip düzenleyici kamu kurumu aşağıdakilerden hangisidir?

- A) Rekabet Kurulu
- B) T.C. Merkez Bankası
- C) Kamu İhale Kurumu
- D) Devlet Denetleme Kurulu
- E) Sermaye Piyasası Kurulu

56. Aşağıdakilerden hangisi Türkiye'nin üye olduğu uluslararası ekonomik örgütlerden biri değildir?

- A) Dünya Ticaret Örgütü
- B) İslam Kalkınma Teşkilatı
- C) Asya Kalkınma Bankası
- D) Karadeniz Ekonomik İşbirliği Teşkilatı
- E) Uluslararası Para Fonu

57. Aşağıdaki ülke ve ülkede uygulanan politik sistem eşleştirmelerinden hangisi yanlıştır?

- A) Fransa - Parlamenter Sistem
- B) İngiltere - Parlamenter Sistem
- C) ABD - Başkanlık Sistemi
- D) Brezilya - Başkanlık Sistemi
- E) Rusya - Yarı Başkanlık Sistemi

58. 11 Mart 2011 tarihinde Japonya'da yaşanan deprem felaketinin merkez üssü aşağıdaki kentlerden hangisinin 86 kilometre güneyi olarak açıklanmıştır?

- A) Kyoto
- B) Hiroşima
- C) Fukuşima
- D) Tokyo
- E) Nagazaki

59. Aşağıdaki ülkelerden hangisiyle ilgili BM Güvenlik Konseyi Mart 2011'de sivilleri ve sivillerin yaşadığı bölgeleri korumak amacıyla uçuşa yasak bölge oluşturulması ve işgal dışında gerekli tüm seçeneklere başvurulması kararını almıştır?

- A) İran
- B) Irak
- C) Mısır
- D) Libya
- E) Yemen

60. Aşağıdakilerden hangisi G-20 ülkelerinden biri değildir?

- A) Kanada
- B) İtalya
- C) Çin
- D) Meksika
- E) Pakistan

**GENEL YETENEK VE GENEL KÜLTÜR
TESTİ BİTTİ.**

ALAN BİLGİSİ TESTİNE GEÇİNİZ.

ALAN BİLGİSİ TESTİ

2011 - TODAİE

1. Yerel yönetimler alanında Cumhuriyet döneminin başlangıcından beri aynı yasa ile yönetilen birim aşağıdakilerden hangisidir?

- A) Köyler
B) Belediyeler
C) İl özel idareleri
D) Büyükşehir belediyeleri
E) Belediye birlikleri

2. Aşağıdakilerden hangisi memurluğu sona erdiren yasal hâllerden biri değildir?

- A) İstifa
B) Memurluktan çıkarma
C) Bağdaşmazlık
D) Koşullarda eksiklik
E) Ağır etik ihlal

3. 5393 sayılı Belediye Kanunu'na göre, belediye nüfus alt sınırı kaçtır?

- A) 3000
B) 4000
C) 5000
D) 7500
E) 10.000

4. Aşağıdakilerden hangisi kamu hizmetinin genel ilkelerinden biri değildir?

- A) Devamlılık
B) Bedelsizlik
C) Değişebilirlik
D) Eşitlik
E) Tarafsızlık

5.

- I. Sermaye Piyasası Kurulu
II. Para Kredi Kurulu
III. Radyo Televizyon Üst Kurulu
IV. Şeker Kurumu

Yukarıdakilerden hangileri bağımsız idari otorite statüsündedir?

- A) Yalnız II
B) Yalnız III
C) I, III ve IV
D) II, III ve IV
E) I, II, III ve IV

6. 657 sayılı Devlet Memurları Kanunu'na göre, aşağıdakilerden hangisi Devlet memurları hizmet sınıflarından biri değildir?

- A) Yüksek eğitim-öğretim hizmetleri sınıfı
B) Din hizmetleri sınıfı
C) Yardımcı hizmetler sınıfı
D) Emniyet hizmetleri sınıfı
E) Avukatlık hizmetleri sınıfı

Diğer sayfaya geçiniz.

7. Başbakanlık, bakanlıklar ve kamu tüzel kişilerince hazırlanan ve kendi görev alanlarını ilgilendiren yasa ve tüzüklerin uygulanışına yönelik düzenlemeleri içeren kural işlemlere ne ad verilir?

- A) Genelge
B) Tebliğ
C) Talimatname
D) Yönetmelik
E) Kanun hükmünde kararname

8. 1982 Anayasası'nın eşitlik ile ilgili 10. maddesinde, aşağıdakilerden hangisi için Devlet tarafından alınacak tedbirlerin "kanun önünde eşitlik" ilkesine aykırı sayılmayacağı beyan edilmemiştir?

- A) Çocuklar
B) Yaşlılar
C) Fakirler
D) Özürlüler
E) Malul ve gaziler

9. 1982 Anayasası'nda 2010 yılında yapılan değişiklik ile ortaya çıkan yeni Hâkimler ve Savcılar Yüksek Kurulunun yapısı ve oluşturulma süreci ile ilgili aşağıdaki ifadelerden hangisi doğrudur?

- A) Kurulun başkanı üyeler arasından seçilir.
B) Süresi biten üyeler yeniden seçilebilir.
C) Kurul, 20 asıl ve 10 yedek üyeden oluşur.
D) Kurul, dört daire hâlinde çalışır.
E) Kurulun hiçbir kararına karşı yargı mercilerine başvurulamaz.

10. Aşağıdakilerden hangisi Türkiye'de yerel yönetimlerin organları arasında yer almaz?

- A) İl idare kurulu
B) Köy derneği
C) İl encümeni
D) Belediye encümeni
E) Belde belediye meclisi

11.

- I. İdari vesayet, daha sınırlı ve belirli bir denetimdir.
II. İdari vesayette denetlenen otorite ilkece serbest ve özerktir.
III. İdari vesayette yasa tarafından belirtilmeyen konu ve işlemler üzerinde denetim yapılamaz.

İdari vesayet ile ilgili yukarıdaki ifadelerden hangileri doğrudur?

- A) Yalnız I
B) Yalnız II
C) Yalnız III
D) I ve III
E) I, II ve III

12. Aşağıdakilerden hangisi merkezî yönetimin taşra teşkilatı değildir?

- A) Bakanlık bölge müdürlüğü
B) İl idaresi
C) İl özel idaresi
D) İlçe idaresi
E) Serbest bölge

Diğer sayfaya geçiniz.

13. Kamu çalışanlarına sendika kurma hakkı ilk kez hangi anayasa ile tanınmıştır?

- A) 1982 B) 1961 C) 1924
D) 1921 E) 1876

14. İller Bankasını yeniden düzenleyen 6107 sayılı ve 2011 tarihli Kanun sonrasında ortaya çıkan yeni örgütsel yapı ile ilgili aşağıdaki ifadelerden hangisi yanlıştır?

- A) Anonim şirket statüsündedir.
B) Bir kalkınma ve yatırım bankasıdır.
C) Özel hukuk hükümlerine tabidir.
D) Tüzel kişiliğe sahiptir.
E) İlgili olduğu bakanlık, İçişleri Bakanlığıdır.

15. Bir bakanlığın hizmet ve görev alanına girmekle birlikte doğrudan ilgili bakanlık örgütü tarafından üstlenilmeyen ana hizmetleri yürütmek üzere özel bir kanun ile kurulan, genel bütçe içinde ayrı bütçeli ya da karma bütçeli veya özel bütçeli kuruluşlara ne ad verilir?

- A) İlgili kuruluş B) İlişkili kuruluş
C) Yan kuruluş D) Bağlantılı kuruluş
E) Bağlı kuruluş

16. Aşağıdakilerden hangisi istisnai bir memurluk değildir?

- A) Valilik B) Elçilik
C) Kaymakamlık D) Bakanlık müşavirliği
E) TBMM memurlukları

17. Nüfusu hangi rakamın üstünde olan belediyelerde kadın sığınma evi yapılması zorunludur?

- A) 100.000 B) 50.000 C) 25.000
D) 20.000 E) 10.000

18. Aşağıdakilerden hangisi kamu kurumu niteliğindeki meslek kuruluşlarının üst örgütlenmelerinden biri değildir?

- A) Türkiye Belediyeler Birliği
B) Türkiye Bankalar Birliği
C) Türk Eczacıları Birliği
D) Türkiye Odalar ve Borsalar Birliği
E) Türkiye Esnaf ve Sanatkarlar Konfederasyonu

19.

- I. Aşırı merkezîyetçilik
II. İdari gelenek eksikliği
III. Koordinasyon güçlüğü
IV. Kaynak israfı
V. Görev ve yetki çatışması

Yukarıdakilerden hangileri Türk kamu yönetiminin temel sorunları arasında yer alır?

- A) Yalnız I B) II ve IV C) IV ve V
D) I, III, IV ve V E) II, III, IV ve V

Diğer sayfaya geçiniz.

20. Aşağıdakilerden hangisi hizmet bakımından yerinden yönetim kuruluşu değildir?

- A) TRT
B) PTT
C) TÜBİTAK
D) Mersin Serbest Bölgesi
E) İstanbul Üniversitesi

21. Aşağıdakilerden hangisi bakanlıkların danışma ve denetim birimidir?

- A) Personel genel müdürlüğü
B) Eğitim dairesi başkanlığı
C) Savunma sekreterliği
D) Strateji dairesi başkanlığı
E) Hukuk müşavirliği

22. Aşağıdakilerden hangisi Türk kamu personel rejiminin temel sorunlarından biri değildir?

- A) Performans değerlendirme sistemindeki yetersizlik
B) Ücret rejimindeki dengesizlik ve adaletsizlik
C) Norm kadro sisteminin oturmaması
D) Nitelikli personel temininde güçlük
E) Hizmet içi eğitimlerdeki tekdüzellik

23.

- I. Köy
II. Belde
III. Bucak
IV. İlçe

Yukarıdaki yerleşim birimlerinin hangilerinde belediye kurulması zorunludur?

- A) Yalnız I
B) Yalnız III
C) Yalnız IV
D) I ve III
E) II, III ve IV

24. Aşağıdakilerden hangisi Türk kamu yönetiminin örgütlenmesine hâkim olan temel ilkelerden biri değildir?

- A) Merkezden yönetim
B) Halkın yönetime katılımı
C) Yetki genişliği
D) İdarenin bütünlüğü
E) Yerinden yönetim

25. Aşağıdakilerden hangisi Resmî Gazete'de yayımlanmaz?

- A) Kanunlar
B) Anayasa değişiklikleri
C) Yönetmelikler
D) Kamu Görevlileri Etik Kurulunun etik ihlali kararları
E) Üst düzey görevlere yapılan atamalar

Diğer sayfaya geçiniz.

26. Aşağıdakilerden hangisi Türkiye Cumhuriyeti'nin ilk yıllarında karşılaştığı ekonomik sorunlardan biridir?

- A) Dış ticaret fazlası nedeniyle Türk lirasının aşırı değerlenmesi
- B) T.C. Merkez Bankasının gevşek para politikasının neden olduğu enflasyon
- C) Gümrük vergilerinin artırılması nedeniyle temel ihtiyaç mallarının ithal edilememesi
- D) Osmanlı'dan kalan dış borçlar sorunu
- E) Türkiye'de faaliyet gösteren yabancı demir yolu şirketlerinin iflası

27. Aşağıdakilerden hangisi 1920'li yıllarda Türkiye Cumhuriyeti tarafından uygulanan ekonomi politikalarından biridir?

- A) Aşar ve ağnamın tek bir vergi altında birleştirilmesi
- B) Tütün rejisinin millileştirilmesi
- C) Demir yollarının millileştirilmesi
- D) Sanayii Teşvik Yasası'nın iptal edilmesi
- E) T.C. Merkez Bankasının kurulması

28. Aşağıdakilerden hangisi 1930'larda uygulanmaya başlanan devletçi sanayileşmenin hedefleri arasında yer alır?

- A) Yatırım (sermaye) malları üretimine hız verilmesi
- B) İthal ikameci kalkınmadan kaçınılması
- C) Sanayi üretiminin ihracat odaklı kurulması
- D) Özel sektörün sanayi üretiminden çekilmesi
- E) Temel tüketim mallarının yerli üretim ile karşılanması

29. Aşağıdakilerden hangisi II. Dünya Savaşı sonrasında devletçiliğin sona ermesi ile Türkiye ekonomisinde uygulanan politikalardan biri değildir?

- A) Tarımda makineleşme ve kara yolu ulaşımına öncelik verilmesi
- B) Kamuya ait enerji yatırımlarının sürdürülmesi
- C) KİT'lerin özelleştirilmesi
- D) Özel girişimciliğin teşvik edilmesi
- E) Yabancı sermaye yatırımlarının özendirilmesi

30. Aşağıdakilerden hangisi 1950'li yıllarda Türkiye'de tarımsal üretimi artıran nedenlerden biri değildir?

- A) Tarımsal kredi olanaklarının genişlemesi
- B) Traktör sayısının artması
- C) Tarım ürünleri fiyatlarının desteklenmesi
- D) Et ve Balık Kurumuna ait arazilerin özelleştirilmesi
- E) Topraksız köylülere toprak dağıtılması

31. Aşağıdakilerden hangisi, 1946-1960 yılları arasında Türkiye'de yaşanan ekonomik ve toplumsal değişimlerden biridir?

- A) Hızlı kentleşme ve iç pazarın büyümesi
- B) Tarımda üretim yapılan alan miktarının azalması
- C) İthalat nedeniyle yerli tarımsal üretimin iç piyasadan çekilmesi
- D) Ulaşım alanındaki yatırımların azalması
- E) Temel tüketim mallarının ithalat yoluyla karşılanması

Diğer sayfaya geçiniz.

32. Aşağıdakilerden hangisi 1960 sonrası planlı gelişme döneminde uygulanan sanayileşme politikalarının özelliklerinden biridir?

- A) İhracata dayalı büyüme modelinin benimsenmesi
- B) Yatırımların ağırlıklı olarak tarım sektöründe yoğunlaşması
- C) İthal ikameci sanayileşme modelinin uygulanması
- D) KİT'lerin ihracat ekseninde yeniden düzenlenmesi
- E) Yabancı sermaye yatırımlarına asla izin verilmesi

33. Aşağıdakilerden hangisi Türkiye ekonomisinin 1970'li yıllarda karşı karşıya kaldığı makroekonomik sorunlardan biri değildir?

- A) Dış borçların artması
- B) Enflasyon oranının yükselmesi
- C) T.C. Merkez Bankası döviz rezervlerinin erimesi
- D) İstihdam düzeyinin gerilemesi
- E) Dış ticaret dengesinin açık vermesi

34. Aşağıdakilerden hangisi Türkiye ekonomisinde 1978 yılında yaşanan krizin nedenlerinden biridir?

- A) Bankacılık sektöründeki iflaslar nedeniyle sektör faaliyetlerinin durma noktasına gelmesi
- B) İMKB'de işlem gören hisse senetlerindeki ani fiyat düşüşleri
- C) Türk lirasının hızla değer kazanması
- D) KİT'lerin özel dış kredi almalarının yasaklanması
- E) Dış borçların ödenmesi için yeterli döviz kaynağının bulunamaması

35. Aşağıdakilerden hangisi 24 Ocak 1980 ekonomik programının hedefleri arasında yer almaz?

- A) İhracatın artırılması
- B) Enflasyonun düşürülmesi
- C) Dış borçların düzenli olarak ödenmesi
- D) Mali disiplinin sağlanması
- E) Ekonomik büyüme amacıyla kamu yatırımlarının artırılması

36. Aşağıdakilerden hangisi 1980-1981 yıllarında uygulanan yapısal uyum programına göre yapılan düzenlemelerden biridir?

- A) İthal ikameci sanayinin güçlendirilmesi
- B) Gümrük reformu ve ithalat liberalizasyonu
- C) Türk lirasının konvertibl hâle getirilmesi
- D) Gevşek para politikasına geçilmesi
- E) Bütçe açığını kapatmak amacıyla enerji yatırımlarının durdurulması

37. 1980'deki yapısal dönüşüm sonrasında Türkiye'de Devletin KİT'lere yönelik temel politikası aşağıdakilerden hangisidir?

- A) KİT'lere yapılacak yatırımların piyasa verimliliği esasına göre artırılması
- B) Mülkiyeti kamuya ait kalmak koşuluyla, KİT'lerin idaresinin özel sektöre devredilmesi
- C) KİT'lerin özelleştirilme kapsamına alınması
- D) KİT'lerin görev zararlarının genel bütçeden karşılanmasına son verilmesi
- E) KİT'lerin KOBİ'lere bedelsiz devredilmesi

Diğer sayfaya geçiniz.

38. Aşağıdakilerden hangisi, Türkiye ekonomisinde 1989 yılında para piyasalarında yapılan düzenlemenin sonucunda gerçekleşmiştir?

- A) Türk lirası ve yabancı paraların dolaşımı üzerindeki kısıtların kaldırılması
- B) Özel sektöre ait döviz tevdiat hesaplarının T.C. Merkez Bankası bünyesinde toplanması
- C) Ticari bankaların T.C. Merkez Bankasında tuttuğu zorunlu mevduat karşılıklarının kaldırılması
- D) İMKB'de faaliyet gösteren aracı kurumlara mevduat toplama yetkisi verilmesi
- E) Bankacılık sisteminde bulunan mevduatlar için Tasarruf Mevduatı Sigorta Fonunun kurulması

39. Türkiye ile Avrupa Birliği arasında kabul edilen Gümrük Birliği Anlaşması hangi tarihte yürürlüğe girmiştir?

- A) 24 Şubat 1993
- B) 14 Ekim 1994
- C) 1 Ocak 1995
- D) 1 Ocak 1996
- E) 8 Ocak 1997

40. Aşağıdakilerden hangisi Türkiye ekonomisinde uygulanan 5 Nisan 1994 ekonomik istikrar programının hedeflerinden biridir?

- A) Kamu giderleri ve ücretleri artış hızının enflasyon oranına eşitlenmesi
- B) Konsolide bütçe açığının küçültülmesi
- C) Türk lirasının dolar karşısında değer kazanmasının desteklenmesi
- D) Hazine borçlanma faiz oranlarının enflasyonun altında tutulması
- E) Yeni vergiler konulmaması

41. Aşağıdakilerden hangisi 1994 krizi sonrasında Türkiye'de bankacılık ve para piyasalarında yapılan düzenlemelerden biridir?

- A) Belirli bir miktar altındaki tasarruf mevduatlarına Devlet güvencesi getirilmesi
- B) Tasarruf Mevduatı Sigorta Fonunun feshedilerek görev ve yetkilerinin T.C. Merkez Bankasına devredilmesi
- C) El konulan bankaların Özelleştirme İdaresi Başkanlığına devredilmesi
- D) Devlet iç borçlanma senedi faizlerinin belirlenmesinde T.C. Merkez Bankasının tek yetkili ilan edilmesi
- E) Mevduatlar üzerindeki zorunlu karşılık oranlarının sıfırlanması

42. 1997'de Asya'da ve 1998'de Rusya'da yaşanan ekonomik krizler tüm dünyada ekonomik, finansal ve toplumsal istikrarsızlığa yol açmıştır.

Aşağıdakilerden hangisi bu krizlerden sonra Türkiye ekonomisinde alınan tedbirlerden biridir?

- A) IMF ile yakın izleme anlaşması imzalanması
- B) T.C. Merkez Bankasının Hazineye vereceği avansların bütçe payının artırılması
- C) İç talebi artırmak amacıyla bütçe açığı hedefinin yükseltilmesi
- D) Türk lirasının yabancı paralar karşısındaki değerinin devalüe edilmesi
- E) Dünya Bankası ile yapısal uyum anlaşması imzalanması

Diğer sayfaya geçiniz.

43. Para ikamesi kavramı Türkiye ekonomisi için ne anlam ifade eder?

- A) Türk lirasından altı sıfır atılması sonucunda Yeni Türk lirasının Türk lirası yerine geçmesi
- B) Tasarruf sahiplerinin mevduatlarını Türk lirasından döviz tevdiat hesaplarına kaydırması
- C) Para politikası olarak T.C. Merkez Bankası parasının hedeflenmesi
- D) Kredi kartlarının para olarak kullanılması
- E) T.C. Merkez Bankasının yıpranmış ve aşınmış banknotları yenileriyle değiştirmesi

44. Aşağıdakilerden hangisi 2001 yılında yürürlüğe giren Güçlü Ekonomiye Geçiş Programının hedeflerinden biri değildir?

- A) Sıkı maliye programı uygulanması
- B) Özelleştirme faaliyetlerine hız verilmesi
- C) Para politikasının kurulacak olan para kuruluna devredilmesi
- D) Tasarruf Mevduatı Sigorta Fonu bünyesindeki özel bankalar ile kamuya ait bankaların yeniden yapılandırılması
- E) Bütçe dışı fonların kapatılması

45.

(milyar ABD doları)

I. Cari İşlemler Dengesi	-14,3
II. Sermaye Hareketleri (net)	-2,2
Doğrudan Yatırımlar (net)	6,7
Portföy Yatırımları (net)	0,2
Kredi Kullanımı	-15,7
Mevduat	4,6
Diğer	1,9
III. Net Hata ve Noksan	4,5
IV. Rezerv Değişimi	12,0

Yukarıda verilen Türkiye'nin 2009 yılına ait ödemeler dengesi tablosuna göre, aşağıdaki ifadelerden hangisi doğrudur?

- A) T.C. Merkez Bankası rezervleri 12 milyar ABD doları artmıştır.
- B) Dışarıya ihraç edilen mallar 14,3 milyar ABD doları olarak gerçekleşmiştir.
- C) Yurt dışından 15,7 milyar ABD doları kredi alınmıştır.
- D) Yabancı yatırımcıların Türkiye'ye yaptıkları net portföy yatırımları 200 milyon ABD doları olarak gerçekleşmiştir.
- E) Yerli yatırımcıların yurt dışında 4,6 milyar ABD doları mevduatı bulunmaktadır.

46. Aşağıdakilerden hangisi T.C. Merkez Bankasının 2010 yılı içinde uyguladığı politikalardan biridir?

- A) Zorunlu karşılık oranlarının değiştirilmesi
- B) Geniş para arzının hedeflenmesi
- C) Kaynak Kullanımını Destekleme Fonu oranının düşürülmesi
- D) Konut kredileri faiz oranlarına müdahale edilmesi
- E) Ticari bankalar için sermaye yeterlilik oranının düşürülmesi

Diğer sayfaya geçiniz.

47. Türkiye ekonomisinin son 5 yıl içindeki istihdam yapısı göz önüne alındığında aşağıdaki ifadelerden hangisi doğrudur?

- A) İstihdamda en büyük paya sanayi sektörü sahiptir.
- B) Tarım dışı işsizlik oranı genel işsizlik oranından yüksektir.
- C) Kırsal işsizlik oranı kentli işsizlik oranından daha yüksektir.
- D) Kadınlar için iş gücüne katılım oranı erkeklerden daha yüksektir.
- E) Toplam nüfustaki artışa rağmen iş gücü azalmaktadır.

48. Aşağıdakilerden hangisi T.C. Başbakanlık Hazine Müsteşarlığının görevlerinden biri değildir?

- A) Devletin mal varlığını temsil etmek
- B) Madenî para basmak
- C) Devlet adına borçlanmaya karar vermek ve uygulamak
- D) Devlete ait taşınmaz malları kiraya vermek ve satmak
- E) Devletin nakit akımını düzenlemek

49. Küresel mali kriz nedeniyle ekonomik faaliyetlerin yavaşladığı 2008 yılında aşağıdakilerden hangisi Türkiye ekonomisinde görülmemiştir?

- A) Sanayi üretim endeksinde düşüş
- B) İhracat mallarına olan talepte düşüş
- C) Yatırım harcamalarında azalış
- D) İşsizlik oranında artış
- E) Banka iflaslarında artış

50. Aşağıdakilerden hangisi Türkiye’de hükûmetin 2009 yılında küresel mali krize karşı aldığı önlemlerden biridir?

- A) Beyaz eşyada ÖTV’nin kaldırılması
- B) Otomotivde ÖTV’nin üç ay süre ile indirilmesi
- C) Özel iletişim vergisinin kaldırılması
- D) İthalden alınan KDV’nin % 1’e indirilmesi
- E) Konutlarda KDV’nin kaldırılması

51. Afganistan ile ilgili aşağıdaki ifadelerden hangisi yanlıştır?

- A) 19. yüzyılda İngiltere ile Rusya arasındaki güç mücadelesinin alanı olmuştur.
- B) 1979’da Sovyetler Birliği tarafından işgal edilmiştir.
- C) 1994’te Taliban’ın denetimine geçmiştir.
- D) 2001’de ABD tarafından işgal edilmiştir.
- E) 2008’de Şangay İşbirliği Örgütüne üye olmuştur.

52. Aşağıdakilerden hangisi Çin Halk Cumhuriyeti’nin dünya ekonomisiyle bütünleştiğinin göstergelerinden biri olarak kabul edilebilir?

- A) Dünya Ticaret Örgütüne üye olması
- B) BM Güvenlik Konseyi daimi üyesi olması
- C) Korumacı bir dış ticaret politikası izlemesi
- D) Mao döneminden kalma ticaret yasasını koruması
- E) Rusya ile stratejik iş birliği anlaşması imzalaması

Diğer sayfaya geçiniz.

53. Rusya'nın dış politikası ile ilgili aşağıdaki ifadelerden hangisi yanlıştır?

- A) Rusya, Şangay İşbirliği Örgütü'nün kurucu üyelerinden biridir.
- B) Gazprom Şirketi, Rusya'nın dış politikasında önemli bir aktördür.
- C) Rusya, NATO ile 1997'de bir anlaşma imzalarak NATO Rusya Konseyi'ni kurmuştur.
- D) Rusya, eski hâkimiyetindeki ülkelere yönelik olarak "Yakın Çevre" doktrinini geliştirmiştir.
- E) Rusya, 1990'lardan itibaren Almanya'yı başlıca tehdit olarak tanımlamıştır.

54. Aşağıdaki kuramlardan hangisi uluslararası ilişkiler disiplininin kuruluşuyla birlikte ortaya çıkmıştır?

- A) Realizm
- B) İdealizm
- C) Gelenekselcilik
- D) Davranışsalcılık
- E) Neoliberalizm

55. Aşağıdakilerden hangisi Westphalia Antlaşması'nın uluslararası ilişkilerin gelişimi için taşıdığı önemi ifade eder?

- A) İlk silahsızlanma antlaşmasıdır.
- B) İlk uluslararası örgütlenmenin başlangıcıdır.
- C) Tarihteki ilk barış antlaşmasıdır.
- D) Egemen devletler sisteminin başlangıcıdır.
- E) Ulusal yetkinin devredildiği ilk antlaşmadır.

56. Aşağıdakilerden hangisi nükleer caydırıcılığın dayandığı temel ilkedir?

- A) İkinci vuruş yeteneğinin bulunması
- B) Nükleer silahsızlanmanın sağlanması
- C) Nükleer saldırıya karşı konvansiyonel gücün yüksek seviyede tutulması
- D) Toptan saldırı stratejisinin bulunması
- E) Taraflardan birinin balistik füzelere sahip olması

57. Aşağıdakilerden hangisi NATO'nun geliştirdiği strateji ve politikalardan biridir?

- A) Nükleer denge politikası
- B) Topyekûn karşılık stratejisi
- C) Çevreleme politikası
- D) Kuşatma politikası
- E) İlk vuruş stratejisi

58. Uluslararası ilişkiler alanında küreselleşme ve devlet arasındaki ilişkiyle ilgili aşağıdaki ifadelerden hangisi doğrudur?

- A) Küreselleşmenin devletin merkezileşmesine katkıda bulunacağı varsayılmıştır.
- B) Küreselleşme sürecinde devletin ekonomik hayattaki etkisinin artacağı öngörülmüştür.
- C) Küreselleşme sürecinde devletin vatandaşına nasıl davranacağı sorgulanmamıştır.
- D) Küreselleşmenin devleti zayıflatacağı düşünülmüştür.
- E) Küreselleşmenin sivil toplumu zayıflatacağı düşünülmüştür.

Diğer sayfaya geçiniz.

59. Aşağıdaki bölgesel çatışmalardan hangisi Dayton Barış Anlaşması'yla sonuçlanmıştır?

- A) Kosova B) Bosna-Hersek
C) Makedonya D) Karadağ
E) Hırvatistan

60. Aşağıdaki uluslararası düzenlemelerden hangisi uluslararası alanda ticaretin geliştirilmesi ve ticaret engellerinin azaltılması amacıyla kurulmuştur?

- A) IMF B) IBRD C) GATT
D) ASEAN E) AGİT

61. Filistin sorunuyla ilgili aşağıdaki ifadelerden hangisi doğrudur?

- A) 2006'dan itibaren Gazze'de Filistin Kurtuluş Örgütü'nün etkinliği artmıştır.
B) İsrail, 1991 Madrid zirvesinde iki devlet formülünü kabul etmiştir.
C) Birinci Körfez Savaşı'ndan sonra Filistin hareketine yönelik destek artmıştır.
D) Filistinliler, 1987'de İntifada adıyla sivil itaatsizlik hareketi başlatmışlardır.
E) Arap Birliği, 2007'de Hamas'ı Filistin halkının meşru temsilcisi olarak tanımıştır.

62. Nükleer Silahların Yayılmasını Önleme Antlaşması'nın (NPT), üye ülkelere getirdiği yükümlülüklerle ilgili aşağıdaki ifadelerden hangisi doğrudur?

- A) Üye ülkeler nükleer silah teknolojisini başka ülkelere veremezler.
B) Yalnızca Uluslararası Atom Enerjisi Kurumunun onay verdiği ülkeler nükleer silah sahibi olabilirler.
C) Üye ülkeler balistik füze geliştirmedikleri sürece savunma amaçlı nükleer silah sahibi olabilirler.
D) Üye ülkeler hiçbir şekilde nükleer teknoloji geliştiremezler.
E) Üye ülkeler üye olmayan ülkelere nükleer teknoloji alabilirler.

63. Aşağıdakilerden hangisi 2002'de ilan edilen Bush doktrinini ifade eder?

- A) Bir ülke terörist saldırıya uğrarsa, ABD'nin o ülkeye müdahale ederek düzeni sağlama hakkı vardır.
B) Bir ülke ABD'ye saldırıyı düşündüğünde, daha tehdit oluşmadan ABD'nin öncülük bir şekilde ona saldırma hakkı vardır.
C) Uluslararası hukuk, uluslararası ilişkilerin işleyişinde başlıca dayanak noktasıdır.
D) Petrol, doğal gaz gibi enerji kaynaklarına sahip ülkeler ABD'nin saldırısına açıktır.
E) Silahsızlanma, ABD dış politikasının temel hedefidir.

Diğer sayfaya geçiniz.

64. Aşağıdaki örgütlerden hangisi 1973 Helsinki Konferansı'yla kurulmuştur?

- A) NATO B) IMF C) AGİK
D) AET E) İKÖ

66. Türkiye-İran sınırı aşağıdaki antlaşmalardan hangisiyle belirlenmiştir?

- A) Ankara Antlaşması
B) Bahçesaray Antlaşması
C) Kasr-ı Şirin Antlaşması
D) Lozan Antlaşması
E) Gümrü Antlaşması

65. 1999'da kurulan İnsan Hakları Komiseri aşağıdaki örgütlerden hangisine bağlıdır?

- A) BM
B) Avrupa Konseyi
C) Karadeniz Ekonomik İşbirliği Konseyi
D) ASEAN
E) AB

67. Aşağıdaki ülkelerden hangisi D-8 üyesi değildir?

- A) Malezya B) Türkiye C) İran
D) Bangladeş E) Irak

Diğer sayfaya geçiniz.

68. Aşağıdakilerden hangisi Hegemonik İstikrar Teorisini açıklar?

- A) Uluslararası sistemde istikrarın sağlanması için bir devletin sistemde üstünlüğe sahip olması
- B) Bir devletin ekonomik ve askerî üstünlüğünü uluslararası sistemin diğer aktörlerinden aldığı rıza üzerinden pekiştirerek hegemon konumuna yükselmesi
- C) Uluslararası sistemde istikrarın sağlanması için iki kutuplu bir sistemde iki güçlü devletin hegemon konumunun kabulü
- D) Çok kutuplu bir sistemde hegemonik istikrarın devletler değil, uluslararası örgütler tarafından biçimlendirilmesi
- E) Uluslararası sistemde istikrarın güçler dengesi temel alınarak gözetilmesi

69. Aşağıdakilerin hangisinde AB'ye en son üye olan devletler doğru olarak verilmiştir?

- A) Bulgaristan – Hırvatistan
- B) Romanya – Hırvatistan
- C) Letonya – Bulgaristan
- D) Bulgaristan – Romanya
- E) Letonya – Litvanya

70. Aşağıdakilerden hangisi Türkiye'nin AB uyum paketleri çerçevesinde gerçekleştirdiği değişikliklerden biri değildir?

- A) İdam cezasının kaldırılması
- B) Dernek kurma özgürlüğünün genişletilmesi
- C) Cemaat vakıflarının mülk edinmelerinin önündeki engellerin kaldırılması
- D) Türk vatandaşlarının günlük yaşamlarında geleneksel olarak kullandıkları farklı dil ve lehçelerde yayın yapılmasının mümkün kılınması
- E) Devlet Güvenlik Mahkemelerinin yetkilerinin artırılması

71. ABD'nin İkinci Dünya Savaşı'na girmesine neden olan olay aşağıdakilerden hangisidir?

- A) Pearl Harbour Saldırısı
- B) Stalingrad Savaşı
- C) Marita Harekâtı
- D) Almanya'nın Polonya'yı işgali
- E) Barbarossa Harekâtı

Diğer sayfaya geçiniz.

72. Aşağıdakilerden hangisi Almanya'nın Birinci Dünya Savaşı sonrasında ödeyeceği savaş tazminat sorununu çözmüştür?

- A) Marshall Planı
- B) Briand-Kellogg Paktı
- C) Rethondes Antlaşması
- D) Dawes Planı
- E) Yalta Konferansı

74. Aşağıdakilerden hangisi Üçüncü Dünyacılık hareketiyle ilişki içinde gelişmemiştir?

- A) Pan-Afrikanizm
- B) Afrika sosyalizmi
- C) Prag Okulu
- D) Pan-Arabizm
- E) Bağımlılık Okulu

73. Aşağıdakilerin hangisinde Johnson Mektubunun içeriği doğru olarak verilmiştir?

- A) ABD'nin Türkiye'nin haşhaş ekim yasağını kaldırmasına ekonomik ambargoyla karşılık vermesi
- B) ABD'nin Yunanistan'ın NATO'ya dönüşü için Türkiye'den vetosunu geri çekmesini talep etmesi
- C) ABD'nin Türkiye'nin Kıbrıs'a müdahalesini önleme çabası
- D) ABD'nin İncirlik'te üs kurma talebi
- E) ABD'nin Türkiye'den Kerkük-Yumurtalık boru hattını kapatmasını talep etmesi

75. Alexander Wendt aşağıdaki uluslararası ilişkiler kuramlarından hangisiyle birlikte anılmaktadır?

- A) Konstrüktivizm
- B) Oyun Teorisi
- C) Neorealizm
- D) İşlevselcilik
- E) Demokratik Barış Teorisi

TEST BİTTİ.

CEVAPLARINIZI KONTROL EDİNİZ.

SINAVDA UYULACAK KURALLAR

- 1. Cep telefonu ile sınava girmek kesinlikle yasaktır.** Çağrı cihazı, telsiz, fotoğraf makinesi vb. araçlarla; cep bilgisayarı, kol ya da cep saati, her türlü bilgisayar özelliği bulunan cihazlarla; silah ve benzeri teçhizatla; müsvedde kâğıdı, defter, kitap, sözlük, sözlük işlevi olan elektronik aygıt, hesap cetveli, hesap makinesi, pergel, açıölçer, cetvel vb. araçlarla sınava girmek kesinlikle yasaktır. Bu araçlarla sınava girmiş adaylar mutlaka Salon Sınav Tutanağına yazılacak, bu adayların sınavı geçersiz sayılacaktır. **Sınava kalem, silgi, kalemтіраш, saat vb. araçla ve kulaklık, küpe, broш vb. takı, herhangi bir metal eşyayla girmek de kesinlikle yasaktır. Yiyecek, içecek vb. tüketim malzemeleri de sınava getirilemez. Adaylar sınava şeffaf şişe içerisinde su getirebileceklerdir.**
2. Bu sınavda verilen toplam cevaplama süresi **150 dakikadır**. Sınav başladıktan sonra **ilk 110 ve son 15 dakika** içinde adayın sınavdan çıkmasına kesinlikle izin verilmeyecektir.
3. **Sınav evrakını teslim ederek salonu terk eden aday, her ne sebeple olursa olsun, tekrar sınava alınmayacaktır.**
4. Sınav süresince görevlilerle konuşmak, görevlilere soru sormak yasaktır. Aynı şekilde görevlilerin de adaylarla yakından ve alçak sesle konuşmaları ayrıca, adayların birbirinden kalem, silgi vb. şeyleri istemeleri kesinlikle yasaktır.
5. Sınav sırasında, görevlilerin her türlü uyarılarına uymak zorundasınız. Sınavınızın geçerli sayılması, her şeyden önce, sınav kurallarına uymanıza bağlıdır. Kurallara aykırı davranışta bulunanların ve yapılacak uyarılara uymayanların kimlik bilgileri Salon Sınav Tutanağına yazılacak ve sınavları geçersiz sayılacaktır.
6. Sınav sırasında kopya çeken, çekmeye kalkışan, kopya veren, kopya çekilmesine yardım edenlerin kimlik bilgileri Salon Sınav Tutanağına yazılacak ve bu adayların sınavları geçersiz sayılacaktır. Görevliler kopya çekmeye ya da vermeye kalkışanları uyarmak zorunda değildir; sorumluluk size aittir.
Adayların test sorularına verdikleri cevapların dağılımları bilgi işlem yöntemleriyle incelenecek, bu incelemelerden elde edilen bulgular bireysel ya da toplu olarak kopya çekildiğini gösterirse kopya eylemine katılan adayın/adayların cevaplarının bir kısmı ya da tamamı iptal edilecektir.
Sınav görevlileri bir salondaki sınavın, kurallara uygun biçimde yapılmadığını, toplu kopya girişiminde bulunulduğunu raporlarında bildirdiği takdirde, ÖSYM takdir hakkını kullanarak bu salonda sınava giren tüm adayların sınavını geçersiz sayabilir.
7. Cevap kâğıdında doldurmanız gereken alanlar bulunmaktadır. Bu alanları doldurunuz. Cevap kâğıdınızı başkaları tarafından görülmeyecek şekilde tutmanız gerekmektedir. Cevap kâğıdına yazılacak her türlü yazıda ve yapılacak bütün işaretlemelerde kurşun kalem kullanılacaktır. Sınav süresi bittiğinde cevapların cevap kâğıdına işaretlenmiş olması gerekir. Soru kitapçığına işaretlenen cevaplar geçerli değildir.
8. Soru kitapçığınızı alır almaz, sayfaların eksik olup olmadığını, kitapçıkta basım hatalarının bulunup bulunmadığını ve soru kitapçığının her sayfasında basılı bulunan soru kitapçık türünün, kitapçığın ön kapağında basılı soru kitapçığı türü ile aynı olup olmadığını kontrol ediniz. Soru kitapçığının sayfası eksik ya da basımı hatalıysa değiştirilmesi için salon başkanına başvurunuz.
9. Sınav sonunda soru kitapçıkları toplanacak ve ÖSYM'de tek tek incelenecektir. Soru kitapçığının bir sayfası bile eksik çıkarsa sınavınız geçersiz sayılacaktır.
10. Cevap kâğıdına ve soru kitapçığına yazılması ve işaretlenmesi gereken bilgilerde bir eksiklik ve/veya yanlışlık olması hâlinde sınavınızın değerlendirilmesi mümkün olamamaktadır. Tarafınızdan yazılması ve işaretlenmesi gereken bu bilgilerde eksiklik ve/veya yanlışlık olduğunda durumunuz Sınav Salon Tutanağında belirtilecektir.
11. Soru kitapçığının sayfalarındaki boş yerleri müsvedde için kullanabilirsiniz.
12. Soruları ve/veya bu sorulara verdiğiniz cevapları ayrı bir kâğıda yazıp bu kâğıdı dışarı çıkarmanız kesinlikle yasaktır.
13. Sınav salonundan ayrılmadan önce, soru kitapçığınızı ve cevap kâğıdınızı salon görevlilerine teslim etmeyi unutmayınız.

Bu testlerin her hakkı saklıdır. Hangi amaçla olursa olsun, testlerin tamamının veya bir kısmının Merkezimizin yazılı izni olmadan kopya edilmesi, fotoğrafının çekilmesi, herhangi bir yolla çoğaltılması, yayımlanması ya da kullanılması yasaktır. Bu yasağa uymayanlar gerekli cezai sorumluluğu ve testlerin hazırlanmasındaki mali külfeti peşinen kabullenmiş sayılır.

**TODAİE'DE KAMU YÖNETİMİ ALANINDA YÜKSEK LİSANS PROGRAMINA GİRİŞ
SINAVI**

7 MAYIS 2011

GENEL YETENEK – GENEL KÜLTÜR TESTİ

A KİTAPÇIĞI

- | | | |
|-------|-------|-------|
| 1. D | 21. A | 41. D |
| 2. B | 22. E | 42. B |
| 3. B | 23. E | 43. A |
| 4. E | 24. C | 44. C |
| 5. C | 25. C | 45. E |
| 6. D | 26. B | 46. A |
| 7. A | 27. E | 47. B |
| 8. C | 28. E | 48. D |
| 9. D | 29. D | 49. B |
| 10. B | 30. B | 50. E |
| 11. C | 31. C | 51. C |
| 12. A | 32. D | 52. D |
| 13. E | 33. D | 53. A |
| 14. B | 34. C | 54. B |
| 15. D | 35. C | 55. E |
| 16. A | 36. A | 56. C |
| 17. E | 37. D | 57. A |
| 18. C | 38. E | 58. C |
| 19. B | 39. A | 59. D |
| 20. C | 40. B | 60. E |

**TODAİE'DE KAMU YÖNETİMİ ALANINDA YÜKSEK LİSANS PROGRAMINA GİRİŞ
SINAVI**

7 MAYIS 2011

GENEL YETENEK – GENEL KÜLTÜR TESTİ

B KİTAPÇIĞI

- | | | |
|-------|-------|-------|
| 1. B | 21. C | 41. B |
| 2. B | 22. E | 42. E |
| 3. D | 23. A | 43. A |
| 4. C | 24. E | 44. B |
| 5. D | 25. E | 45. D |
| 6. E | 26. E | 46. C |
| 7. A | 27. D | 47. E |
| 8. B | 28. B | 48. A |
| 9. C | 29. C | 49. A |
| 10. D | 30. B | 50. D |
| 11. E | 31. D | 51. B |
| 12. C | 32. C | 52. E |
| 13. A | 33. C | 53. C |
| 14. B | 34. A | 54. A |
| 15. C | 35. D | 55. C |
| 16. B | 36. C | 56. D |
| 17. D | 37. D | 57. E |
| 18. A | 38. D | 58. B |
| 19. E | 39. B | 59. E |
| 20. C | 40. A | 60. C |

**TODAE'DE KAMU YÖNETİMİ ALANINDA YÜKSEK LİSANS PROGRAMINA GİRİŞ
SINAVI**

7 MAYIS 2011

ALAN BİLGİSİ TESTİ

A KİTAPÇIĞI

- | | | |
|-------|-------|-------|
| 1. A | 26. D | 51. E |
| 2. E | 27. C | 52. A |
| 3. C | 28. E | 53. E |
| 4. B | 29. C | 54. B |
| 5. C | 30. D | 55. D |
| 6. A | 31. A | 56. A |
| 7. D | 32. C | 57. B |
| 8. C | 33. D | 58. D |
| 9. B | 34. E | 59. B |
| 10. A | 35. E | 60. C |
| 11. E | 36. B | 61. D |
| 12. C | 37. C | 62. A |
| 13. B | 38. A | 63. B |
| 14. E | 39. D | 64. C |
| 15. E | 40. B | 65. B |
| 16. C | 41. A | 66. C |
| 17. B | 42. A | 67. E |
| 18. A | 43. B | 68. A |
| 19. D | 44. C | 69. D |
| 20. D | 45. D | 70. E |
| 21. E | 46. A | 71. A |
| 22. D | 47. B | 72. D |
| 23. C | 48. D | 73. C |
| 24. B | 49. E | 74. C |
| 25. D | 50. B | 75. A |

**TODAE'DE KAMU YÖNETİMİ ALANINDA YÜKSEK LİSANS PROGRAMINA GİRİŞ
SINAVI**

7 MAYIS 2011

ALAN BİLGİSİ TESTİ

B KİTAPÇIĞI

- | | | |
|-------|-------|-------|
| 1. A | 26. C | 51. A |
| 2. D | 27. D | 52. B |
| 3. C | 28. A | 53. D |
| 4. B | 29. B | 54. E |
| 5. A | 30. D | 55. A |
| 6. C | 31. E | 56. E |
| 7. B | 32. B | 57. B |
| 8. A | 33. B | 58. D |
| 9. D | 34. A | 59. A |
| 10. D | 35. A | 60. B |
| 11. A | 36. B | 61. C |
| 12. E | 37. E | 62. B |
| 13. C | 38. B | 63. C |
| 14. B | 39. C | 64. D |
| 15. C | 40. A | 65. A |
| 16. E | 41. D | 66. D |
| 17. D | 42. D | 67. E |
| 18. C | 43. A | 68. B |
| 19. B | 44. C | 69. C |
| 20. D | 45. D | 70. E |
| 21. E | 46. E | 71. C |
| 22. C | 47. D | 72. A |
| 23. B | 48. C | 73. A |
| 24. E | 49. E | 74. D |
| 25. E | 50. C | 75. C |