



JANDARMA OKULLAR KOMUTANLIĐI  
UZMAN JANDARMA OKULU GİRİŐ SINAVI (JANU)

17 Nisan 2011



ADI	:
SOYADI	:
T.C. KİMLİK NUMARASI	:
SINAV SALON NUMARASI	:
SALON SIRA NUMARASI	:

SORU KİTAPÇIĐI NUMARASI

**00000.00000**

Bu numarayı cevap kâğıdınızdaki ilgili alana kodlamayı unutmayınız.

**DİKKAT!**

**SINAV BAŐLAMADAN ÖNCE AŐAĐIDAKİ UYARILARI MUTLAKA OKUYUNUZ.**

1. Adınız, soyadınız, T.C. Kimlik Numaranız ve sınav salon numaranız yukarıdakilerden farklı ve kitapçık üzerine basılı olan fotoğraf size ait deđilse bunu salon başkanına belirterek size ait soru kitapçığının verilmesini sağlayınız.
2. Soru kitapçığı numaranız yukarıda verilmiştir. Bu numarayı cevap kâğıdınızdaki ilgili alana kodlayınız. Bu kodlamayı cevap kâğıdınıza yapmadığınız veya yanlış yaptığınızda cevap kâğıdınız deđerlendirilemez.
3. Bu sayfanın arkasında yer alan açıklamayı dikkatle okuyunuz.

## AÇIKLAMA

1. Bu kitapçıkta, Genel Yetenek Testi ve Genel Kültür Testi bulunmaktadır.
2. Bu iki test için verilen toplam cevaplama süresi **120 dakikadır (2 saat)**.
3. Cevaplamaya istediğiniz sorudan başlayabilirsiniz.
4. Testteki her sorunun sadece bir doğru cevabı vardır. Bir soru için birden çok cevap yeri işaretlenmişse o soru yanlış cevaplanmış sayılacaktır.
5. Bu kitapçıkta soruların cevapları, kitapçıkla birlikte verilen cevap kâğıdında ayrılmış olan yerlere, kurşun kalemle işaretlenecektir. Cevap kâğıdı buruşturulmayacak, üzerine gereksiz hiçbir işaret konulmayacaktır.
6. Değiştirmek istediğiniz bir cevabı, yumuşak bir silgiyle, cevap kâğıdını örselemeden, temizce siliniz ve yeni cevabınızı işaretlemeyi unutmayınız.
7. Test puanlanırken her bölümdeki doğru cevaplarınızın sayısından yanlış cevaplarınızın sayısının dörtte biri düşülecek ve kalan sayı o testle ilgili ham puanınız olacaktır. Bu nedenle bir soru hakkında hiçbir fikriniz yoksa o soruyu boş bırakınız. Ancak, soruda verilen seçeneklerden birkaçını eleyebiliyorsanız kalanlar arasından doğru cevabı kestirmeniz yararınıza olabilir.
8. Sınavda uyulacak diğer kurallar bu kitapçığın arka kapağında belirtilmiştir.

## SINAVDA UYULACAK KURALLAR

- 1. Cep telefonu ile sınava girmek kesinlikle yasaktır.** Çağrı cihazı, telsiz, fotoğraf makinesi vb. araçlarla; cep bilgisayar, saat, her türlü bilgisayar özelliği bulunan cihazlarla; silah ve benzeri teçhizatla; müsvedde kâğıdı, defter, kitap, sözlük, sözlük işlevi olan elektronik aygıt, hesap cetveli, hesap makinesi, pergel, açölçer, cetvel vb. araçlarla sınava girmek kesinlikle yasaktır. Bu araçlarla sınava girmiş adaylar mutlaka Salon Sınav Tutanağına yazılacak, bu adayların sınavı geçersiz sayılacaktır. **Sınava kalem, silgi, kalemtıraş, saat vb. araçla ve kulaklık, küpe, broş vb. takı, herhangi bir metal eşyayla girmek de kesinlikle yasaktır. Yiyecek, içecek vb. tüketim malzemeleri de sınava getirilemez. Adaylar sınava şeffaf şişe içerisinde su getirebileceklerdir.**
2. Bu sınavda verilen toplam cevaplama süresi **120 dakikadır**. Sınav başladıktan sonra **ilk 90 ve son 15** dakika içinde adayın sınavdan çıkmasına kesinlikle izin verilmeyecektir.
3. **Sınav evrakını teslim ederek salonu terk eden aday, her ne sebeple olursa olsun, tekrar sınava alınmayacaktır.**
4. Sınav süresince görevlilerle konuşmak, görevlilere soru sormak yasaktır. Aynı şekilde görevlilerin de adaylarla yakından ve alçak sesle konuşmaları ayrıca, adayların birbirinden kalem, silgi vb. şeyleri istemeleri kesinlikle yasaktır.
5. Sınav sırasında, görevlilerin her türlü uyarılarına uymak zorundasınız. Sınavınızın geçerli sayılması, her şeyden önce, sınav kurallarına uymanıza bağlıdır. Kurallara aykırı davranışta bulunanların ve yapılacak uyarılara uymayanların kimlik bilgileri Salon Sınav Tutanağına yazılacak ve sınavları geçersiz sayılacaktır.
6. Sınav sırasında kopya çeken, çekmeye kalkışan, kopya veren, kopya çekilmesine yardım edenlerin kimlik bilgileri Salon Sınav Tutanağına yazılacak ve bu adayların sınavları geçersiz sayılacaktır. Görevliler kopya çekmeye ya da vermeye kalkışanları uyarmak zorunda değildir; sorumluluk size aittir.  
Adayların test sorularına verdikleri cevapların dağılımları bilgi işlem yöntemleriyle incelenecek, bu incelemelerden elde edilen bulgular bireysel ya da toplu olarak kopya çekildiğini gösterirse kopya eylemine katılan adayın/adayların cevaplarının bir kısmı ya da tamamı iptal edilecektir.  
Sınav görevlileri bir salondaki sınavın, kurallara uygun biçimde yapılmadığını, toplu kopya girişiminde bulunulduğunu raporlarında bildirdiği takdirde, ÖSYM takdir hakkını kullanarak bu salonda sınava giren tüm adayların sınavını geçersiz sayabilir.
7. Cevap kâğıdında doldurmanız gereken alanlar bulunmaktadır. Bu alanları doldurunuz. Cevap kâğıdınızı başkaları tarafından görülmeyecek şekilde tutmanız gerekmektedir. Cevap kâğıdına yazılacak her türlü yazıda ve yapılacak bütün işaretlemelerde kurşun kalem kullanılacaktır. Sınav süresi bittiğinde cevapların cevap kâğıdına işaretlenmiş olması gerekir. Soru kitapçığına işaretlenen cevaplar geçerli değildir.
8. Soru kitapçığınızı alır almaz, sayfaların eksik olup olmadığını, kitapçıkta basım hatalarının bulunup bulunmadığını ve soru kitapçığının her sayfasında basılı bulunan soru kitapçığı numarasının, kitapçığın ön kapağında basılı soru kitapçığı numarasıyla aynı olup olmadığını kontrol ediniz. Soru kitapçığının sayfası eksik ya da basımı hatalıysa değiştirilmesi için salon başkanına başvurunuz.
9. Size verilen soru kitapçığının numarasını cevap kâğıdınızdaki "Soru Kitapçığı Numarası" alanına kodlayınız.
10. Sınav sonunda soru kitapçıkları toplanacak ve ÖSYM'de tek tek incelenecektir. Soru kitapçığının bir sayfası bile eksik çıkarsa sınavınız geçersiz sayılacaktır.
11. Cevap kâğıdına yazılması ve işaretlenmesi gereken bilgilerde bir eksiklik ve/veya yanlışlık olması hâlinde sınavınızın değerlendirilmesi mümkün olamamaktadır. Tarafınızdan yazılması ve işaretlenmesi gereken bu bilgilerde eksiklik ve/veya yanlışlık olduğunda durumunuz Sınav Salon Tutanağında belirtilecektir.
12. Soru kitapçığının sayfalarındaki boş yerleri müsvedde için kullanabilirsiniz.
13. Soruları ve/veya bu sorulara verdiğiniz cevapları ayrı bir kâğıda yazıp bu kâğıdı dışarı çıkarmanız kesinlikle yasaktır.
14. Sınav salonundan ayrılmadan önce, soru kitapçığınızı ve cevap kâğıdınızı salon görevlilerine teslim etmeyi unutmayınız.

*Bu testlerin her hakkı saklıdır. Hangi amaçla olursa olsun, testlerin tamamının veya bir kısmının Merkezimizin yazılı izni olmadan kopya edilmesi, fotoğrafının çekilmesi, herhangi bir yolla çoğaltılması, yayımlanması ya da kullanılması yasaktır. Bu yasağa uymayanlar gerekli cezai sorumluluğu ve testlerin hazırlanmasındaki mali külfeti peşinen kabullenmiş sayılır.*

1. Sonradan yazıya geçirilmiş destanlarla ilgili bilgileri kolay kolay bulamayız. Örneğin Asurlularca yazıya geçirilmiş bir Sümer destanı olan Gılgamış'ın kaçınıcı yüzyılda ortaya çıktığını bilmemize olanak yok. Ya Truva? Kim bilir kaç destandan etkilenmiştir. Kısacası toplumdandan topluma değışerek aktarılan destanlar pek çok ---- izler taşır.

**Bu parçada boş bırakılan yere, düşüncenin akışına göre aşağıdakilerden hangisi getirilemez?**

- A) kültürden      B) savaştan      C) topluluktan  
D) uygarlıktan      E) coğrafyadan

2. (I) Savaşlar genellikle ekonomik nedenlere bağlı olarak ortaya çıkmıştır. (II) Mevcut kaynakların, artan nüfusun ihtiyacını karşılayamaz duruma gelmesi savaşlara yol açmıştır. (III) Tarihte mevcut durumu koruma ve saldırılara karşı savunma ihtiyaçlarına bağlı nedenlerle de savaşıldığı bilinmektedir. (IV) Ne yazık ki bu savaşlarda kullanılan silahlar, uygarlığın ilerlemesine paralel olarak hızlı bir gelişme gösterdi. (V) Bunun sonucunda günümüzde türlü türlü savaş araçları bilinçsizce, oyuncak gibi kullanılmaya başlandı.

**Bu parçadaki numaralanmış cümlelerin hangilerinde istenmeyen bir durumdan söz edilmektedir?**

- A) I. ve II.      B) I. ve V.      C) II. ve III.  
D) III. ve IV.      E) IV. ve V.

3. Aşağıdaki sorulardan hangisinin yanıtı bir gerekçe içermektedir?

- A) – Son dönem Türk edebiyatını nasıl değerlendiriyorsunuz?  
– Edebiyatın her türünde güzel çalışmalar yapılıyor.
- B) – Daha çok ne tür yapıtlar okursunuz?  
– Macera romanlarını yeğlerim.
- C) – Genç yazarlara söylemek istediğiniz bir şey var mı?  
– Kendilerine özgü bir anlatım biçimi oluşturmalarını öneririm.
- D) – Okuduğunuz yapıtta üslubu önemser misiniz?  
– Yansıtılmak istenen duyguyu daha iyi anlayabilmek için önemserim.
- E) – Şiir kitaplarının az basılmasını neye bağlıyorsunuz?  
– Bu konuyu hiç düşünmedim.

4. Sanatçı, yerel ve günceli aşır tüm insanlığa seslenen yapıtlar verirse kalıcılığı yakalar.

**Aşağıdakilerden hangisi, bu cümleye anlamca en yakındır?**

- A) Sanatçının yaşarlığını koruması yaratılarında evrensel değerleri işlemesine bağlıdır.  
 B) Evrenselliğe giden yol ulusallıktan geçer.  
 C) Yenilikleri izlemeyen bir sanatçı, yaşadığı günlerin ötesine geçemez.  
 D) Bir yapıtın kalıcılığı, kendinden önce üretilmişlerin havasını korumasına bağlıdır.  
 E) Sanatçının temel görevi bireysel ve toplumsal sorunları anlatmaktır.

5. **Aşağıdaki cümlelerin hangisinde insana ait bir özellik doğaya aktarılmıştır?**

- A) Bolu, yeşil ile mavinin uyumuyla ünlü bir kentimizdir.  
 B) Bolu'da Yedigöller Havzası, "millî park" olarak korumaya alınmıştır.  
 C) Kartalkaya, Bolu'ya kışın tatil için gelenlere ev sahipliği yapmaktadır.  
 D) Gölcük, Bolu'nun 13 km güneyinde yer alan yapay bir set gölüdür.  
 E) Abant, Bolu'nun 34 km güneybatısında Abant Dağları üzerinde oluşmuş bir krater gölüdür.

6. (I) İşlenmemiş deniz suyu, insanın kullanabileceği miktardan daha yüksek oranda tuz içerdiği için içmeye uygun değildir. (II) Deniz suyu içildiğinde canlı dokulardaki su çekildiğinden beden susuz kalır. (III) Deniz suyu susuzluğu gidermek yerine büsbütün körükler. (IV) Tuzlu deniz suyunu içilebilir hâle getirmenin bilinen pratik bir yolu "buharlaştırma"dır. (V) Bu, doğanın deniz suyunu bulutlara taşıırken kullandığı yöntemdir. (VI) Bir diğeri ise kutup kâşiflerinin çok iyi bildiği bir yöntem olan "dondurma"dır.

**Bu parçadaki numaralanmış cümlelerin hangilerinde neden-sonuç ilişkisi vardır?**

- A) I. ve II.      B) I. ve III.      C) II. ve III.  
 D) III. ve IV.      E) IV. ve V.

7. (I) Dil bilimcilerin ve toplum bilimcilerin ortak bir kanısı vardır. (II) O da şudur: Bir dildeki sözcüklerin bir başka dile geçişi doğal bir olgudur. (III) Bu sözcükler bir başka dile geçerken ait oldukları toplumun birtakım değerlerini de beraberinde getirir. (IV) Çünkü dil, düşüncenin ve kültürün tek taşıyıcısıdır. (V) Düşünsel ve kültürel değerler yalnızca dil aracılığıyla aktarılır. (VI) Bu aktarma ne kadar doğru gerçekleşirse düşünce ve kültür de o denli gelişir.

**Bu parçadaki numaralanmış cümlelerin hangisi, kendinden önceki cümlede belirtilene benzer bir düşünceyi içermektedir?**

- A) II.      B) III.      C) IV.      D) V.      E) VI.

**8. Aşağıdaki cümlelerin hangisinde bir yazım yanlışı vardır?**

- A) Bu akşam Ali'lerde toplanıp oradan ODTÜ'ye gideceğiz.  
 B) Yurt dışından gelen misafirlerini Ankara Kalesi'ne götürdü.  
 C) Bodrumlu olup da buraları bilmemek olacak şey değil.  
 D) Saat 20.30'da başlayacak olan konsere, bu trafikte zor yetişiriz.  
 E) Bu iş için programını a'dan z'ye değiştirdi.

**9. Aşağıdaki cümlelerin hangisinde bir yazım yanlışı vardır?**

- A) Havalalar ısındı mı İstanbul'u gezmeye doyum olmaz.  
 B) Gökyüzünde kuşlar gibi özgürce dolaşmayı ben de isterdim.  
 C) Dergide ki son yazısında ilginç konulara değinmişti.  
 D) Düzenli çalışmasının karşılığını eminim ki alacaktır.  
 E) Onu yirmi beş yıldır görmemiştim.

**10. 1980'den sonra şiirimizin bağımsızlaştığını görü-**

yoruz. Şairler, kişiliklerini kantlama çabasına giriş-

yorlar. Kolay okunan  $\frac{I}{I}$  bellekte kalan  $\frac{II}{II}$  dize disiplini

olan  $\frac{III}{III}$  ölçülü ve uyaklı şiir yazılmıyor artık. Üzerinde

emek harcanmamış  $\frac{IV}{IV}$  titiz bir çalışmanın ürünü

olmayan şiirler dışlanıyor. Oysa şiiri düz yazıdan

ayıran en önemli fark  $\frac{V}{V}$  onun şifreli bir tür olmasıdır.

**Bu parçadaki numaralanmış virgüllerden (,) hangisi ötekilerden farklı bir görevde kullanılmıştır?**

- A) I.      B) II.      C) III.      D) IV.      E) V.

11. "Anma"yla ilgili atasözlerimizden biri de "Yarım el-

ma  $\frac{1}{I}$  gönül alma"dır. Bu atasözünün anlamını biliyor

musunuz ? Şöyle  $\frac{2}{II}$  : Gönül almak için küçük bir

armağan da yeter  $\frac{3}{IV}$ . Önemli olan, değerli armağan

götürmek değil o kişiyi mutlu etmektir  $\frac{4}{V}$ !

**Bu parçadaki numaralanmış noktalama işaretlerinden hangisi yerinde kullanılmamıştır?**

- A) I. B) II. C) III. D) IV. E) V.

12. Yazarın bu romanında oluşturulan atmosfer, özenli bir anlatım, yinelemeye düşmeden yapılmış betimlemeler, ilginç gözlemler var.

**Bu cümledeki anlatım bozukluğu aşağıdaki değişikliklerin hangisiyle düzeltilbilir?**

- A) "yazarın bu romanında" sözü çıkarılarak  
B) "oluşturulan atmosfer" sözü atılarak  
C) "yazarın" sözcüğü yerine "yazar" sözcüğü getirilerek  
D) "gözlemler" sözcüğü yerine "çağrışımlar" sözcüğü getirilerek  
E) "yinelemeye düşmeden yapılmış" sözü atılarak

13. Aşağıdaki cümlelerin hangisinde bir anlatım bozukluğu vardır?

- A) Amcamın çocuklarından biri özel, öbürü devlet üniversitesinde okuyor.  
B) Pazar günleri evimizin karşısındaki parkta yürürüm.  
C) Günlük gazetelerden birkaçını okumayı alışkanlık edinmiştim.  
D) Kim ne derse desin, takımımız öteki takımlardan daha iyi oynuyor.  
E) Seninle aramızdaki dostluğu hiçbir şey bozamaz.

14. (I) Meyve tezgâhlarının yanından, kullanılmış araba lastikleri satan dükkânların önünden geçerek hurda pazarına girdim. (II) Sonra her iki yakasını eski televizyonların, içi boş bilgisayar kasalarının ve kırılmış monitörlerin oluşturduğu üç metrelik kulelerin kapladığı bir sokağa geldim. (III) Keskin bir koku yayan pas içindeki hurdaların arasında belli belirsiz insan silüetleri bir görünüp bir kayboluyordu. (IV) Bu insanların hepsi de eski malzemelerin sürücü ve bellek gibi daha sonra satılabilecek parçalarını söküyordu. (V) İş, çöp yaratmaya geldiğinde insanoğlunun her zaman çok üretken olması üzücü bir şey. (VI) Geleceğin arkeologları, 21. yüzyılda yeni bir çöp türünün dünyayı sardığını görecek: "e-atık" denilen kalıntılar.

**Bu parça iki paragrafa ayrılmak istense ikinci paragraf hangi cümleyle başlar?**

- A) II. B) III. C) IV. D) V. E) VI.

15. O zamanlar, küçük kasabamızda "antika"nın ne olduğunu bilmezdi insanlar. Aslında antika olan mallarını hurda diye satarlardı. Babam da hurda diye alırdı onları. Dükkânda, artık işe yaramayan aletler, savaş yıllarından kalma asker mataraları, tüfek parçaları, demir ütüler, kahve değirmenleri ve akla gelebilecek her türlü madenden yapılmış hurda bulunurdu. Bir gün bir gazetede, halktan eski eşya olarak çok ucuza alınıp toplanan antikaların, büyük şehirdeki antikacılar çok pahalıya satıldığını okudum. Ondan sonra, eniştemin de yol göstermesiyle, tanınmış antikacılarla görüşüp onlardan bilgi aldım. Meğer sadece güzelliklerine kıyamadığım için atamadığım eşyaların hepsi oldukça değerli birer antikaymış. İşte böyle başladı bizim hurdacılık öykümüzün antikacılığa dönüşmesi.

**Bu parçanın anlatımında aşağıdakilerden hangisi yoktur?**

- A) Öyküleme                      B) Öznellik  
C) İkinci kişili anlatım        D) Açıklama  
E) Değişik cümle türleri

16. (I) Çocuk kitaplarında anlatım, çocuğun kavrama gücünü ve okuma zevkini geliştirmeye uygun olmalıdır. (II) Bunun için açık, anlaşılır ve akıcı bir dil kullanılmalıdır. (III) Çocuğun söz dağarcığını, dil sevgisini beslemeli ve geliştirmelidir. (IV) Seçilen ve anlatılan olaylardaki olağanüstü kahramanlar, çocuğun düş dünyasını zenginleştirir. (V) Yabancı sözcüklerden, argodan uzak durulmalıdır.

**Bu parçadaki numaralanmış cümlelerden hangisi düşüncenin akışını bozmaktadır?**

- A) I.            B) II.            C) III.            D) IV.            E) V.

17. Dünyayı karış karış dolaşmış bir gezgin bile Kapadokya ile karşılaştığında şaşkınlığını gizleyemez. Kayaların, yer altı tünellerinin üzerinde şapkayı anımsatan taş parçalarıyla dikilen peri bacalarının, kızıla ve turuncuya çalan vadilerin arasında durup garip duygularla dört bir yana bakacaktır. Gerçekten de insan, Kapadokya'da gördüğü manzarayı tanımlamakta sözcüklerin yetersiz kaldığını duyumsar. Sanki Anadolu tuhaf bir düşünmüşdür, gerçek değildir bütün bunlar. Bu bölge için Nobel ödülü sahibi bir şair şöyle demişti: "Anlaşılmaz oyuncaklarla dolu bir yayla." Gerçekten de Hitit tanrıları, çocukken oynadıkları kırık oyuncaklarını buraya fırlatmış sanki. Anadolu'nun Bereket Tanrıçası Kibele de toplamamış onları, öylece bırakmış!

**Bu parçanın anlatımında aşağıdakilerden hangisi yoktur?**

- A) Alıntı                      B) Benzetme            C) Açıklama  
D) Kişileştirme            E) Sayısal veriler

18. Günlük yaşayışımızda dil yalnızca bir anlaşma aracıdır. Konuşur, dertleşir, tartışır, isteklerimizi belirtiriz. Ama bunu yaparken kimi zaman, kullanılan sözcükler, insanın kendi gerçeklerini, duygularını karşısındakine aktarmada yetersiz kalır. ---. Şair, dilinin sözcüklerine yeni anlamlar, çağdaş yorumlar katar; söz diziminde yenilikler yapar. Böylece toplumun dilini, dolaylı olarak da duyarlığını canlı tutar.

**Bu parçada boş bırakılan yere düşüncenin akışına göre aşağıdakilerden hangisi getirilmelidir?**

- A) İşte şiir bize bu noktada yardımcı olur  
B) Aslında şairler, bir bakıma toplumun sözcüleridir  
C) Biliyoruz ki dil, bir toplumu toplum yapan en önemli öğedir  
D) Ancak şairlerini anlayan toplumlar çağdaşlık çizgisine ulaşır  
E) Ne var ki böyle anlarda, şiir insanı değiştirir



19. Dil, bir toplum için yalnızca iletişimi sağlayan bir araç değildir. Toplumsal yaşamın ayrılmaz bir parçasıdır. ----. Bireylerin düşünsel birikimleri, kurulan ve gelişen bu dil dünyası içinde temellenir. Başka bir deyişle her bireyin dış dünyaya bakışı, onu kavrayışı ana dilinin sınırları içinde gerçekleşir.

**Bu parçada boş bırakılan yere düşüncenin akışına göre aşağıdakilerden hangisi getirilmelidir?**

- A) Dildeki bazı yanlış kullanımlar zaman içinde yaygınlık kazanır
  - B) Her dil, bağlı olduğu yaşama düzeni içinde kendine özgü bir dünya kurar, geliştirir
  - C) Öz Türkçe akımı, bilim diline de egemen olmaya başlamıştır
  - D) Somut kavramlar, dış dünyayı nesnel olarak yansıtan dillerde daha zengindir
  - E) İnsanlar, dillerinin kendi kendine biçimlendiğini sanırlar
20. Yazar, yaşadıklarını, yaşamının dünüyle bugünüden oluşturduğu birikimiyle anlatır. Sait Faik bir İstanbul öykücüsüdür; M. Şevket Esendal Ankara'nın, Halikarnas Balıkcısı Bodrum'un... Kimileri de bölge bölge Anadolu'yu anlatır. Çünkü en iyi bildikleri coğrafya oralarıdır, gerçek o mekânlardadır. Tanıdık insanlar da oradadır. Bu nedenle ----.

**Bu parçanın sonuna düşüncenin akışına göre aşağıdakilerden hangisi getirilmelidir?**

- A) yaptıklarından yola çıkarak yazarı değerlendirmek yanlıştır
- B) aynı konu farklı yazarlar tarafından ele alınabilir
- C) bir yapıtı okurken orada kendi yaşantımızı ararız
- D) bir yazarın yazdıklarını yaşadıklarından ayıramayız
- E) her yazarın yazma biçimi diğerlerinden farklıdır

21. Günümüzde *İnternet* dünyasında yazar olmak çok kolay. Birikimi ve yayımlama cesareti olmayanların da denetimsizce yazabileceği bir alan hâline geldi *İnternet*. ----.

**Bu parçanın sonuna düşüncenin akışına göre aşağıdakilerden hangisi getirilemez?**

- A) Böylece, eli kalem tutan herkes bir şeyler yazabileceğini düşünüyor
- B) Bilindiği gibi edebiyatta da öteki sanatlardaki kadar çok sesliliğe gereksinim duyuluyor
- C) Yayımlamanın bu kadar kolay olması pek çok kişiyi, kendini yazar sanma yanılgısına düşürüyor
- D) Bu yüzden *İnternet* ortamında yazılanların bir bölümü, yazınsallıktan yoksun oluyor
- E) *İnternet*'teki bu denetimsizlik, edebiyatın düzeyini düşürüyor

22. Kaygılı insanların olaylara bakışı oldukça karamsardır. Böyle insanlar, hem kendilerini hem de öteki insanları ilgilendiren olaylarda daima olumsuz bir tutum içinde olurlar. Ürettikleri felaket senaryolarıyla çevrelerindeki insanları da bunaltırlar. Bu arada ilginç bir çelişki de yaşarlar. Kaygılı insan, kaygılarına katılmayan kişilere karşı bir yandan kızgınlık duyarak onları, kendisini ciddiye almamakla suçlar; öte yandan kendisiyle birlikte sürüklenmedikleri için onlara saygı, güven duyar.

**Bu parçaya göre kaygılı insanlarla ilgili olarak aşağıdakilerden hangisi söylenebilir?**

- A) Bu durumdan kurtulmanın güç olduğu
- B) Yalnızca kendilerine zarar verdikleri
- C) Karşıt duygular içinde oldukları
- D) Olayları çarpıtarak çıkar sağladıkları
- E) Durumlarıyla ilgili araştırmalar yapılmadığı

23. Gezi yazıları, toplumsal etkisini, işlevini oldukça yitirmiş durumda. Bu tür yazılar, yerlerini gezi fotoğraflarına, video çekimlerine bırakmadan önce son demlerini yaşıyor, diyerek bir çöküş vurgusu yapmak istemiyorum. Çünkü bu metinlerin yapısında olan birinci elden tanıklığı önemsiyorum. Unutulmamalıdır ki her gezi yazısı, yazarının bakış açısına uygun olarak oluşturulur.

**Bu parçada gezi yazılarıyla ilgili olarak vurgulanmak istenen aşağıdakilerden hangisidir?**

- A) Yazarların, kitap hâline getirilmesine sıcak bakmadığı
- B) Bireysel görüşü yansıtması bakımından önemli olduğu
- C) Teknolojik gelişmelerin, yazılmasını kolaylaştırdığı
- D) Gelişmelere uygun olarak yazılması gerektiği
- E) Zaman içinde kendini yenileyeceğinin düşünüldüğü

24. O, XIV. yüzyıl şairleri arasında gerek şiirlerinin sayısı gerekse niteliği açısından bir doruk noktasıdır. Dili düzgün, betimlemeleri canlı ve renkli, söyleyişi kendine özgüdür. Şiirlerinde taşkın bir lirizmin, sanatçı titizliğiyle dile getirildiği görülür. Divan şiirinin kurucularından sayılan şair, edebiyat, tıp, tarih gibi değişik alanlarda çeşitli yapıtlar vermiştir. Bulunan her yeni yapıtında şairin başka bir yönüyle karşılaşılmaktadır.

**Bu parçada sözü edilen şairle ilgili olarak aşağıdakilerden hangisine değinilmemiştir?**

- A) Çok yönlülüğüne
- B) Üretken bir sanatçı olduğuna
- C) Yapıtlarının nitelikçe üstün olduğuna
- D) Kendisinden sonraki sanatçılara yol gösterdiğine
- E) Coşkulu ve duru bir dil kullandığına

25. Buradaki şık ve görkemli hükûmet binalarının birçoğu Antik Yunan Dönemini hatırlatan özellikler taşıyor. Bunlardan en görkemlisi, Amerikan filmlerinde kimi zaman uzaylıların bile hedefi olan Kongre Binası, yani Capitol. Capitol'den Amerika'nın 16. başkanı Abraham Lincoln'un anıtına kadar uzanan yaklaşık 3 km uzunluğunda, 120 m genişliğindeki "The Mall" isimli alanda, büyük mitingler yapılıyor, konserler düzenleniyor. The Mall'deki en dikkat çekici anıt ise The Monument. Bu anıt, aynı zamanda Washington D.C.deki binaların maksimum yüksekliğini de belirleyen sınırdır. İsteyenlerin, yalnızca pasaportlarını göstererek girebilecekleri Amerikan Kongre Binası'nın koridorlarında gezinmek, kişinin kendini kısa bir Amerika turu yapmış gibi hissetmesine yetiyor.

**Bu parçada Capitol'le ilgili olarak aşağıdakilerden hangisine değinilmemiştir?**

- A) Aynı işlevdeki öteki yapılarla ortak yönüne
- B) Çevresinde farklı etkinlikler gerçekleştirildiğine
- C) Gezenlerde, ülkenin tümünü görmüş izlenimi uyandırdığına
- D) Yakınında bulunan çeşitli yapılara
- E) Günlük ziyaretçi sayısının sınırlı tutulduğuna

26. Başkalarıyla iletişimimizin başlamasını sağlayan selamlaşma, barış, esenleme, kötülükten uzak olma anlamına gelir. Selamın İbranicesi şalom, Latincesi salve, Fransızcası salut, İngilizcesi salute, İspanyolcası saludodur. Endonezya ve Malezya'da selama, selamat denir. Değişik dillerdeki selam sözcüğünün birbirlerine nasıl benzediğine dikkat ettiniz mi? Bir tanıdıkla karşılaştığınızda, bir yere girdiğinizde ilk işiniz, selam vermek olsun. Sizi selamladıklarında mutlaka karşılık verin, size verilen selamı alın. Böylece, gönderilen barış, esenlik dilekleriyle iyi bir iletişimin oluşmasını sağlamış olursunuz.

**Bu parçada selamlaşmayla ilgili olarak aşağıdakilerden hangisine yer verilmemiştir?**

- A) Fiziksel hareketlerle desteklendiğine
- B) İki ya da daha çok kişi arasında yapıldığına
- C) İletişim kurmanın ilk adımı olduğuna
- D) Anlamıyla ilgili açıklamaya
- E) Kullanılan sözcükler arasında bazı sessel benzerlikler bulunduğuna

27. İkbal çiçeğinin bilimsel adı "sedum"dur. Bu ad, Latince "oturmak, dinlenmek" anlamına gelen "sedere" fiilinden gelmektedir. Çünkü bu çiçekler blok taşlar arasında, kaya yarıklarında oturmuş ya da yatmış durumda görünürler. Çeşitli türleri vardır. Haziran başında yaklaşık 70 cm boyundaki bir sürgünün ucunda, yıldız biçiminde beyaz-sarı karışımı çiçekler açar. İkbal çiçeğinin kırılan sürgünü bir dilek tutularak eve asıldığında bitki kurumaz da çiçek açarsa dileğin yerine geleceğine inanılmıştır. Bu yüzden bitkinin, dilek çiçeği, ömür çiçeği, baht çiçeği gibi başka adları da vardır.

**Bu parçada ikbal çiçeğiyle ilgili olarak aşağıdakilerden hangisine değilmiştir?**

- A) Bilim dünyasında tanındığına
- B) Bakımının zor olduğuna
- C) Görünümünün nasıl olduğuna
- D) Bir inanca bağlı olarak çeşitli adlar aldığına
- E) Nerede yetiştiğine

28. Yataktan derhâl kalkıp giyindim. Çantamı kaptım, sokağa fırladım. Ortalıkta zaman zaman esen rüzgârın kaldırdığı tozlardan başka bir hareket yoktu. Bir eskici, örsünün üstünde uyukluyor, yan sokakların birinde iki çocuk oynuyordu. Bursa'ya gidecek otobüslerin gelmesine daha bir saatten fazla zaman vardı. Oysa ben, ruhu olmayan bu kasabadan kaçmak için can atıyordum.

**Bu parça için aşağıdakilerden hangisi söylenemez?**

- A) Konuşan kişinin acelesinin olduğu
- B) Kasabadaki ortamın bir doğa olayına bağlanarak yansıtıldığı
- C) Kasabalıların geçim kaynaklarıyla ilgili bilgi verildiği
- D) Kasabanın yazarda olumsuz izlenimler uyandırdığı
- E) "Ruhu olmayan kasaba", "kaçmak için can atmak" sözlerinin, konuşanın duygularını belirginleştirdiği

29. Annem saçlarını usul usul tarayıp örerken serçeler, kumrular terastaki çiçeklerin arasında gezinerek bir gün önce ıslanmış ekmekleri yemeye çalışırlardı. Bu arada her gün söyledikleri şarkılarıyla annemle beni selamlarlardı. Kırlangıç yavruları balkonun iç duvarındaki yuvada, sonuna kadar açık gagalarıyla her an beslenmeye hazır bir durumda beklerlerdi. Az sonra anneleri gelir, yavrularını sevindirirdi. Açık olan kapımızdan odaya portakal çiçeği kokusuyla sabah serinliği de dolardı.

**Bu parçayla ilgili olarak aşağıdakilerden hangisi söylenemez?**

- A) Olayların, oluş sırasına göre verildiği
- B) Doğaya ilişkin ayrıntılara değinildiği
- C) Kuşların çıkardıkları seslere ilişkin bir yorum yapıldığı
- D) Kırlangıç yavrularının öteki kuş yavrularından farklarının anlatıldığı
- E) Kuşların beslenmesiyle ilgili bilgi verildiği

30. Buraları daha önce görmüş olan bir arkadaşımızın önerisiyle, başlık bahçelik bir alana geldik. Oradaki görevliler bizi coşkuyla karşıladılar. Hep birlikte ulu ceviz ağaçlarından birinin dibine oturduk. Hemen yanımızda incecik akan dereciğin şırıltılarını işittikçe, çevremizde oynayan çocukların mutluluğunu gördükçe, bahçede oturanların kahkahalarını işittikçe daha bir sevdik burasını. "Yine gelelim buraya." diyerek yerine getiremeyeceğimiz sözler verdik birbirimize.

**Bu parçada sözü edilen kişilerle ilgili olarak aşağıdakilerden hangisi söylenemez?**

- A) Beğenilerini dolaylı olarak dile getirdikleri
- B) Başkasının yönlendirmesiyle bir yere gittikleri
- C) Görevlilerin karşılama biçimlerinden hoşlandıkları
- D) Dinlenme sırasında görüp işittiklerinden etkilendikleri
- E) Önceden edindikleri olumsuz kanılarını değiştirdikleri

31.  $\left(\frac{1}{2} \cdot \frac{4}{3}\right) + \left(\frac{5}{6} : \frac{1}{2}\right)$

**işleminin sonucu kaçtır?**

- A)  $\frac{6}{7}$
- B)  $\frac{7}{6}$
- C)  $\frac{11}{6}$
- D)  $\frac{7}{3}$
- E) 1

$$32. \frac{\sqrt{0,32} + \sqrt{0,72}}{\sqrt{0,5}}$$

işleminin sonucu kaçtır?

- A) 2      B) 3      C) 4      D) 5      E) 6

$$33. \frac{x}{0,44} = \frac{0,25}{2,2}$$

olduğuna göre, x kaçtır?

- A) 0,005      B) 0,05      C) 0,5  
D) 5      E) 50

34. Üç basamaklı iki doğal sayının toplamı 1149, farkı ise 637'dir.

**Bu sayılardan büyük olanın rakamları toplamı kaçtır?**

- A) 20      B) 19      C) 18      D) 17      E) 16

$$35. 2 + \frac{9}{2 + \frac{x-1}{3}} = 5$$

olduğuna göre, x kaçtır?

- A) 2      B) 3      C) 4      D) 5      E) 6

$$36. 3x = 5y$$

$$\frac{1}{x} + \frac{1}{y} = \frac{1}{15}$$

olduğuna göre, x kaçtır?

- A) 20      B) 25      C) 30      D) 35      E) 40

37. a, b, c pozitif birer sayı ve

$$2a = 3b$$

$$a + c = 5b$$

olduğuna göre,  $\frac{a+b+c}{c}$  ifadesinin değeri kaçtır?

- A)  $\frac{12}{7}$       B)  $\frac{10}{7}$       C)  $\frac{11}{5}$   
D)  $\frac{9}{5}$       E)  $\frac{15}{4}$

38.  $\frac{x}{y} = \frac{5}{6}$   
 $\frac{y}{z} = \frac{3}{4}$

olduğuna göre,  $\frac{x}{5} = \frac{z}{m}$  orantısındaki m sayısı kaçtır?

- A) 4      B) 6      C) 8      D) 10      E) 12

39. Bir pozitif sayının 2 fazlasının karesi ile kendisinin karesi arasındaki fark, sayının 5 katının 2 eksiğine eşittir.

Bu sayı kaçtır?

- A) 3      B) 4      C) 5      D) 6      E) 7

40.  $a < b$  koşulunu sağlayan a ve b ardışık tek sayıları için

$$a = n + 3$$

$$b = 2n - 5$$

olduğuna göre, a + b toplamı kaçtır?

- A) 28      B) 30      C) 32      D) 34      E) 36

41. x, y, z gerçel sayılar ve

$$5^x = 2^y$$

$$20^x = 2^z$$

olduğuna göre, z'nin x ve y türünden eşiti aşağıdakilerden hangisidir?

- A) x + y      B) 2x + y      C) x - 2y  
D) 2x - y      E) x - y

42. a ve b pozitif tam sayılar ve

$$7a + 9b = 336$$

olduğuna göre, b'nin alabileceği en büyük değer kaçtır?

- A) 24      B) 28      C) 30      D) 33      E) 35

43.

+	a	b	c
a			9
b	8		
c		7	

Yukarıdaki toplama tablosuna göre, a + b + c toplamı kaçtır?

- A) 11      B) 12      C) 13      D) 14      E) 15

44. a, b, c pozitif tam sayıları için

$$a \cdot b = 18$$

$$b \cdot c = 60$$

$$a \cdot c = 30$$

olduğuna göre,  $a + b + c$  toplamı kaçtır?

- A) 15      B) 16      C) 19      D) 21      E) 22

45.  $\left(\frac{a}{b} - \frac{b}{a}\right) : \left(\frac{1}{b} - \frac{1}{a}\right)$

işleminin sonucu aşağıdakilerden hangisidir?

- A)  $a - b$       B)  $a + b$       C)  $a$   
D)  $b$       E)  $2a$

46.  $|x - 1| \leq 2$   
 $y \geq 8$

olduğuna göre,  $x + y$ 'nin en küçük değeri kaçtır?

- A) 11      B) 9      C) 8      D) 7      E) 6

47. a, b, c pozitif tam sayılar ve

$$\frac{1}{c} < \frac{1}{a} < \frac{1}{b}$$

olduğuna göre,  $|c - a| - |a - c| + |b - a|$  işleminin değeri aşağıdakilerden hangisidir?

- A)  $b - a$       B)  $a - b$       C)  $b - c$   
D)  $c - a$       E)  $c - b$

48. Bir kitap dağıtım şirketi, deposundaki romanları on beşer, yirmi beşer ve otuz beşer adet olarak paketlenmiş her seferinde 9 tanesi açıkta kalıyor.

Bu şirketin deposunda en az kaç roman vardır?

- A) 520      B) 530      C) 534      D) 538      E) 542

49. Arda, Burak, Cem ve Deniz dört kişilik bir bankta oturmaktadır. Cem, Deniz'in hemen sağında, Burak ise bankın uçlarının birinde oturmaktadır.

Buna göre, Arda, Burak, Cem ve Deniz bu banka kaç farklı şekilde oturabilir?

- A) 8      B) 7      C) 6      D) 5      E) 4

50. Bir musluk hacmi  $v$  litre olan boş bir su deposuna bir dakikada  $x$  litre su akıtmaktadır.

**Depo boşken musluk 4 dakika açık bırakılırsa deponun boş kalan kısmının hacmi kaç litre olur?**

- A)  $v - 4x$       B)  $v - 2x$       C)  $v - x$   
 D)  $v - \frac{x}{2}$       E)  $v - \frac{x}{4}$

51. A ve B gruplarının sahne aldığı bir konsere giden 2000 seyirciden 1800'ü A grubunu, 700'ü de B grubunu dinlemiştir.

**Buna göre, her iki grubu da dinleyen kaç seyirci vardır?**

- A) 300      B) 400      C) 450      D) 500      E) 600

52. Bir işi Ahmet ile Barış birlikte 15 günde bitirebiliyor. İşe başlamalarından 9 gün sonra Ahmet işi bırakıyor.

**Geriye kalan işi Barış 16 günde bitirdiğine göre, Ahmet tüm işi tek başına kaç günde bitirebilir?**

- A) 18      B) 20      C) 24      D) 28      E) 30

53. Aşağıdaki tabloda, bir futbol takımındaki oyuncuların yaşlara göre dağılımı verilmiştir.

oyuncu sayısı	2	3	4	4	5
oyuncu yaşı	21	24	25	26	30

**Bu takımdaki oyuncuların yaş ortalaması kaçtır?**

- A) 24      B) 25      C) 26      D) 27      E) 28

54. Bir araç 450 km'lik yolu saatte 100 km hızla gidiyor ve hiç beklemeden aynı yoldan saatte 90 km hızla geri dönüyor.

**Bu aracın yolculuğu toplam kaç saat sürmüştür?**

- A) 8,5      B) 9,5      C) 10      D) 10,5      E) 11

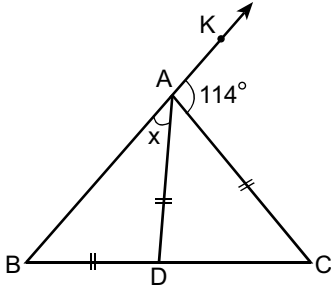
55. 2816 TL borcu olan Derya her ay, kalan borcunun  $\frac{1}{4}$ 'ünü ödüyor.

**Derya'nın 2. ayın sonunda kalan borcu kaç TL'dir?**

- A) 1764      B) 1720      C) 1682      D) 1602      E) 1584



56.

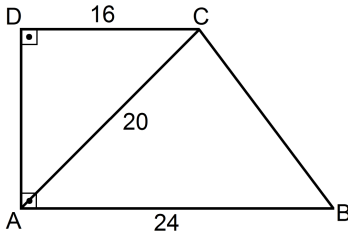


ABC bir üçgen  
 $K \in [BA$   
 $|AD| = |AC| = |BD|$   
 $m(\widehat{KAC}) = 114^\circ$   
 $m(\widehat{DAB}) = x$

Yukarıdaki verilere göre,  $x$  kaç derecedir?

- A) 30    B) 33    C) 35    D) 38    E) 41

57.



ABCD bir dik  
yamuk  
 $|AB| = 24$  cm  
 $|AC| = 20$  cm  
 $|DC| = 16$  cm

Yukarıdaki verilere göre, ABCD dik yamuğunun alanı kaç  $\text{cm}^2$  dir?

- A) 214    B) 216    C) 224    D) 232    E) 240

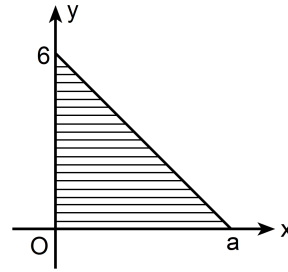
58.

Tabanı kare olan bir dik prizmanın yanal alanı  $192 \text{ cm}^2$ , hacmi  $288 \text{ cm}^3$  tür.

Bu prizmanın yüksekliği kaç cm'dir?

- A) 3    B) 4    C) 5    D) 7    E) 8

59.

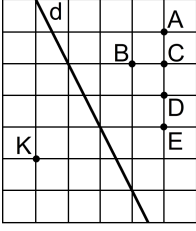


Şekildeki taralı bölgenin Ox ekseni etrafında döndürülmesi ile oluşan koninin hacmi  $48\pi \text{ cm}^3$  tür.

Buna göre,  $a$  kaçtır?

- A) 3    B) 4    C) 5    D) 6    E) 7

60.



Şekildeki K noktasının d doğrusuna göre simetriği hangi noktadır?

- A) A    B) B    C) C    D) D    E) E

## 61. Türk tarihinde yer alan,

- I. Hun,
- II. Göktürk,
- III. Uygur

devletlerinden hangileri kendi adlarıyla bir alfabe oluşturmuştur?

- A) Yalnız I      B) Yalnız II      C) Yalnız III  
D) II ve III      E) I, II ve III

## 62. Aşağıdakilerden hangisi, Anadolu Selçukluları ve Beylikler Döneminde hastaların tedavi edildiği yere verilen addır?

- A) Darüşşifa
- B) İmaret
- C) Medrese
- D) Türbe
- E) Kümbet

63. Aşağıdakilerden hangisi Osmanlı Devleti'nde başkent olan şehirlerden biri değildir?

- A) İstanbul
- B) Konya
- C) Bursa
- D) Edirne
- E) İznik

## 64. Tanzimat Döneminde,

- I. Divanîhümayundan Bakanlıklar düzenine geçilmesi,
- II. eyalet sisteminden vilayetlere geçilmesi,
- III. medrese dışında yeni eğitim kurumlarının açılması

durumlarından hangilerinin, uygulamada ikilik yarattığı savunulabilir?

- A) Yalnız I      B) Yalnız II      C) Yalnız III  
D) I ve II      E) II ve III

## 65.

- I. Osmanlı'nın Batı'daki gelişmelerin gerisinde kalması
- II. Avrupa devletlerinin Osmanlı Devleti'nin iç işlerine karışarak ulusçuluk akımını desteklemesi
- III. Osmanlı ülkesinin Avrupa'nın açık pazarı durumuna gelmesi

Yukarıdakilerden hangileri Osmanlı Devleti'nin çöküşünde etkili olmuştur?

- A) Yalnız I      B) Yalnız II      C) Yalnız III  
D) I ve II      E) I, II ve III

66. Birinci Dünya Savaşı ve sonrasında birçok devlet ya yıkılmış ya da rejim değişikliğine uğramıştır.

**Aşağıdakilerden hangisi bu devletlerden biri değildir?**

- A) Fransa
- B) Almanya
- C) Osmanlı
- D) Çarlık Rusyası
- E) Avusturya-Macaristan

67. Aşağıdaki ayaklanmalardan hangisi İstanbul Hükümeti tarafından çıkarılmıştır?

- A) Millî Aşireti
- B) Demirci Mehmet Efe
- C) Koçkiri
- D) Çerkez Ethem
- E) Kuvayi İnzibatiye

68. Aşağıdaki kongrelerden hangisinin toplanmasının gerektiği Amasya Genelgesi'nde belirtilmiştir?

- |              |             |
|--------------|-------------|
| A) Balıkesir | B) Erzurum  |
| C) Sivas     | D) Alaşehir |
| E) Edirne    |             |

69. 20 Ocak 1921'de TBMM'de kabul edilen Anayasa'da yer alan aşağıdaki maddelerden hangisi padişahın yetkilerinin yok sayılmasıyla ilgili değildir?

- A) Kanun yapma ve kanunları yürütme gücü Mecliste toplanmıştır.
- B) Türkiye Devleti, TBMM tarafından idare edilir ve hükümeti "TBMM Hükümeti" adını alır.
- C) Barış antlaşmaları yapmak ve savaş kararı almak yetkisi TBMM'ye aittir.
- D) TBMM üyeleri 2 yılda bir seçilir.
- E) Hakimiyet kayıtsız şartsız milletindir. İdare usulü halkın kendi kendini yönetmesine dayanır.

70. Londra Konferansı'nın sonuç vermemesi üzerine, Sevr projesini gerçekleştirmek için Anlaşma Devletlerinin yeni kararlar alması ve bu amaçla Yunan ordusunun harekete geçmesi aşağıdaki savaşlardan hangisine neden olmuştur?

- A) Birinci İnönü
- B) İkinci İnönü
- C) Sakarya
- D) Başkomutan
- E) Gebze

71. Sevr Antlaşması'nın bazı hükümlerini fiilen geçersiz kılan TBMM Hükümetince imzalanan ilk antlaşma aşağıdakilerden hangisidir?

- A) Gümrü  
B) Moskova  
C) Kars  
D) Ankara  
E) Lozan

72. Milletvekillerinin hükümet üyelerini tek tek seçmesi hükümet oluşturma sürecini zorlaştırmıştır.

**Aşağıdaki gelişmelerden hangisiyle bu durum ortadan kaldırılmıştır?**

- A) Halifeliğin kaldırılmasıyla  
B) Teşkilat-ı Esasiye Kanunu'nun kabul edilmesiyle  
C) Saltanatın kaldırılmasıyla  
D) Cumhuriyet'in ilanı için yapılan yasa değişikliğiyle  
E) Türkiye İktisat Kongresi'nin toplanmasıyla

73. Aşağıdakilerden hangisinin Batı ile ilişkileri kolaylaştırdığı savunulamaz?

- A) Miladi takvimin kabulü  
B) Saat sisteminin değiştirilmesi  
C) Ekonomide devletçilik ilkesinin benimsenmesi  
D) Hafta sonunun cumadan pazara alınması  
E) Ağırlık ve uzunluk ölçü birimlerinin değiştirilmesi

74. Şeyh Said İsyanı aşağıdakilerden hangisine ortam hazırlamamıştır?

- A) Hükümet değişikliğine  
B) Hatay Cumhuriyeti'nin kurulmasına  
C) Bölgesel seferberlik ilan edilmesine  
D) Takrir-i Sükûn Kanunu'nun çıkarılmasına  
E) İstiklal Mahkemelerinin kurulmasına

75.

- I. Tekke ve zaviyelerin kapatılması  
II. Kabotaj hakkının Türk denizciliğine geçmesi  
III. Sanayi kuruluşlarının teşvik edilmesi

**Yukarıdaki gelişmelerden hangileri ticari yaşamın düzenlenmesiyle ilgilidir?**

- A) Yalnız I  
B) Yalnız II  
C) Yalnız III  
D) I ve II  
E) II ve III

76.

- I. Nüfus Mübadelesi
- II. Yabancı okullar
- III. Hatay

**Yukarıdaki sorunlardan hangileri Atatürk Döneminde kesin olarak çözümlenmiştir?**

- A) Yalnız I      B) Yalnız II      C) I ve II  
D) II ve III      E) I, II ve III

77. Atatürk, "Büyük devletler kuran atalarımız, büyük ve kapsamlı uygarlıklara da sahip olmuştur. Bunu aramak, incelemek, Türklüğe ve dünyaya bildirmek bizler için bir borçtur." demiştir.

**Aşağıdakilerden hangisinin, Atatürk'ün bu sözündeki borcun ödenmesi yönünde bir çalışma olduğu söylenemez?**

- A) Türk Tarih Kurumunun açılması
- B) Maden Tetkik Arama Enstitüsünün kurulması
- C) Türk Dil Kurumunun açılması
- D) Dil ve Tarih-Coğrafya Fakültesinin açılması
- E) İstanbul Üniversitesinin kurulması

78. Hiçbir kişi veya zümreye ayrıcalık tanınmaması aşağıdaki Atatürk ilkelerinden hangisinin doğrudan bir gereğidir?

- A) Milliyetçilik
- B) İnkılapçılık
- C) Laiklik
- D) Devletçilik
- E) Halkçılık

79. Atatürk, "Uluslararası siyasi güven ortamının gelişimi için ilk ve önemli şart, milletlerin hiç olmazsa barışı koruma fikrinde samimi olarak birleşmeleridir." demiştir.

**Atatürk'ün, bu sözüyle**

- I. ulusların birbirlerine karşı ön yargısız davranmaları,
- II. uluslararası barış ittifaklarının desteklenmesi,
- III. ulusların resmî dillerini korumaya özen göstermeleri

**durumlarından hangilerinin önemini vurguladığı savunulabilir?**

- A) Yalnız I      B) Yalnız II      C) Yalnız III  
D) I ve II      E) II ve III

80. Aşağıdakilerden hangisi, günümüzde Türkiye ile Yunanistan arasında sorun olan konulardan biri değildir?

- A) Ege adalarının silahlandırılması
- B) Savaş tazminatı
- C) Kıta sahanlığı
- D) Hava sahası
- E) Kıbrıs

81. Türkiye'nin Akdeniz kıyılarında, kış aylarında güneyden esen rüzgârların sıcaklığı artırması,

- I. bakı,
- II. enlem,
- III. yer şekilleri,
- IV. denizellik

özelliklerinin hangileriyle açıklanabilir?

- A) Yalnız I
- B) Yalnız II
- C) I ve III
- D) II ve IV
- E) III ve IV

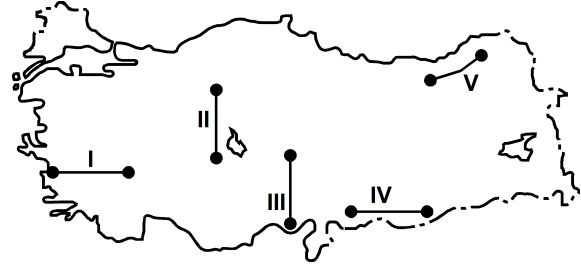
82. Aşağıdakilerin hangisinde iç kuvvetlerin etkisi vardır?

- A) Nemrut Kalderası'nın oluşması
- B) Antalya falezlerinin oluşması
- C) Büyük Çekmece Gölü'nün oluşması
- D) Bafra Deltası'nın oluşması
- E) İztuzu Kumsalı'nın oluşması

83. Türkiye'deki iklim ve ana kaya çeşitliliği, aşağıdaki toprak türlerinden hangisinin oluşmasında etkili değildir?

- A) Çernezyom
- B) Alüvyal
- C) Vertisol
- D) Terra rossa
- E) Kahverengi bozkır

84.



Yukarıdaki haritada gösterilen doğrultuların hangisinde, yükselti farkına bağlı olarak daha fazla bitki katının görülmesi beklenir?

- A) I
- B) II
- C) III
- D) IV
- E) V

85. Karadeniz Bölgesi'nin kıyısında yer alan kentler aşağıdakilerin hangisi bakımından en az benzerlik gösterir?

- A) Balıkçılığın, geçim kaynaklarından biri olması
- B) Yıllık yağış tutarının 1000 mm'den fazla olması
- C) Deniz turizmi süresinin kısa olması
- D) Güneş ışınlarının yıl boyunca dik düşmemesi
- E) Kıyılarda girinti ve çıkıntının az olması

86. Bir yerin ekonomik özellikleri ve topoğrafik yapısı, o yerdeki sürekli yerleşmelerin çıkabileceği yükselti sınırını belirlemektedir.

**Buna göre, aşağıdaki illerin hangisinde yerleşme üst sınırı diğerlerinden daha yüksektir?**

- A) Bayburt
- B) Muğla
- C) Erzurum
- D) Iğdır
- E) Tekirdağ

87. Türkiye'de nadasa bırakılan tarım alanlarının azaltılması için

- I. aşılama,
- II. gübreleme,
- III. pazarlama,
- IV. sulama

**çalışmalarından hangilerinin yapılması gerekir?**

- A) I ve II
- B) I ve III
- C) II ve III
- D) II ve IV
- E) III ve IV

88. Doğu Karadeniz kıyılarında çay ve kivi gibi ürünlerin üretiminde son yıllarda artış görülmektedir.

**Aşağıdakilerden hangisi bu durumun nedenleri arasında gösterilemez?**

- A) Tüketiminin artmasına paralel olarak ticari değerinin artması
- B) Ülke nüfusunun artmasına bağlı olarak tüketiminin artması
- C) Gıda endüstrisinde kullanım alanının genişlemesi
- D) Pazarlama olanaklarının artmasıyla birlikte, daha geniş tüketici kitlesine ulaşılması
- E) Yeni barajların yapılmasına bağlı olarak sulama olanaklarının artması



89.

- I. Bozkır – Koyun yetiştiriciliği ve buğday tarımı
- II. Maki – Keçi yetiştiriciliği ve seracılık
- III. Orman – Sığır yetiştiriciliği ve buğday tarımı
- IV. Dağ çayırı – Koyun yetiştiriciliği ve sebze tarımı

**Yukarıdakilerin hangilerinde Türkiye’de görülen doğal bitki örtüsü, o yörelerde yürütülen hayvancılık türü ve tarımsal etkinlik doğru olarak verilmiştir?**

- A) I ve II                      B) I ve III                      C) II ve III  
D) II ve IV                      E) III ve IV

**90. Aşağıdaki endüstri kuruluşlarından hangisinin yeri belirlenirken ham maddeye yakınlık göz önüne alınmıştır?**

- A) Bozüyük'teki seramik endüstrisi
- B) Adapazarı'ndaki otomotiv endüstrisi
- C) İstanbul'daki dokuma endüstrisi
- D) İzmit'teki petro-kimya endüstrisi
- E) Ankara'daki elektronik endüstrisi

**91. Aşağıdakilerden hangisi Türkiye’de jeotermal kaynakların kullanımıyla ilgili bir örnek değildir?**

- A) Buhar enerjisiyle elektrik üretilmesi
- B) Fay kaynaklarından gelen sularla kaplıca turizmine yönelik tesislerin yapılması
- C) Buhar enerjisiyle konutların ısıtılması
- D) Gayzerlerden elektrik enerjisi elde edilmesi
- E) Sıcak su ve su buharı ile seraların ısıtılması

**92. Din ve kültür yapıları farklı olan bir grup için Türkiye’deki kutsal yerleri ziyaret etmek amacıyla tur düzenlenmiştir.**

**Buna göre aşağıdakilerin hangisinde verilen yerlere gidilmesi bu etkinlik için uygun değildir?**

- A) Kapadokya ve Sümela
- B) Meryem Ana ve Mevlana
- C) Ayasofya ve Akdamar
- D) Hacı Bektaş ve Deyrû-z Zafaran
- E) Aspendos ve Truva

**93. 1982 Anayasası’na göre, Millî Güvenlik Kurulu olağan olarak aşağıdakilerden hangisinin başkanlığında toplanır?**

- A) Cumhurbaşkanı                      B) Başbakan
- C) Genelkurmay Başkanı                      D) Millî Savunma Bakanı
- E) İçişleri Bakanı

94. 1982 Anayasası'na göre, Anayasa Mahkemesinde siyasi parti kapatma davasını aşağıdakilerden hangisi açabilir?

- A) İl Cumhuriyet başsavcısı
- B) Yargıtay Cumhuriyet Başsavcısı
- C) Ana muhalefet partisi meclis grubu
- D) Dışişleri Bakanı
- E) İçişleri Bakanı

95. 1982 Anayasası'na göre, olağan kanun hükmünde kararname çıkarma yetkisi aşağıdakilerden hangisine aittir?

- A) Başbakan
- B) İçişleri Bakanı
- C) İktidar partisi
- D) Bakanlar Kurulu
- E) Cumhurbaşkanı

96. 1982 Anayasası'na göre, Başbakan olabilmek için aşağıdakilerden hangisi zorunludur?

- A) Seçimlerde en çok oyu almış siyasi parti üyesi olmak
- B) Bir siyasi partiye üye olmak
- C) Milletvekili olmak
- D) Daha önce Başbakanlık yapmamış olmak
- E) Daha önce Cumhurbaşkanlığı yapmamış olmak

97. 1982 Anayasası'na göre, seçimler aşağıdakilerden hangisinin genel yönetim ve denetimi altında yapılır?

- A) Cumhurbaşkanı
- B) Başbakan
- C) TBMM
- D) Yargı organları
- E) Yürütme organı

98. 1982 Anayasası'na göre Cumhurbaşkanı, vatana ihanetten dolayı aşağıdakilerden hangisi tarafından yargılanabilir?

- A) Ağır ceza mahkemesi
- B) Asliye ceza mahkemesi
- C) Yargıtay
- D) Danıştay
- E) Anayasa Mahkemesi

99. 1982 Anayasası'na göre, aşağıdakilerden hangisi milletvekili seçilebilmek için aranan şartlardan biri değildir?

- A) Türk vatandaşı olmak
- B) Askerlik hizmetini yapmış olmak
- C) 25 yaşını doldurmak
- D) En az ilkokul mezunu olmak
- E) Kamu görevlisi olmak

100.

- I. Olağanüstü hâl
- II. Sıkıyönetim
- III. Seferberlik
- IV. Savaş

**1982 Anayasası'na göre, yukarıdakilerden hangilerinde TBMM seçimleri geriye bırakılabilir?**

- A) Yalnız I      B) Yalnız IV      C) I ve II  
D) I, II ve III      E) I, II, III ve IV

ADI SOYADI: MASTER KOPYA

ANAHTAR NUMARASI

SALONNO: 000000000

0

KİTAPÇIK KODU

SALON SIRA NO: 001

## TEST 1

SORU SIRA	CEVAP
1	B
2	E
3	D
4	A
5	C
6	A
7	D
8	A
9	C
10	E
11	E
12	B
13	A
14	D
15	C
16	D
17	E
18	A
19	B
20	D
21	B
22	C
23	B
24	D
25	E
26	A
27	B
28	C
29	D
30	E
31	D
32	A
33	B
34	A
35	C
36	E
37	A
38	C
39	D
40	A
41	B
42	E
43	B
44	C
45	B
46	D
47	B
48	C
49	E
50	A
51	D
52	C
53	C

54	B
55	E
56	D
57	E
58	E
59	B
60	D
61	D
62	A
63	B
64	C
65	E
66	A
67	E
68	C
69	D
70	B
71	A
72	D
73	C
74	B
75	E
76	C
77	B
78	E
79	D
80	B
81	D
82	A
83	B
84	C
85	B
86	C
87	D
88	E
89	A
90	A
91	D
92	E
93	A
94	B
95	D
96	C
97	D
98	E
99	E
100	B