



**JANDARMA OKULLAR KOMUTANLIĞI JANDARMA ASTSUBAY TEMEL  
KURSU GİRİŞ SINAVI (JANA)**

**16 Nisan 2011**



	ADI :
	SOYADI :
	T.C. KİMLİK NUMARASI :
	SINAV SALON NUMARASI :
	SALON SIRA NUMARASI :

**SORU KİTAPÇIĞI NUMARASI**

**00000.00000**

**Bu numarayı cevap kağıdınızdaki ilgili alana kodlamayı unutmayınız.**

**DİKKAT!**

**SINAV BAŞLAMADAN ÖNCE AŞAĞIDAKİ UYARILARI MUTLAKA OKUYUNUZ.**

1. Adınız, soyadınız, T.C. Kimlik Numaranız ve sınav salon numaranız yukarıdakilerden farklı ve kitapçık üzerine basılı olan fotoğraf size ait değilse bunu salon başkanına belirterek size ait soru kitapçığının verilmesini sağlayınız.
2. Soru kitapçığı numaranız yukarıda verilmiştir. Bu numarayı cevap kâğıdınızdaki ilgili alana kodlayınız. Bu kodlamayı cevap kâğıdınıza yapmadığınız veya yanlış yaptığınızda cevap kâğıdınız değerlendirilemez.
3. Bu sayfanın arkasında yer alan açıklamayı dikkatle okuyunuz.

## AÇIKLAMA

1. Bu test için verilen cevaplama süresi **120 dakikadır (2 saat)**.
2. Cevaplamaya istediğiniz sorudan başlayabilirsiniz.
3. Testteki her sorunun sadece bir doğru cevabı vardır. Bir soru için birden çok cevap yeri işaretlenmişse o soru yanlış cevaplanmış sayılacaktır.
4. Bu kitapçıkta soruların cevapları, kitapçıkla birlikte verilen cevap kâğıdında ayrılmış olan yerlere, kurşun kalemle işaretlenecektir. Cevap kâğıdı buruşturulmayacak, üzerine gereksiz hiçbir işaret konulmayacaktır.
5. Değiştirmek istediğiniz bir cevabı, yumuşak bir silgiyle, cevap kâğıdını örselemeden, temizce siliniz ve yeni cevabınızı işaretlemeyi unutmayınız.
6. Test puanlanırken her bölümdeki doğru cevaplarınızın sayısından yanlış cevaplarınızın sayısının dörtte biri düşülecek ve kalan sayı o testle ilgili ham puanınız olacaktır. Bu nedenle bir soru hakkında hiçbir fikriniz yoksa o soruyu boş bırakınız. Ancak, soruda verilen seçeneklerden bir kaçını eleyebiliyorsanız kalanlar arasında doğru cevabı kestirmeniz yararınıza olabilir.
7. Sınavda uyulacak diğer kurallar bu kitapçığın arka kapağında belirtilmiştir.



## SINAVDA UYULACAK KURALLAR

- 1. Cep telefonu ile sınava girmek kesinlikle yasaktır.** Çağrı cihazı, telsiz, fotoğraf makinesi vb. araçlarla; cep bilgisayar, saat, her türlü bilgisayar özelliği bulunan cihazlarla; silah ve benzeri teçhizatla; müsvedde kâğıdı, defter, kitap, sözlük, sözlük işlevi olan elektronik aygıt, hesap cetveli, hesap makinesi, pergel, açıölçer, cetvel vb. araçlarla sınava girmek kesinlikle yasaktır. Bu araçlarla sınava girmiş adaylar mutlaka Salon Sınav Tutanağına yazılacak, bu adayların sınavı geçersiz sayılacaktır. **Sınava kalem, silgi, kalemıraş, saat vb. araçla ve kulaklık, küpe, broş vb. takı, herhangi bir metal eşyayla girmek de kesinlikle yasaktır. Yiyecek, içecek vb. tüketim malzemeleri de sınava getirilemez. Adaylar sınava şeffaf şişe içerisinde su getirebileceklerdir.**
- 2. Bu sınavda verilen toplam cevaplama süresi 120 dakikadır.** Sınav başladıktan sonra **ilk 90** ve **son 15** dakika içinde adayın sınavdan çıkmasına kesinlikle izin verilmeyecektir.
- 3. Sınav evrakını teslim ederek salonu terk eden aday, her ne sebeple olursa olsun, tekrar sınava alınmayacaktır.**
- 4. Sınav süresince görevlilerle konuşmak, görevlilere soru sormak yasaktır.** Aynı şekilde görevlilerin de adaylarla yakından ve alçak sesle konuşmaları ayrıca, adayların birbirinden kalem, silgi vb. şeyleri istemeleri kesinlikle yasaktır.
- 5. Sınav sırasında, görevlilerin her türlü uyarılarına uymak zorundasınız.** Sınavınızın geçerli sayılması, her şeyden önce, sınav kurallarına uymanıza bağlıdır. Kurallara aykırı davranışta bulunanların ve yapılacak uyarılara uymayanların kimlik bilgileri Salon Sınav Tutanağına yazılacak ve sınavları geçersiz sayılacaktır.
- 6. Sınav sırasında kopya çeken, çekmeye kalkışan, kopya veren, kopya çekilmesine yardım edenlerin kimlik bilgileri Salon Sınav Tutanağına yazılacak ve bu adayların sınavları geçersiz sayılacaktır.** Görevliler kopya çekmeye ya da vermeye kalkışanları uyarmak zorunda değildir; sorumluluk size aittir.  
Adayların test sorularına verdikleri cevapların dağılımları bilgi işlem yöntemleriyle incelenecek, bu incelemelerden elde edilen bulgular bireysel ya da toplu olarak kopya çekildiğini gösterirse kopya eylemine katılan adayın/adayların cevaplarının bir kısmı ya da tamamı iptal edilecektir.  
Sınav görevlileri bir salondaki sınavın, kurallara uygun biçimde yapılmadığını, toplu kopya girişiminde bulunulduğunu raporlarında bildirdiği takdirde, ÖSYM takdir hakkını kullanarak bu salonda sınava giren tüm adayların sınavını geçersiz sayabilir.
- 7. Cevap kâğıdında doldurmanız gereken alanlar bulunmaktadır.** Bu alanları doldurunuz. Cevap kâğıdınızı başkaları tarafından görülmeyecek şekilde tutmanız gerekmektedir. Cevap kâğıdına yazılacak her türlü yazıda ve yapılacak bütün işaretlemelerde kurşun kalem kullanılacaktır. Sınav süresi bittiğinde cevapların cevap kâğıdına işaretlenmiş olması gerekir. Soru kitapçığına işaretlenen cevaplar geçerli değildir.
- 8. Soru kitapçığınızı alır almaz, sayfaların eksik olup olmadığını, kitapçıkta basım hatalarının bulunup bulunmadığını ve soru kitapçığının her sayfasında basılı bulunan soru kitapçığı numarasının, kitapçığın ön kapağında basılı soru kitapçığı numarasıyla aynı olup olmadığını kontrol ediniz.** Soru kitapçığının sayfası eksik ya da basımı hatalıysa değiştirilmesi için salon başkanına başvurunuz.
- 9. Size verilen soru kitapçığının numarasını cevap kâğıdınızdaki "Soru Kitapçığı Numarası" alanına kodlayınız.**
- 10. Sınav sonunda soru kitapçıkları toplanacak ve ÖSYM'de tek tek incelenecektir.** Soru kitapçığının bir sayfası bile eksik çıkarsa sınavınız geçersiz sayılacaktır.
- 11. Cevap kâğıdına yazılması ve işaretlenmesi gereken bilgilerde bir eksiklik ve/veya yanlışlık olması hâlinde sınavınızın değerlendirilmesi mümkün olamamaktadır.** Tarafınızdan yazılması ve işaretlenmesi gereken bu bilgilerde eksiklik ve/veya yanlışlık olduğunda durumunuz Sınav Salon Tutanağında belirtilecektir.
- 12. Soru kitapçığının sayfalarındaki boş yerleri müsvedde için kullanabilirsiniz.**
- 13. Soruları ve/veya bu sorulara verdiğiniz cevapları ayrı bir kâğıda yazıp bu kâğıdı dışarı çıkarmanız kesinlikle yasaktır.**
- 14. Sınav salonundan ayrılmadan önce, soru kitapçığınızı ve cevap kâğıdınızı salon görevlilerine teslim etmeyi unutmayınız.**

*Bu testlerin her hakkı saklıdır. Hangi amaçla olursa olsun, testlerin tamamının veya bir kısmının Merkezimizin yazılı izni olmadan kopya edilmesi, fotoğrafının çekilmesi, herhangi bir yolla çoğaltılması, yayımlanması ya da kullanılması yasaktır. Bu yasağa uymayanlar gerekli cezai sorumluluğu ve testlerin hazırlanmasındaki mali külfeti peşinen kabullenmiş sayılır.*



5. (I) Anlattığı öyküler hiçbir zaman bitmez trenlerin. (II) Bakarsınız yorgun bir insan biner trene. (III) Uykulayan bir kişinin başının, ötekinin omuzuna düştüğünü görürsünüz trenlerde. (IV) Kirli bir çuval ayağına takılır yolcuların. (V) Bir kadın baş örtüsünü düzeltir durur kompartımanların birinde. (VI) Bir adam, iç cebinden bir fotoğraf çıkarıp bakar, koyar yerine.

**Bu parçadaki numaralanmış cümlelerin hangisinde insana ait özellik cansız bir varlığa aktarılmıştır?**

- A) I. B) II. C) III. D) IV. E) V.

6. (I) Sosyal girişim, özel sektör ya da devlet tarafından çözümü bulunamayan sorunları bireylerin çözmesi anlamına gelir. (II) Bir sorunun saptanması ve giderilmesine ilişkin çözüm sağlayacak süreci kapsar. (III) Bunu gerçekleştirebilen bireye de sosyal girişimci denir. (IV) Ancak ülkemizde "sosyal girişimcilik" kavramı çok fazla bilinmiyordu. (V) Ne var ki son birkaç yıldır gündemde olduğundan bazı kurumlar bu konuyla yakından ilgilenmeye başladı.

**Bu parçadaki numaralanmış cümlelerin hangisinde bir durumun değiştiğinden söz edilmektedir?**

- A) I. B) II. C) III. D) IV. E) V.

7. (I) Osmanlı döneminde bu köy halkından, önce parasal durumu iyi olanlar, sonraki dönemlerde de çiftçiler iş kurmak amacıyla İstanbul'a gelip yerleşmeye başlamışlar. (II) İstanbul'a gelenler şekerçilik, helvacılık, simitçilik, börekçilik gibi işlerle uğraşmışlar. (III) Hem bu büyük şehirde hem de yazları köylerinde çalışmışlar. (IV) Böylece gelir düzeylerini yükseltmişler ve köyün gelişmesini sağlamışlar. (V) Ne var ki bu göç nedeniyle köyde yaşayanların sayısı giderek azalmış. (VI) Dolayısıyla bir müze-kent görünümü kazanmış olan köy, eşsiz mimari güzelliklerinin varlığını biraz da bu parasal zenginliğe borçlu.

**Bu parçadaki altı çizili sözle dile getirilen özelliğin neden kaynaklandığı hangi cümlede belirtilmiştir?**

- A) I. B) II. C) III. D) IV. E) V.

8. **Aşağıdaki cümlelerin hangisinde bir öneri söz konusudur?**

- A) Sözcüklere yeni anlamlar kazandırabilmek için Türkçede kimi zaman çeşitli eklerden yararlanabilirsiniz.
- B) Yabancı dilde yazılmış bir yapıtı Türkçeye çevirirken en çok terimler konusunda sıkıntı çekiliyor.
- C) Türkçedeki "teyzeciğim", "anneciğim" gibi sevgi bildiren sözcükler pek çok dilde bulunmuyor.
- D) Üzerinde yeterince uğraşılmadığından, fen bilimleriyle ilgili kimi terimlere Türkçe karşılıklar bulunamamıştır.
- E) Türkçemizdeki yabancı sözcüklerin yerine Türkçe sözcükler kullanılmaya başlandı.

9. Şair, şiirini yazarken bazen yutkunmalı, o sözün yerini boş bırakmalı, okur da bunu görerek o boşluğu kendince doldurmalıdır.

**Şairlere böyle diyen birinin amacı aşağıdakilerden hangisi olamaz?**

- A) Okuyucuya düş gücünü kullanırmak  
B) Okuru belli bir bakış açısına yönlendirmek  
C) Şiirin yoruma açık olduğunu göstermek  
D) Okuyucuyu şiir üzerinde düşünmeye zorlamak  
E) Şiiri zaman zaman okura tamamlamak

10. İstanbul turumuza Avrupa yakasından başladık. İlk durağımız Sarayburnu. Haliç'le Marmara Denizi arasındaki bu burna ilk olarak MÖ 7. yy.da birtakım topluluklar yerleşmiş. Akropolis ve çevresine çeşitli yapılar yapılmış. Burada bulunan Topkapı Sarayı ise

Osmanlı'lar dönemine ait bir yapı.

**Bu parçadaki numaralanmış sözlerden hangisinin yazımı yanlıştır?**

- A) I. B) II. C) III. D) IV. E) V.

11. İstanbul'un nasıl bir kent olduğunu geçmiş yıllarda çekilmiş filmlere baktıkça daha iyi anlayabiliyorum. Bana bu kentin sessizliğini, daha doğrusu gerçek seslerini en iyi duyurabilmiş yapıt, Ahmet Hamdi Tanpınar'ın "Huzur" adlı romanıdır. Onu okuduktan sonra, çok iyi bildiğim Emirgân'da tanımadığım, bambaşka bir semt gibi göründü bana.

**Bu parçadaki numaralanmış sözlerden hangisinin yazımı yanlıştır?**

- A) I. B) II. C) III. D) IV. E) V.

12. 1940'lı yıllar ( ) İkinci Dünya Savaşı gelmiş kapıya dayanmış ( ) Uçsuz bucaksız tarlalarıyla Çukurova ( ) Çukurova'da bir fabrika, fabrikada bir adam ( ) Murtaza.

**Bu parçada ayraçlarla ( ) belirtilen yerlere aşağıdakilerin hangisinde verilen noktalama işaretleri sırasıyla getirilmelidir?**

- A) (.) (;) (.) (:)  
B) (... ) (.) (... ) (:)  
C) (.) (.) (.) (:)  
D) (.) (.) (.) (:)  
E) (;) (.) (:) (.)

13. Edebiyatçının yaşamı yapıtlarına yansiyabilir ama bu bir zorunluluk değildir. Yazar bilinçli olarak ya da farkında olmadan bunlara yapıtında yer verir (I) değinir. Öz yaşama ilişkin öğelerin, şiire (II) algılanması (III) anlaşılması zor bir biçimde (IV) yansiyacağını düşünüyorum. Örneğin benim yapıtlarımda bu, çok belirgin değildir (V) yaşamımı ayrıntılarıyla göremezsiniz.

**Bu parçadaki numaralanmış yerlerden hangisine virgül (,) konulması yanlış olur?**

- A) I.      B) II.      C) III.      D) IV.      E) V.

14. Aşağıdaki cümlelerin hangisinde bir anlatım bozukluğu vardır?

- A) Yaptıkları iş nedeniyle kendilerine özel ayrıcalıklar tanınmasını istiyorlar.
- B) Böylesine önemli bir çalışmanın göz ardı edilmesini kabullenemiyorlar.
- C) Hedefimiz, tüm yolcularımızı evlerine güvenli, hızlı ve ekonomik bir şekilde ulaştırmak.
- D) Teknolojik gelişmeleri izleyen, özveriyle çalışıp kendini sürekli geliştiren kadromuzla gurur duyuyoruz.
- E) Birbirinden yetenekli gençlerin hazırladıkları gösteri, izleyicilerin ilgisini çekti.

15. Oraya gittiğimde karşılaştığım durumları gözüme kestirerek bu işi yapmaya karar verdim.

**Bu cümledeki anlatım bozukluğunu gidermek için aşağıdaki değişikliklerden hangisi yapılmalıdır?**

- A) "oraya" sözcüğü atılmalı
- B) "karşılaştığım" yerine "tanık olabileceğim" sözü getirilmeli
- C) "gözüme kestirerek" yerine "göze alarak" sözü getirilmeli
- D) "durumları" yerine "sorunları" sözcüğü getirilmeli
- E) "karar verdim" yerine "çalışacağım" sözcüğü getirilmeli

16. (I) Karadağ'ın başkenti Podgorica, Balkanların en eski yerleşim merkezlerinden biri. (II) Roma, Kelt ve Slav kültürlerinin etkisinde kalan bu kentte, 15. yüzyıldan itibaren dört yüzyıl boyunca egemenlik kuran Osmanlı Devleti'nin izlerine hâlâ rastlamak mümkün. (III) Burası, antik dönemde İliryalı kabilelere ev sahipliği yapıyordu. (IV) Örneğin o dönemde Hacı Paşa Osmanagıç tarafından yaptırılan saat kulesi, kültürel ve tarihî bir anıt niteliğinde. (V) Ayrıca bu kentin sokaklarında dolaşırken birçok Türkçe sözcük de duyabilirsiniz. (VI) Restoran menülerinde "çay" ve "çorba" yazdığını görmekse insanda hoş bir duygu yaratıyor.

**Bu parçadaki numaralanmış cümlelerden hangisi düşüncenin akışını bozmaktadır?**

- A) II.      B) III.      C) IV.      D) V.      E) VI.



17. Eskişehir yakınlarında bir yerleşim alanı olan Yazılıkaya, bugüne kadar bilinen antik kentlerin hiçbirine benzemiyor. (I) Kent, dağların arasında kalmış eski bir mabet sanki. (II) Çevredeki bu dağların dikkat çeken şekilleri, Friglerin sanatçı yönlerini tetiklemiş. (III) Bu tetikleyişin yönlendirmesiyle büyük kayaları bulunduğu yerde ustalıklarla işlemişler. (IV) Midas Anıtı da bu çalışmanın çok güzel bir örneği. (V)

**Bu parçadaki numaralanmış yerlerden hangisine düşüncenin akışına göre** “Böylece, bölgedeki volkanik dağ oluşumlarının arasında bir sanat dünyası yaratmışlar.” cümlesi getirilebilir?

- A) I. B) II. C) III. D) IV. E) V.

18. Bir yazımda “ipsiz sapsız” deyimini kullandım. Doğrusunun “epsiz sapsız” olduğunu sanıyorum. Ep, Türkçede sebep demektir. Sap da bir söze verilen yanıtta sıra, düzen gözetme demektir. İpsiz sapsız yahut epsiz sapsız konuşmak bir neden aramadan, düzen gözetmeden abuk sabuk konuşmak anlamına gelir. Sebep demek olan ep, unutulmuş; sap da düzen, sıra anlamını yitirerek sadece o deyimde kalmış. Bu da gösteriyor ki bizim bugün “öldü, kalktı, unutuldu” dediğimiz Türkçe sözlerin birçoğu, kimi deyimlerde, ikilemelerde yaşamaktadır.

**Bu parçanın anlatımıyla ilgili olarak aşağıdakilerden hangisi söylenemez?**

- A) Yalın bir dil kullanılmıştır.  
B) Düşünceler örneklere dayandırılmıştır.  
C) Koşul bildiren cümleler kullanılmıştır.  
D) Kurallı cümleler kullanılmıştır.  
E) Kesinlemeci bir tutumdan kaçınılmıştır.

19. Neredeyse her yıl, bir dil yeryüzünden siliniyor. Geçen hafta da bir dilin son konuşanı, sözcükleriyle birlikte yeryüzünden göçtü, bundan çoğumuzun haberi olmadı. Aslında o dil zaten işlevselliğini yitirmişti, dolayısıyla ölmüştü diyebiliriz. Çünkü ----. Dillerin yok olmasına tepki olarak toplu bir çılgılık yükselmedikçe gezegenimizden daha nice diller eksilecek.

**Bu parçada boş bırakılan yere düşüncenin akışına göre aşağıdakilerden hangisi getirilmelidir?**

- A) bir dil, onu konuşabilecek insanlar varsa hayattadır  
B) bu, dilin tabiatında olan bir şeydir  
C) yazınsal ürünlerle zenginleştirilmeyen bir dil işlevselliğini kaybeder  
D) dil ile kültür birbirini etkileyen kavramlardır  
E) tüm dünya ortak bir dil kullanmaya doğru gidiyor

20. Birçok yazardan farklı olarak ilk öykülerimi geç yayımladım. Çünkü gerçek bir öykünün nasıl yazılması gerektiği konusunda yeterli bilgi ve birikim olmadığını düşünüyordum. Başından beri öykücü olmayı tasarlamıştım ama ----. Yazmaya başlamadan önce kendimi geliştirmek için uzun süre çaba harcadım. Bir de edebiyat dünyasına çeviriyle girdiğim için dilimde çeviri kokusu olmasın istedim.

**Bu parçada boş bırakılan yere düşüncenin akışına göre aşağıdakilerden hangisi getirilmelidir?**

- A) çeviri konusunda çalışmalarımı henüz bitirmemişim  
B) üzerinde düşündüğüm birkaç öyküm vardı  
C) o dönemde öykü yazmak bana ilginç gelmediği için kısa bir süre bekledim  
D) dil konusunda da eksiklerim vardı, bu nedenle de öykü yazmaya hazır değildim  
E) ünlü yazarların öykülerinin çok satıldığını biliyordum

21. Eleştirmenin temel görevi hem güzeli, iyiyi, doğruyu tanıtırıp övmek hem de çirkini, kötüyü, yanlış gösterip yermektir. Hep gülle ilgilenip ayrı otunu görmezden gelmek tek yanlı hatta yanlış bir tutumdur. Ancak bu tek yanlı yönelimden sıyrılıp çok yönlü bir yaklaşımı benimsersek edebiyat bahçesi yaban otlarından ayıklanmış, değerler yerli yerine oturtulmuş, okurların beğeni düzeyi yükseltilmiş olur. Bundan ötürü eleştirmenin, sevdiği eserlerden söz açması ne denli yapıcıysa beğenmediklerinin sözünü etmesi de o denli yapıcıdır. Yeter ki ----.

**Bu parçanın sonuna düşüncenin akışına göre aşağıdakilerden hangisi getirilmelidir?**

- A) yazara karşı biraz ılımlı biraz bağışlayıcı olsun
- B) yapıtın yetersizliklerini sanatlı bir dille ve ustaca aktarabilsin
- C) görüşlerine karşı çıkanlara hoşgörülle yaklaşabilsin
- D) okurların beğeneceğini umduğu görüşlere yer versin
- E) sözünü, duygularına kapılmadan, çıkar gözetmeden, nesnel bir biçimde söylesin

22. Her yazar farklı bakar gezip gördüğü yerlere. Örneğin bir yazar kitaplarda, filmlerde karşılaştığı bir yeri hayranlıkla anlatabilir. Bir başkası da gördüklerinden bir seçme yapıp ilgisini çeken birkaç yeri anlatarak ötekilerden hiç söz etmeyebilir. Kimi yazarlar gördükleriyle ilgili yorumlar yaparken kimileri de gördüklerini fotoğraf makinesi gibi yansıtır. Kısacası ----.

**Bu parçanın sonuna düşüncenin akışına göre aşağıdakilerden hangisi getirilmelidir?**

- A) çoğu okur gibi ben de asık suratlı kitapları sevmem
- B) gezmenin azı çoğu olmaz, demiş ustalar
- C) belli bir kalıba sokulup belli sınırların içine hapsedilemez gezi yazıları
- D) yazdıklarımıza yalnızca gördüklerimiz değil, birikimlerimiz de yansımalıdır
- E) gezi yazarının anlatmak istediği ile okurun anladığı arasında farklılıklar olabilir

23. Antolojiler (seçkiler), tek tek kişilerce ya da kurullarca hazırlansa da seçilen yapıtlar bakımından daha çok, öneri niteliği taşır. Çok geniş kapsamlı tutulsalar bile şu ya da bu biçimde eleştirilere hedef olmalarının önemli nedenlerinden biri de budur. Ancak bu, antoloji düzenleyenlerin beğeni ve seçimlerinde sınırsız bir özgürlük içinde oldukları anlamına da gelmez. Yansız kalma çabası içinde olduklarını göstermeleri gerekir. Bu bakımdan genellikle başarılı sayılan antolojilerin, düzenleyicilerinin beğenisini tam olarak yansıttıkları söylenemez. Antoloji hazırlayan kişi, belirli bir oranda kendini topluma benimsetmiş imzalara, kendi anlayışına ve beğenilerine ters düşse bile yer vermek zorundadır. Çünkü antolojiler önceden saptanmış bir zaman diliminin yazınsal ve düşünsel özeti niteliğini taşıyacak biçimde düzenlenir.

**Bu parçada antolojilerle ilgili olarak aşağıdakilerden hangisine değinilmiştir?**

- A) Hazırlanırken bazı noktaların göz önünde tutulması gerektiğine
- B) Bilgilerin kronolojik bir sırayla verildiğine
- C) En çok eleştiri alan yapıtlar arasında bulunduğu
- D) Hazırlayanların edebiyat eğitimi alması gerektiğine
- E) Çok değişik amaçlarla düzenlendiğine

24. Elbette ben de herkes gibi, anlaşılmak isterim ama onaylanma isteğinin tehlikeli olduğunu da bilirim. Çünkü film izleyicisinin homojen bir yapısı yoktur. Beğenmeyenlerin yarattığı olumsuz havayı umursamamak doğru bir tutum olmadığı gibi beğenenlerin de kölesi olmamak gerekir. Bir başka anlatımla, yönetmenin görevi, seyircinin beklentilerini yerine getirmek değildir. O, idealleri doğrultusunda, bedeli ne olursa olsun kendisi için önemli olanın peşinden koşmayı, gerekirse izleyicinin algılama düzeyini yükseltmek için eleştirilme riskini de alabilmelidir.

**Böyle diyen film yönetmeni için aşağıdakilerden hangisi söylenebilir?**

- A) İzleyicilerin birikimlerine göre orta yol tuttuğu
- B) İzleyicilerin beğenisini çok önemseydiği
- C) Karşılaşabileceği olumsuzluklara rağmen amacına ulaşmaya çalıştığı
- D) Çektiği filmlerde merak unsurunun ağır bastığı
- E) Çalışmalarıyla ödül almayı amaçladığı

25. Öz eleştiri, kişinin kendini tanımasıdır, sorgulamasıdır; gücünü, güçsüzlüklerini anlayabilmesidir; eksikliklerini açık yüreklilikle kabullenmesidir. Bunu yapabilmesi kişinin değişik düşüncelere açık olmasına, kendinin tek ve en yetkin olmadığını düşünebilmesine bağlıdır. Bunu başarmak, görüldüğü gibi kolay olmayabilir. Kişi kendisini beğenmeden nasıl ayakta durabilir? Elbette kendimizi beğeneceğiz, kendimizden vazgeçmeyeceğiz ama kendimizin ötesini de görebileceğiz; biz, bizim dışımızdakiler olduğu için şimdi bulunduğumuz yerdeyiz.

**Bu parçaya göre öz eleştiriyle ilgili olarak aşağıdakilerden hangisi söylenebilir?**

- A) Tanımlanmasında nesnel verilere bağlı kalındığı
- B) Sağlıklı düşünmenin temel yolu olduğu
- C) Kişiyi nasıl inanılır, güvenilir kıldığı
- D) Yapılmasının belli koşulları gerektirdiği
- E) Bireysel değil toplumsal bir nitelik taşıdığı

26. O, sanatıyla ilgili önemli olduğuna inandığı her haberi, bilgiyi toplayıp saklayan bir sanatçımızdı. Gazete ve dergiler, mektuplar, notlar, çizimler, resimler... Kendi yaşamını da kimi zaman notlar hâlinde kâğıda dökerdi. Günlük tutmak gibi sistematik bir şey değildi yaptığı. Kimi zaman el yazısıyla kimi zaman da daktiloyla yazdığı ya da yazdırdığı, bellek akışı olarak nitelendirilebilecek notlardı bunlar. Bu notları yakınları bir halk kitaplığına bağışlamıştı.

**Bu sözler aşağıdaki sorulardan hangisine karşılık olarak söylenmiş olabilir?**

- A) Sanatçımızı bilinmeyen özellikleriyle tanıtmaya düşüncesi nasıl ortaya çıktı?
- B) Sanatçının yaşamına ve sanatına ilişkin bu kadar ayrıntılı bilgiyi nereden edindiniz?
- C) Kitapta sanatçının özel yaşamından çok sanata olan ilgisi, sanat aşkı özellikle mi ön plana çıkarıldı?
- D) Topladığı belgeler, bilgiler sanatçının yapıtlarına zaman zaman kaynaklık etmiş midir?
- E) Unutmak istemediği kimi anılarını yazması onun anı yazarı olarak nitelendirilmesi için yeterli mi?

27. Türk edebiyatının, 1940-1960 arasında ve 1960 sonrasında öykü ve roman anlayışı bakımından farklı nitelikler taşıdığını söyleyebiliriz. 1940 sonrasında oluşan yazınsal değişimlerin klasik-geleneksel öyküleme biçim ve içerikleri çizgisinde geliştiğini; Türkçenin, yalın anlatım ve söylemlerle yeni boyutlar kazanarak Batı dillerinden hiç de geri kalmayan, oldukça varsıl bir yazı dili durumuna geldiğini görüyoruz. 1960 sonrasında ise öyküler, olay anlatımından çok, betimlemeler, açılımlar ve çözümlemelerle derinleşen duygu, düşünce ve yorumlarda yoğunlaşmaktadır. 1940 sonrasında varsıllaşan öykü-roman konuları arasında, toplumsal-bireysel sorunlar; olaylarla derinleşen bireysel-psikolojik boyutlar; az gelirli, yoksul, göç etmiş taşra ve kırsal kesim insanların yaşamlarından kesitler görülmektedir.

**Bu parçada 1940'tan sonraki Türk öykü ve romanıyla ilgili olarak aşağıdakilerden hangisine değinilmemiştir?**

- A) Ürünlerin hangi akıma bağlı kalınarak oluşturulduğuna
- B) Dönemlerin belirgin özelliklerinin neler olduğuna
- C) 1940-1960 yılları arasında kullanılan Türkçenin kimi özelliklerine
- D) 1960 sonrasında hangi yönlerden önem taşıdığına
- E) Hangi açıdan Batı edebiyatıyla karşılaştırıldığına

28. Bazı insanlar, bir çukurda birikip kalan suya benzer. Bunlar, tüm yaşamları boyunca aynı düşüncelere, aynı duygulara bağlı kalırlar. Başka duygu ve düşüncelere yaşam hakkı tanımazlar. Akamadığı için bulanıklaşmış su gibi, saplantıları içinde kaybolurlar.

**Bu parçada sözü edilen kişilerden aşağıdakilerden hangisi beklenemez?**

- A) Kendi düşüncelerinin doğruluğuna inanma
- B) Görüşlerini körü körüne savunma
- C) Düşüncelerinin eleştirilmesini hoş görme
- D) Değişen koşullara uyum sağlayamama
- E) Karşit düşünceler arasında değerlendirme yapamama

29. Çocukluk döneminin, siyasal kişiliğin biçimlenmesi bakımından belirleyici olduğuna inananlar, aileye önemli bir yer verirler. Ama yapılan çalışmalar, ailenin siyasal görüş bakımından çocuklar üzerinde önemli bir etkisinin bulunmadığını göstermektedir. Okul ve arkadaş grupları, zaman içinde ailenin bu konudaki etkisinin zayıflamasına neden olmaktadır. Ailenin etkisi, daha çok genel değerlerin benimsetilmesinde görülür. Ataerkil ailelerde çocukların siyasal yönden toplumsallaşmasında babanın, anneden daha etkili olacağı varsayılmışsa da çalışma sonuçları bunu doğrulamıyor. Kimi durumlarda siyasal yönden etkilenmeye ilişkin verilerin genellemeye olanak tanımayacak kadar dağınık ve çelişkili olduğu da bir başka gerçektir.

**Bu parçadan, çocukların siyasal kişiliğinin oluşmasıyla ilgili olarak aşağıdakilerden hangisi çıkarılamaz?**

- A) Yıllar geçtikçe ailenin etkisinin azaldığı
- B) Genel kanılara inanmanın sorunlar yarattığı
- C) Aile dışı ilişkilerin daha çok etkili olduğu
- D) Araştırmalar sonucunda bir varsayımın yanlışlığının anlaşıldığı
- E) Kimi araştırmalarda, birbiriyle uyumlu sonuçlar elde edilemediği

30. Peyami Safa, Fatih-Harbiye romanında Türk müziğini savunduğu hâlde, sonraki yıllarda bu düşüncesinden vazgeçerek çok sesli Batı müziğini savundu. Dil konusunda da ciddi tereddütler yaşamıştı. Türkçenin sadeleşmesi gerektiğine her zaman inandı. Ancak bütün eski sözcüklerin atılmasını sakıncalı bulmuş olacak ki bunların birçoğunu eserlerinde kullandı. Onun bu tutumunu çelişki olarak değerlendirenler vardır.

**Bu parçadan Peyami Safa'yla ilgili aşağıdaki yargılardan hangisi çıkarılamaz?**

- A) Batı müziğini Türk müziğine tercih ettiğini Fatih-Harbiye romanında görürüz.
- B) Müzik konusundaki görüşleri zamanla değişmiştir.
- C) Dilimizden, yabancı sözcüklerin atılması gerektiğini savunmuştur.
- D) Düşündükleriyle yaptıkları arasında uyumsuzluk olduğu söylenebilir.
- E) Eski sözcükleri kullanmada bir sakınca görmemiştir.

31.  $\left(3 + \frac{1}{2}\right) : \frac{1}{4}$

**işleminin sonucu kaçtır?**

- A) 6
- B) 7
- C) 10
- D) 12
- E) 14

32.  $\frac{2 \cdot (3!)}{4!}$

**işleminin sonucu kaçtır?**

- A)  $\frac{1}{2}$
- B)  $\frac{1}{3}$
- C)  $\frac{2}{3}$
- D) 1
- E) 2

33.  $\sqrt{0,001}$

sayısı aşağıdakilerden hangisine eşittir?

A)  $\frac{1}{10}$  B)  $\frac{\sqrt{10}}{10}$  C)  $\frac{1}{100}$  D)  $\frac{\sqrt{10}}{100}$  E)  $\frac{\sqrt{10}}{1000}$

34. 
$$\begin{array}{r} \cdot \cdot \cdot \\ \times \quad 24 \\ \hline 4 \cdot \cdot \\ + \cdot 14 \\ \hline \cdot \cdot \cdot \cdot \end{array}$$

Yukarıdaki çarpma işleminin sonucu kaçtır?

A) 2568 B) 2584 C) 2648  
D) 3566 E) 3646

35. Toplamları 4 olan iki gerçel sayının kareleri toplamı 12 olduğuna göre, bu sayıların çarpımı kaçtır?

A) -4 B) -1 C) 2 D) 3 E) 6

36. x ve y tam sayıları için

$$2^x \cdot 3^y = 12$$

olduğuna göre,  $\frac{2^y}{3^x}$  ifadesinin değeri kaçtır?

A)  $\frac{1}{3}$  B)  $\frac{2}{3}$  C)  $\frac{4}{3}$   
D)  $\frac{2}{9}$  E)  $\frac{4}{9}$

37.  $a^2 + ac - ab - bc - a + b$

ifadesinin çarpanlarından biri  $a - b$  olduğuna göre değeri nedir?

A)  $a + b - c$  B)  $a - b - c$  C)  $b - c + 1$   
D)  $a - c + 1$  E)  $a + c - 1$

38. x ve y pozitif tam sayılar olmak üzere,

$$7x - 8y = 1$$

olduğuna göre,  $x + y$  toplamı en az kaçtır?

A) 10 B) 13 C) 15 D) 17 E) 21

39.  $\frac{|2x+1|}{2} < 5$

eşitsizliğini sağlayan en küçük ve en büyük x tam sayılarının toplamı kaçtır?

- A) -2 B) -1 C) 1 D) 3 E) 5

40. x ve y gerçel sayıları için

$$x^2 - 1 < 0$$

$$y^2 - 2y < 0$$

eşitsizlikleri veriliyor.

Buna göre, aşağıdakilerden hangisi her zaman doğrudur?

- A)  $x \cdot y < 0$  B)  $x \cdot y > 0$   
 C)  $x + y > 0$  D)  $x + y < 1$   
 E)  $x - y < 1$

41.  $p > 5$  bir asal sayı olmak üzere,

- I.  $p + 1$  çifttir.  
 II.  $p^2$  bir asal sayıdır.  
 III.  $p + 2$  sayısı 3 ile kalansız bölünür.

ifadelerinden hangileri her zaman doğrudur?

- A) Yalnız I B) Yalnız II C) Yalnız III  
 D) I ve II E) II ve III

42. Tam sayılar kümesi üzerinde \* işlemi

$$a * b = 2a - 3b + 1$$

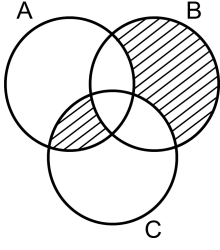
biçiminde tanımlanıyor.

$k * (2k) = 9$  olduğuna göre, k kaçtır?

- A) -4 B) -2 C) 1 D) 3 E) 6



43.



Yukarıdaki şemaya göre, taralı bölgeye karşılık gelen küme aşağıdakilerden hangisidir?

- A)  $[(A \cup C) \setminus B] \cup (A \cap C)$   
 B)  $[B \setminus (A \cup C)] \cap (A \cap C)$   
 C)  $[B \setminus (A \cap B \cap C)] \cup (A \cap C)$   
 D)  $[B \setminus (A \cup C)] \cup [(A \cap C) \setminus B]$   
 E)  $[B \setminus (A \cap C)] \cup [(A \cup C) \setminus B]$

44. Aşağıdaki tabloda bir birlikteki askerlerin, kaldıkları koşullara göre dağılımı verilmiştir.

Koşuş numarası	Asker sayısı
1	90
2	18
3	12

Buna göre, birlikteki askerlerin yüzde kaç 2. koşušta kalmaktadır?

- A) 9      B) 12      C) 15      D) 16      E) 20

45. 0, 1, 2, 3 ve 4 rakamlarını kullanarak dört basamaklı kaç tane tek sayı oluşturulabilir?

- A) 200      B) 250      C) 256      D) 320      E) 360

46. Bir restorandaki masalar her birinde 5 veya 7 sandalye olacak şekilde hazırlanacaktır.

**Bu restoranda bulunan 68 sandalyenin tümü kullanılarak en fazla kaç masa hazırlanabilir?**

- A) 9      B) 10      C) 11      D) 12      E) 13

47. Bir sınıftaki öğrencilerin % 60'ı Matematik, % 75'i Türkçe dersinden başarılı olmuştur. Her iki dersten de başarılı olan öğrenci sayısı 7'dir.

**Her öğrenci bu derslerin en az birinden başarılı olduğuna göre, sınıfta kaç öğrenci vardır?**

- A) 20      B) 25      C) 28      D) 35      E) 42

48. Bir dans grubundaki dansçılardan 3 kişilik bir dans takımı 35 farklı şekilde oluşturulabiliyor.

**Buna göre, aynı gruptan 2 kişilik bir dans takımı kaç farklı şekilde oluşturulabilir?**

- A) 15    B) 21    C) 24    D) 28    E) 32

49. Bir sitenin A ve B bloklarında eşit sayıda daire vardır.

A blokundaki dairelerin  $\frac{1}{3}$ 'ünde, B blokundaki

dairelerin ise  $\frac{3}{4}$ 'ünde klima vardır.

**Bu iki bloktaki klimalı daire sayısı toplam 26 olduğuna göre, her blokta kaç daire vardır?**

- A) 16    B) 18    C) 24    D) 36    E) 40

50. Gri ve siyah güvercinlerden oluşan bir sürüdeki güvercinlerin  $\frac{2}{5}$ 'i gri,  $\frac{1}{3}$ 'ü dişidir.

**Bu sürüde 20 erkek güvercin olduğuna göre, kaç siyah güvercin vardır?**

- A) 15    B) 16    C) 18    D) 21    E) 24

51. Ayşe ve Metin manavdan elma ve portakal almışlardır. Ayşe 3 kilo elma ve 2 kilo portakal alıp 9,75 TL, Metin ise 2 kilo elma ve 3 kilo portakal alıp 9 TL ödemiştir.

**Buna göre, elmanın kilosu kaç TL'dir?**

- A) 1,25    B) 1,75    C) 2    D) 2,25    E) 2,5

52. Beren, küpelerini 16 bölmesi olan küpe kutusuna her bölmede en fazla 1 küpe olacak biçimde yerleştirmiştir. Şekilde verilen rakamlar, o satır veya sütundaki toplam küpe sayısını göstermektedir.

	3	0	1	1
1	A			
2			B	
0				
2				C

**Buna göre,**

- I. Kutuda 5 küpe vardır.  
 II. A bölmesinde küpe vardır.  
 III. B bölmesinde küpe varsa C bölmesinde yoktur.

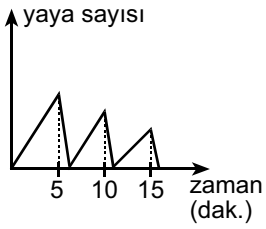
**İfadelerinden hangileri doğrudur?**

- A) Yalnız I    B) Yalnız II    C) I ve II

- D) I ve III    E) II ve III

53. Yeşil ışığın yayalara her 5 dakikada bir yandığı yaya geçidinde karşıya geçmek için bekleyen yayaların sayısının zamana göre değişimini modelleyen grafik, aşağıdakilerden hangisi olabilir?

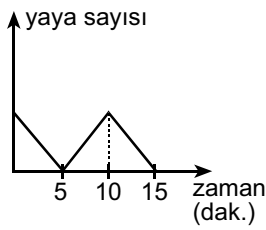
A)



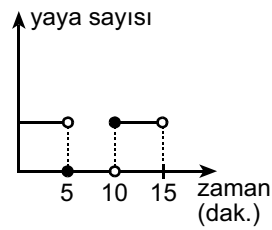
B)



C)



D)



E)



54. Bir tel parçasının bir kısmı ile bir eşkenar üçgen, kalan kısmıyla da bir düzgün altıgen yapılıyor.

Üçgenin alanı ile altıgenin alanı birbirine eşit ve  $\sqrt{3}$  birim kare olduğuna göre, telin uzunluğu kaç birimdir?

A)  $\sqrt{3} + \sqrt{6}$

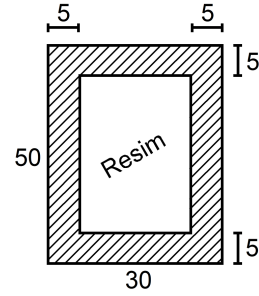
B)  $\sqrt{3} + 2\sqrt{6}$

C)  $3 + 3\sqrt{3}$

D)  $6 + 2\sqrt{6}$

E)  $6 + 6\sqrt{6}$

55. Eni 30 cm ve boyu 50 cm olan çerçevesiz bir resmin çerçeve kalınlığı her kenar için eşit ve 5 cm'dir.



Resmin alanının çerçevesiz tüm alana oranı kaçtır?

A)  $\frac{8}{15}$

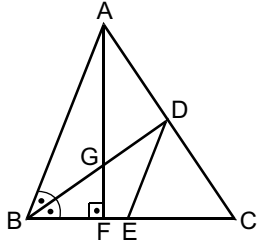
B)  $\frac{11}{15}$

C)  $\frac{13}{15}$

D)  $\frac{11}{30}$

E)  $\frac{13}{30}$

56.

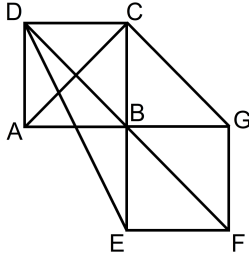


ABC bir üçgen  
 $AF \perp BC$   
 $AB \parallel DE$   
 $m(\widehat{ABD}) = m(\widehat{DBC})$

Yukarıdaki verilere göre, ABC üçgeni aşağıdaki üçgenlerden hangisi ile benzerdir?

- A) BDE      B) DEC      C) BGF  
 D) ABF      E) DBC

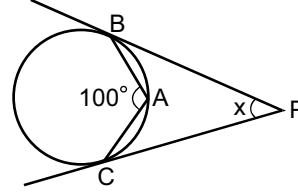
57.



Yukarıdaki şekilde ABCD ve EFGH eş kareler olduğuna göre,  $\frac{A(DEF)}{A(CAG)}$  oranı kaçtır?

- A)  $\frac{1}{2}$       B)  $\frac{1}{3}$       C) 1      D)  $\frac{3}{2}$       E)  $\frac{4}{3}$

58.



$m(\widehat{BAC}) = 100^\circ$   
 $m(\widehat{BPC}) = x$

Yukarıdaki şekilde PB ışını B noktasında, PC ışını da C noktasında verilen çembere teğettir.

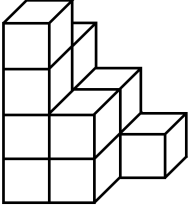
Buna göre, x kaç derecedir?

- A) 15      B) 20      C) 25      D) 30      E) 40

59. Aşağıdaki noktalardan hangisi  $2x - 3y = 5$  doğrusunun orijine göre simetriği olan doğrunun üzerindedir?

- A) (-2,3)      B) (-1,2)      C) (0,1)  
 D) (1,4)      E) (2,3)

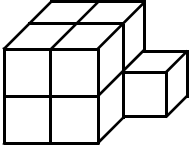
60.



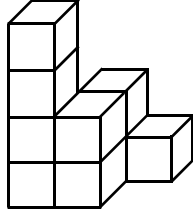
Yukarıda verilen yapı 12 birim küpten oluşmaktadır. Bu küpler birbirine yapışmadığından her bir küp ya yerdedir ya da başka bir küpün üzerindedir.

Buna göre, bu yapıdaki küplerden 3'ü alınarak aşağıdakilerden hangisi elde edilemez?

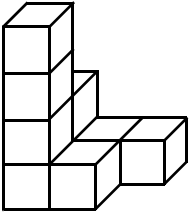
A)



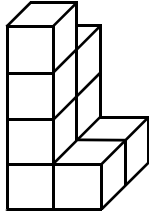
B)



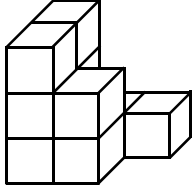
C)



D)



E)



61. İslamiyet öncesi Türk devletlerinde hükümdara yönetme yetkisinin tanrı tarafından verildiğine inanılmıştır.

Aşağıdakilerden hangisi bu inancı yansıtmaktadır?

- A) Kağan
- B) Kırmızı
- C) Kut
- D) Yuğ
- E) Tarkan

62. Büyük Selçuklularda, ülke topraklarının vergi gelirlerine göre bölümlere ayrılarak bunların askerî ve sivil devlet görevlilerine hizmetleri karşılığında verilmesi usulü aşağıdakilerden hangisidir?

- A) İktâ sistemi
- B) Gulâm sistemi
- C) Vakıf sistemi
- D) İltizam sistemi
- E) Devşirme sistemi

63. Osmanlı Devleti'nde, 19. yüzyıla kadar, devlet ve ülke sorunlarının görüşülüp karara bağlandığı en üst yönetim ve en üst mahkeme organı aşağıdakilerden hangisidir?

- A) Dar-ı Şûra-i Askerî
- B) Divan-ı Hümayun
- C) Divan-ı Adliye
- D) Şûra-yı Devlet
- E) Meclis-i Valâ-i Ahkâm-ı Adliye

64. Osmanlılarda 19. yüzyıla kadar aşağıdaki sanat dallarının hangisinde eser verilmemiştir?

- A) Hat
- B) Çini
- C) Ebru
- D) Minyatür
- E) Fotoğraf

65. 19. yüzyılda Osmanlı Devleti'nde genel nüfus azalırken, daralan Osmanlı sınırları içinde nüfus yoğunluğunun artmasıyla, nüfus açısından iki olgu birden yaşanmıştır.

**Bu durumun ortaya çıkmasında,**

- I. toprak kayıplarının olması,
- II. ülke dışından göçlerin olması,
- III. ticari ilişkilerin önem kazanması

**gelişmelerinden hangilerinin etkisi olduğu savunulabilir?**

- A) Yalnız I
- B) Yalnız II
- C) Yalnız III
- D) I ve II
- E) I, II ve III

66. Aşağıdakilerden hangisi, Osmanlı Devleti'nin paylaşımıyla ilgili olarak gizli antlaşmalarda belirlenen planın değişmesinin nedenlerinden biridir?

- A) Çarlık Rusyası'nda ihtilal olması
- B) Trablusgarp'ın İtalyanlar tarafından işgal edilmesi
- C) Bulgaristan'ın savaştan çekilmesi
- D) Irak'ın İngilizler tarafından işgal edilmesi
- E) Maraş ve çevresinin Fransızlar tarafından işgal edilmesi

67. Aşağıdakilerden hangisi, Birinci Dünya Savaşı sırasında Mustafa Kemal'in savaştığı cephelerden biridir?

- A) Kanal
- B) Galiçya
- C) Filistin-Suriye
- D) Irak
- E) Mısır

68.

- I. Kürt Teâli
- II. İslam Teâli
- III. Kilikyalılar
- IV. İngiliz Muhipleri
- V. Wilson Prensipleri

**Yukarıdaki cemiyetlerden hangileri mandacılığı savunmuştur?**

- A) I ve II                      B) II ve IV                      C) III ve V  
D) IV ve V                      E) II, III ve V

**69. Sivas Kongresi'nden sonra Damat Ferit Paşa Kabinesinin düşmesinin nedeni aşağıdakilerden hangisidir?**

- A) Kongre kararları doğrultusunda, Temsilciler Kurulu kararıyla Anadolu ve İstanbul arasındaki haberleşmenin kesilmesi
- B) Kongre kararları doğrultusunda tüm millî cemiyetlerin bir çatı altında toplanması
- C) Amasya Görüşmelerinde Mebuslar Meclisinin toplanması kararının alınması
- D) Sivas Kongresi'nde Ali Fuat Cebesoy'un Batı Anadolu Kuvayimillîye Genel Komutanlığına atanması
- E) Sivas Kongresi'nde manda ve himayenin reddedilmesi

**70. Aşağıdakilerden hangisi, İstanbul'un resmen işgalinden sonra alınan önlemlerden biri değildir?**

- A) Geyve ve Ulukışla demir yollarının tahrip edilmesi
- B) Temsilciler Kurulunun Ankara'ya gelmesi
- C) İstanbul'la haberleşmenin yasaklanması
- D) Anadolu'daki Anlaşma Devletleri subaylarının tutuklanması
- E) Anadolu'dan İstanbul'a vergi gönderilmemesinin istenmesi

**71. Kurtuluş Savaşı sırasında çıkan,**

- I. Anzavur,
- II. Kuvayi İnzibatiye,
- III. Demirci Mehmet Efe

**ayaklanmalarından hangileri önce millî mücadeleyi destekleyip sonra taraf değiştiren kişilerce çıkarılmıştır?**

- A) Yalnız I                      B) Yalnız II                      C) Yalnız III  
D) I ve II                      E) I, II ve III

72. Aşağıdakilerden hangisi, Birinci İnönü Savaşı sonrası gelişmelerinden biri değildir?

- A) 1921 Anayasası'nın kabul edilmesi
- B) Sovyet Rusya ile Moskova Antlaşması'nın imzalanması
- C) Afganistan ile Dostluk Antlaşması'nın imzalanması
- D) Londra Konferansı'nın düzenlenmesi
- E) Gediz Taarruzu'nun yapılması

73. Londra Konferansı'nın dağılmasından sonra TBMM Hükümeti temsilcisi Bekir Sami, Fransızlarla ve İtalyanlarla yaptığı protokollerle onlara ekonomik çıkarlar tanımış; İngilizlere ise savaş suçlusu saydıkları esirlerin geri verilmemesi hakkı tanımıştır. Ancak TBMM bu antlaşmaları onaylamamıştır.

**TBMM'nin bu antlaşmaları onaylamamasında,**

- I. eşitlik,
- II. tam bağımsızlık,
- III. laiklik

**ilkelerinden hangilerinin Bekir Sami tarafından gözetilmemesinin etkisi olduğu savunulabilir?**

- A) Yalnız I
- B) Yalnız II
- C) Yalnız III
- D) I ve II
- E) I, II ve III

74. Sovyet Rusya, kapitülasyonların kaldırılmasını aşağıdakilerden hangisiyle kabul etmiştir?

- A) Ankara Antlaşması
- B) Gümrü Antlaşması
- C) Moskova Antlaşması
- D) Kars Antlaşması
- E) Mudanya Anlaşması

75. Mustafa Kemal, başkomutanlık görevini Meclisin yetkilerinin kendisine verilmesi koşuluyla kabul etmiştir.

**Mustafa Kemal'in bu koşulu,**

- I. zaman kazanma,
- II. savaşla ilgili tüm kararların alınabilmesi için yetkiyle donatılmış olma,
- III. Anlaşma Devletleri arasındaki görüş ayrılığından yararlanma

**isteklerinden hangileri için ileri sürdüğü savunulabilir?**

- A) Yalnız I
- B) Yalnız II
- C) Yalnız III
- D) I ve II
- E) I, II ve III



76. Çözümü Lozan Antlaşması'ndan sonraya bırakılan İngiltere ve Türkiye arasındaki sorun aşağıdakilerden hangisidir?

- A) Suriye sınırı
- B) Kapitülasyonlar
- C) Azınlıklar
- D) Devlet borçları
- E) Irak sınırı

77. Laiklik ilkesi aşağıdakilerden hangisiyle anayasa maddesi hâline getirilmiştir?

- A) Saltanatın kaldırılmasıyla
- B) Halifeliğin kaldırılmasıyla
- C) Cumhuriyet'in ilanıyla
- D) 1937 yılında yapılan anayasa değişikliğiyle
- E) Anayasa'dan devlet dininin İslam olduğu maddesinin çıkarılmasıyla

78. Arap alfabesi yerine yeni Türk alfabesinin kabul edilmesinin,

- I. halkçılık,
- II. inkılapçılık,
- III. devletçilik

ilkelerinden hangileriyle ilişkili olduğu savunulabilir?

- A) Yalnız I
- B) Yalnız II
- C) I ve II
- D) II ve III
- E) I, II ve III

79. Aşağıdakilerden hangisi Atatürk Döneminde gerçekleşmemiştir?

- A) Köy Enstitülerinin kurulması
- B) Türkiye'nin, Milletler Cemiyetine üye olması
- C) Irak sınırı sorununun çözülmesi
- D) Millet Mekteplerinin açılması
- E) Yunanistan ile nüfus mübadelesi sorununun çözülmesi

80. Aşağıdakilerden hangisinin 1934 yılında Balkan Antantı'nın imzalanmasında etkili olduğu savunulabilir?

- A) Montrö Boğazlar Sözleşmesi'nin imzalanması
- B) İtalya'nın yayılcı bir politika izlemesi
- C) Almanya'nın Avusturya'yı işgal etmesi
- D) Bölgesel barışı hedefleyen Sadabat Paktı'nın imzalanması
- E) Fransa'nın Suriye ve Lübnan üzerindeki mandasını kaldırması

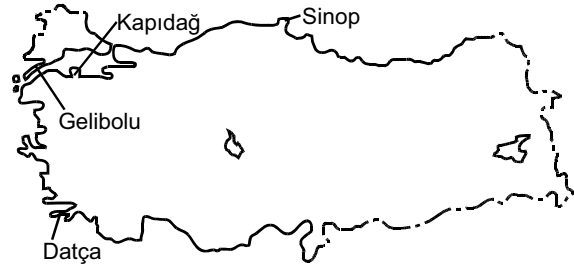
81. Türkiye'nin 1 / 50.000 ölçekli il haritalarını çizmek isteyen bir kişi, aşağıdaki illerden hangisinin haritası için daha büyük bir kâğıda gereksinim duyar?

- A) Ankara
- B) İstanbul
- C) Konya
- D) Yalova
- E) Erzurum

82. Aşağıdakilerin hangisinde iklimin etkili olduğu savunulamaz?

- A) Sinop'ta kıyı balıkçılığının yapılması
- B) Rize ve çevresinde kivi yetiştirilmesi
- C) Çukurova'da yılda birden fazla ürün alınması
- D) Karadeniz kıyılarında deniz turizmine elverişli sürenin kısa olması
- E) Alanya'da ve Anamur'da muz bahçelerinin bulunması

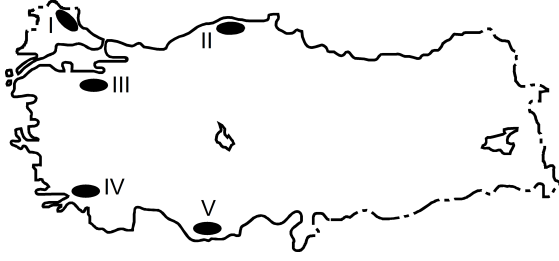
83. Dalga biriktirme şekillerinden biri olan tombolo, kıyıya yakın bir adanın kıyı kordonuyla karaya bağlanması sonucunda oluşur.



Buna göre yukarıdaki haritada verilen yarımadalardan hangi ikisinin oluşumu tomboloya örnektir?

- A) Datça ve Gelibolu
- B) Kapıdağ ve Sinop
- C) Gelibolu ve Sinop
- D) Datça ve Kapıdağ
- E) Datça ve Sinop

84.



Yukarıdaki haritada kaç numarayla gösterilen yerdeki orman örtüsünün diğerlerinden seyrek olmasında iklim, jeolojik yapı ve toprak özellikleri etkilidir?

- A) I      B) II      C) III      D) IV      E) V

85. 2009 yılı verilerine göre, Mersin ilinin nüfusu, Batman ilinden üç kat fazla olmasına karşın nüfus yoğunlukları aynıdır.

**Bu durum Mersin ilinin hangi özelliğiyle açıklanabilir?**

- A) İkliminin daha ılıman olmasıyla  
B) Endüstri kuruluşlarının daha fazla olmasıyla  
C) Yüzey şekillerinin daha engebeli olmasıyla  
D) Yüz ölçümünün daha büyük olmasıyla  
E) Daha fazla göç almasıyla

86. Aşağıdakilerden hangisi Rize ve çevresinden büyük kentlere yapılan iç göçün nedenlerinden biri değildir?

- A) Makineli tarımın yaygınlaşması  
B) Toprağın miras yoluyla bölünmesi  
C) Endüstri kuruluşlarının az olması  
D) Tarıma ayrılan toprakların yetersiz olması  
E) Hayvancılıktan elde edilen gelirin azalması

87. Türkiye'yle ilgili aşağıdaki yargılardan hangisi diğer dördünün nedenidir?

- A) Hidroelektrik potansiyel yüksektir.  
B) Ortalama yükselti ve engebellek fazladır.  
C) Platoların yükseltisi fazladır.  
D) Çığ ve heyelan olayları kara ulaşımını zaman zaman güçleştirir.  
E) Akarsular derin vadilerde akmaktadır.

88. Aşağıda Türkiye'deki bir yörenin bazı doğal özellikleri verilmiştir:

- Doğal bitki örtüsü çayırdır.
- Yüksek platolar geniş alan kaplar.
- Yaz yağışları belirgindir.
- Yaz sıcaklıkları düşüktür.

**Buna göre, bu yörede, en yaygın tarım ürünü ve hayvancılık etkinliği aşağıdakilerden hangisi olabilir?**

- A) Yer fıstığı – Büyükbaş hayvancılık
- B) Çay – Küçükbaş hayvancılık
- C) Şeker pancarı – Küçükbaş hayvancılık
- D) Arpa – Büyükbaş hayvancılık
- E) Pamuk – Arıcılık

89. Aşağıdaki yerlerin hangisindeki endüstri kuruluşunun kullandığı ham madde bölge dışından gelmektedir?

- A) Ordu – Fındık işleme tesisi
- B) Tokat – Meyve suyu fabrikası
- C) Ereğli – Demir-çelik işletmesi
- D) Murgul – Bakır işletmesi
- E) Çatalağzı – Termik santrali

90. Türkiye'nin 1950 yılından sonra yaşadığı kalkınma sürecinde aşağıdakilerden hangisinde artış olmamıştır?

- A) Dış satım ürünlerinin çeşidi ve gelirinde
- B) Kırsal nüfusun oranında
- C) Tarımda makine kullanımında
- D) İletişim olanaklarında
- E) Nüfusun eğitim ve kültür düzeyinde

91.

- Demir yolu ve kara yolu bağlantısı vardır.
- Önemli bir endüstri merkezidir.
- Doğal bir limana sahiptir.

**Bu özelliklerin tümüne sahip olan kent aşağıdakilerden hangisidir?**

- A) Çanakkale      B) Giresun      C) İzmir
- D) Antalya      E) Trabzon

92. Akdeniz Bölgesi'nde, rafting, yamaç paraşütü, yayla turizmi, mağara turizmi ve deniz turizmi gibi etkinliklerin önemli yer tutmasında aşağıdakilerden hangisinin rolü yoktur?

- A) Yer şekillerinin çeşitli olması
- B) Sıcak dönemin uzun olması
- C) Karstik arazinin geniş olması
- D) Engebelliğin ve yükseltinin fazla olması
- E) Dağların kıyıya paralel uzanması

93. 1982 Anayasası'na göre, sıkıyönetim ilan edebilmek için aşağıdakilerden hangisinin görüşünün alınması zorunludur?

- A) Genelkurmay Başkanı
- B) Kara Kuvvetleri Komutanı
- C) Bakanlar Kurulu
- D) Millî Güvenlik Kurulu
- E) Devlet Denetleme Kurulu

94. 1982 Anayasası'na göre, aşağıdakilerden hangisi görevleriyle ilgili suçlardan dolayı Yüce Divanda yargılanmaz?

- A) Cumhurbaşkanı
- B) Başbakan
- C) Genelkurmay Başkanı
- D) Ağır ceza mahkemesi başkanı
- E) Kara Kuvvetleri Komutanı

95. 1982 Anayasası'na göre, adliye mahkemelerince verilen karar ve hükümlerin son inceleme mercii olan yüksek mahkeme aşağıdakilerden hangisidir?

- A) Anayasa Mahkemesi
- B) Yargıtay
- C) Danıştay
- D) Sayıştay
- E) Askerî Yüksek İdare Mahkemesi

96. 1982 Anayasası'na göre, olağanüstü hâl ilan etme yetkisi aşağıdakilerden hangisine aittir?

- A) Cumhurbaşkanı başkanlığında toplanan Bakanlar Kurulu
- B) Başbakan başkanlığında toplanan Bakanlar Kurulu
- C) Dışişleri Bakanı
- D) İçişleri Bakanı
- E) Genelkurmay Başkanı

97. 1982 Anayasası'na göre, TBMM'de boşalan üyeliklerin sayısı kaç olduğu takdirde 3 ay içinde ara seçimlerin yapılmasına karar verilmesi zorunludur?

- A) 5
- B) 10
- C) 18
- D) 20
- E) 28

98.

- I. 1876
- II. 1921
- III. 1924
- IV. 1961
- V. 1982

**Yukarıdaki anayasalardan hangileri çift meclisli bir yasama organı düzenlemiştir?**

- A) Yalnız I      B) Yalnız III      C) I ve IV  
D) I, II ve III      E) I, II ve IV

99. 1982 Anayasası'na göre, aşağıdakilerden hangisi oy kullanma hakkına sahip değildir?

- A) Türk Silahlı Kuvvetlerinde görevli subaylar
- B) Askerî öğrenciler
- C) Üniversite öğrencileri
- D) Ceza infaz kurumunda bulunan tutuklular
- E) Polis Meslek Yüksekokulu öğrencileri

100. 1982 Anayasası'na göre, aşağıdakilerden hangisi milletvekilliğinin düşme sebepleri arasında yer almaz?

- A) İstifa etmek
- B) Kısıtlanmak
- C) Partinin kapatılmasına beyan ve eylemleri ile sebep olmak
- D) Milletvekili seçilmeye engel bir suçtan kesin hüküm giymek
- E) Meclis çalışmalarına izinsiz veya özürsüz olarak 1 ay içinde 5 birleşim günü katılmamak

## TEST 1

SORU SIRA	CEVAP
1	D
2	B
3	E
4	C
5	A
6	E
7	E
8	A
9	B
10	E
11	D
12	B
13	D
14	A
15	C
16	B
17	D
18	C
19	A
20	D
21	E
22	C
23	A
24	C
25	D
26	B
27	A
28	C
29	B
30	A
31	E
32	A
33	D
34	A
35	C
36	D
37	E
38	B
39	B
40	E
41	A
42	B
43	D
44	C
45	A
46	D
47	A
48	B
49	C
50	C
51	D
52	C
53	A

54	D
55	A
56	B
57	C
58	B
59	E
60	E
61	C
62	A
63	B
64	E
65	D
66	A
67	C
68	D
69	A
70	B
71	C
72	E
73	D
74	C
75	D
76	E
77	D
78	C
79	A
80	B
81	C
82	A
83	B
84	E
85	D
86	A
87	B
88	D
89	C
90	B
91	C
92	E
93	D
94	D
95	B
96	A
97	E
98	C
99	B
100	C