



2012 SAYIŞTAY BAŞKANLIĞI  
SAYIŞTAY DENETÇİ YARDIMCISI ADAYLIĞI  
ELEME SINAVI

GENEL YETENEK TESTİ  
GENEL KÜLTÜR TESTİ  
ALAN BİLGİSİ TESTİ

21 EKİM 2012

T.C. KİMLİK NUMARASI :

ADI :

SOYADI :

SALON NO. :

SIRA NO.:

**Soru kitapçık numarasının cevap kâğıdına kodlanmamasının veya yanlış kodlanmasının sorumluluğu adaya aittir.**

SORU KİTAPÇIK  
NUMARASI :

**TEMEL SORU  
KİTAPÇIĞI**

Bu numarayı cevap kâğıdınızdaki ilgili alana kodlamayı unutmayınız.

**DİKKAT! SINAV BAŞLAMADAN ÖNCE AŞAĞIDAKİ UYARILARI MUTLAKA OKUYUNUZ.**

1. T.C. Kimlik Numaranızı, Adınızı, Soyadınızı, Salon Numaranızı ve Sıra Numaranızı, Soru Kitapçığı üzerindeki ilgili alanlara yazınız.
2. Soru Kitapçık Numaranız yukarıda verilmiştir. Bu numarayı cevap kâğıdınızdaki ilgili alana kodlayınız ve aşağıdaki ilgili alanı imzalayınız. Salon görevlisinin de hem soru kitapçığındaki hem de cevap kâğıdınızdaki ilgili alanı imzalamasını sağlayınız. Bu kodlamayı cevap kâğıdınıza yapmadığınız veya yanlış yaptığınız takdirde, sınavınızın değerlendirilmesi mümkün değildir.
3. Bu sayfanın arkasında yer alan açıklamayı dikkatle okuyunuz.

**Adayın imzası:**

Soru kitapçık numarasını doğru kodladım.

**Salon görevlisinin imzası:**

Adayın soru kitapçık numarasını cevap kâğıdına doğru kodladığını onaylıyorum.

SYM

## AÇIKLAMA

1. Bu kitapçıkta, **Genel Yetenek Testi**, **Genel Kültür Testi** ve **Alan Bilgisi Testi** bulunmaktadır.
2. Bu sınav için verilen toplam cevaplama süresi **150 dakikadır (2,5 saat)**.
3. Bu kitapçıkta testlerde yer alan her sorunun sadece bir doğru cevabı vardır. Bir soru için birden çok cevap yeri işaretlenmişse o soru yanlış cevaplanmış sayılacaktır.
4. Değiştirmek istediğiniz bir cevabı, size verilen silgiyle, cevap kâğıdını örselemeden, temizce siliniz ve yeni cevabınızı işaretlemeyi unutmayınız.
5. **Bu sınavın değerlendirilmesi doğru cevap sayısı üzerinden yapılacak, yanlış cevaplar dikkate alınmayacaktır.** Bu nedenle, her soruda size en doğru görünen cevabı işaretleyerek cevapsız soru bırakmanız yararınıza olabilir.
6. Cevaplamaya istediğiniz sorudan başlayabilirsiniz. Bir soru ile ilgili cevabınızı, cevap kâğıdında o soru için ayrılmış olan yere işaretlemeyi unutmayınız.
7. Sınavda uyulacak diğer kurallar bu kitapçığın arka kapağında belirtilmiştir.

1. Bu testte 34 soru vardır.

2. Cevaplarınızı, cevap kâğıdının Genel Yetenek Testi için ayrılan kısmına işaretleyiniz.

1. Bir dönemin ruhunu taşıyan kitaplarla yeniden buluşmak, eski bir tanıdıkla karşı karşıya gelmeye benzer. Böyle kitapların satır aralarına, sayfa kenarlarına, bölüm sonlarına insanın kendi kişisel tarihi de sızar. Yeniden okuduğunda bir kitabı okumuş olmaktan çok daha fazlasını hissedersin. İçine hayat kaçar böylelikle ve sen de hayatını sayfa sayfa çevirdiğini hissedersin.

**Bu parçadaki altı çizili sözle kitaba ilişkin olarak anlatılmak istenen aşağıdakilerden hangisidir?**

- A) İnsanın yaşamından izler barındırma  
B) Yaşamı sevdirecek özellikler barındırma  
C) Yaşamın olumlu yanlarını görme  
D) Başka insanların yerine kendimizi koyma  
E) Başkalarının mutluluğunu isteme

2. Editör olarak bir kitabın çevirisini, orijinaliyle bire bir karşılaştırarak okumak gerek. Doğru ifadeyi bulmak, yanlış ya da eksik çevrilen cümleleri yakalamak için. Çeviri kitaplar üzerinde çalışırken yazarın vermek istediği duyguyu tam olarak aktarabilmek için en zor yanı.

**Bu parçadaki altı çizili söze anlamca en yakın açıklama aşağıdakilerden hangisidir?**

- A) Anlatım özelliklerini ön plana çıkarmak  
B) Aslına en uygun ifadeyi bulmak  
C) Düşünceye, estetik bir yön kazandırmak  
D) İçerikle biçimi dengelemek  
E) Kendi yorumunu katarak yansıtmak

3. (I) Köydeki ilk gecemizde bir eve konuk oluyoruz. (II) Çeşit çeşit yemeklerle donatılıyor masa. (III) Başlıyoruz ev halkıyla koyu bir sohbe. (IV) Düşünüyorum da çok gezmenin en ilginç yanlarından biri yeni insanlar tanımak olsa gerek. (V) Afiyetle yemeklerimizi yiyip ev halkına teşekkür ettikten sonra oradan ayrılıyor.

**Bu parçadaki numaralanmış cümlelerin hangisinde tahmin söz konusudur?**

- A) I. B) II. C) III. D) IV. E) V.

4. **Aşağıdaki cümlelerin hangisinde öznel bir değerlendirme yoktur?**

- A) Nuri Bilge Ceylân; her filminde öncekilerden farklı konulara, sinema dilini hiç değiştirmeden yönelen bir yönetmendir.  
B) *Üç Maymun* adlı filmi Yeşilçam filmlerini anımsatacak türden bir hikâyeye sahip olmasına rağmen yakın planın işlevselliğini göstermesi açısından dikkat çekici.  
C) *Uzak* adlı filmde yönetmen, bir şehir insanının kasabadan gelen akrabasının etkisiyle özünü hatırlayıp, geçmişi sorgulama gibi sorunlarını ele almaktadır.  
D) Yönetmen; *Koza* adlı filminden bu yana geçirdiği evrede, şatafatlı hayatlardan çok, aramızdaki sıradan insanların kaygılarını, iç çatışmalarını özenle sunmaya çalışıyor.  
E) *Kasaba* adlı filmde; kasaba çocuklarının hikâyesi, birçoğumuzun yaşadıklarına ne kadar da benzer ve o küçük kasabada insanı hayata, doğal yaşamın güzelliklerine bağlayan ayrıntılar karşımıza çıkar.

5. (I) Mersin'deki Silifke Kalesi'nde sürdürülen kazı çalışmalarında Evliya Çelebi'nin *Seyahatname*'de bahsettiği caminin kalıntılarına ulaşıldı. (II) Varlığı tartışmalara konu olan ve Osmanlı Dönemi'ne ait 500 yıllık Bayezid Camisi'nin kalıntıları, kalenin tam orta bölümünde yapılan kazılarda bulundu. (III) "Komutan konutu" olarak adlandırılan bölümün yakınlarında olan cami, bölgenin Türk-İslam hâkimiyetine geçtiğinin bir göstergesi olarak görülüyor. (IV) Dikdörtgen planlı ve ortasında mihrap nişi bulunan caminin, kalenin tam ortasında bulunması bölgedeki Türk-İslam hâkimiyetinin etkinliğini ve gücünü gösteriyor. (V) Ayrıca camide, Rumi ve geometrik geçmeli taş kapı süslemesi de yer alıyor.

**Silifke Kalesi'ndeki caminin anlatıldığı bu parçadaki numaralanmış cümlelerle ilgili olarak aşağıda verilenlerden hangisi yanlıştır?**

- A) I.cümlede, bir edebî eserde sözü edilmiştir.  
 B) II. cümlede, nerede yer aldığı üzerinde durulmuştur.  
 C) III. cümlede, ne anlam ifade ettiği dile getirilmiştir.  
 D) IV. cümlede, yapısıyla ilgili bilgi verilmiştir.  
 E) V. cümlede, önemi belirtilmiştir.

6. (I) Sanatçıların, yazarların çoğunlukla eleştirmenlerden pek hoşlanmadıklarını biliyoruz. (II) Pek çok sanatçı, sanat hayatı boyunca eleştiri yazılarını keskin bir kılıç gibi üzerinde hissetmiştir. (III) Bu eleştiriler yüzünden yataklara düşenler mi dersiniz, isimlerini değiştirerek izlerini kaybettirenler mi? (IV) Bu tedirgin sanatçılardan biri de Wirginia Woolf'tur. (V) Woolf, eleştirmenleri peşindeki tazılar, kendini de bu tazılardan kaçan ve her romanıyla arayı açmaya çalışan bir "tavşan" olarak niteler.

**Bu parçadaki numaralanmış cümlelerle ilgili olarak aşağıda verilenlerden hangisi yanlıştır?**

- A) I. cümlede, yaygın bir görüş dile getirilmiştir.  
 B) II. cümlede, bir benzetme yapılmıştır.  
 C) III. cümlede, eleştirilerin yazarlar üzerindeki etkisinden söz edilmiştir.  
 D) IV. cümlede, önceki cümlede belirtilene örnek verilmiştir.  
 E) V. cümlede, kişileştirmeye başvurulmuştur.

7. Birkaç senedir bu güzel ülkede yaşadığını belirten  
 I  
 yazar, herkesin bildiği büyük kentlerin yanısıra nehir  
 II III  
 boyunca inci gibi dizilmiş köylerin ve kasabaların  
 da çok güzel olduğunu söylüyor. Ayrıca halkın da  
 çok cana yakın ve yardımsever olduğunu belirtiyor.  
 IV V

**Bu parçadaki numaralanmış sözlerden hangisinin yazımı yanlıştır?**

- A) I. B) II. C) III. D) IV. E) V.

8. Ona kızdıysam bu, onu hiç affetmeyeceğim demektir anlamına gelmiyor ki.

**Bu cümledeki anlatım bozukluğu aşağıdaki değişikliklerden hangisiyle giderilebilir?**

- A) "gelmiyor ki" yerine "gelmez ki" sözü getirilerek  
 B) "demektir" sözcüğü atılarak  
 C) "ona"dan önce "eğer" sözcüğü getirilerek  
 D) "onu" sözcüğü atılarak  
 E) "anlamına gelmiyor ki" yerine "anlamında değil ki" sözü getirilerek

9. 1988; İstanbul Sinema Günleri'nin en çok andığım, hatırladığım yıllarından biridir. Cihangir Pürtelaş Sokak'taki tek odalı evimden kuşluk vakti çıkar, Kazancı Yokuşu'nu nefes nefese tırmanır, köşedeki çiçekçiyile selamlaştıktan sonra bahar sisleri arasında ıslak ve تنها Beyoğlu'na doğru yürüdüm. Sokağın başındaki mandırada bir şeyler atıştırırken ayaküstü festival program kitapçığına, kim bilir kaçınıcı kez, bir şey kaçırırım korkusuyla göz atardım. Bu programı inceleme faslı, festivalin açılışından iki hafta kadar önce mart zemherisinde sabahın beşinde bilet kuyruğuna girdiğimiz yerin önünde başlar; erguvanların açtığı, festivalin son seansına kadar sürerdi.

**Bu parçanın anlatımında aşağıdakilerden hangisi ağır basmaktadır?**

- A) Öyküleme B) Örnekleme C) Kişileştirme  
D) Tartışma E) Açıklama

10. (I) "Gesi Bağları" hüzünlü bir türkünün adı. (II) Bu türküye konu olan Gesi ise Kayseri merkezine 18 km uzaklıkta. (III) Melikgazi ilçesine bağlı bu belde on bin yıllık geçmişe sahip. (IV) Bir pazar günü motosikletimizle beldeye doğru yol almaya başlıyoruz. (V) Şansımızdan trafik sıkışıklığı pek yok. (VI) Yolculuk yirmi dakika sürüyor. (VII) Belde merkezinde oyalanmadan ara sokaklara giriyoruz. (VIII) Dar sokaklarda eski evler sıralanmış. (IX) Yolumuzu, kışa hazırlık yapan bir ailenin odunları kesiyor, inip yardım ediyoruz.

**Bu parça iki paragrafa ayrılmak istense ikinci paragraf hangi cümleyle başlar?**

- A) II. B) IV. C) V. D) VI. E) VIII.

11. Kültürlerarası buluşmalar çeviriler aracılığıyla gerçekleşir ama çevrilecek ürünü belirleyen en önemli etken "pazar" ilişkileridir. Bu nedenle çeviri sıkıntısı çekilen dillerde yazılmış kitapların, bir de satış şansları düşükse bir başka ülkede yayımlanması ya rastlantısaldır ya da özel çaba gerektirir. Dil engelini aşmak için bulunan doğrudan çeviri yerine İngilizce üzerinden dolaylı çeviri yöntemi ise genellikle hayal kırıklığıyla sonuçlanır. İşte bu nedenle yayınevleri, belli başlı dil ve kültürlerde üretilmiş eserlere yöneliyor. Bu yüzden, yayımlanan roman sayısındaki hızlı artışa rağmen ----.

**Bu parçanın sonuna düşüncenin akışına göre aşağıdakilerden hangisi getirilmelidir?**

- A) bu ülkeler bir yandan kendi kültürünü, edebiyatını öne çıkarmak isterken diğer ülkelerle doğrudan bağlantılar kurmayı amaçlıyor  
B) hep aynı kültürler arasında dolaşılıyor, edebiyatı, dünya ölçeğinde yeterince tanıyamıyor, çoğu başyapıt düzeyindeki romanı okuma olanağı bulamıyoruz  
C) bir ülkenin edebiyatını ele alan araştırmacılar gerek tematik gerek edebî eğilimleri sıralarken gerçekçiliği, eleştireliliği, dildeki karamsarlığı öne çıkarıyor  
D) bu çabalar, dünyaca tanınmış edebiyatlardan yapılan çevirilerde bir artış sağlasa da o ülke edebiyatını bir bütün olarak görme konusunda yetersiz kalıyor  
E) kimileri, kendi yazarlarını ve kitaplarını başka ülkelerdeki okuyucularla buluşturmak, diğer yandan onların edebiyatını tanımak için çaba gösteriyor

12. Tarihimizdeki gelişmeleri romanlarında yansıtmaya çalışan Yakup Kadri Karaosmanoğlu'nun bu saygıdeğer çabası, başarılı yapıtlar oluşturmaya bence yetmiyor. Romanları, tarihsel gerçekler açısından ilginç olsa da onların sanat eseri olarak güçsüzlüğü belirgin olarak görülüyor. Gerçekte tarih, olayları insanlardan soyutlayarak anlatır; romanda ise aynı olayların insanlar üzerindeki etkileri ve gerçek insan çatışmaları anlatılır. Unutmayalım, iç savaşları ve çatışmalarıyla yansıtılmamış kahramanlar oluşturmak, gerçek anlamda roman yazmak için yeterli olmaz.

**Bu parçadaki değerlendirmeye göre asıl anlatılmak istenen aşağıdakilerden hangisidir?**

- A) Yakup Kadri'nin romanlarında kişilerin ruhsal durumları üzerinde durulmadığı
- B) Yakup Kadri'nin Cumhuriyet Dönemi'nin önemli yazarlarından biri olduğu
- C) Yakup Kadri'nin romanlarını besleyen en önemli kaynağın tarih olduğu
- D) Tarihî romanlarda gerçekleri olduğu gibi yansıtmak gerektiği
- E) Tarihimizde roman konusu olabilecek ilginç olayların ve kişilerin bulunduğu

13. Bonn,1990'a kadar tam 41 yıl Almanya'nın başkentiydi. Buna karşın ne Berlin ve Hamburg gibi dev metropollere dönüştü ne de Frankfurt gibi gökdelen cenneti oldu. Sessizce akan Ren Nehri'nin kıyısında, ormanlarla çevrili bir huzur kenti hâlâ. Bu çelişkili durum, geçmişte "köy başkent" esprisine de yol açmıştı. Burada her yıl sonbahar, şehrin has evladı Beethoven'ın anısına düzenlenen bir festivalle karşılanıyor. Müzik, konser salonlarından meydanlara, okullardan sokaklara taşıyor. Fırsatı değerlendirip geçen hafta tatilimin son üç gününü Bonn'u keşfe ayırdım. Bonn'un restoranları ve otelleri, diğer Alman kentlerine göre ucuzluğuyla beni şaşırttı. Beethoven'ın doğduğu evde, 30'unda sağırlığa mahkûm olan bestecinin dramına tanık oldum. Çağları aşan ses ustası Schumann'ın son nefesini verdiği odanın yanı başında, üç yetenekli gençten eserlerini dinledim.

**Bu parçada Bonn ile ilgili olarak aşağıdakilerden hangisine değinilmemiştir?**

- A) Uzun yıllar başkent olmasına karşın değişmediğine
- B) Kimi etkinliklere ev sahipliği yaptığına
- C) Bazı kentlerden ayrılan özelliğine
- D) Önemli sanatçıların yetiştiği bir yer olduğuna
- E) Şehirdeki yapıların tarihî önemine

14. Seçtiğiniz konu yeterince orijinal mi yoksa öteden beri yazılanları mı yineliyorsunuz? Yazarken yansıtmaya çalıştığınız karakter, gereksiz konuşup duruyor mu yoksa konuşma cümleleri onun kişiliğine göndermeler yapacak nitelikte mi? Yalın bir dille yazdığınızda bile farklı anlamları çağırıştırıyor musunuz yoksa söylenecek her sözü yayararak sanatlı anlatımı mı seçiyorsunuz? Diliniz, kendisine yakın gördüğünüz yazarların ve kitapların etkisinde mi yoksa sizi yansıtmaya başladı mı? Yazdığınız metnin biçim ve içerik özelliklerini belirleyip çalışmalarınızı değerlendirebileceğiniz bu soruları sorup yanıtlarını da alabileceğiniz için grup çalışmaları bulunmaz bir fırsattır.

**Bu parçaya göre grup çalışmasının faydaları arasında aşağıdakilerden hangisi yoktur?**

- A) Tekrara düşmekten kurtulma
- B) Özgün nitelikler kazanmayı sağlama
- C) Dili etkili kullanma
- D) Düşüncelerinde ısrarcı olma
- E) İşlevsiz öge kullanmama

15. Bu sanatçı, yirmi yıldan fazla bir süredir kırlarda, ormanlarda ve deniz kıyılarında "doğa heykelleri" yapıyor. Gençlik yıllarında tarlalarda çalışırken doğanın gizlerini keşfetmeye ve oradan topladığı malzemelerle yeni biçimler ortaya koymaya başlamış. Sanat eğitimi aldıktan sonra, dünyayı dolaşmaya ve gittiği yerlerde çevreden topladığı, oralara özgü malzemelerle heykeller yapmaya devam etmiş. Kullandığı malzemeler mevsimlere göre değişiyor: taş, kum, kuş tüyü, kil, buz, kar... Heykellerini yaparken yapıştırıcı ya da birleştirici malzemeler de kullanmıyor. Bu nedenle yapıtları, doğal koşulların etkisiyle zamanla yok oluyor. Zaten onun amacı da sanatıyla, doğanın gücünü ve doğadaki döngüleri insana anımsatmak.

**Bu parçadan sözü edilen sanatçıyla ilgili olarak aşağıdakilerin hangisi çıkarılamaz?**

- A) Doğa konusunda oldukça bilgili olduğu
- B) Özgün yöntemler kullandığı
- C) Sanatının iletisini herkesin anlayabildiği
- D) Yapıtlarının geleceğe kalmasını umursamadığı
- E) Çalışmalarını belirli bir bölgeyle sınırlamadığı

16. Çeşme, özellikle Alaçatı, son yılların en popüler tatil mekânı. Beldeyle ilgili herkesin kendine göre bir fikri var. Kimisi geldiği noktadan hiç memnun değil, kimisinin keyfi yerinde. Açıkçası ben Alaçatı'nın kontrollü restorasyonundan memnun olanların yanındayım. Birçok tatil mekânına göre Alaçatı daha düzgün ve belirli dokuları korunarak büyüyor. Bu büyüme, insanları çekecek aktivitelerin de doğmasını sağlıyor. Benim ilgimi en çok çeken aktiviteyse altı yıldır burada izlediğim Dünya Windsurf Şampiyonası. Bu sene dünya klasmanında bir Türk sörfçüsünün üçüncülüğü düşünüldüğünde bu konunun fazlasıyla ciddiye alındığı görülüyor. Sözün kısası, benim için burada geçirdiğim hafta sonu oldukça doyurucuydu.

**Bu parçada Alaçatı ile ilgili olarak aşağıdakilerden hangisine değinilmemiştir?**

- A) Benzeri yerlerden daha iyi bir gelişim gösterdiğine
- B) Değişimiyle ilgili farklı görüşlere
- C) Eleştirilen yönlerinin bulunduğu
- D) Kimi etkinliklere destekçi bulmakta zorluk çekildiğine
- E) Büyük çaplı etkinlikler yapıldığına

17. Günümüzde çok hızlı bir değişime tanık oluyoruz. *İnternet*'in herkesin üzerinde oluşturduğu etki giderek artıyor ve dijital dünya, her geçen gün hayatımızın daha önemli bir parçası oluyor. Gerek bilgisayarlarımızdan gerek mobil telefonlarımızdan ulaştığımız bu dijital dünya sayesinde bir tür devrime tanık oluyoruz. Bu dijital devrim, hem sosyal hayatta hem de iş hayatında hızlı değişimleri beraberinde getirirken tüketici davranışları da bundan nasibini alıyor. Bir yandan klasik alışveriş alışkanlıkları "online" dünyaya kopyalanırken bir yandan da tüketici artık 7/24 ürün satın alma eğilimi gösteriyor. Böyle önemli değişikliklerin olduğu, e-ticaret yapan firmaların yapmayanlara oranla 4 kat büyüdüğü bu dönemde, dünyadaki hızlı değişimin farkına varan firmalar, kendilerine sunulan çeşitli fırsatları değerlendirerek harekete geçiyor. *İnternet* ekonomisine dâhil olarak bir yandan rekabet güçlerini artırırken bir yandan da oluşturdukları ek değer ve dinamizmle ülke ekonomisine katkıda bulunuyor.

**Bu parçadan dijital dünyayla ilgili olarak aşağıdakilerden hangisi çıkarılamaz?**

- A) Çeşitli teknolojik araçlar kullanmayı gerektirdiği
- B) Yaşamın çeşitli alanlarını etkisi altına aldığı
- C) Yaşamın alışlagelen ve klişeleşmiş yanlarını değiştirdiği
- D) Tüketicilerin kimi durumlarda çeşitli olumsuzluklarla karşılaştığı
- E) Kimi firmaların daha hızlı gelişmesine katkı sağladığı

18. 
$$\frac{(18)^{1,5}}{(8)^{1,5}}$$

**işleminin sonucu kaçtır?**

- A)  $\frac{3}{2}$
- B)  $\frac{3}{4}$
- C)  $\frac{9}{4}$
- D)  $\frac{9}{8}$
- E)  $\frac{27}{8}$

19.  $\sqrt[3]{2,7} (\sqrt[3]{1,25} - \sqrt[3]{0,64})$

işleminin sonucu kaçtır?

- A) 0,2      B) 0,3      C) 2  
D) 2,7      E) 3

20. Tam sayılar kümesi üzerinde bir \* işlemi, her x ve y tam sayısı için

$$x * y = \begin{cases} \frac{x \cdot y}{2}, & x+y \text{ toplamı tek sayı ise} \\ \frac{x+y}{2}, & x+y \text{ toplamı çift sayı ise} \end{cases}$$

biçiminde tanımlanıyor.

Buna göre,  $(5 * 3) * 1$  işleminin sonucu kaçtır?

- A) 2      B) 3      C) 4      D) 5      E) 6

21. a, b ve c gerçel sayılar olmak üzere,

$$a \cdot b^3 < 0$$

$$a > c$$

$$b^2 - c < 0$$

olduğuna göre a, b ve c'nin işaretleri sırasıyla aşağıdakilerden hangisidir?

- A) -, +, -      B) +, -, -      C) +, -, +  
D) -, -, +      E) +, +, +

22. A, B<sup>2</sup>, A + B ardışık çift sayılar ve

$$A < B^2 < A + B$$

olduğuna göre, A - B farkı kaçtır?

- A) 2      B) 4      C) 6      D) 8      E) 10



23. a ve b birer gerçel sayı olmak üzere,

$$\frac{4 \cdot 2^a}{3^{b-1}} = \frac{9 \cdot 3^a}{2^{b-1}}$$

olduğuna göre, a + b toplamı kaçtır?

- A) -3    B) -2    C) -1    D) 1    E) 2

24. n bir doğal sayı ve  $n > 1$  olmak üzere,

$$\frac{(n+2)n! + n^2(n-1)!}{(n+1)!}$$

ifadesi aşağıdakilerden hangisine eşittir?

- A) n    B) n-1    C) n+1  
D) 1    E) 2

25.

$$\frac{x^2 + xy}{x-y} \cdot \frac{x^2 - y^2}{x^3 + x^2y} = -3$$

olduğuna göre,  $\frac{y}{x}$  oranı kaçtır?

- A) -4    B) -3    C) -2  
D)  $\frac{3}{2}$     E)  $\frac{3}{4}$

26. Bir simitçi, fırından aldığı 70 simidin 60'ını belirli bir fiyattan sattığında fırıncıya ödediği paranın % 20 fazlasını elde ediyor.

**Bu simitçi, bir simidi yüzde kaç kârla satmaktadır?**

- A) 25    B) 30    C) 40    D) 50    E) 75

27. Orhan, parasının yarısını harcıyor ve babası ona kalan parasının  $\frac{1}{3}$ 'ü kadar para veriyor.

**Son durumda Orhan'ın 180 TL'si olduğuna göre, başlangıçta kaç TL'si vardır?**

- A) 360 B) 330 C) 300 D) 270 E) 240

28. Arda'nın toplam 60 tane olan kırmızı veya mavi renkli oyun bloklarının bir kısmı kare, geri kalanı ise üçgen biçimindedir. Bu oyun bloklarının  $\frac{2}{3}$ 'ü kırmızı renklidir;  $\frac{2}{5}$ 'i ise üçgen biçimindedir.

**Mavi renkli üçgen blokların sayısı, mavi renkli kare blokların sayısına eşit olduğuna göre, Arda'nın kaç tane kırmızı renkli üçgen bloku vardır?**

- A) 12 B) 14 C) 18 D) 22 E) 28

29. Saatte 12 litre su akıtan bir musluğun altına bir kova yerleştiriliyor. Musluktan kovaya su akmaya başladıktan 8 dakika sonra kovanın beşte biri doluyor.

**Buna göre, kovanın hacmi kaç litredir?**

- A) 6 B) 8 C) 9 D) 10 E) 12

30. Aşağıdaki tabloda, bir bakkalda A ve B marka deterjanların bir kilogramının alış ve satış fiyatları verilmiştir.

	Alış fiyatı (TL)	Satış fiyatı (TL)
A marka	10	12
B marka	15	16

**Bu deterjanlardan toplam 30 kg satan bakkal alış fiyatları üzerinden % 10 kâr elde ettiğine göre, A marka deterjandan kaç kg satmıştır?**

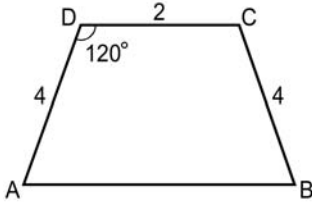
- A) 18 B) 16 C) 14 D) 12 E) 10

31. Bir sepette 6 yeşil ve 10 kırmızı elma vardır. Sepetten aynı anda rastgele 2 elma alınıyor.

Bu iki elmanın farklı renkte olma olasılığı kaçtır?

- A)  $\frac{1}{2}$       B)  $\frac{2}{3}$       C)  $\frac{3}{4}$   
 D)  $\frac{3}{8}$       E)  $\frac{5}{16}$

32.



ABCD bir yamuk

$DC \parallel AB$

$m(\widehat{ADC}) = 120^\circ$

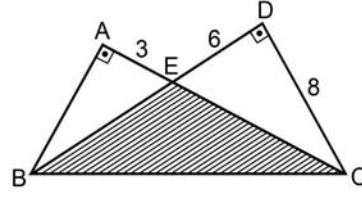
$|AD| = |CB| = 4 \text{ cm}$

$|DC| = 2 \text{ cm}$

Yukarıdaki verilere göre, ABCD yamuğunun alanı kaç  $\text{cm}^2$  dir?

- A) 12      B) 16      C)  $6\sqrt{3}$   
 D)  $8\sqrt{3}$       E)  $10\sqrt{3}$

33.



ABC ve DBC birer dik üçgen

$|AE| = 3 \text{ cm}$

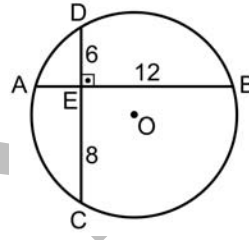
$|ED| = 6 \text{ cm}$

$|DC| = 8 \text{ cm}$

Yukarıdaki verilere göre, EBC üçgeninin alanı kaç  $\text{cm}^2$  dir?

- A) 20      B) 24      C) 28      D) 32      E) 36

34.



O merkezli çember

$DC \perp AB$

$|EB| = 12 \text{ cm}$

$|DE| = 6 \text{ cm}$

$|EC| = 8 \text{ cm}$

Yukarıdaki verilere göre, dairenin alanı kaç  $\text{cm}^2$  dir?

- A)  $50\pi$       B)  $55\pi$       C)  $60\pi$       D)  $65\pi$       E)  $70\pi$

1. Bu testte 26 soru vardır.

2. Cevaplarınızı, cevap kâğıdının Genel Kültür Testi için ayrılan kısmına işaretleyiniz.

1. Mondros Ateşkes Anlaşması'ndan sonra kurulan millî cemiyetlerden hangisinin amacı özellikle Rum ve Ermenilerin Paris Barış Görüşmelerindeki isteklerine karşı gereken girişimlerde bulunmak olmuştur?

- A) Kilikyalılar  
B) Millî Kongre  
C) Trakya-Paşaeli  
D) Trabzon Muhafaza-i Hukuk-ı Milliye  
E) Redd-i İlhak

2. Aşağıdakilerden hangisinin, Amasya Genelgesi'nde imzası yoktur?

- A) Refet Bele  
B) Rauf Orbay  
C) Ali Fuat Cebesoy  
D) Mustafa Kemal Atatürk  
E) İsmet İnönü

3. Aşağıdakilerden hangisi, Sakarya Savaşı öncesinde Türk ordusunun eksiklerini tamamlamak için 7-8 Ağustos 1921'de yayınlanan Tekâlif-i Milliye Emirleri'nin kapsamında değildir?

- A) Herkesin, ziynet eşyaları ve paralarının % 40'ını vermesi  
B) Herkesin, elindeki bez, patiska, yün vb.nin % 40'ı oranında teslim etmesi  
C) Benzin, motorin, kablo, lastik vb.nin % 40'ının orduya verilmesi  
D) Herkesin, elindeki deve, öküz, at vb. hayvanların % 20'sini orduya vermesi  
E) Her türlü gıda maddelerinin % 40'ının teslim edilmesi

4. TBMM açıldıktan sonra Kuvayimilliyeye birlikleri aşağıdakilerden hangisine bağlanmıştır?

- A) TBMM Hükûmetine  
B) Meclis Başkanlığına  
C) Milli Savunma Bakanlığına  
D) Genelkurmay Başkanlığına  
E) Temsilciler Kuruluna

5. Atatürk "Ankara'da millî hükûmet kurulmadan önce İstanbul'da bir sultan ve bunun bir hükûmeti vardı. Bu hükûmet biçimi, millete istekli olduğu bağımsızlık ve hürriyeti vermeye yeterli değildir. Bu hükûmet biçiminin verdiği kötü sonuçlar ortadadır." demiştir.

Atatürk'ün, Nutuk'ta yer alan bu sözleriyle aşağıdakilerden hangisine vurgu yaptığı söylenebilir?

- A) Halifeliğin kaldırılmasına  
B) Saltanatın kaldırılmasına  
C) Tevhid-i Tedrisat Kanunu'nun çıkarılmasına  
D) Medeni Kanun'un kabul edilmesine  
E) Şer'iyeye ve Evkaf Vekâletinin kaldırılmasına

6. Atatürk Dönemi'nde toprak reformuna yönelik kanunun çıkarılmasının, aşağıdaki ilkelerden hangisinin bir gereği olduğu savunulabilir?

- A) Halkçılık  
B) Milliyetçilik  
C) Devletçilik  
D) Cumhuriyetçilik  
E) Laiklik

7. Türkiye Cumhuriyeti, "Yurtta sulh, cihanda sulh" ilkesi doğrultusunda bölgesel ve uluslararası barışçı faaliyetlere etkin olarak katılmıştır.

**Aşağıdakilerden hangisi, Türkiye Cumhuriyeti'nin katıldığı bu oluşumlardan biri değildir?**

- A) Briand-Kellogg Paktı      B) Milletler Cemiyeti  
C) Balkan Antantı              D) Locarno Antlaşmaları  
E) Sadabat Paktı

8. İlk Çağ'da Anadolu'da kurulan uygarlıklarla ilgili olarak aşağıda verilen bilgilerden hangisi doğrudur?

- A) Lidyalıların bilinen ilk kralı Gordios, başkenti ise Gordion'dur.  
B) Frig şehir devletleri arasında en tanınmışları; Efes, Milet, Smyrna'dır.  
C) Hititler, Mezopotamya'dan aldıkları kanunlara eklemeler yaparak Anadolu'daki ilk kanunları oluşturmuşlardır.  
D) Urartular, Gediz ve Küçük Menderes vadileri arasında kalan bölgede yaşamışlardır.  
E) İonyalıların ilk döneminde kralın yetkileri, soylulardan oluşan Pankuş Meclisi tarafından sınırlandırılmıştır.

9. Sözcük anlamı "yeniden doğuş" olan Rönesans hareketi aşağıdaki ülkelerin hangisinde başlamıştır?

- A) Almanya      B) Fransa      C) İngiltere  
D) İtalya              E) Portekiz

10. Baas Hareketi için aşağıdakilerden hangisi doğru değildir?

- A) Milliyetçi ve sosyalist bir harekettir.  
B) Arap Birliğini benimsemiştir.  
C) Laik bir Arap toplumunu amaçlamaktadır.  
D) Suriye ve Irak'ta iktidara gelmiştir.  
E) Vahhabilik akımını desteklemiştir.

11. Aşağıdakilerden hangisi, Türk mimarlığında 1940-1950 yılları arasında görülen İkinci Ulusal Mimarlık Dönemi'nin özelliklerini yansıtan yapılardan biridir?

- A) Anıtkabir                      B) Beşiktaş İskelesi  
C) Tayyare Apartmanları      D) Bebek Camisi  
E) IV. Vakıf Hanı

12. Eski Yunan ve Roma eserlerinin incelenmesi ve yayımlanması sonucunda antik dönem sanatına duyulan hayranlığın artmasıyla Barok ve Rokoko üsluplarının abartılı tarzına bir tepki olarak doğan ve 18. yüzyıl sonunda tüm Avrupa'yı etkileyen sanat akımı aşağıdakilerden hangisidir?

- A) Romantizm      B) Neoklasisizm      C) Realizm  
D) Fovizm              E) Kübizm

13. I. Güneş ışınlarını hiçbir zaman dik açıyla alamaz.  
II. Kuzey kıyıları daha fazla yağış alır.  
III. Dağların güney yamaçları, kuzey yamaçlarına göre daha fazla güneş ışını alır.  
IV. Doğusu batısına göre daha soğuktur.

**Coğrafi koordinatları göz önüne alındığında Türkiye için yukarıdaki ifadelerden hangileri doğrudur?**

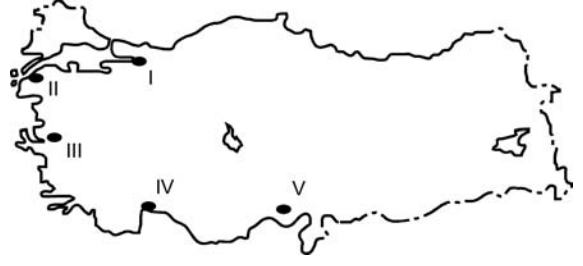
- A) I ve II      B) I ve III      C) II ve III  
D) II ve IV      E) III ve IV

14. Türkiye'de buğday tarımı en çok İç Anadolu'da yapılır. Konya ve Ankara, İç Anadolu'da buğday tarımının yoğun olduğu başlıca illerdir.

**Buna göre, İç Anadolu'da buğday üretiminin yaygın olmasında aşağıdakilerden hangisinin etkisi en azdır?**

- A) Yıl içinde yağışların büyük bölümünün ilkbaharda düşmesi  
B) Yer şekillerinin makineli tarıma uygun olması  
C) Yaz aylarının sıcak ve kurak geçmesi  
D) Sulama olanaklarının gelişmesi ve yaygınlaşması  
E) Devlet tarafından taban fiyat belirlenmesi ve destek alımları yapılması

15.



İklim koşullarının uygun olduğu ve ekonomik faaliyetlerin geliştiği yerler, Türkiye'de iç göç alan yerlerdir.

**Buna göre, yukarıdaki haritada numaralarla gösterilen yerlerden hangisinin daha az iç göç alması beklenir?**

- A) I      B) II      C) III      D) IV      E) V

16. Aşağıdaki illerden hangisi, Bakü-Tiflis-Ceyhan Ham Petrol Boru Hattı üzerinde yer almaktadır?

- A) Erzurum      B) Ağrı      C) Malatya  
D) Batman      E) Hatay

17. 1982 Anayasası'na göre, aşağıdakilerden hangisinin tüm üyeleri Cumhurbaşkanı tarafından seçilir?

- A) Askerî Yargıtay  
B) Yargıtay  
C) Danıştay  
D) Anayasa Mahkemesi  
E) Hâkimler ve Savcılar Yüksek Kurulu

18. 1982 Anayasası'na göre, Anayasa Mahkemesinin aştığıdaki kararlarından hangisine karşı yeniden inceleme başvurusu yapılabilir?

- A) Milletvekilliğinin düşürülmesinin iptaline ilişkin kararlar
- B) Yüce Divan kararları
- C) Bireysel başvurulara ilişkin kararlar
- D) Anayasa değışiklikleriyle ilgili verilen iptal kararları
- E) Yasama dokunulmazlığının kaldırılmasının iptaline ilişkin kararlar

19. 1982 Anayasası'na göre, TBMM seçimleri ile ilgili aştığıdaki ifadelerden hangisi yanlıştır?

- A) TBMM seçimleri kural olarak dört yılda bir yapılır.
- B) Seçimlerin geriye bırakılmasına yalnızca TBMM karar verebilir.
- C) Cumhurbaşkanı, TBMM seçimlerinin yenilenmesine karar veremez.
- D) TBMM üyeliklerinde boşalma olması hâlinde kural olarak ara seçime gidilir.
- E) Seçimler, yargı organlarının genel yönetim ve denetimi altında yapılır.

20. 1982 Anayasası'na göre, yasama dokunulmazlığı ile ilgili aştığıdaki ifadelerden hangisi yanlıştır?

- A) Yasama dokunulmazlığı TBMM tarafından kaldırılabilir.
- B) Milletvekili olmayan bakanlar da yasama dokunulmazlığından faydalanır.
- C) Ağır cezayı gerektiren suçüstü hâli, yasama dokunulmazlığının kapsamı dışındadır.
- D) Milletvekilleri hakkında seçimlerden önce veya sonra verilmiş bir ceza hükmünün yerine getirilmesi için milletvekilliğinin sonra ermesi gerekir.
- E) Milletvekili hakkında tazminat davası açılması için yasama dokunulmazlığının kaldırılması gerekir.

21. 1982 Anayasası'na göre, herhangi bir sebeple boşalan bakanlığa en geç kaç gün içinde atama yapılır?

- A) 7
- B) 8
- C) 10
- D) 15
- E) 30

22. Türkiye'yi 85. Akademi Ödülleri'nde temsil edecek film aştığıdakilerden hangisidir?

- A) Ateşin Düştüğü Yer
- B) Yeraltı
- C) Fetih 1453
- D) Bir Zamanlar Anadolu'da
- E) Babamın Sesi

23. 2012 yılında Nobel Fizik Ödülü'nü kimler almıştır?

- A) Saul Perlmutter, Brian Schmidt
- B) Serge Haroche, David Wineland
- C) Andre Geim, Konstantin Novoselov
- D) Makoto Kobayaşı, Peter Grünberg
- E) Albert Fert, George Smoot

24. İslam İşbirliđi Teşkilatı'nın 15-16 Ağustos 2012 tarihinde Mekke'de düzenlenen olađanüstü zirvesinde aşıđıdaki ülkelerden hangisinin üyeliđi askıya alınmıştır?

- A) Mısır
- B) Sudan
- C) İnan
- D) Suriye
- E) Myanmar

25. Dünya Ticaret Örgütü'nün 22 Ağustos 2012 tarihi itibarıyla 156. üyesi olan ülke aşıđıdakilerden hangisidir?

- A) Montenegro
- B) İnan
- C) Irak
- D) Rusya
- E) Japonya

26. Aşıđıdakilerden hangisi Kültür ve Turizm Bakanlığı tarafından verilen Kültür Sanat Büyük Ödülü'nü 2011 yılında alan isimlerden biridir?

- A) Ara Güler
- B) Metin Erksan
- C) Halil İnalıcık
- D) Yaşar Kemal
- E) Turgut Cansever



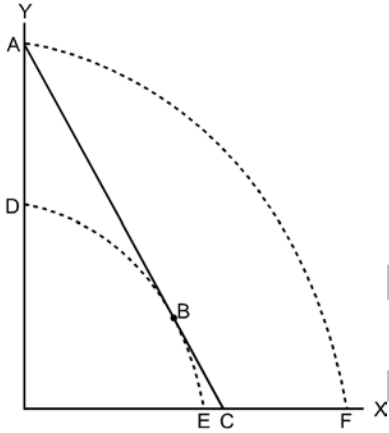
1. Bu testte 90 soru vardır.

2. Cevaplarınızı, cevap kâğıdının Alan Bilgisi Testi için ayrılan kısmına işaretleyiniz.

1. Üretim imkânları eğrisinin altında kalan bir nokta ile ilgili olarak aşağıdaki ifadelerden hangisi doğrudur?

- A) Ulaşılması imkânsızdır.  
 B) Eksik istihdamı göstermektedir.  
 C) Fiyatların çok düşük olduğunu göstermektedir.  
 D) Tasarruf olgusunu göstermektedir.  
 E) Optimum kaynak dağılımına tam istihdam öncesi ulaşıldığını göstermektedir.

2.



Yukarıdaki şekilde bir tüketiciye ait orijine göre içbükey kayıtsızlık eğrileri ve AC bütçe doğrusu verilmiştir.

**Tüketici dengesinin gerçekleştiği nokta aşağıdakilerden hangisidir?**

- A) A      B) B      C) C      D) D      E) E

3.  $U(x, y) = x^\alpha y^\beta$  fayda fonksiyonuna sahip bir tüketici, faydasını en yükseğe çıkardığı durumda malları eşit miktarda tüketiyorsa y malının fiyatı x malının fiyatının kaç katıdır?

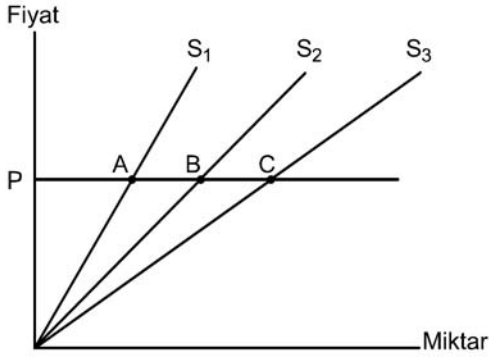
- A)  $\alpha$       B)  $\beta$       C)  $\alpha\beta$       D)  $\frac{\alpha}{\beta}$       E)  $\frac{\beta}{\alpha}$

4. Bir malın fiyatı P iken talebi  $Q = 180 - 3P$  fonksiyonu göstermektedir.

**Piyasada malın talebinin fiyat esnekliğinin mutlak değeri olarak 1 olduğu noktada, malın fiyatı ne kadar olur?**

- A) 20      B) 30      C) 60      D) 90      E) 180

5.



Yukarıdaki şekilde orijinden çıkan üç arz eğrisi ( $S_1, S_2, S_3$ ) verilmiştir.

**P fiyat düzeyinde A, B, C noktalarında arzın fiyat esnekliği konusunda aşağıdaki karşılaştırmalardan hangisi doğrudur?**

- A)  $e_A = e_B = e_C$     B)  $e_A > e_B > e_C$     C)  $e_A < e_B < e_C$   
 D)  $e_B > e_A > e_C$     E)  $e_A = e_C > e_B$

6. **Marjinal ürünün ortalama ürüne eşit olduğu noktada aşağıdaki ifadelerden hangisi doğrudur?**

- A) Marjinal ürün artmaktadır.  
 B) Toplam ürün azalmaktadır.  
 C) Ortalama ürün en yüksek konumdadır.  
 D) Marjinal ürün en yüksek konumdadır.  
 E) Toplam ürün en yüksek konumdadır.

7. **Tam rekabetçi piyasada, piyasa dengesinin gerçekleştiği fiyat düzeyinde, bir firmaya olan talebin ve piyasa talebinin fiyat esneklikleri ile ilgili aşağıdaki ifadelerden hangisi doğrudur?**

- A) Piyasanın talep esnekliği daha yüksektir.  
 B) Hem piyasanın hem de firmanın talep esneklikleri aynıdır.  
 C) Firmanın talep esnekliği daha yüksektir.  
 D) Yüksek fiyatlarda, firmanın talep esnekliği piyasanın talep esnekliğinden düşüktür.  
 E) Kesin veriler olmadıkça bu konuda bir şey söylenemez.

8. **Tam rekabetçi piyasada bir firma Q birim üretim yaptığında kısa dönem toplam maliyet fonksiyonu  $SRTC(Q) = 5Q^2 + 250$  olarak verilmiştir.**

**Firmanın toplam üretimi 10 birim olduğunda, toplam sabit maliyeti (TFC) aşağıdakilerden hangisidir?**

- A) 0    B) 250    C) 750    D) 2500    E) 3000

9. **Tam rekabetçi piyasada faaliyet gösteren bir firmanın sabit maliyetlerinin artması durumunda aşağıdaki ifadelerden hangisi doğrudur?**

- A) Marjinal maliyet eğrisi sola kayar.  
 B) Ortalama değişken maliyet eğrisi sola kayar.  
 C) Marjinal hasılat eğrisi sola kayar.  
 D) Marjinal hasılat eğrisi sağa kayar.  
 E) Marjinal hasılat eğrisinin konumu değişmez.

10. Bir tekelin arz eğrisine ilişkin aşağıdaki ifadelerden hangisi doğrudur?

- A) Marjinal maliyet eğrisinin ortalama maliyetin üstünde kalan kısmı tekelin arz eğrisidir.
- B) Tekelin arz eğrisi marjinal değil, uzun dönem ortalama maliyet eğrisidir.
- C) Tekelin arz eğrisi daima esnektir.
- D) Miktar ve fiyat arasında birebir ilişki olmadığından tekelerde arz eğrisinden söz edilmez.
- E) Tekelin arz eğrisi tekelin genişleme yoludur.

11. Bir malın fiyatı P lira olduğunda arzını  $Q_S = 5 + P$  ve talebini  $Q_D = 54 - 2P$  fonksiyonları göstermektedir.

Hükûmetin bu maldan birim başına 2 TL vergi aldığı durumda toplanan vergi miktarı ne kadar olur?

- A) 12
- B) 18
- C) 20
- D) 36
- E) 40

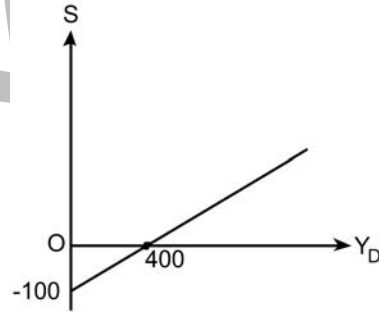
12. Petrol İhraç Eden Ülkeler Teşkilatı (OPEC), aşağıdaki modellerden hangisi ile en iyi incelenebilir?

- A) Tam rekabet
- B) Cournot
- C) Bertrand
- D) Tekelci rekabet
- E) Kartel

13. Bir ekonomide, gayrisafi yurt içi hasıladan net yurt içi hasıla değerine ulaşmak için aşağıdaki işlemlerden hangisi yapılır?

- A) Gayrisafi yurt içi hasıladan, sermaye stokunda meydana gelen yıpranma ve eskimenin değeri çıkarılır.
- B) Gayrisafi yurt içi hasılaya doğrudan vergiler eklenir.
- C) Gayrisafi yurt içi hasıladan, net dış alem faktör gelirleri çıkarılır.
- D) Gayrisafi yurt içi hasılaya devletin firmalara ve hane halkına verdiği sübvansiyonlar eklenir.
- E) Gayrisafi yurt içi hasıladan, devletin hane halkına yaptığı transfer harcamaları çıkarılır.

14.



Bir hane halkına ait tasarruf fonksiyonu doğrusal olup yukarıdaki grafikte verilmiştir.  
(S = Tasarruf,  $Y_D$  = Harcanabilir gelir)

Buna göre, hane halkının harcanabilir geliri 2000 TL iken uyarılmış tüketimi ne kadardır?

- A) 1000
- B) 1200
- C) 1500
- D) 1600
- E) 1800

15. IS-LM Modeli'ne göre, genişletici maliye ve genişletici para politikalarının birlikte uygulanması durumunda aşağıdakilerden hangisi ortaya çıkar?

- A) Tüketim ve yatırım artar.
- B) Tüketim belirsizdir, yatırım artar.
- C) Tüketim ve yatırım belirsizdir.
- D) Tüketim azalır, yatırım belirsizdir.
- E) Tüketim artar, yatırım belirsizdir.

16. I. Sabit oranlı gelir vergisi  
II. Artan oranlı gelir vergisi  
III. İşsizlik sigortası  
IV. Kamu cari harcamaları

Yukarıdakilerden hangileri, otomatik istikrarlandırıcılık özelliği gösterir?

- A) I ve III
- B) II ve III
- C) III ve IV
- D) I, II ve III
- E) I, II, III ve IV

17. I. Serbest sermaye hareketleri, sabit kur sistemi, bağımsız para politikası  
II. Serbest sermaye hareketleri, esnek kur sistemi, bağımsız para politikası  
III. Sermaye hareketleri kontrolü, sabit kur sistemi, bağımsız para politikası

Üçlü Açmaz Kuramı'na göre, iktisat politikasını yönetenler yukarıdaki politika sepetlerinden hangilerini seçebilirler?

- A) Yalnız I
- B) Yalnız II
- C) I ve II
- D) II ve III
- E) I, II ve III

18. I. Reel para stoku azalır, faiz oranı yükselir, yatırım harcamaları azalır.  
II. Nominal servetin satın alma gücü azalır, tüketim harcamaları azalır.  
III. Reel döviz kuru düşer, ihracat artar.

Bir ekonomide, tüm diğer unsurlar sabit iken fiyatlar genel düzeyi yükseldiğinde yukarıdakilerden hangileri gerçekleşebilir?

- A) Yalnız I
- B) Yalnız II
- C) I ve II
- D) I ve III
- E) I, II ve III

19. Aşağıdakilerden hangisi, Miktar Teorisi'nde öne sürülen para stokundaki değişimin doğrudan fiyatlara yansıtacağı öngörüsünün gerçekleşmesini zorlaştırır?

- A) Devletin, maliye politikasını para politikası kadar kolay değiştirememesi
- B) İşçi ücretlerinin yapışkan olması
- C) Tarımda hasadın, dolayısıyla tarımsal fiyatların belirsizliği
- D) Reel faiz haddinin istikrarlı olması
- E) Fiyatların esnek olması

20. Likidite tuzağı durumu için aşağıdaki ifadelerden hangisi yanlıştır?

- A) LM eğrisi yatay şekildedir.
- B) Hane halkı arz edilen para miktarını tutmak istemez.
- C) Para politikası faiz oranını etkilemez.
- D) Para politikası gelir düzeyini etkilemez.
- E) Para miktarındaki değişimler LM eğrisini kaydırmaz.

21. I. Tüketici fiyat endeksi her zaman GDP deflatörüne göre daha geniş bir mal grubunu kapsar.  
II. GDP deflatörünün hesaplanmasında her yıl üretilen mal grubuna göre mal sepeti değişir.  
III. Tüketici fiyat endeksi ithal mallar içerir.

**Tüketici fiyat endeksi ve GDP deflatörü ile ilgili yukarıdaki ifadelerden hangileri doğrudur?**

- A) Yalnız I      B) Yalnız II      C) I ve II  
D) II ve III      E) I, II ve III

22. **Mundell-Fleming Modeli'nde, ödemeler dengesi eğrisinin belirli bir faiz oranında yatay eksene paralel olmasının nedeni aşağıdakilerden hangisidir?**

- A) Sermaye hareketlerinin faiz farkına tam duyarlı olması  
B) Merkez bankasının faiz oranını sabit tutması  
C) Merkez bankasının para arzını sabit tutması  
D) Dış ticaret dengesinin faiz oranına duyarlı olması  
E) Ekonominin likidite tuzağında olması

23. **Klasik Model'e göre, kamu harcamalarının artması sonucu aşağıdakilerden hangisi gerçekleşir?**

- A) Toplam talep eğrisi sola kayar.  
B) Toplam arz eğrisi sola kayar.  
C) Toplam arz eğrisi sağa kayar.  
D) Hasıla artar.  
E) Tam dışlama gerçekleşir.

24. **Tobin'in q Teorisi'ne göre, bir firmanın kurulu sermayesinin piyasa değeri yenileme maliyetinden daha yüksekse firma kârını artırmak için ne yapmalıdır?**

- A) Sermaye stokunu artırmalıdır.  
B) Sermaye stokunu azaltmalıdır.  
C) Satışlarını azaltmalıdır.  
D) Emek istihdamını artırmalıdır.  
E) Emek istihdamını azaltmalıdır.

25. **Reel millî gelirin paranın dolaşım hızına oranı aşağıdakilerden hangisine eşittir?**

- A) Nominal millî gelir  
B) Nominal para stoku  
C) Reel para stoku  
D) Para çoğaltanı  
E) Satın alma gücü paritesi

26. **Taylor Prensibi'ne göre, enflasyon oranı yüzde bir arttığında, nasıl bir para politikası belirlenmelidir?**

- A) Nominal faiz oranı yüzde bir artırılmalıdır.  
B) Para stoku yüzde bir artırılmalıdır.  
C) Para stoku yüzde birden daha az oranda artırılmalıdır.  
D) Nominal faiz oranı yüzde birden daha yüksek oranda artırılmalıdır.  
E) Para stoku yüzde birden daha yüksek oranda artırılmalıdır.

27. I. Faiz oranı  
II. Reel gelir  
III. Paranın dolaşım hızı

**Baumol-Tobin Modeli'ne göre, yukarıdakilerin hangilerinde meydana gelecek bir artış reel para talebini artırır?**

- A) Yalnız I      B) Yalnız II      C) Yalnız III  
D) I ve II      E) II ve III

28. Aşağıdakilerden hangisi, TCMB'nin analitik bilançosunda rezerv para kaleminin alt kalemlerinden biri değildir?

- A) Emisyon  
B) Bankalar mevduatı  
C) Fon hesapları  
D) Banka dışı kesim mevduatı  
E) Açık piyasa işlemleri

29. Sadece kalem üretilen ve tüketilen bir ekonomide bir yılda 1 TL'den 100 tane kalem satılıyor.

**Her 1 TL yılda 5 kere el değiştirmiş ise bu ekonomide miktar denklemine göre para stoku ne kadardır?**

- A) 10      B) 20      C) 30      D) 40      E) 50

30. Faiz oranı yüzde 25 iken üzerinde 1.000 TL yazılı, bir yıl vadeli bir iskontolu tahvilin bugünkü değeri kaç TL olur?

- A) 600      B) 750      C) 800      D) 1000      E) 1250

31. Bir kişinin normal yaşam için belirlenen gelir düzeyinin altında gelir elde etmesi durumunda, bu kişiye devlet tarafından yapılan transfer ödemesi aşağıdakilerden hangisiyle ifade edilir?

- A) Telafi edici maliye politikası  
B) Genişletici gelir politikası  
C) Negatif gelir vergisi  
D) Azalan oranlı gelir vergisi  
E) Pozitif gelir vergisi

32. Aşağıdakilerden hangisi, uygulamalar ve mali düşünceler açısından Merkantilizm Dönemi'nin özelliklerinden biri değildir?

- A) Kamu masraflarında hızlı bir artış eğiliminin görülmesi  
B) Mülk gelirlerinin, kamu harcamalarını finanse etmede en önemli gelir kaynağı olması  
C) Bütçe hakkının tam olarak kullanılmak istenmesi ve bu yönde ilk adımların atılması  
D) Vergilerin, kamu harcamalarının finansmanında önemli bir gelir kaynağı olması  
E) Hükümdarların toplum adına egemenlik haklarını kullanırken bazı imtiyazlara sahip olması ve bunlardan gelir elde etmeleri

**33. Türk vergi sisteminde yer alan harçlarla ilgili aşağıdaki ifadelerden hangisi doğrudur?**

- A) Devletin toplum yararına sunduğu hizmetlerden ayrıca özel yarar elde edilmesi dolayısıyla alınan bedeldir.
- B) Devletin, kamu gücüne dayanarak vatandaşlardan karşılıksız aldığı paralardır.
- C) Bir iş veya faaliyetin yapılmasına, yetkili kuruluşlar tarafından izin verilmesi dolayısıyla yapılan ödemelerdir.
- D) Devletin verdiği hizmetler sonucu gelir elde eden vatandaşların, bu gelirin bir kısmını devlete ödemesidir.
- E) Bir mesleğin sürdürülebilmesi için ilgili meslek kuruluşuna yapılan ödemelerdir.

**34. Özel vergiye ilgili aşağıdaki ifadelerden hangisi doğrudur?**

- A) Mükellefin kişisel durumunu dikkate alan vergidir.
- B) Mükellefin kişisel durumunu dikkate almayan vergidir.
- C) Ton, kilogram, metreküp gibi miktar üzerinden matrahı belirlenen vergidir.
- D) Matrahı, değer üzerinden belirlenen vergidir.
- E) Mükellefin beyanı ile alınan vergidir.

**35. Aşağıdaki vergilerden hangisi, yayılı muamele vergilerine bir örnektir?**

- A) Gelir vergisi
- B) Özel tüketim vergisi
- C) Banka ve sigorta muameleleri vergisi
- D) Özel iletişim vergisi
- E) Katma değer vergisi

**36. Kanuni yükümlü olmadığı hâlde vergi yükünü fiilen taşıyan kişi, aşağıdakilerden hangisiyle ifade edilir?**

- A) Vergi mükellefi
- B) Aracı ödeyici
- C) Vergi sorumlusu
- D) Aracı yükümlü
- E) Vergi yüklenicisi

**37. Gelirin bir oranı olarak alınan vergilerin otomatik istikrarlandırıcı özelliğine ilişkin olarak aşağıdaki ifadelerden hangisi doğrudur?**

- A) Çarpan değeri düştüğünden otomatik istikrarlandırıcı işlevi görülür.
- B) Çarpan değeri düştüğünden otomatik istikrarlandırıcı işlevi ortadan kalkar.
- C) Çarpan değeri arttığından otomatik istikrarlandırıcı işlevi görülür.
- D) Çarpan değeri arttığından otomatik istikrarlandırıcı işlevi ortadan kalkar.
- E) Çarpan değeri değişmediğinden herhangi bir etki yaratmaz.

**38. Cari harcamalar ile yatırım harcamaları arasındaki temel fark aşağıdakilerin hangisinden kaynaklanır?**

- A) Satın alınan malın niteliği
- B) Harcamanın etkili olduğu dönem
- C) Yapılan harcamanın miktarı
- D) Satın alınan hizmetin niteliği
- E) Harcamayı yapan makam

39. Bir ÷lkede ortalama t÷ketim eęilimi 0,80'dir.

**Denk b÷tçe çarpanının geęerli olduęu bu ÷lkede, kamu harcamalarındaki ve vergilerdeki artış 100.000 birim olduęuna g÷re, millî gelirdede meydana gelecek artış kaçtır?**

- A) 0                      B) 20.000                      C) 80.000  
D) 100.000                      E) 200.000

40. **H÷k÷metlerin, vergileme ve harcama yetkilerini kullanarak ekonominin durgunluktan çıkmasına katkıda bulunması ve dönemsel hareketleri yumuşatması gerektięi önerisini yapan iktisatçı/maliyeci aştığıdakilerden hangisidir?**

- A) A. Smith                      B) W. Petty                      C) J. M. Keynes  
D) D. Ricardo                      E) M. Friedman

41. **Toplam kamu harcamaları 300 milyar TL, kamu gelirleri 290 milyar TL ve faiz ödemeleri 30 milyar TL ise birincil b÷tçe dengesi aştığıdakilerden hangisidir?**

- A) 10 milyar TL açık                      B) 10 milyar TL fazla  
C) 20 milyar TL açık                      D) 20 milyar TL fazla  
E) 30 milyar TL açık

42. **Devlet iç borçlanma senetlerinden olan devlet tahvili ve hazine bonosu arasındaki temel farkla ilgili aştığıdaki ifadelerden hangisi doğrudur?**

- A) Vadesi beş yıldan kısa olan senetler hazine bonosu, beş yıldan uzun olan senetler ise devlet tahvilidir.  
B) Vadesi bir yıldan uzun olan senetler devlet tahvili, bir yıldan kısa olan senetler ise hazine bonosudur.  
C) Yerli para cinsinden olan senetler hazine bonosu, yabancı para cinsinden olan senetler ise devlet tahvilidir.  
D) Hazine tarafından ihraç edilenler hazine bonosu, Borç İdaresi tarafından ihraç edilenler ise devlet tahvilidir.  
E) Devlet tahvili ile hazine bonosu arasındaki tek fark borçlanma miktarıdır.

43. **Bir devlet tahvilinin nominal değeri aştığıdakilerden hangisiyle ifade edilir?**

- A) Reel değeri                      B) Bileşik değeri  
C) İtibari değeri                      D) Piyasa değeri  
E) Cari değeri

44. **Aştığıdakilerden hangisi, devlet borçlanmasının başlıca nedenlerinden biri değildir?**

- A) Gelir dağılımında adaleti sağlayıcı etkiler oluşturulması  
B) Ekonomik dengeyi sağlayıcı veya korucuyu etkiler oluşturulması  
C) Vadesi gelmiş borçlara finansman sağlanması  
D) Bütçe açıklarının finansmanı  
E) Olağanüstü harcamaların karşılanması



45. Dış borçlanmada, serbest kredi ile bağılı kredi arasındaki temel farkı belirleyen unsur aşağıdakilerden hangisidir?

- A) Kredinin faizi
- B) Kredinin vadesi
- C) Kredinin ödeme koşulları
- D) Kredinin ne zaman kullanılacağı
- E) Hangi malların nereden satın alınacağı

46. Aşağıdakilerden hangisi, genel bütçe kapsamındaki kamu idarelerinden biri değildir?

- A) Gelir İdaresi Başkanlığı
- B) Spor Genel Müdürlüğü
- C) Devlet Personel Başkanlığı
- D) Meteoroloji Genel Müdürlüğü
- E) Tapu ve Kadastro Genel Müdürlüğü

47. Bütçede adem-i tahsis yöntemi, Türkiye'de ilk olarak hangi düzenlemeyle ilke olarak kabul edilmiştir?

- A) Tanzimat Fermanı
- B) İslahat Fermanı
- C) 1050 sayılı Muhasebe-i Umumiye Kanunu
- D) 24 Ocak Kararları
- E) 5018 sayılı Kamu Mali Yönetimi ve Kontrol Kanunu

48. Maliye Bakanlığı tarafından hazırlanan ve bütçe hazırlık sürecinin temel dokümanı içinde yer alan Orta Vadeli Mali Plan'ı karara bağlayan siyasi otorite aşağıdakilerden hangisidir?

- A) Bakanlar Kurulu
- B) Başbakan
- C) Kalkınma Bakanlığı
- D) Yüksek Planlama Kurulu
- E) Plan ve Bütçe Komisyonu

49. Türkiye'de bütçenin kapatılması usulü aşağıdakilerden hangisidir?

- A) Egzersiz usulü
- B) Jestiyon usulü
- C) Emanet usulü
- D) Telafi usulü
- E) Şeffaflık usulü

50. Bakanlıkların bütçelerine aktarılmak üzere Maliye Bakanlığı bütçesine konulacak yedek ödenek tutarı, bakanlıkların genel bütçe ödeneklerinin en fazla ne kadardır?

- A) Yüzde ikisi
- B) Yüzde biri
- C) Binde ikisi
- D) Binde biri
- E) Binde yarımı

51. Hesap verme sorumluluğu çerçevesinde, idarelerce belirlenen hedef ve göstergelerle ilgili olarak faaliyet sonuçlarının ölçülmesi suretiyle yapılan Sayıştay denetimine ne ad verilir?

- A) İdari denetim
- B) Düzenlilik denetimi
- C) Hukukilik denetimi
- D) Performans denetimi
- E) Yerindelik denetimi

52. Özel hukuk sözleşmelerinin kötüye kullanılarak vergi kaçırılması aşağıdakilerden hangisiyle ifade edilir?

- A) Peçeleme  
B) Gizleme  
C) Butlan  
D) Ekonomik yaklaşım  
E) Vergiden kaçınma

53. Bir devlet memurunun, komşusuna ait bir evin satışına aracılık yapmak suretiyle elde ettiği gelir hangi kapsamda vergilendirilir?

- A) Ücret kazancı  
B) Ticari kazanç  
C) Diğer kazanç ve iratlar  
D) Serbest meslek kazancı  
E) Gayrimenkul sermaye iradı

54. Vergi Usul Kanunu'na göre, beyannamesi süresinde verilmemiş olan aşağıdaki vergilerin hangisinde ek sürede beyanname verme imkânı vardır?

- A) Kurumlar vergisi  
B) Özel tüketim vergisi  
C) Motorlu taşıtlar vergisi  
D) Veraset ve intikal vergisi  
E) Stopaj yoluyla alınan vergi

55. I. Harcamalar üzerinden alınan vergileri de kapsar.  
II. İki taraflı anlaşmalardır.  
III. Yasa ile uygun bulunarak onaylanırlar.  
IV. Anayasa'ya aykırılıkları ileri sürülemez.

Türkiye'nin imzaladığı uluslararası vergi anlaşmalarıyla ilgili yukarıdaki ifadelerden hangileri doğrudur?

- A) I ve IV  
B) II ve III  
C) I, II ve III  
D) I, III ve IV  
E) II, III ve IV

56. Aşağıdakilerden hangisi, menkul sermaye iradı olarak vergilendirilmez?

- A) Repo gelirleri  
B) Hisse senetlerinin elden çıkarılmasından doğan kazançlar  
C) Alacak faizleri  
D) İştirak hisselerinden doğan kazançlar  
E) Mevduat faizleri

57. 18 yaşından küçük vergi yükümlüsünün gelir vergisi beyannamesi, yasal temsilcisi olan velisi tarafından verilmemiştir.

**Buna göre, bu fiil nedeniyle uygulanacak yaptırımla ilgili aşağıdaki ifadelerden hangisi doğrudur?**

- A) Yaptırım küçüğe uygulanır, küçük veliye rücu edebilir.
- B) Yaptırım veliye uygulanır, veli küçüğe rücu edebilir.
- C) Yaptırım hem küçüğe hem veliye uygulanır.
- D) Yaptırım küçüğe uygulanır, küçük veliye rücu edemez.
- E) Yaptırım veliye uygulanır, veli küçüğe rücu edemez.

58. Aşağıdakilerin hangisinde, Vergi Usul Kanunu hükümleri uygulanmaz?

- A) Emlak vergisi
- B) Gümrük vergisi
- C) Gelir vergisi
- D) Katma değer vergisi
- E) Veraset ve intikal vergisi

59. Vergiyi doğuran olay gerçekleşmeden yapılan bir tarh işlemi, aşağıdaki unsurların hangisi bakımından sakattır?

- A) Şekil
- B) Yetki
- C) Konu
- D) Maksat
- E) Sebep

60. Hesaplanan kurumlar vergisinin ödenmesi gereken son tarih aşağıdakilerden hangisidir?

- A) Beyannamenin verildiği ayın son günü
- B) Beyannamenin verildiği ayın 25. günü
- C) Beyannamenin verildiği yılın Temmuz ayının son günü
- D) Beyannamenin verildiği yılın Temmuz ayının 25. günü
- E) Beyannamenin verildiği yılın Haziran ayının 25. günü

61. 1982 Anayasası'na göre, olağanüstü hâl ve sıkıyönetim kanun hükmünde kararname ile ilgili aşağıdaki ifadelerden hangisi yanlıştır?

- A) Çıkarılabilmeleri için yetki kanununa ihtiyaç yoktur.
- B) Cumhurbaşkanı başkanlığında toplanan Bakanlar Kurulu tarafından çıkarılır.
- C) Çıkarılabilmeleri için Millî Güvenlik Kurulunun görüşünün alınması zorunludur.
- D) Süre ve yer bakımından sınırlıdır.
- E) Şekil ve esas bakımından Anayasa'ya aykırılığı iddiası ile Anayasa Mahkemesinde dava açılmaz.

62. 1982 Anayasası'na göre, karar yeter sayılarıyla ilgili aşağıdaki ifadelerden hangisi yanlıştır?

- A) Bir bakan hakkında Yüce Divana sevk kararı ancak üye tam sayısının salt çoğunluğunun oyu ile alınır.
- B) Bir milletvekilinin yasama dokunulmazlığının kaldırılması kararı, üye tam sayısının salt çoğunluğunun oyu ile alınır.
- C) Genel ve özel af ilanı kararı, üye tam sayısının beşte üç çoğunluğunun oyu ile alınır.
- D) Devamsızlık sebebiyle bir milletvekilinin milletvekilliğinin düşürülmesi kararı, üye tam sayısının salt çoğunluğunun oyu ile alınır.
- E) Cumhurbaşkanının vatana ihanet nedeniyle suçlanması kararı, üye tam sayısının en az dörtte üçünün oyu ile alınır.

63. 1982 Anayasası'nda yer alan bütçeye ilişkin hüküm ve esaslar ile ilgili aşağıdaki ifadelerden hangisi yanlıştır?

- A) Bakanlar Kuruluna, kanun hükmünde kararname ile bütçede değişiklik yapma yetkisi verilemez.
- B) Bütçe Kanunu'na bütçe ile ilgili hükümler dışında hiçbir hüküm konulamaz.
- C) Bütçe tasarıları ve rapor, 40 üyeden kurulu bütçe komisyonunda incelenir.
- D) Kamu iktisadi teşebbüslerinin harcamaları yıllık bütçelerle yapılır.
- E) Bütçe komisyonunda iktidar partisi en az 25 üyeye temsil edilir.

64. 1982 Anayasası'na göre, kamu iktisadi teşebbüslerinin denetimi aşağıdakilerden hangisi tarafından yapılır?

- A) Bakanlar Kurulu
- B) Ekonomi Bakanlığı
- C) Sayıştay
- D) Danıştay
- E) TBMM

65. 1982 Anayasası'na göre aşağıdakilerden hangisinin, kanunların ve Anayasa değişikliklerinin şekil açısından Anayasa'ya aykırılığı iddiası ile Anayasa Mahkemesinde iptal davası açma yetkisi vardır?

- A) Cumhurbaşkanı
- B) İktidar Partisi Meclis grubu
- C) Ana Muhalefet Partisi Meclis grubu
- D) TBMM üye tam sayısının onda biri tutarındaki üyeler
- E) Bakanlar Kurulu

66. 1982 Anayasası ve 6216 sayılı Anayasa Mahkemesinin Kuruluşu ve Yargılama Usulleri Hakkında Kanun'a göre, Anayasa Mahkemesine bireysel başvuru yolu ile ilgili aşağıdaki ifadelerden hangisi yanlıştır?

- A) Bireysel başvuruda bulunabilmek için olağan kanun yollarının tüketilmiş olması gerekir.
- B) Bireysel başvuruda, kanun yolunda gözetilmesi gereken hususlarda inceleme yapılamaz.
- C) Herkes, Anayasa'da güvence altına alınan temel hak ve özgürlüklerinden herhangi birinin kamu gücü tarafından ihlal edildiği iddiası ile Anayasa Mahkemesine başvurabilir.
- D) Yasama işlemleri ile düzenleyici idari işlemler aleyhine doğrudan bireysel başvuru yapılamaz.
- E) Kamu tüzel kişileri bireysel başvuru yapamaz.

67. I. Tüzük  
II. Yönetmelik  
III. Genelge  
IV. Genel emir  
V. Yönerge

**Yukarıdakilerden hangileri 1982 Anayasası'nda düzenlenmiştir?**

- A) Yalnız I      B) Yalnız II      C) I ve II  
D) III ve IV      E) III, IV ve V

**68. Kamusal mallarla ilgili aşağıdaki ifadelerden hangisi doğrudur?**

- A) Kamusal mallar kamulaştırılabilir.  
B) Kamusal mallar haczedilebilir.  
C) Kamusal mallar vergi gibi mali yükümlülüklerle tabidir.  
D) Kamusal mallar kazandırıcı zaman aşımı ile iktisap edilemez.  
E) Kamusal mallar üzerinde ipotek gibi sınırlı ayni haklar tesis edilebilir.

**69. Aşağıdakilerden hangisi, adli kolluk görevi içinde yer alır?**

- A) Kara yolu üzerinde trafik denetimi yapılması  
B) Stadyuma girişte üst araması yapılması  
C) Rahatsız edici gürültünün sonlandırılması  
D) Hız limitine uymayan sürücüye trafik cezası verilmesi  
E) Ölümlü trafik kazasından sonra kolluk tarafından yapılması gerekli işlemlerin yapılması

**70. 657 sayılı Devlet Memurları Kanunu'na göre, çekilmiş (müstafi) sayılan memurun tekrar memurluğa alınabilmesi için en az ne kadar süre geçmesi gerekir?**

- A) 2 ay      B) 6 ay      C) 1 yıl  
D) 1,5 yıl      E) 2 yıl

**71. Aşağıdakilerden hangisi, 4734 sayılı Kamu İhale Kanunu'nda öngörülen usullerden biri değildir?**

- A) Açık ihale usulü  
B) Belli istekliler arasında ihale usulü  
C) Pazarlık usulü  
D) Kapalı teklif usulü  
E) Tasarım yarışmaları

**72. İdari vesayet denetimi ile ilgili aşağıdaki ifadelerden hangisi yanlıştır?**

- A) Genel bir yetki olup kanunda açıkça düzenlenmesine gerek yoktur.  
B) Merkezî idarenin, yerinden yönetim üzerinde sahip olduğu bir denetim yetkisidir.  
C) İdari vesayet Anayasa'da öngörülmüştür.  
D) Mahallî idarelerin organları üzerinde de idari vesayet denetimi söz konusudur.  
E) İdari vesayet denetimi emir ve talimat vermek şeklinde kullanılamaz.

73. Aşağıdaki karinelere hangisi, hukukumuzda kesin karine niteliğini taşımaktadır?

- A) Babalık karinesi
- B) Tapu sicilindeki kayıtların herkesçe bilindiği karinesi
- C) Taşınırlarda zilyetlikten kaynaklanan mülkiyet karinesi (zilyetlikte hak karinesi)
- D) Birlikte ölüm karinesi
- E) Gaiplik karinesi

74. Belirli bir eylem, davranış veya ilişki hakkındaki kanun hükmünün hemen hemen aynı olan veya ona çok benzeyen ancak kanunda düzenlenmemiş bulunan bir eylem, davranış ve ilişkiye de uygulanmasına ne ad verilir?

- A) Kanunun evleviyetle uygulanması
- B) Kanunun zıt kanıt yöntemiyle uygulanması
- C) Amaçsal (gai) yorum
- D) Sözel yorum
- E) Mantıksal yorum

75. Ceninin hukuki durumu ile ilgili aşağıdaki ifadelerden hangisi yanlıştır?

- A) Cenin, hukuk düzeni içinde henüz bir kişiliğe sahip değildir.
- B) Cenin ancak sağ olarak tamamıyla doğmak koşuluyla kişilik kazanır.
- C) Hukukumuzda hak ehliyeti, sağ olarak tamamıyla doğmak koşuluyla çocuğun ana rahmine düştüğü andan başlayarak elde edilir.
- D) Evlilik dışı cinsel ilişki sonucunda varlık kazanan cenin adına doğumundan önce de babalık davası açılabilir.
- E) Sağ olarak tamamıyla doğmak koşuluyla cenin, mirasçı olabileceğinden mirasçılar arasında ceninin bulunması durumunda mirasın paylaşılması onun tam fiil ehliyetini kazanmasına kadar ertelenir.

76. Sınırlı ehliyetliler ile ilgili aşağıdaki ifadelerden hangisi yanlıştır?

- A) Kendilerine yasal danışman atanmış olanlar da sınırlı ehliyetli sayılır.
- B) Sınırlı ehliyetliler, ergin ve ayırt etme gücüne sahip bulunan ve aynı zamanda da kısıtlı olmayan kişilerdir.
- C) Evli kişilerden sadece kadın, sınırlı ehliyetli kabul edilir.
- D) Sınırlı ehliyetliler, işlemiş oldukları bütün haksız fiillerin sonucundan bizzat sorumludur.
- E) Sınırlı ehliyetlilerde sınırlılık istisna olup özellikle hukuki işlem ehliyeti alanındadır.

77. Aşağıdaki durumlardan hangisinde, intifa hakkı tamamen sona ermeyip farklı bir şekilde de olsa devam eder?

- A) İntifa ile yüklü taşınmazın tamamen yok olması
- B) İntifa ile yüklü taşınmazın bedel alınarak kamulaştırılması
- C) Mahkeme kararı ile intifa hakkının terkinini
- D) İntifa hakkı sahibinin iradesi ile intifa hakkının terkinini
- E) İntifa hakkı sahibinin ölümü

78. Bir tarlaya eşit paylarla malik olan A, B ve C bu tarlayı ürün kirasına vermiştir. B, mevcut sözleşmeyi feshetmek istemektedir.

**Bu olaya göre aşağıdaki ifadelerden hangisi doğrudur?**

- A) Paylı malın kiraya veya ürün kirasına verilmesi önemli yönetim işi olmakla birlikte, mevcut sözleşmenin feshedilmesi olağan yönetim işi olduğundan B, bu sözleşmeyi tek başına feshedebilir.
- B) Bu olayda sözleşmenin feshi bir olağanüstü yönetim işidir, oy birliği ile yapılması gerekir.
- C) Mevcut ürün kirası sözleşmesinin feshi ivedi yönetim işi olduğundan her paydaş tarafından tek başına gerçekleştirilebilir.
- D) Mevcut ürün kirası sözleşmesinin feshi önemli yönetim işi sayıldığından ancak pay ve paydaş çoğunluğu ile karar alınması hâlinde gerçekleştirilebilir.
- E) Mevcut ürün kirası sözleşmesinin feshi olağan yönetim işi olmakla birlikte paydaşların oy çokluğuyla alacakları karar ile gerçekleştirilmelidir.

79. A ile B, aralarında Ocak ayında yaptıkları satım sözleşmesinde B'nin sözleşme konusu edimi, bir sonraki ayın ortasında ifa edeceğini kararlaştırırlar.

**Bu sözleşmeye göre, taraflar arasında kararlaştırılan ifa günü aşağıdakilerden hangisidir?**

- A) 13 Şubat
- B) 14 Şubat
- C) 15 Şubat
- D) 16 Şubat
- E) 28 Şubat

80. A ile B arasındaki borç ilişkisinde A, alacağını uzun süre B'den talep etmemiş ve alacağı zaman aşımına uğramıştır. Buna rağmen A, B aleyhine alacağını alabilmek için dava açar, B de borcunun zaman aşımına uğradığını ileri sürer.

**B'nin zaman aşımı iddiasının hukuki niteliği nedir?**

- A) Defi hakkı
- B) Yönetim hakkı
- C) İtiraz hakkı
- D) Aynı hak
- E) Hapis hakkı

81. Aşağıdakilerden hangisi, sözleşmelerde şeklin sağladığı faydalardan biri değildir?

- A) Şekil, sözleşmeye açıklık getirir.
- B) Şekil, zaman alır.
- C) Şekil, sözleşmelerin yorumunu kolaylaştırır.
- D) Şekil, tarafları düşünmeye yöneltir.
- E) Şekil, sözleşmeye kesinlik sağlar.

82. Elektrikli ev aletleri satıcısı A, B'ye, sattığı ev aletlerinin resmi ile fiyatlarını içeren ve başka bir ibare bulunmayan bir tarife göndermiştir.

**Buna göre, A'nın 3 Temmuz 2012'de gönderdiği bu tarife hukuken nasıl nitelenir?**

- A) Öneriye davet
- B) Öneri
- C) Örtülü kabul
- D) Kabul
- E) İsmarlanmayan şeyin gönderilmesi

83. Alacak ve talep hakkı bakımından aşağıdaki ifadelerden hangisi **yanlıştır**?

- A) Bir borç ilişkisinin alacaklıya verdiği en önemli yetki; alacaklının, borçludan alacağını talep etme yetkisidir.
- B) Alacak hakkı ile talep hakkı aynı kavramlar olmayıp aralarında bazı farklılıklar vardır.
- C) Bazı durumlarda alacak hakkı doğduğu hâlde talep hakkı henüz doğmayabilir.
- D) Alacak hakkı sona ererse talep hakkı da buna bağlı olarak mutlaka sona erer.
- E) Alacak hakkı, alacaklıya talep hakkı dışında başka yetkiler de temin eder.

84. Borçlar hukukuna göre, geçici ödemelere ilişkin aşağıdaki ifadelerden hangisi **yanlıştır**?

- A) Geçici ödemeler eski Borçlar Kanunu'nda olmayıp Türk Borçlar Kanunu ile getirilen yeni bir düzenlemedir.
- B) Türk Borçlar Kanunu ile geçici ödemelere ilişkin getirilen hüküm sadece haksız fiil sorumluluğu ile ilgili olmayıp sözleşmeye aykırılık nedeniyle doğacak tazminat davaları için de uygulanabilecektir.
- C) Hâkimin, geçici ödemeye karar verebilmesi için iddianın haklılığını gerçeğe yakın gösteren kanıtların sunulmuş olması gerekir.
- D) Dava sonunda tazminata hükmedildiği takdirde davalının yaptığı geçici ödemeler, hükmedilen tazminata mahsup edilir.
- E) Hâkim, geçici ödemeye kendiliğinden karar verebilir, zarar görenin talepte bulunmasına gerek yoktur.

85. I. Emre Erdem Kollektif Şirketi  
II. İnşaat Kollektif Şirketi  
III. Emre Erdem İnşaat Kollektif Şirketi  
IV. E. Erdem Kollektif Şirketi  
V. Emre Erdem Anonim Şirketi  
VI. Emre Erdem İnşaat Anonim Şirketi

**Yukarıdaki ticaret unvanlarından hangileri, ticaret siciline tescil edilebilir?**

- A) III ve VI
- B) I, III ve VI
- C) II, III ve V
- D) I, II, IV ve V
- E) I, III, V, ve VI



86. Gerçek kiři A, ticari iřletmesini kendi adına ve s¼rekli olarak iřletmektedir ancak ticari iřletmeyi ticaret siciline tescil ettirmemiřtir.

**Bu olaya g¼re ařađıdaki ifadelerden hangisi yanlıřtır?**

- A) A, ticari iřletmesini ticaret siciline tescil ettirmemiř olsa da tacir sıfatını kazanmıřtır.
- B) Ticaret sicil memuru, A'nın ticari iřletmesini tescil ettirmedięini ¼đrenirse bu iřletmeyi resen tescil edemez.
- C) Tacir A'nın, iřletmesine bir iřletme adı koyması m¼mk¼nd¼r.
- D) A, tescil iin talepte bulunmuř ancak bu talebi ticaret sicil memuru reddetmiřse ticaret sicil memurunun ret kararı kesindir.
- E) Eđer A, ticaret sicil m¼d¼rl¼đ¼n¼n yetki evresi dıřında oturmakta ise tescili talep s¼resi bir ay olarak uygulanır.

87. Ticaret řirketleri ile ilgili ařađıdaki ifadelerden hangisi dođrudur?

- A) řirkete getirilen sermaye ¼zerinde t¼m ortaklar el birliđi ile m¼lkiyete sahiptir.
- B) řirket tasfiyeye girse bile t¼zel kiřiliđini korur.
- C) T¼m ticaret řirketlerinde en az iki ortak olmalıdır.
- D) Ortakların tacir sıfatı vardır, buna karřın y¼neticilerin tacir sıfatı yoktur.
- E) Temsilcilerin g¼revleri sırasında iřledikleri haksız fiillerden řirket, bu fiiller řirket iřleri ile ilgili olsa bile sorumlu tutulamaz.

88. Ařađıdakilerden hangisinin, anonim řirketlerde genel kurul toplantısına katılma hakkı yoktur?

- A) Pay sahipleri
- B) Pay sahiplerinin yetkilendirilmiř temsilcileri
- C) Deneti
- D) Y¼netim kurulu ¼yeleri
- E) řirketin alacaklıları

89. Bono ile ilgili ařađıdaki ifadelerden hangisi dođrudur?

- A) Bonoda ¼deme yeri g¼sterilmemiřse tanzim yeri, ¼deme yeri sayılır.
- B) Lehtar adı g¼sterilmeyen bono, hamile yazılı bono h¼km¼ndedir.
- C) Bono veya emre muharrer senet kelimesi eksikse aıka emre yazılı olmak řartıyla senet, emre yazılı havale h¼km¼ndedir.
- D) Muhatap ve kabul bulunmadıđından, g¼r¼ld¼đ¼nden belli s¼re sonra ¼denecek vadeli d¼zenlenemez.
- E) Keřide tarihi g¼sterilmemiř sadece ¼deme tarihi g¼sterilmiřse g¼r¼ld¼đ¼nde ¼denecek vadeli sayılır.

90. Çekte ibraz süreleri ile ilgili aşağıdaki ifadelerden hangisi doğrudur?

- A) Keşide ve ödeme yeri olarak Erzurum gösterilmiş olan bir çek, muhatabın İstanbul şubesine ibraz edilecekse ibraz süresi 1 ay olarak uygulanır.
- B) Keşide yeri İstanbul, ödeme yeri Kahire (Afrika) olarak gösterilmiş çekte, ibraz süresi 3 aydır.
- C) İbraz süresi dolduktan sonra ibraz edilmiş çekin karşılığı bulunmasa bile karşılıksız çeke bağlanan sonuçlar doğmaz.
- D) İleri tarihli bir çekte ibraz süresi çekin üzerinde yazılı tarihten değil, gerçek keşide tarihinden başlayarak hesaplanır.
- E) Taraflar, ibraz sürelerinin uzunluğunu serbestçe kararlaştırabilirler.

## SINAVDA UYULACAK KURALLAR

- 1. Cep telefonu ile sınava girmek kesinlikle yasaktır.** Çağrı cihazı, telsiz, fotoğraf makinesi vb. araçlarla; cep bilgisayarı, kol ya da cep saati gibi her türlü bilgisayar özelliği bulunan cihazlarla; silah ve benzeri teçhizatla; müsvedde kâğıdı, defter, kitap, sözlük, sözlük işlevi olan elektronik aygıt, hesap cetveli, hesap makinesi, pergel, açölçer, cetvel vb. araçlarla sınava girmek kesinlikle yasaktır. Bu araçlarla sınava girmiş adayların adı mutlaka Salon Sınav Tutanağına yazılacak, bu adayların sınavı geçersiz sayılacaktır. **Sınava kalem, silgi, kalemıraş, saat vb. araçla ve kulaklık, küpe, broş vb. takı, herhangi bir metal eşya ile girmek de kesinlikle yasaktır. Yiyecek, içecek vb. tüketim malzemeleri de sınava getirilemez. Adaylar sınava şeffaf şişe içerisinde su getirebilecektir.**
2. Bu sınav için verilen toplam cevaplama süresi **150 dakikadır.** Sınav başladıktan sonra **ilk 110** ve **son 15** dakika içinde adayın sınavdan çıkmasına kesinlikle izin verilmeyecektir. **Bu süreler dışında, cevaplamaı sınav bitmeden tamamlarsanız cevap kâğıdınızı ve soru kitapçığınızı salon görevlilerine teslim ederek salonu terk edebilirsiniz.**
3. **Sınav salonundan ayrılan aday, her ne sebeple olursa olsun, tekrar sınava alınmayacaktır.**
4. Sınav süresince görevlilerle konuşmak, görevlilere soru sormak yasaktır. Aynı şekilde görevlilerin de adaylarla yakından ve alçak sesle konuşmaları ayrıca adayların birbirinden kalem, silgi vb. şeyleri istemeleri kesinlikle yasaktır.
5. Sınav sırasında, görevlilerin her türlü uyarısına uymak zorundasınız. Sınavınızın geçerli sayılması, her şeyden önce, sınav kurallarına uymanıza bağlıdır. Kurallara aykırı davranışta bulunanların ve yapılacak uyarılara uymayanların kimlik bilgileri Salon Sınav Tutanağına yazılacak ve sınavları geçersiz sayılacaktır.
6. Sınav sırasında kopya çeken, çekmeye kalkışan, kopya veren, kopya çekilmesine yardım edenlerin kimlik bilgileri Salon Sınav Tutanağına yazılacak ve bu adayların sınavları geçersiz sayılacaktır. Görevliler kopya çekmeye ya da vermeye kalkışanları uyararak zorunda değildir, sorumluluk size aittir.

Adayların test sorularına verdikleri cevapların dağılımları bilgi işlem yöntemleriyle incelenecek, bu incelemelerden elde edilen bulgular bireysel ya da toplu olarak kopya çekildiğini gösterirse kopya eylemine katılan adayın/adayların cevaplarının bir kısmı ya da tamamı iptal edilecektir.

Sınav görevlileri bir salondaki sınavın, kurallara uygun biçimde yapılmadığını, toplu kopya girişiminde bulunulduğunu raporlarında bildirdiği takdirde, ÖSYM takdir hakkını kullanarak bu salonda sınava giren tüm adayların sınavını geçersiz sayabilir.

7. Cevap kâğıdında doldurmanız gereken alanlar bulunmaktadır. Bu alanları doldurunuz. Cevap kâğıdınızı başkaları tarafından görülmeyecek şekilde tutmanız gerekmektedir. Cevap kâğıdına yazılacak her türlü yazıda ve yapılacak bütün işaretlemelerde salon görevlisinin atacağı imzalar hariç, kurşun kalem kullanılacaktır. Sınav süresi bittiğinde cevapların cevap kâğıdına işaretlenmiş olması gerekir. Soru kitapçığına işaretlenen cevaplar geçerli değildir.
8. Soru kitapçığınızı alır almaz kapağında bulunan ilgili alanlara kimlik bilgilerinizi yazınız. Sayfaların eksik olup olmadığını, kitapçıkta basım hatalarının bulunup bulunmadığını ve soru kitapçığının her sayfasında basılı bulunan soru kitapçık numarasının, kitapçığın ön kapağında basılı soru kitapçık numarasıyla aynı olup olmadığını kontrol ediniz. Soru kitapçığının sayfası eksik ya da basımı hatalıysa değiştirilmesi için salon başkanına başvurunuz. Size verilen soru kitapçığının numarasını cevap kâğıdınızdaki "Soru Kitapçık Numarası" alanına yazınız ve kodlayınız. Cevap kâğıdınızdaki "Soru kitapçık numaramı doğru kodladım." kutucuğunu işaretleyiniz. **Soru kitapçığı üzerinde yer alan Soru Kitapçık Numarasını doğru kodladığınızı beyan eden alanı imzalayınız ve salon görevlisinin, kodlamanın doğru yapıldığını beyan eden hem soru kitapçığındaki hem de cevap kâğıdınızdaki ilgili alanı imzaladıktan emin olunuz. Salon görevlisi imzasını tükenmez kalemle ve siz kodlamayı yaptıktan sonra atmalıdır.**
9. Sınav sonunda soru kitapçıkları toplanacak ve ÖSYM'de tek tek incelenecektir. Soru kitapçığının bir sayfası bile eksik çıkarsa sınavınız geçersiz sayılacaktır.
10. Cevap kâğıdına ve soru kitapçığına yazılması ve işaretlenmesi gereken bilgilerde bir eksiklik ve/veya yanlışlık olması hâlinde sınavınız değerlendirilmesi mümkün olamamaktadır, sorumluluk size aittir.
11. Soru kitapçığının sayfalarındaki boş yerleri müsvedde için kullanabilirsiniz.
12. Soruları ve/veya bu sorulara verdiğiniz cevapları ayrı bir kâğıda yazıp bu kâğıdı dışarı çıkarmanız kesinlikle yasaktır.
13. **Her bölümün cevaplarını cevap kâğıdındaki ilgili alana işaretlemeye dikkat ediniz.**
14. Sınav salonundan ayrılmadan önce, soru kitapçığınızı ve cevap kâğıdınızı salon görevlilerine teslim etmeyi unutmayınız.

*Bu testlerin her hakkı saklıdır. Hangi amaçla olursa olsun, testlerin tamamının veya bir kısmının Merkezimizin yazılı izni olmadan kopya edilmesi, fotoğrafının çekilmesi, herhangi bir yolla çoğaltılması, yayımlanması ya da kullanılması yasaktır. Bu yasağa uymayanlar gerekli cezai sorumluluğu ve testlerin hazırlanmasındaki mali külfeti peşinen kabullenmiş sayılır.*

**SAYIŐTAY BAŐKANLIĐI**  
**SAYIŐTAY DENETĐI YARDIMCISI ADAYLIĐI ELEME SINAVI**  
**21 EKİM 2012**

**GENEL YETENEK  
TESTİ**

- |       |       |
|-------|-------|
| 1. A  | 26. C |
| 2. B  | 27. D |
| 3. D  | 28. B |
| 4. C  | 29. B |
| 5. E  | 30. E |
| 6. E  | 31. A |
| 7. C  | 32. D |
| 8. B  | 33. A |
| 9. A  | 34. D |
| 10. B |       |
| 11. B |       |
| 12. A |       |
| 13. E |       |
| 14. D |       |
| 15. C |       |
| 16. D |       |
| 17. D |       |
| 18. E |       |
| 19. B |       |
| 20. A |       |
| 21. C |       |
| 22. E |       |
| 23. C |       |
| 24. E |       |
| 25. A |       |

**GENEL KÜLTÜR  
TESTİ**

- |       |
|-------|
| 1. B  |
| 2. E  |
| 3. A  |
| 4. C  |
| 5. B  |
| 6. A  |
| 7. D  |
| 8. C  |
| 9. D  |
| 10. E |
| 11. A |
| 12. B |
| 13. B |
| 14. D |
| 15. B |
| 16. A |
| 17. A |
| 18. B |
| 19. C |
| 20. E |
| 21. D |
| 22. A |
| 23. B |
| 24. D |
| 25. D |
| 26. A |

**SAYIŞTAY BAŞKANLIĞI**  
**SAYIŞTAY DENETÇİ YARDIMCISI ADAYLIĞI ELEME SINAVI**  
**21 EKİM 2012**

**ALAN BİLGİSİ TESTİ**

- |       |       |       |
|-------|-------|-------|
| 1. B  | 31. C | 61. C |
| 2. A  | 32. D | 62. B |
| 3. E  | 33. A | 63. D |
| 4. B  | 34. A | 64. E |
| 5. A  | 35. E | 65. A |
| 6. C  | 36. E | 66. C |
| 7. C  | 37. A | 67. C |
| 8. B  | 38. B | 68. D |
| 9. E  | 39. D | 69. E |
| 10. D | 40. C | 70. C |
| 11. E | 41. D | 71. D |
| 12. E | 42. B | 72. A |
| 13. A | 43. C | 73. B |
| 14. C | 44. A | 74. A |
| 15. E | 45. E | 75. E |
| 16. D | 46. B | 76. C |
| 17. D | 47. C | 77. B |
| 18. C | 48. D | 78. D |
| 19. B | 49. B | 79. C |
| 20. B | 50. A | 80. A |
| 21. D | 51. D | 81. B |
| 22. A | 52. A | 82. B |
| 23. E | 53. C | 83. D |
| 24. A | 54. D | 84. E |
| 25. C | 55. E | 85. B |
| 26. D | 56. B | 86. D |
| 27. B | 57. E | 87. B |
| 28. E | 58. B | 88. E |
| 29. B | 59. E | 89. A |
| 30. C | 60. A | 90. C |