

65. Türkiye'deki doğal bitki örtüsü dağılışını gösteren bir haritadan, aşağıdakilerden hangisiyle ilgili bilgi edinilebilir?

- A) Nüfus yoğunluğuyla
- B) Hayvancılıkta uygulanan yöntemlerle
- C) Akarsu havzalarının genişliğiyle
- D) İklim tipleriyle
- E) Ulaşım olanaklarıyla

66. Dünya üzerinde olduğu varsayılan 360 meridyen yayı, başlangıç meridyeninden başlayarak 180° doğuda, 180° batıda olmak üzere ayrılmış, 180° meridyeni aynı zamanda tarih değiştirme çizgisi olarak kabul edilmiştir.

Yalnızca bu bilgilere dayanarak yerel saati başlangıç meridyeninden 50 dakika ileri olan bir nokta için;

- I. Dünya'nın bu noktadaki dönüş hızı
- II. Ekvator'a olan uzaklığı
- III. Tarih değiştirme çizgisine göre zaman farkı
- IV. Başlangıç meridyenine olan uzaklığı

bilgilerinden hangilerine ulaşılabilir?

- A) Yalnız I
- B) Yalnız II
- C) Yalnız III
- D) I ve III
- E) II ve IV

67. Kırkinci paralel üzerindeki bir noktanın hangi yarımkürede yer aldığı aşağıdakilerin hangisine bakılarak saptanamaz?

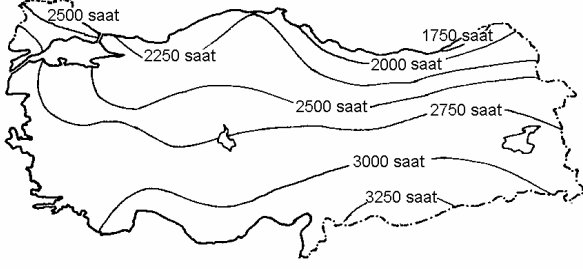
- A) Gece-gündüz süresinin eşit olduğu güne
- B) Gündüz süresinin uzamaya başladığı güne
- C) Gölge boyunun en kısa olduğu aya
- D) Sıcaklık ortalamasının en düşük olduğu aya
- E) Cisimlerin öğle saatindeki gölgesinin yönüne

68. Orta kuşak okyanus iklimi her mevsimi yağışlı olan, yazın aşırı sıcakların, kışın aşırı soğukların görülmediği bir iklim tipidir.

Buna göre, Türkiye'nin aşağıdaki coğrafi bölümlerinden hangisinin kıyı kesiminde görülen iklim tipi orta kuşak okyanus iklimine benzer özellikler gösterir?

- A) Antalya Bölümü
- B) Ergene Bölümü
- C) Ege Bölümü
- D) Adana Bölümü
- E) Doğu Karadeniz Bölümü

69. Aşağıdaki haritada, Türkiye’de yıllık güneşlenme sürelerinin dağılışı gösterilmiştir.



Bu haritadaki bilgilerle ilgili aşağıdaki yorumlardan hangisi **yanlıştır**?

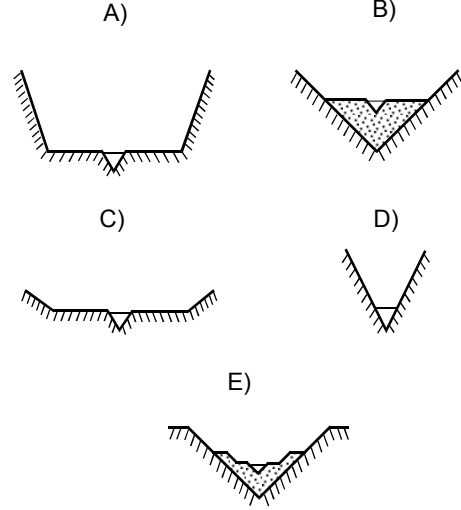
- A) Akdeniz Bölgesinin kıyı kesiminde güneşlenme süresi 3000 saatten fazladır.
B) Ege Bölgesinin kuzey ve güney kesimindeki güneşlenme süreleri arasındaki fark, Doğu Anadolu Bölgesinin kuzey ve güneyi arasındaki farktan azdır.
C) Marmara Bölgesinde güneşlenme süreleri ortalaması, Güneydoğu Anadolu Bölgesindeki ortalamadan azdır.
D) Kıyı kesimleri boyunca güneşlenme süreleri birbirine yakındır.
E) Güneşlenme süresi Türkiye'nin güneyinden kuzeyine doğru gidildikçe genellikle azalır.

70. Türkiye’de, kurak geçen bir yıl içinde aşağıdakilerin hangisinde azalma olması **beklenmez**?

- A) Ekili-dikili alanların yüzölçümünde
B) Tarımsal üretim miktarında
C) Otlakların veriminde
D) Akarsu debilerinde
E) Taban suyu seviyelerinde

71. Jeolojik süreç içerisinde, deniz seviyesindeki alçalma o denize dökülen akarsuların aşındırma gücünü artırır, yükselme ise azaltır.

Bu bilgiye göre, aşağıda vadi kesitleri verilen beş akarsudan hangisinin döküldüğü denizde görülen **son değişme deniz seviyesi yükselmesidir**?



72. Göl sularının kapladığı alan yıl içinde değişiklik gösterir. Bunda göl çanağının derinliği, buharlaşma oranı, gölü besleyen akarsuların getirdiği su miktarı etkilidir.

Buna göre, buldukları yörelerin doğal koşulları da göz önüne alındığında aşağıdaki göllerden hangisinde, suların kapladığı alanın yaz ve kış mevsimleri arasında **en çok** değişme göstermesi beklenir?

- A) Beyşehir Gölü B) Van Gölü
C) Tuz Gölü D) İznik Gölü
E) Burdur Gölü

Diğer sayfaya geçiniz.

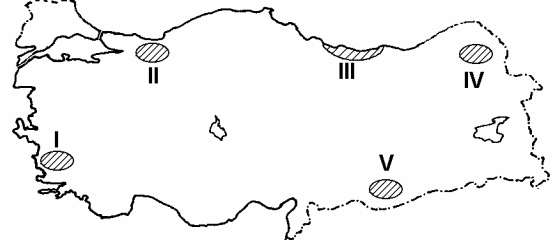
73. Aşağıdakilerden hangisinin Türkiye'deki hızlı nüfus artışından en az etkilenmesi beklenir?

- A) Kalkınma hızı
- B) İşsizlik oranı
- C) Doğal kaynakların tüketimi
- D) İç ve dış göçler
- E) Kadın ve erkek nüfus oranı

74. 1990 nüfus sayımına göre nüfus yoğunlukları Türkiye ortalamasının altında olan aşağıdaki illerin hangisinde, nüfus yoğunluğunun azlığı yüzey şekillerinin engebeli olmasına bağlı değildir?

- A) Eskişehir
- B) Kastamonu
- C) Muğla
- D) Artvin
- E) Sivas

75.



Don olayı çok az görülen ve yaz kuraklığı olmayan yerlerde yetişebilen bir bitki, yukarıdaki haritada numaralarla gösterilen alanların hangilerinde yetiştirilebilir?

- A) I ve II
- B) I ve V
- C) II ve III
- D) III ve IV
- E) IV ve V

76. Bir bölgede yaygın ve yoğun olarak makineli tarım yapılması, tarım alanlarının geniş ve engebelliğin az olmasına bağlıdır.

Buna göre, aşağıdaki bölümlerin hangisinde makineli tarımın en yaygın olması beklenir?

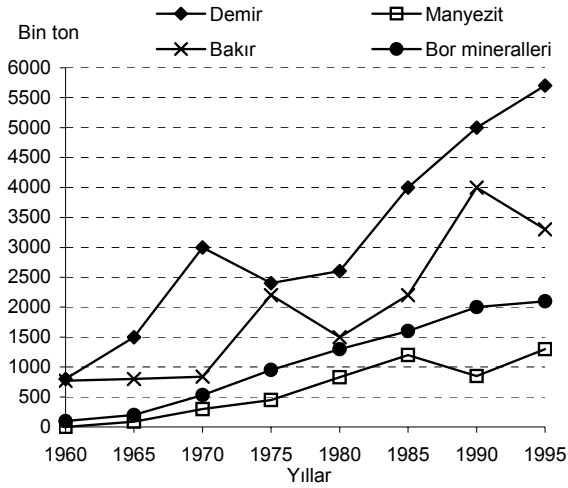
- A) Antalya Bölümü
- B) Güney Marmara Bölümü
- C) Doğu Karadeniz Bölümü
- D) Yukarı Murat-Van Bölümü
- E) Yukarı Kızılırmak Bölümü

Diğer sayfaya geçiniz.

77. Fransa ve Arjantin'de aynı tarım ürününün yılın farklı dönemlerinde olgunlaşmasının birincil nedeni aşağıdakilerden hangisidir?

- A) Toprak türlerinin farklı olması
- B) Tarım yöntemlerinin farklı olması
- C) Yüzey şekillerinin farklı olması
- D) Buldukları yarımkürenin farklı olması
- E) Ortalama yükseltilerinin farklı olması

78. Aşağıdaki grafikte, Türkiye'de çıkarılan dört maden cevherinin 1960-1995 yılları arasındaki üretim miktarları verilmiştir.



Yalnızca grafikteki bilgilere dayanarak, aşağıdaki yargılardan hangisine varılamaz?

- A) Verilen yıllarda yalnızca bor minerallerinin üretiminde sürekli artış olmuştur.
- B) 1975-1995 yılları arasında bakır üretimindeki dalgalanma, manyezit üretiminden fazladır.
- C) 1995 yılındaki demir üretimi, 1980 yılındaki üretimin iki katından fazla olmuştur.
- D) Verilen yıllar arasında, bor mineralleri üretimindeki artış, manyezit üretiminden fazladır.
- E) Bakır üretiminde, 1970-1975 yılları arasındaki artış, 1985-1990 yılları arasındakinden fazladır.

79. Aşağıdaki enerji kaynaklarının hangisiyle çalışan santraller, kullandığı enerji kaynağından uzak bir yere kurulamaz?

- A) Petrol
- B) Akarsu
- C) Kömür
- D) Doğalgaz
- E) Uranyum

80. Aşağıdaki illerin hangisinde yıl içinde turizme bağlı olarak nüfus miktarındaki değişimin diğerlerinden daha az olması beklenir?

- A) İstanbul
- B) Muğla
- C) Erzurum
- D) Antalya
- E) Bursa

Diğer sayfaya geçiniz.